



DOWNLOAD

Birte Stratmann/ Nicole Weber

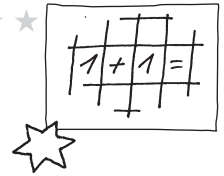
Weihnachtlicher Mathematik- unterricht

Differenziert einsetzbare
Arbeitsblätter für
die 1. und 2. Klasse

Downloadauszug
aus dem Originaltitel:




Weihnachts-Rechenpuzzle (I)




Arbeitsauftrag

- Löse die Aufgaben in den Kästchen. Weißt du das Ergebnis?
- Schneide das Bild mit dem richtigen Ergebnis aus und klebe es auf die Aufgabe.
- Du hast alles richtig gemacht, wenn alle kleinen Bilder ein großes ergeben.

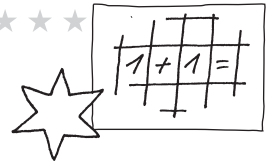
$6 - 6$	$5 - 4$	$+ 2 = 4$	$10 - 7$
$6 = 10 -$	$9 = 4 +$	$10 - 4$	$2 + 5$
$4 + 4$	$3 + 6$	$6 + 4$	$10 + 1$



Weihnachtsbild mit Ergebnis:



Weihnachts-Rechenpuzzle (II)



Arbeitsauftrag

- Löse die Aufgaben in den Kästchen. Weißt du das Ergebnis?
- Schneide das Bild mit dem richtigen Ergebnis aus und klebe es auf die Aufgabe.
- Du hast alles richtig gemacht, wenn alle kleinen Bilder ein großes ergeben.

<p>Auf dem Weihnachtsmarkt stehen 23 Buden. Du konntest dir 12 ansehen. Wie viele hast du nicht gesehen?</p>	<p>Du hast 43 Plätzchen gebacken. 20 Plätzchen hat dein Bruder gleich vernascht. Wie viele Plätzchen bleiben für dich?</p>	<p>Im Bus zum Weihnachtstheater sind 25 Personen. 7 Personen steigen ein. Wie viele Personen sind es jetzt?</p>	<p>Julia möchte ihrer Mutter zu Weihnachten eine Kette für 17 € und einen Anhänger für 5 € schenken. 24 € hat sie. Wie viel Geld bleibt übrig?</p>
<p>Maik hat 34 €. Er will Geschenke für 12 € und 23 € einkaufen. Reicht sein Geld?</p>	<p>Du hast 25 €. Du möchtest folgende Geschenke kaufen: Ein Buch für 11 €, Socken für 3 € und ein Spiel für 11 €. Reicht dein Geld?</p>	<p>Hendrik zählt Weihnachtskugeln. Er kommt auf 22. In einer weiteren Packung sind noch einmal 9 Kugeln. Wie viele Kugeln sind es insgesamt?</p>	<p>Du musst insgesamt 11 Weihnachtskarten schreiben. 5 hast du schon fertig. Wie viele musst du noch schreiben?</p>

Weihnachtsbild mit Ergebnis:

Er hat 31 Weihnachtskugeln gezählt.

Die Geschenke kosten zusammen 22 €. Sie hat noch 2 € übrig.

Ich habe jetzt noch 23 Plätzchen für mich.

Ja, dein Geld reicht. Die Geschenke kosten genau 25 €.

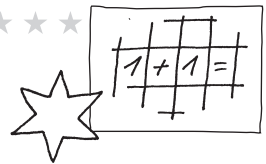
Es sind jetzt 32 Personen im Bus zum Weihnachtstheater.

Ich konnte mir 11 Buden auf dem Weihnachtsmarkt nicht ansehen.

Ich muss noch 6 Weihnachtskarten schreiben.

Nein. Sein Geld reicht nicht. Ihm fehlt 1 €.

Einkaufen auf dem Weihnachtsmarkt




Arbeitsauftrag:

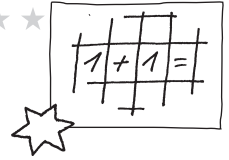
- Tom, Laura, Sara und Timo gehen auf den Weihnachtsmarkt. Tom hat 5 € im Portemonnaie, Laura 8 €, Sara 10 € und Timo 7 €.
- Schau dir an, was die Kinder kaufen wollen und überlege, ob das Geld reicht.

Weitere Aufgaben:

- Wie viel Geld geben Laura und Timo zusammen aus?
- Was würdest du gern kaufen?
Schreibe es hier auf: _____
Rechne aus, was du bezahlen musst.
- Finde noch weitere Aufgaben.

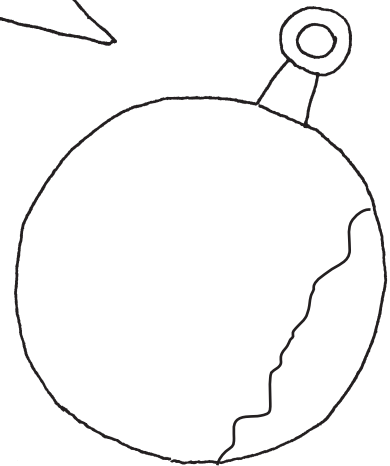


Spiegeln mit Weihnachtssymbolen (I)

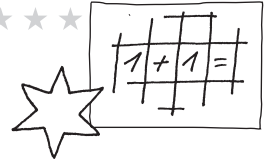


Arbeitsauftrag

- Deiner Mama ist die Kiste mit dem Tannenbaumschmuck heruntergefallen. Einige Stücke sind zerbrochen.
- Überlege dir, wie du den Spiegel anlegen musst, um sie zu reparieren.
- Zeichne ein, wo du den Spiegel angelegt hast.



Spiegeln mit Weihnachtssymbolen (II)

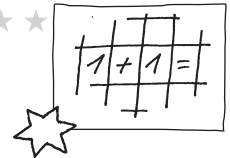


Arbeitsauftrag

- Deiner Mama ist die Kiste mit dem Tannenbaumschmuck heruntergefallen. Einige Stücke sind zerbrochen.
- Zeichne die Spiegelbilder, damit der Tannenbaumschmuck wieder repariert wird.

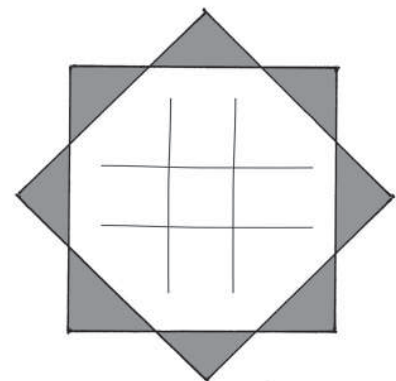
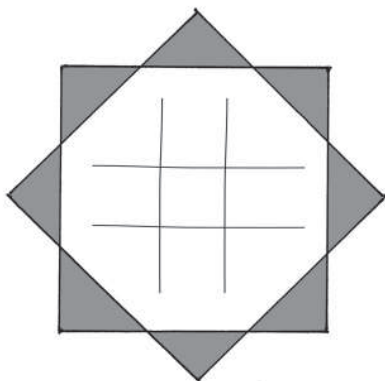
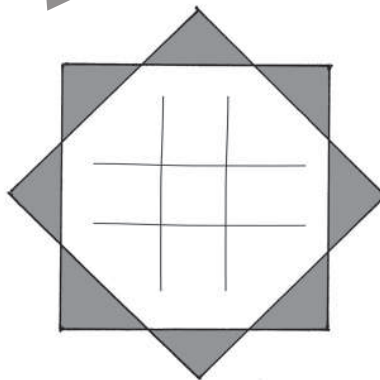
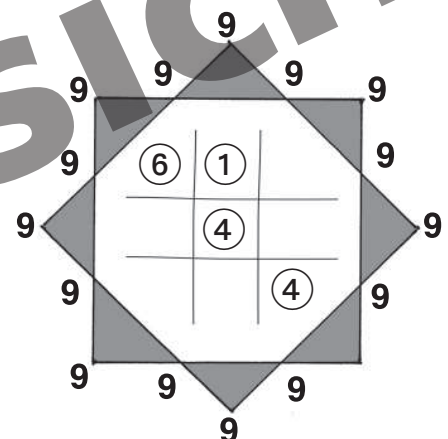
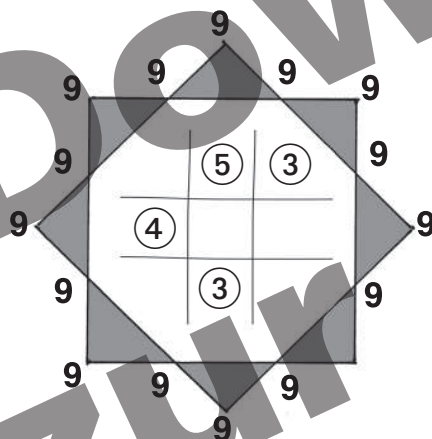
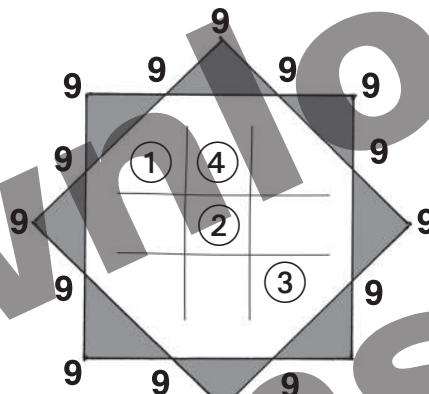
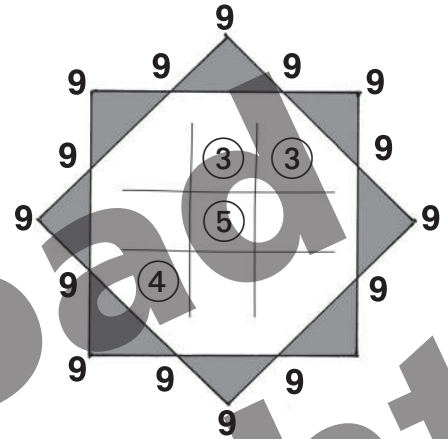
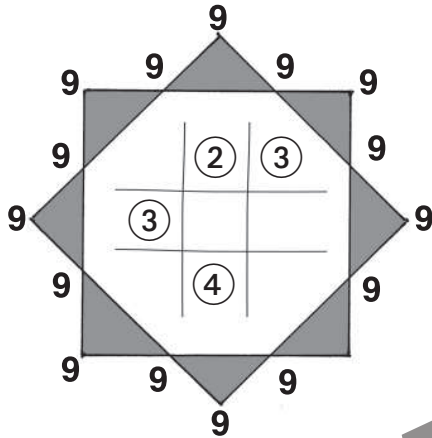


Magische Weihnachtssterne (I)

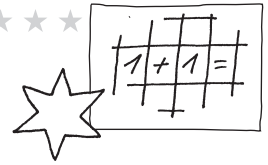


Arbeitsauftrag

- Immer 9!
- Fülle die Lücken.
- Erfinde selbst magische Weihnachtssterne.

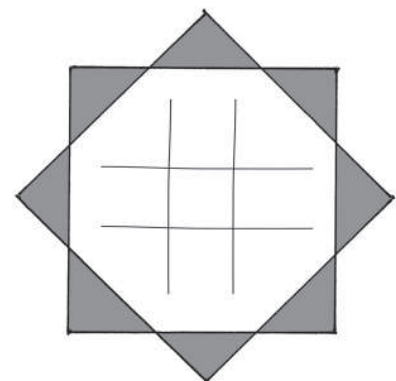
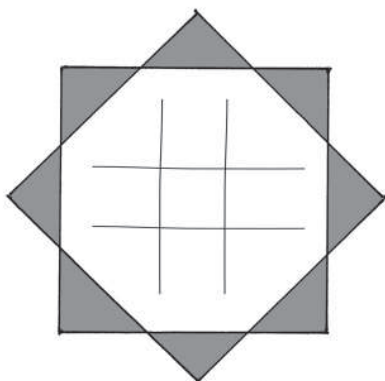
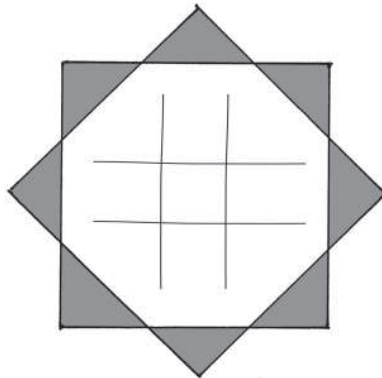
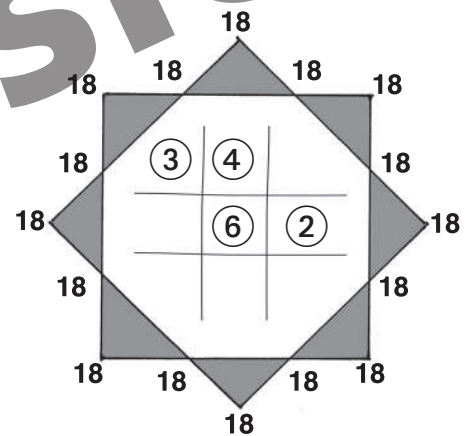
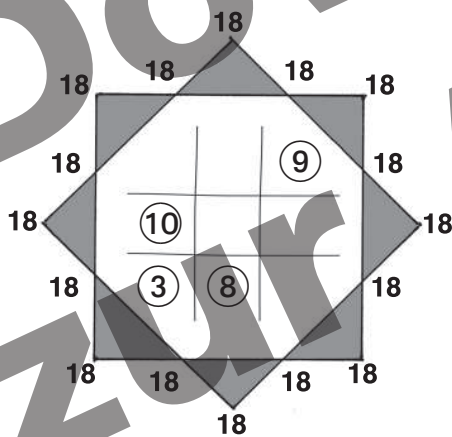
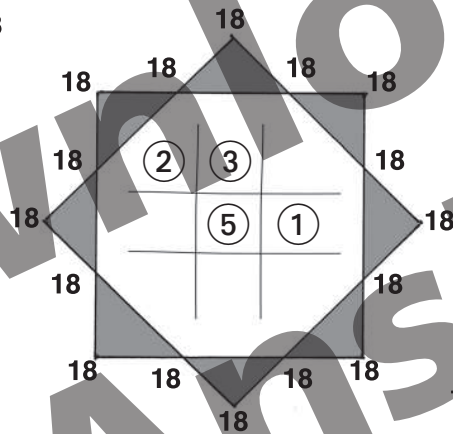
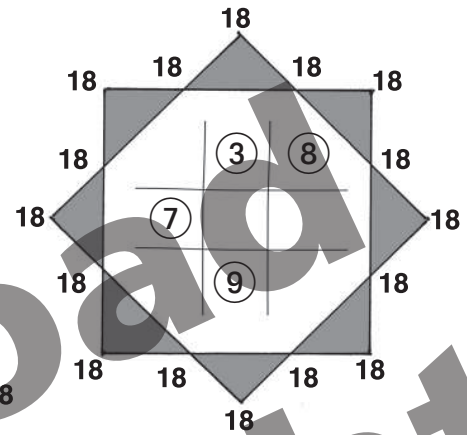
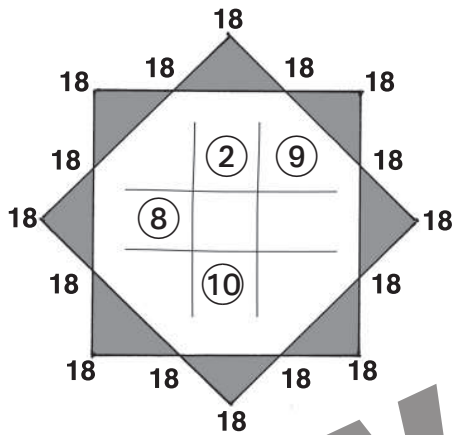


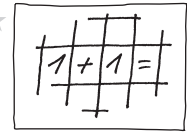
Magische Weihnachtssterne (II)



Arbeitsauftrag

- Immer 18!
- Fülle die Lücken.
- Erfinde selbst magische Weihnachtssterne.





Hinweise

Die **vorweihnachtliche Zeit in der Schule** gemeinsam bewusst zu erleben, trägt zur Stärkung und Festigung der Klassengemeinschaft bei.

Wir hoffen, dass wir Ihnen mit **diesen Unterrichtsideen für die erste und zweite Klasse** Zeit schenken, damit Sie in den Genuss einer besinnlichen Adventszeit kommen können.

Die **Arbeitsblätter** verlangen keine aufwändige Vorbereitung, sondern sind einfach **als Kopie** im Unterricht **einsetzbar**.

Es ist eine **Binnendifferenzierung** möglich. Der Schwierigkeitsgrad der Aufgaben ist immer oben auf dem Arbeitsblatt durch Symbole angezeigt:

Ein kleiner Stern  für das erste Schuljahr, ein größerer Stern  für das zweite Schuljahr.

Es besteht natürlich auch die Möglichkeit, im zweiten Schuljahr für Kinder mit großen Lernschwierigkeiten auf die Arbeitsblätter aus dem ersten Schuljahr zurückzugreifen.

Die **Aufgabenstellungen** sind so formuliert, dass sie Zweitklässler selbstständig erlesen können. Für die Erstklässler ist es ggf. notwendig, dass die Lehrer den Arbeitsauftrag zunächst erläutern, damit die Schüler die Aufgaben verstehen und bearbeiten können.

© Persen Verlag, Buxtehude
AAP Lehrerfachverlage GmbH
Illustrationen: Barbara Gerth
Satz: Mousedesign Medien AG, Zeven
www.persen.de



netzwerk
lernen

Birte Stratmann/ Nicole Weber: Weihnachtlicher Mathematikunterricht
© Persen Verlag, Buxtehude

zur Vollversion