



DOWNLOAD

Jens Eggert

Flüsse und Gebirge in Deutschland

VORSCHAU

Jens Eggert

Basiswissen Erdkunde: **Deutschland**

Fakten vermitteln und spielerisch festigen

Bergedorfer® Kopiervorlagen



**FÖRDER-
SCHULE**

Persen

Downloadauszug
aus dem Originaltitel:

Name:

Datum:



Die vielfältigen Landschaftsformen

Deutschland ist ein Land mit unterschiedlichen Landschaftsformen. Von der Meeresküste bis zu den Alpen ist das Land knapp 900 Kilometer lang. An seiner breitesten Stelle in Ost-West-Richtung ist Deutschland etwa 630 Kilometer breit.

Im Norden grenzt an die **Nordsee** und **Ostsee** das **Norddeutsche Tiefland**. Es ist größtenteils sehr flach. Von der Meeresküste kommend steigt die Landschaft nur langsam in ihrer Höhe. Diesem flachen Gebiet folgt dann das **Mittelgebirgsstufenland**. In diesem Gebiet steigt die Landschaft merklich an. Je nach Mittelgebirge liegen die Höhen bei 500 bis 1000 Metern. Im süddeutschen Raum reichen die höchsten Gipfel des Schwarzwaldes und des Bayerischen Waldes über 1400 Meter.

Südlich der Donau liegt das **Alpenvorland**, das durchschnittlich 500 Meter hoch ist. Je weiter man nach Süden kommt, umso mehr gewinnt die Landschaft an Höhe. Ganz im Süden trifft man auf die mächtigen **Alpen**. Das ist ein zentrales Hochgebirge mitten in Europa. Zu Deutschland gehört nur ein kleiner Teil dieses Hochgebirges.

Das Wasser vieler Flüsse Süddeutschlands, die in die Donau münden, fließt über eine fast 2858 Kilometer lange Strecke ins Schwarze Meer. Das Wasser aller anderen Flüsse Deutschlands fließt fast vollständig über den Rhein, die Weser und die Elbe in die Nordsee. Nur wenige Flüsse aus dem Osten Deutschlands münden in die Ostsee.


Schreibe die fettgedruckten Begriffe in das richtige Feld.



netzwerk
lernen

Jens Eggert: Flüsse und Gebirge in Deutschland
© Persen Verlag, Buxtehude

zur Vollversion

Name:	Datum:	
Flüsse in Deutschland		


Deutschland ist ein Land, das reich an Flüssen ist. Sie fließen entweder in die Nordsee, Ostsee oder ins Schwarze Meer. Viele Flüsse entspringen in den zahlreichen Mittelgebirgen. Andere entspringen in angrenzenden europäischen Nachbarstaaten und fließen durch Deutschland hindurch.



netzwerk lernen

Jens Eggert: Flüsse und Gebirge in Deutschland
© Persen Verlag, Buxtehude

zur Vollversion

Name:	Datum:	
Flüsse in Deutschland		

Beantworte die Fragen mithilfe der Karte und eines Atlanten.

1. Welche Flüsse fließen in die Nordsee? _____
2. Welcher Fluss fließt in die Ostsee? _____
3. In welches Meer fließt die Donau? _____
5. Zähle die drei Flüsse auf, die in den Alpen entspringen und in die Donau münden.

6. In welchem Land entspringt der Rhein? In welches Land fließt er, wenn er Deutschland verlässt?
Er entspringt in der _____ und fließt weiter in die _____.
7. Zähle alle Flüsse auf, die in den Rhein münden: _____
8. Nenne die beiden Quellflüsse der Weser: _____
9. In welchem Land entspringt die Elbe? _____
11. Nenne den Grenzfluss, der zwischen Deutschland und Polen fließt. _____
12. Nenne den Grenzfluss zwischen Deutschland und Frankreich. _____

Zusatzaufgaben – Beantworte folgende Fragen. Nimm einen Atlas zur Hilfe.

Z1 Welche Landeshauptstädte liegen an der Elbe? _____

Z2 An welchen Flüssen liegen diese Landeshauptstädte?

Bremen - _____ München - _____ Stuttgart - _____

Wiesbaden - _____ Mainz - _____ Düsseldorf - _____

Z3 Diese drei Landeshauptstädte liegen an Flüssen, die in unserer Karte nicht eingezeichnet sind. Wie heißen die Flüsse? Schreibe auf.

Saarbrücken - _____ Berlin - _____ Hannover - _____



Name:

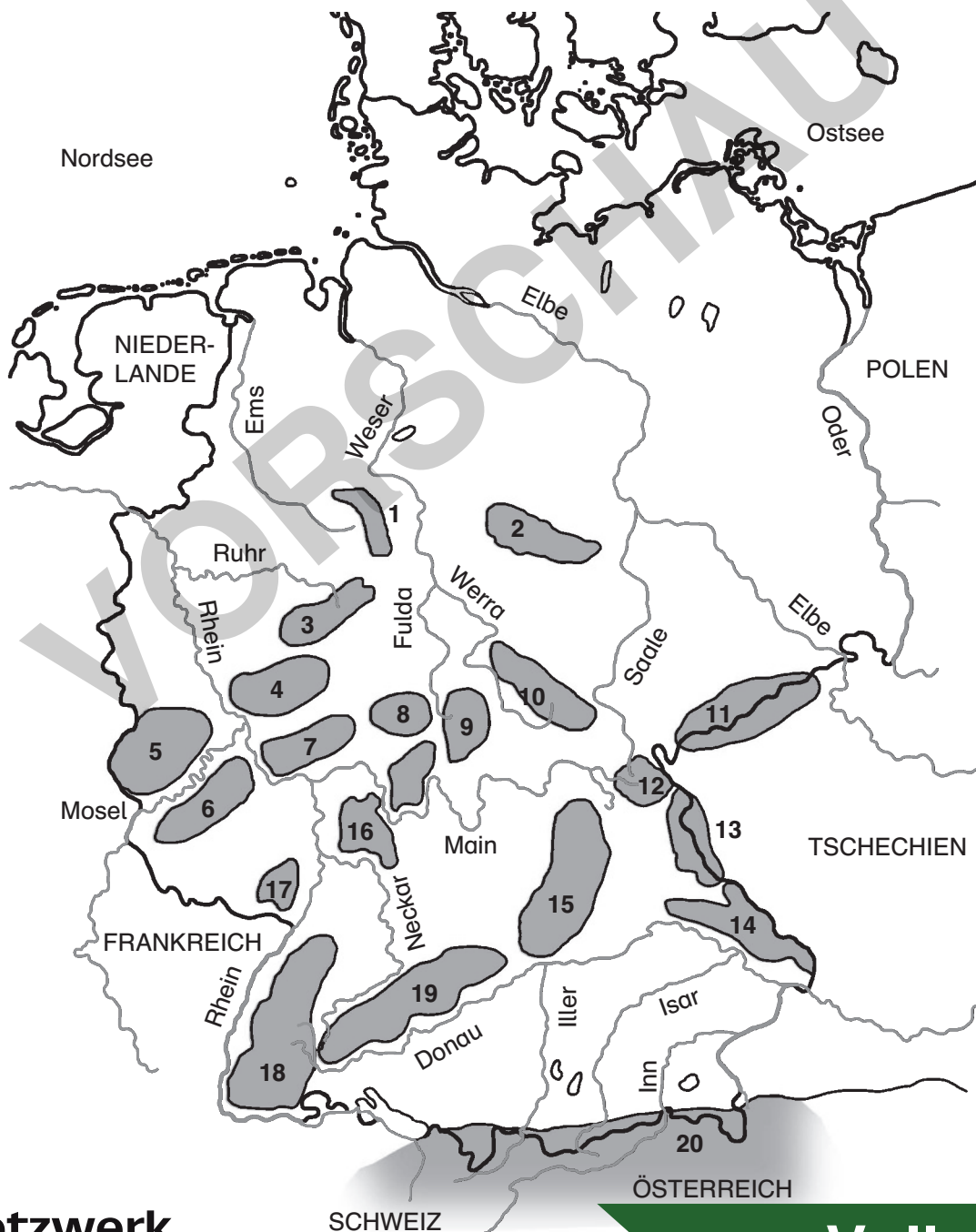
Datum:

3a

Mittelgebirge in Deutschland

Die Landschaft in Deutschland ist sehr vielseitig. Im Norden beherrscht das Norddeutsche Tiefland die Landschaft. Es grenzt an die Nordsee und Ostsee. In der „Mitte“ gibt es immer mehr Mittelgebirge. Als Mittelgebirge werden alle Gebiete bezeichnet, die sich von ihrer Umgebung deutlich abheben. Die maximalen Höhen der Mittelgebirge können sehr unterschiedlich sein: Der Teutoburger Wald ist an manchen Stellen nur knapp 500 m hoch (seine Umgebung erreicht aber nur meist 150 m über dem Meeresspiegel). Der höchste Berg des Schwarzwaldes (Feldberg) dagegen ist 1493 m hoch.


Gebirge mit Höhen über 1500 m werden als Hochgebirge bezeichnet.



netzwerk
lernen

Jens Eggert: Flüsse und Gebirge in Deutschland
© Persen Verlag, Buxtehude

zur Vollversion

Name:	Datum:	
Mittelgebirge in Deutschland		

1. Nimm die Karte und einen Atlas. Schreibe auf: Hinter welcher Nummer „versteckt“ sich welches Gebirge?

Nr.	Gebirgsname	Nr.	Gebirgsname
1		11	
2		12	
3		13	
4		14	
5		15	
6		16	
7		17	
8		18	
9		19	
10		20	

Viele Flüsse entspringen in den zahlreichen Mittelgebirgen. Finde heraus, welche Flüsse in welchem Gebirge entspringen.

In den Alpen entspringen zum Beispiel: _____.

Die beiden Quellflüsse der Donau (_____ und _____) entspringen im _____.

Die Saale und der Main haben ihre Quellen im _____.

Orientierungsaufgabe:

An welchen Mittelgebirgen fließt der Rhein direkt vorbei? _____

Die Donau fließt an den folgenden Mittelgebirgen entlang: _____



Name:

Datum:



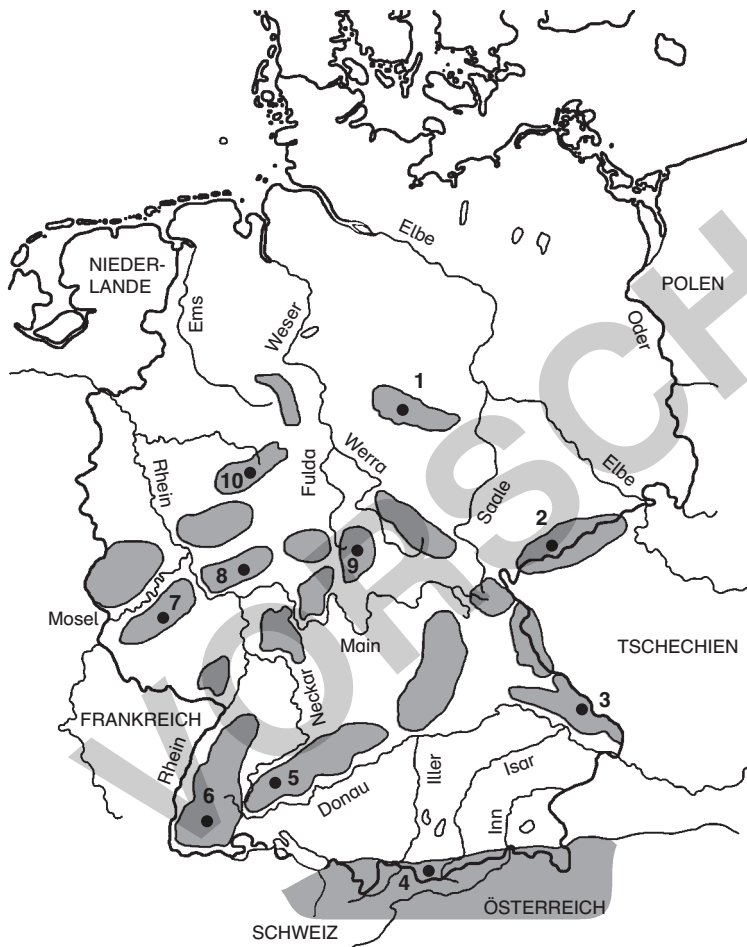
Die höchsten Berge der Mittelgebirge

Bei jedem Mittelgebirge in Deutschland gibt es immer einen Berg, der am höchsten ist.

1. Finde mithilfe der Karte, der Tabelle und einem Atlas heraus, wie die höchsten Berge der folgenden Gebirge heißen.

2. Notiere auch, wie hoch sie sind.

Hinweis: Die schwarzen Punkte geben dir die Lage der jeweiligen Berge an.



Namen der Gebirge:

1. Harz
2. Erzgebirge
3. Bayerischer Wald
4. Alpen
5. Schwäbische Alb
6. Schwarzwald
7. Hunsrück
8. Taunus
9. Röhn
10. Rothaargebirge

Gebirgsname	höchster Berg	Höhe	Gebirgsname	höchster Berg	Höhe
Alpen			Röhn		
Bayerischer Wald			Rothaargebirge		
Erzgebirge			Schwäbische Alb		
Harz			Schwarzwald		
			Taunus		

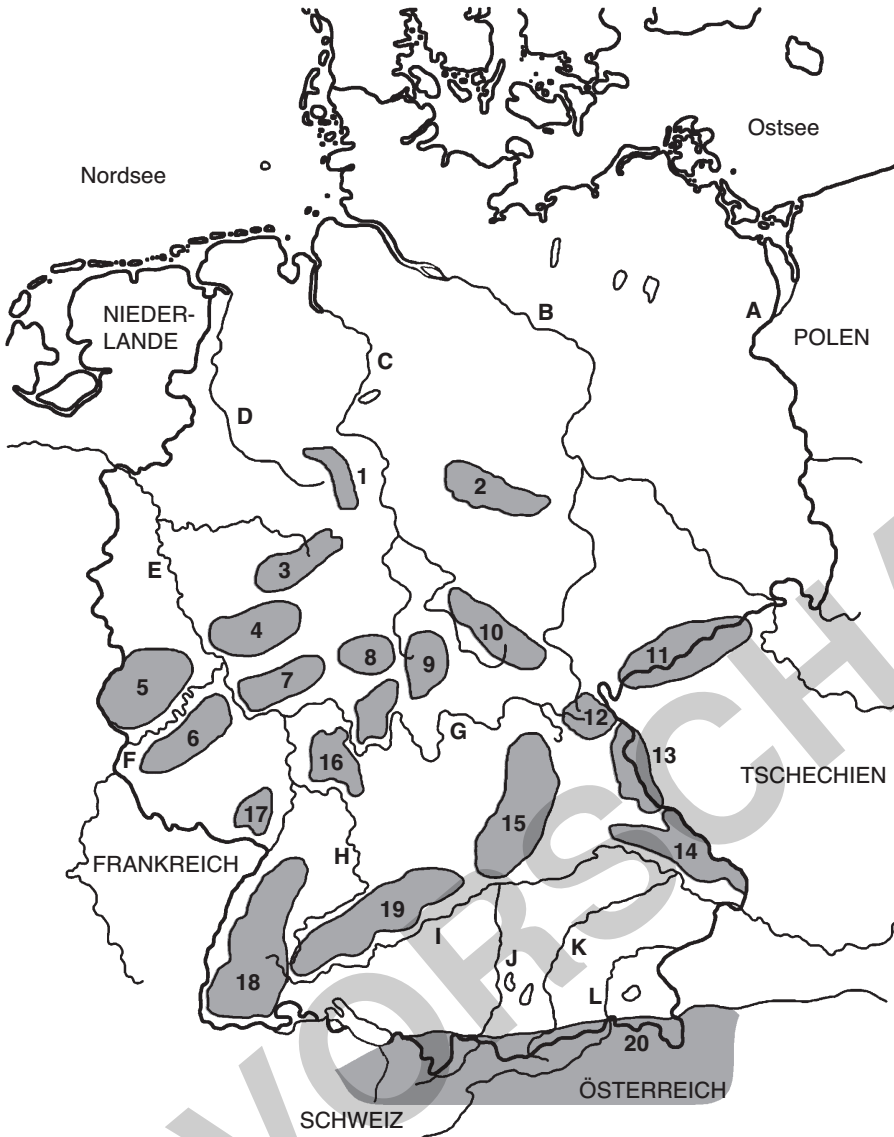
Name:

Datum:



Flüsse und Gebirge in Deutschland

1. Wie heißen die Gebirge? Schreibe auf.



- 1 = _____
- 2 = _____
- 3 = _____
- 4 = _____
- 5 = _____
- 6 = _____
- 7 = _____
- 8 = _____
- 9 = _____
- 10 = _____
- 11 = _____
- 12 = _____
- 13 = _____
- 14 = _____
- 15 = _____
- 16 = _____
- 17 = _____
- 18 = _____
- 19 = _____
- 20 = _____

2. Wie heißen die Flüsse? Schreibe auf.

- A = _____ B = _____ C = _____
- D = _____ E = _____ F = _____
- G = _____ H = _____ I = _____
- J = _____ K = _____ L = _____


Welche Flüsse fließen in die Nordsee? _____

Welcher Fluss fließt in die Ostsee? _____

In welches Meer fließt die Donau? _____

Name:	Datum:	
Kreuzworträtsel: Flüsse und Gebirge		

Achtung! Die Umlaute Ä, Ö und Ü bleiben unverändert! Bei Gebirgsnamen, die aus zwei Wörtern bestehen, ist als Lücke ein Bindestrich im Rätsel eingefügt.



Senkrecht – von oben nach unten		Waagrecht – von links nach rechts	
1	Fluss, der durch Hamburg fließt.	13	Das einzige Hochgebirge Deutschlands.
2	In dieses Meer fließen Elbe und Weser.	14	Ein Mittelgebirge links des Rheins.
3	Ein Fluss, der in die Nordsee mündet.	15	Dieser Fluss entspringt in Frankreich.
4	Mittelgebirge zwischen Weser und Saale.	16	Ein Meer nördlich von Mecklenburg-Vorpommern.
5	Ein Mittelgebirge im Norden Deutschlands.	17	Dieser Fluss fließt durch Frankfurt.
6	Dieser Fluss entspringt in der Schweiz.	18	Grenzfluss zu Polen.
7	Dieser Fluss mündet in das Schwarze Meer.	19	Mittelgebirge im Südwesten Deutschlands.
8	Dieses Gebirge grenzt an Tschechien.	20	An diesem Fluss liegt die Stadt Bremen.
9	Ein Mittelgebirge am Rhein.	21	Ein Mittelgebirge links des Rheins.
10	Ein Mittelgebirge zwischen Frankfurt und Heidelberg.	22	Dieser Fluss entspringt im Schwarzwald und fließt durch Stuttgart.
11	Dieser Fluss fließt durch München.	23	Dieser Fluss ist Grenzfluss zwischen Deutschland und Österreich.
12	Ein Quellfluss der Weser.	24	Mittelgebirge im Grenzgebiet zu Tschechien.
		25	Ein Quellfluss der Weser.
		26	Ein



**netzwerk
lernen**

Jens Eggert: Flüsse und Gebirge in Deutschland
© Persen Verlag, Buxtehude

zur Vollversion