





Torschützenkönig 1

Wer ist Torschützenkönig und
Rechnen

 $226 \div 10 = \bigcirc \rightarrow \cdot 10 = \bigcirc$
 $32 \div 100 = \bigcirc \rightarrow \cdot 100 = \bigcirc$
 $71 \div 10 = \bigcirc \rightarrow \cdot 100 = \bigcirc$
 $441 \div 10 = \bigcirc \rightarrow \cdot 10 = \bigcirc$





Torschützenkönig 19

Wer ist Torschützenkönig

 $106 \rightarrow 70$
 $482 \rightarrow 20$
 $224 \rightarrow 25$
 $100 \rightarrow 70$

Torschützenkönig 13

Wer ist Torschützenkönig und schießt die meisten Tore?
Rechnen!

 $200 \rightarrow 850 \div 10 = \bigcirc \rightarrow \cdot 10 = \bigcirc \rightarrow 364 \div 10 = \bigcirc$
 $390 \div 100 = \bigcirc \rightarrow 599 \rightarrow 933 \div 10 = \bigcirc \rightarrow 187$
 $257 \div 100 = \bigcirc \rightarrow 697 \rightarrow 397 \div 10 = \bigcirc \rightarrow 502$
 $618 \rightarrow 218 \div 10 = \bigcirc \rightarrow \cdot 100 = \bigcirc \rightarrow 414 \div 10 = \bigcirc$

Name: _____



Torschützenkönig



| | | | | | | | | | |
|----|----|----|----|----|----|----|----|----|----|
| 1 | 2 | 3 | 4 | 5 | 6 | 7 | 8 | 9 | 10 |
| 11 | 12 | 13 | 14 | 15 | 16 | 17 | 18 | 19 | 20 |

