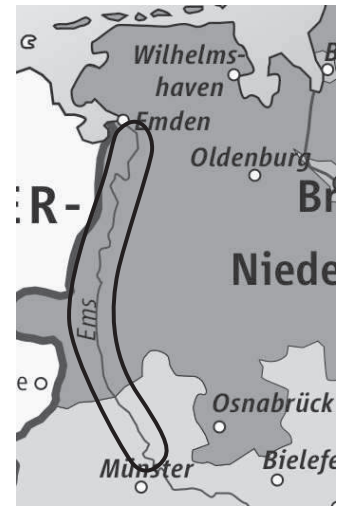


| | |
|---|----|
| 1. Vorwort | 4 |
| 2. Arbeit mit der Lernwerkstatt | 5 |
| Einstieg in die Werkstatt | 5 |
| Durchführung der Werkstatt | 6 |
| Benötigte Zusatzmaterialien | 8 |
| Kopiervorlagen für den Einstieg und den Schluss | 8 |
| Deutschland-Quiz | 13 |
| 3. Das Atlas-Heft | 15 |
| Atlas-Rallye | 16 |
| Wo liegt eigentlich Leipzig? | 17 |
| Was ist was? | 18 |
| Stadt, Land oder Fluss? | 19 |
| Himmelsrichtungen | 20 |
| Kennst du die Himmelsrichtungen? | 21 |
| Der Maßstab | 22 |
| Wie weit ist es von x nach y? | 23 |
| Eine Karte mit Bergen? | 24 |
| Kreuzworträtsel | 25 |
| Verbrecherjagd durch Deutschland | 26 |
| 4. Deutschland-Werkstatt | 27 |
| Deutschland liegt in Europa | 29 |
| Deutschland gehört zur Europäischen Union | 30 |
| Die Bundesrepublik Deutschland | 31 |
| Flagge und Wappen | 32 |
| Die deutsche Nationalhymne | 33 |
| Wer regiert eigentlich in Deutschland? | 34 |
| BRD und DDR | 35 |
| Warum ist am 3. Oktober schulfrei? | 36 |
| Die Bundesländer | 37 |
| Wie heißen die Bundesländer? | 38 |
| Die Hauptstädte der Bundesländer | 39 |
| Bundesländer für die Hosentasche | 40 |
| Die Wappen der Bundesländer | 43 |
| Die Größe der Bundesländer | 44 |
| Einwohner | 45 |
| Das Bundesland | 46 |
| Hauptstadt Berlin | 47 |
| Städte in Deutschland | 48 |
| Wie sieht Deutschland eigentlich aus? | 49 |
| Flüsse in Deutschland | 50 |
| Der lange Lauf des Rheins | 51 |
| Gebirge in Deutschland | 52 |
| An deutschen Küsten | 53 |
| Toooor! | 54 |
| Was ist typisch deutsch? | 55 |
| Rätsel | 56 |
| Du bist ein Experte! | 57 |
| Hin und her – kreuz und quer durch Deutschland | 58 |
| DEIN Deutschland | 60 |
| 5. Bildquellenverzeichnis | 61 |

Was ist was?

Flüsse werden durch blaue Linien gezeichnet, die sich durch die Landschaft schlängeln. Die Namen der Flüsse stehen meist sehr klein direkt am Flusslauf. In der Abbildung rechts siehst du den Fluss Ems, der in der Nordsee mündet.



A Welche Flüsse sind hier abgebildet? Male den Flusslauf blau.




Donau



Main

Gebirge werden durch gelbe oder braune Flächen gezeichnet. Der Name ist geschwungen und ist so lang gezogen, wie das Gebirge selbst lang gezeichnet ist. In der Abbildung rechts siehst du das Gebirge „Chiemgauer Alpen“.



A Welche Gebirge sind hier abgebildet? Male das Gebirge braun.



Harz



Wiehengebirge

Länder und ihre Grenzen werden im Gegensatz zu Landschaften in anderen Karten dargestellt. Diese Karten nennt man politische Karten. In der Abbildung siehst du Deutschland. Die Linien zeigen die Grenzen der Bundesländer. Durch unterschiedliche Farben sind sie noch besser zu erkennen. Die Namen stehen innerhalb des Feldes. Einige Bundesländer haben Doppelnamen. In der Karte rechts siehst du das Bundesland Schleswig-Holstein eingekreist.

A Lies die Namen der 15 anderen Bundesländer und kreise sie ein.



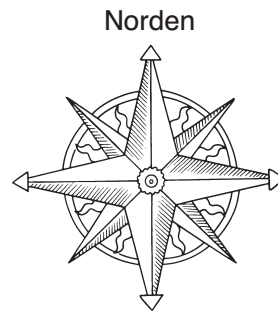
Himmelsrichtungen

Um uns auf einer Karte zu orientieren, nutzen wir die Himmelsrichtungen. Die vier Haupthimmelsrichtungen heißen Norden (N), Osten (O), Süden (S), Westen (W). Mit diesem Satz kannst du sie dir merken:

Nie ohne Seife waschen!

Die Anfangsbuchstaben der Wörter stehen für die Himmelsrichtungen, gemerkt im Uhrzeigersinn. Auf Karten werden sie oft mit einer sogenannten „Windrose“ angegeben.

Westen



Osten

Süden

A Trage die anderen Himmelsrichtungen ein.

Auf fast allen Karten zeigt der obere Rand nach Norden. So kann ich mit den Himmelsrichtungen die Richtungen genau beschreiben:

← Westen ↑ Norden ↓ Süden → Osten

A Wohin gehst du?

a) Von Köln gehst du 4 Felder nach Osten und 3 Felder nach Norden.

Hannover

b) Von München gehst du 5 Felder nach Westen.

Freiburg

c) Von Karlsruhe gehst du 4 Felder nach Osten und 2 Felder nach Süden.

München

d) Von Frankfurt gehst du 2 Felder nach Norden und 2 Felder nach Westen.

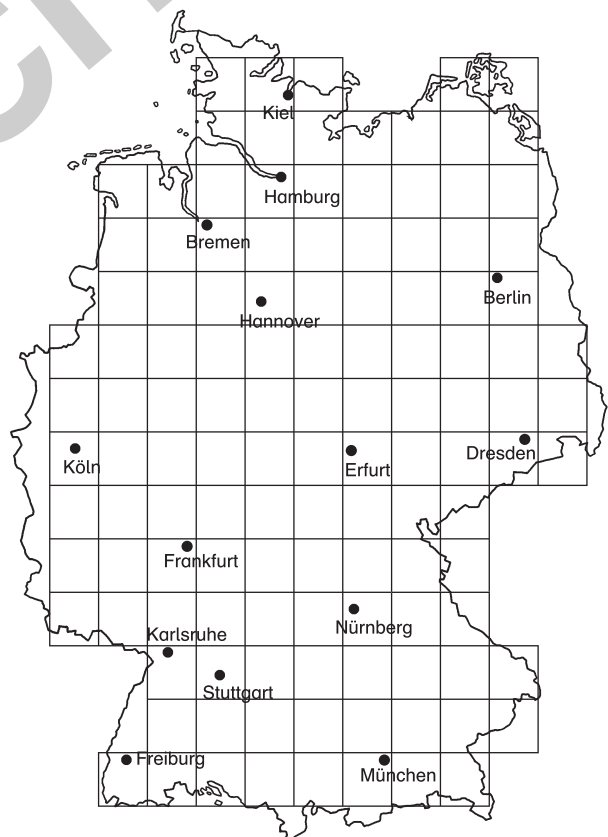
Köln

e) Von Stuttgart gehst du 7 Felder nach Norden, 6 Felder nach Osten und 3 Felder nach Süden.

Dresden

f) Von Berlin gehst du 1 Feld nach Norden und 6 Felder nach Westen.

Bremen



★ Außer den Haupthimmelsrichtungen gibt es noch weitere Zwischenhimmelsrichtungen. Finde selbstständig heraus wie sie heißen und zeichne eine Windrose. Denke dir selber Suchaufgaben aus und

schreibe sie auf.