


## Situation:

Lisa will mit dem Bus zum Handball-Training fahren. Sie wohnt am **Antonplatz**. Das Handball-Training ist in der **Bismarckstraße**. Sie ist um 18:00 Uhr mit den anderen Spielerinnen vor der Sporthalle verabredet.




An ihrer Pinnwand hängt der Busfahrplan:

Linie 2	Montag–Freitag	13:00	14:00	15:00	16:00	17:00	18:00		
Lachsweg		03	03	03	03	33	03	33	03
Taubenstraße		06	06	06	06	36	06	36	06
Antonplatz		07	07	07	07	37	07	37	07
Flughafenstraße		09	09	09	09	39	09	39	09
Südfriedhof		11	11	11	11	41	11	41	11
Engelsweg		14	14	14	14	44	14	44	14
Kanalstraße		17	17	17	17	47	17	47	17
Bergstraße		19	19	19	19	49	19	49	19
Bismarckstraße		21	21	21	21	51	21	51	21
Hauptbahnhof		25	25	25	25	55	25	55	25

## Situation:

Lisa will mit dem **Bus** zum Handball-Training fahren. Sie wohnt am **Antonplatz**. Das Handball-Training ist in der **Bismarckstraße**.

Sie ist um **18:00 Uhr** mit den anderen Spielerinnen vor der Sporthalle verabredet.



An ihrer Pinnwand hängt der **Busfahrplan**:

Linie 2	16:00	17:00	18:00
Antonplatz	30	30	30
Engelsweg	34	34	34
Kanalstraße	37	37	37
Bergstraße	41	41	41
Bismarckstraße	45	45	45
Hauptbahnhof	50	50	50

## Situation:

Anton möchte mit dem Zug von Kiel nach Berlin fahren. Er sucht im Internet unter [www.bahn.de](http://www.bahn.de) nach der passenden Zugverbindung.

Bahnhof	Datum	Zeit	Dauer	Umst.	Produkte	Preis für alle Reisenden*	
		↑ Früher				Sparangebote	Normalpreis
<input checked="" type="checkbox"/> Kiel Hbf	Di, 16.12.14	ab 12:38	3:10	1	IC, ICE	<input checked="" type="checkbox"/> 59,25 EUR	65,25 EUR
Berlin Hbf	Di, 16.12.14	an 15:48				<a href="#">→ Zur Buchung</a>	<a href="#">→ Zur Buchung</a>

## Aufgaben:

- 1 Welches Datum hat Anton für seine Fahrt gewählt? \_\_\_\_\_
- 2 Wann fährt der Zug am Kieler Hauptbahnhof ab? \_\_\_\_\_ Uhr
- 3 Wann erreicht der Zug den Berliner Hauptbahnhof? \_\_\_\_\_ Uhr
- 4 Wie lange dauert die Zugfahrt? \_\_\_\_\_ Stunden \_\_\_\_\_ Minuten
- 5 Wie oft muss Anton umsteigen? \_\_\_\_\_ Mal
- 6 Was kostet die günstigste Fahrkarte? \_\_\_\_\_ Euro
- 7 Mit welchen Zügen fährt Anton?
  - ICE (Intercity Express)
  - RE (Regional Express)
  - IC (Intercity)

## Situation:

Anton möchte mit dem Zug von Kiel nach Berlin fahren. Er sucht im Internet unter [www.bahn.de](http://www.bahn.de) nach der passenden Zugverbindung.



















Bahnhof	Datum	Zeit	Dauer	Umst.	Produkte	Preis für alle Reisenden*	
		↑ Früher				Sparangebote	Normalpreis
<input checked="" type="checkbox"/> Kiel Hbf	Di, 16.12.14	ab 12:38	3:10	1	IC, ICE	<input checked="" type="checkbox"/> 59,25 EUR	65,25 EUR
Berlin Hbf	Di, 16.12.14	an 15:48				<a href="#">→ Zur Buchung</a>	<a href="#">→ Zur Buchung</a>

## Aufgaben:

- 1 Welches **Datum** hat Anton für seine Fahrt gewählt? \_\_\_\_\_
- 2 Wann fährt der Zug am **Kieler Hauptbahnhof** ab?
  - 12:00 Uhr
  - 12:38 Uhr
  - 15:48 Uhr
- 3 Wann erreicht der Zug den **Berliner Hauptbahnhof**?
  - 12:38 Uhr
  - 15:00 Uhr
  - 15:48 Uhr
- 4 **Wie lange** dauert die Zugfahrt?
  - 3 Stunden
  - 3 Stunden und 10 Minuten
  - 4 Stunden
- 5 Wie oft muss Anton **umsteigen**? \_\_\_\_\_ Mal
- 6 Was kostet die **günstigste** Fahrkarte?
  - 59,25 €
  - 50,00 €
  - 65,25 €
- 7 Mit welchen Zügen fährt Anton?
  - ICE (Intercity Express)
  - RE (Regional Express)
  - IC (Intercity)

## Situation:

In der Steinschule gibt es viele Freizeitangebote für die Betreuung an den Nachmittagen. Die Schüler können sich auf einem Plan über die Angebote informieren.

		FREIZEITANGEBOTE							
		14:10-15:00 UHR		ALTER 10+ 14+		15:15-16.00UHR		ALTER 10+ 14+	
MO	TÖPFERN 	X				MO	JUDO 	X	
MO	FUßBALL 		X			MO	HOLZWERKSTATT 		X
DI	INTERNET 		X			DI	SAMBA-TROMMELN 		X
DI	BASTELN MIT PAPIER 	X				DI	FUßBALL 	X	
MI	AKROBIK 		X			MI	EXPERIMENTE 	X	
MI	SPIELE IM WALD 	X				MI	FOTO & FILM 		X
DO	SINGEN & TANZEN 	X				DO	LEKHTATHLETIK 	X	
DO	FILZWERKSTATT 	X				DO	COMPUTER 	X	
FR	'ZIRKUS STONETTI' 	X				FR	VOLLEYBALL 		X

## Aufgaben:

- 1 Wie viele Angebote gibt es insgesamt? \_\_\_\_\_
- 2 Welche Altersgruppen gibt es? \_\_\_\_\_
- 3 An welchem Tag gibt es nur zwei Angebote? \_\_\_\_\_

### Aufgabe:

Schau dir die Tabelle mit den Freizeitangeboten der Steinschule an und beantworte die Fragen.



a) Tim ist 15 und möchte Fußball spielen. Wann kann er spielen?

\_\_\_\_\_

b) Alicia ist 12 und möchte gern im „Zirkus Steinetti“ mitmachen. Darf sie das?

\_\_\_\_\_

c) Florian ist 13 und surft gern im Internet. Darf er an der Internetgruppe teilnehmen?

\_\_\_\_\_

d) Schreibe für folgende Schüler die passenden Freizeitangebote auf. Schreibe auch den Wochentag und die Uhrzeit auf.

Marlon ist 16 und trommelt gern.	Dienstag, 15:15-16:00 Uhr, Samba-Trommelgruppe
Florian ist 13 und interessiert sich für Experimente.	
Oskar ist 10 und will unbedingt Fußball spielen.	
Tom ist 12 und möchte im „Zirkus Steinetti“ zaubern.	
Antonia ist 15 und hat Lust auf Aerobic.	

e) Für welches Freizeitangebot würdest du dich entscheiden?

\_\_\_\_\_