

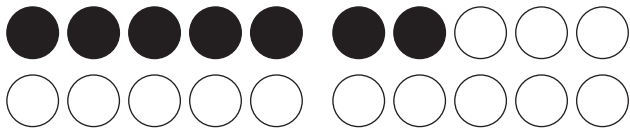
Station 1



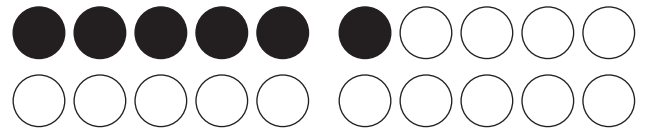
Addition im Zwanzigerraum

Rechnen und malen

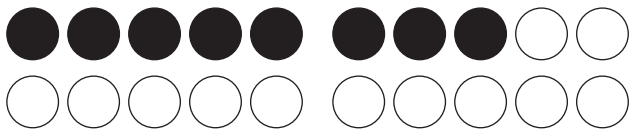
Male und rechne.



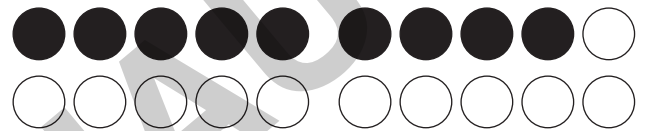
$$7 + 3 = \square$$



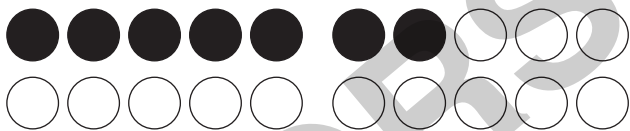
$$6 + 7 = \square$$



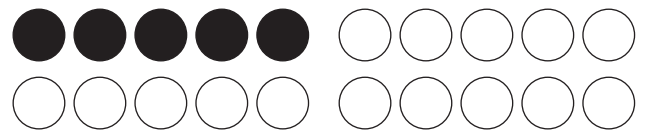
$$8 + 3 = \square$$



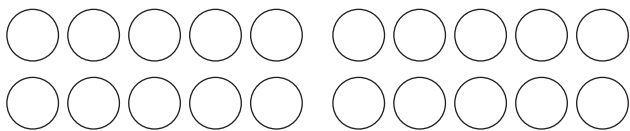
$$9 + 7 = \square$$



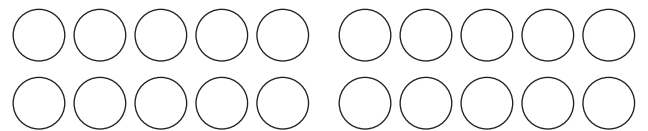
$$7 + 7 = \square$$



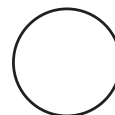

$$5 + 8 = \square$$



$$+ = \square$$



$$+ = \square$$



netzwerk
lernen

Brilliant Learning Center Stationen inklusiv: Im ZR bis 20 rechnen – 4
© Persen Verlag

zur Vollversion

Station 2



Addition im Zwanzigerraum



Perlenkette

Du musst mit Perlen eine Perlenkette basteln.

Bei jeder neuen Kette musst du jeweils zwei Perlen mehr auffädeln. Schreibe die Menge der Perlen auf, die du brauchst, und zeichne sie dann.

2	4	6	8						
									

VORSCHAU



netzwerk
lernen

Brick- und Rechmauer-Perlenstationen inklusiv: Im ZR bis 20 rechnen – 4
© Persen Verlag

zur Vollversion

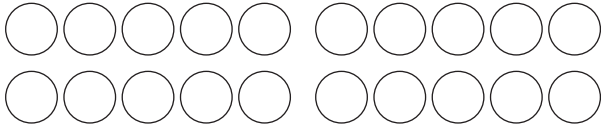
Station 3



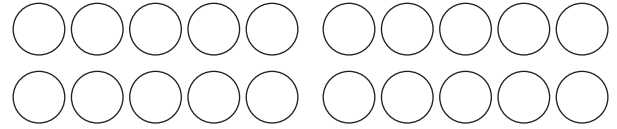
Addition im Zwanzigerraum

Mache aus einer Aufgabe eine neue

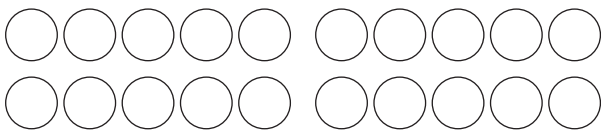
Male die Zeichnungen fertig an.



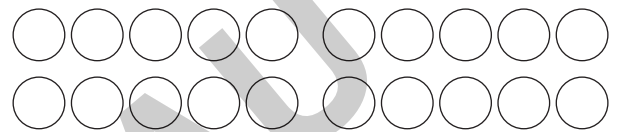
aus $2 + 2 =$



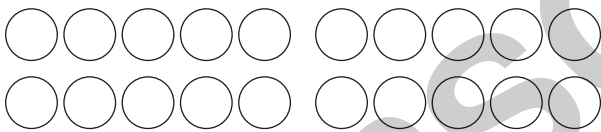
mache $2 + 3 =$



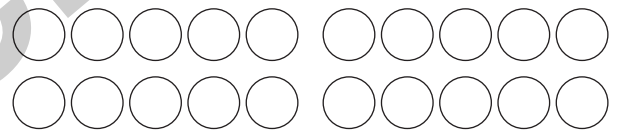
aus $6 + 6 =$



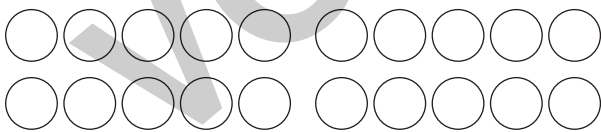
mache $6 + 7 =$



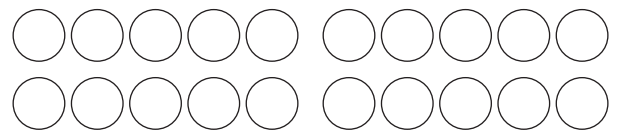
aus $8 + 8 =$



mache $8 + 9 =$



aus $7 + 7 =$



mache $7 + 8 =$

Was haben die Aufgaben gemeinsam?
Beschreibe.



netzwerk
lernen

Brilliantes Rechnen in den Stationen inklusiv: Im ZR bis 20 rechnen – 4
© Persen Verlag

zur Vollversion

Station 4



Addition im Zwanzigerraum

Rechnen in zwei Schritten

Rechne wie im Beispiel.
Fülle immer zuerst den Zehner auf.
Rechne dann weiter.

$$8 + 7 = 15$$

$$8 + 2 = 10$$

$$10 + 5 = 15$$

$$5 + 6 =$$

$$5 + \quad = 10$$

$$10 + \quad =$$

$$9 + 8 =$$

$$+ \quad =$$

$$+ \quad =$$

$$3 + 9 =$$

$$+ \quad =$$

$$+ \quad =$$

$$8 + 5 =$$

$$+ \quad =$$

$$+ \quad =$$

$$7 + 7 =$$

$$+ \quad =$$

$$+ \quad =$$

$$5 + 7 =$$

$$+ \quad =$$

$$+ \quad =$$

$$9 + 6 =$$

$$+ \quad =$$

$$+ \quad =$$

$$8 + 4 =$$

$$+ \quad =$$

$$+ \quad =$$

$$6 + 8 =$$

$$+ \quad =$$

$$+ \quad =$$

$$9 + 5 =$$

$$+ \quad =$$

$$+ \quad =$$

$$6 + 7 =$$

$$+ \quad =$$

$$+ \quad =$$







Station 5

Addition im Zwanzigerraum



Rechenbienen

Addiere die Zahlen.



netzwerk
lernen

Brilliantes Rechnen in allen Stationen inklusiv: Im ZR bis 20 rechnen – 4
© Persen Verlag

zur Vollversion