

Station 1/1



Zahlzerlegung

Zahlen mit der Schüttelbox zerlegen

Trage die Zahlen ein und finde die Plusaufgaben.

6	6	6	6
<input type="text"/>	<input type="text"/>	<input type="text"/>	<input type="text"/>
<input type="text"/>	<input type="text"/>	<input type="text"/>	<input type="text"/>
+	+	+	+

7	7	7	7
<input type="text"/>	<input type="text"/>	<input type="text"/>	<input type="text"/>
<input type="text"/>	<input type="text"/>	<input type="text"/>	<input type="text"/>

5	5	5	5
<input type="text"/>	<input type="text"/>	<input type="text"/>	<input type="text"/>
<input type="text"/>	<input type="text"/>	<input type="text"/>	<input type="text"/>



netzwerk
lernen

Brückenschritt in die Rechenstationen inklusiv: Im ZR bis 20 rechnen – 3
© Persen Verlag

zur Vollversion

Station 1/2



Zahlzerlegung

Zahlen mit der Schüttelbox zerlegen

Trage die Zahlen ein und finde die Plusaufgaben.

8

8

8

8

8

8

<input type="text"/>	<input type="text"/>	<input type="text"/>	<input type="text"/>	<input type="text"/>	<input type="text"/>
<input type="text"/>	<input type="text"/>	<input type="text"/>	<input type="text"/>	<input type="text"/>	<input type="text"/>

9

9

9

9

9

9

<input type="text"/>	<input type="text"/>	<input type="text"/>	<input type="text"/>	<input type="text"/>	<input type="text"/>
<input type="text"/>	<input type="text"/>	<input type="text"/>	<input type="text"/>	<input type="text"/>	<input type="text"/>

10

10

10

10

10

10

<input type="text"/>	<input type="text"/>	<input type="text"/>	<input type="text"/>	<input type="text"/>	<input type="text"/>
<input type="text"/>	<input type="text"/>	<input type="text"/>	<input type="text"/>	<input type="text"/>	<input type="text"/>



netzwerk
lernen

Brilliant und mehr Lernstationen inklusiv: Im ZR bis 20 rechnen – 3
© Persen Verlag

zur Vollversion


Station 2



Zahlzerlegung

Plättchenwerfen

Nimm dir 7 Wendepfättchen und einen Becher.
Finde möglichst viele Zerlegungen der 7 und zeichne sie auf.



blau	rot		
		4	3

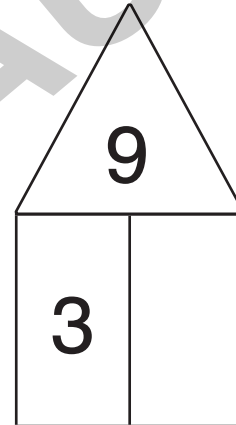




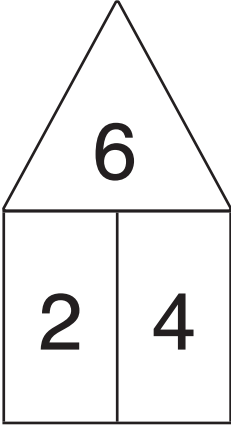
VORSCHAU





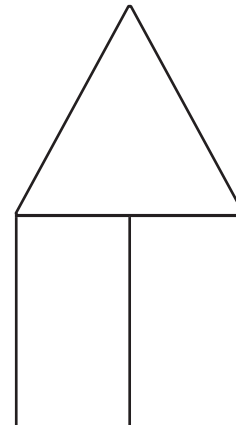
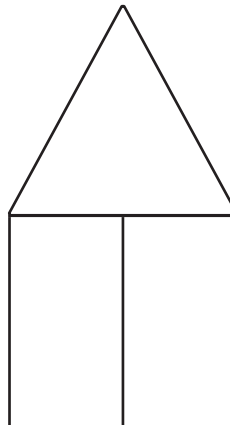
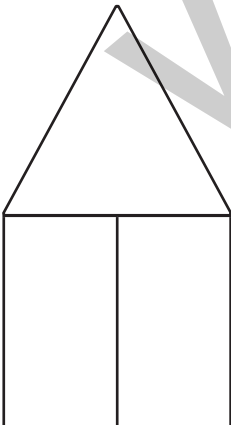
Rechne die Zahlenhäuser aus.

Trage die fehlenden Zahlen in die Häuser ein.



Jetzt bist du an der Reihe.

Denke dir deine eigenen Zahlenhäuser aus.



Falte dir ein eigenes Zahlenhaus.

1. Nimm dir ein DIN-A4-Papier und falte es.
2. Schneide an der offenen Seite ein Dreieck als Dach ab.
3. Schreibe eine Dachzahl in den Dachboden.
4. Erfinde nun dein eigenes Zahlenhaus.

