


Aufgabe

Beispiel: Ein Kleeblatt hat 4 Blätter.
Wie viele Blätter haben 2 Kleeblätter zusammen?

Rechnung: $4 + 4 = 8$
 $2 \cdot 4 = 8$



Löse folgende Aufgaben, indem du immer erst die Kleeblätter ausschneidest und aufklebst. Schreibe dann die Rechnung auf.

Wie viele Blätter haben 3 Kleeblätter?

Rechnung: _____

Wie viele Blätter haben 4 Kleeblätter?

Rechnung: _____

Wie viele Blätter haben 5 Kleeblätter?


Rechnung: _____

Wie viele Blätter haben 6 Kleeblätter?

Rechnung: _____

Wie viele Blätter haben 7 Kleeblätter?

Rechnung: _____



Aufgabe

Schneide die unten stehenden Marienkäfer aus. Klebe die Marienkäfer zu den Aufgaben. Schreibe eine Malaufgabe und ihre Lösung auf.

Beispiel: Ein Marienkäfer hat 8 Punkte.

Rechnung: $1 \cdot 8 = 8$

3 Marienkäfer haben ____ Punkte.

Rechnung: _____

4 Marienkäfer haben ____ Punkte.

Rechnung: _____

9 Marienkäfer haben ____ Punkte.

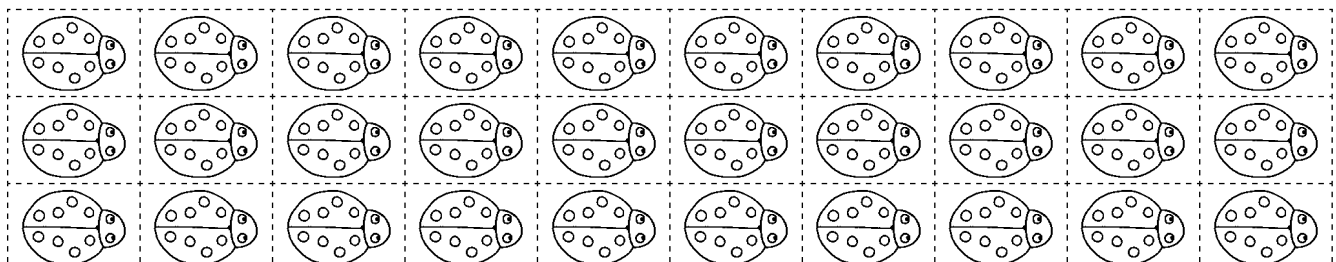
Rechnung: _____

6 Marienkäfer haben ____ Punkte.


Rechnung: _____

8 Marienkäfer haben ____ Punkte.

Rechnung: _____




Aufgabe



Wie viele Beine haben die 5 Giraffen?

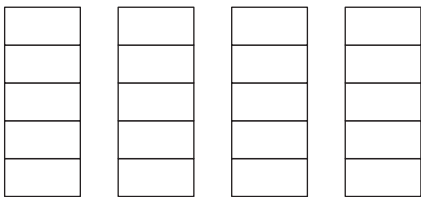
$5 \cdot 4$ Giraffenbeine = 20 Giraffenbeine.



Koray und Sofie sind im Zoo. Sie schauen sich die vielen Gehege an. Schreibe passende Malaufgaben aus der 4er- und der 8er-Reihe auf und rechne sie aus.

Aufgaben

Du hast 20 Bauklötze.
 Baue damit 4 Türme.
 Schreibe deine Rechnung auf.
 Zum Beispiel so:



Rechnung: $20 : 4 = 5$

1. Du hast 16 Bauklötze. Baue damit 4 Türme.

Rechnung: _____

2. Du hast 16 Bauklötze. Baue damit 8 Türme.

Rechnung: _____

3. Du hast 24 Bauklötze. Baue damit 8 Türme.

Rechnung: _____

4. Du hast 28 Bauklötze. Baue damit 4 Türme.

Rechnung: _____

5. Du hast 32 Bauklötze. Baue damit 8 Türme.

Rechnung: _____


6. Suche dir einen Partner. Gib ihm eine Anzahl an Bauklötzen und sage ihm, wie viele Türme er bauen soll. Dein Partner soll deine Aufgabe mit Bauklötzen legen und aufschreiben.

Rechnung: _____

Aufgabe

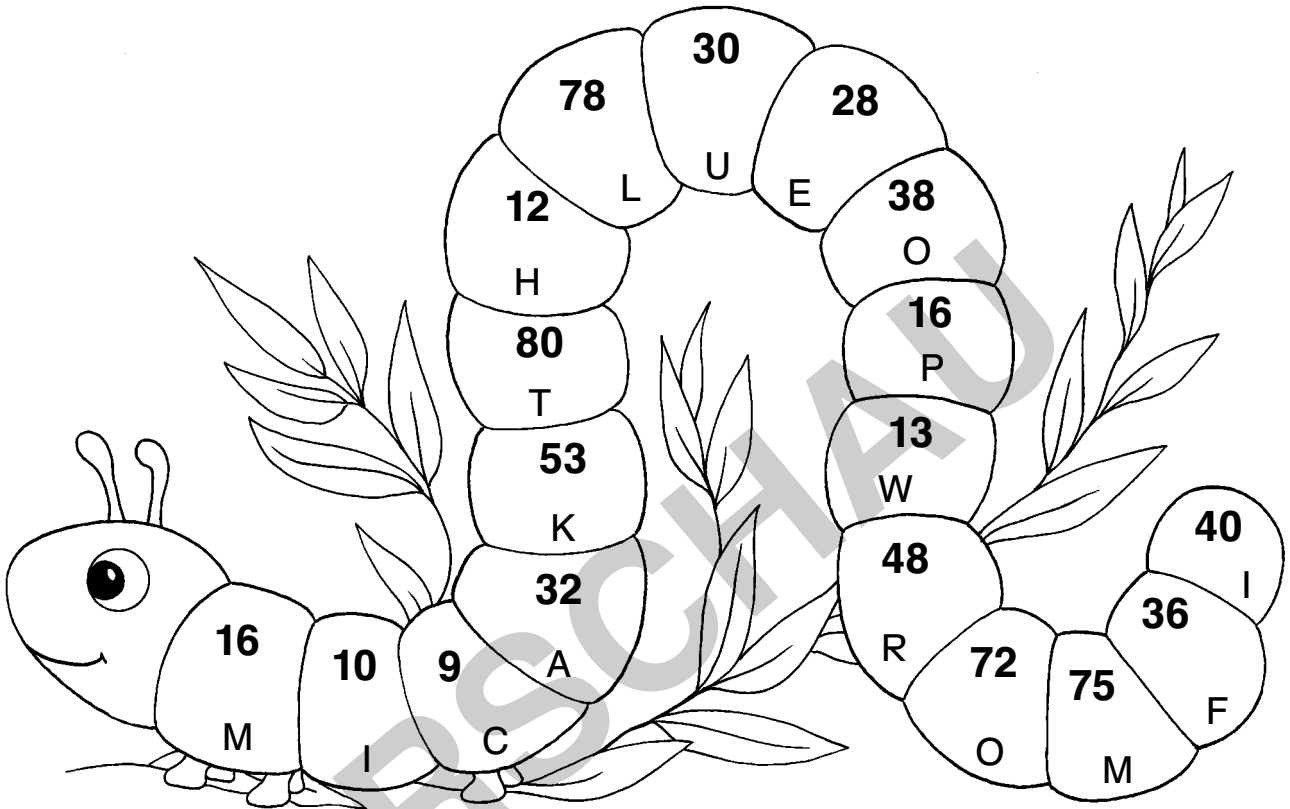
Löse die Aufgaben und male die Felder an. Färbe so, wie es angegeben ist.

64 → schwarz	10 → rosa	4 → grün
5 → braun	36 → blau	16 → grün
48 → weiß	8 → blau	32 → grün
7 → braun	3 → blau	12 → grün
20 → braun	40 → blau	6 → rosa



Aufgabe

Finde die Zahlen, die zur 4er- und 8er-Reihe gehören. Male sie an und schreibe das Lösungswort auf.



Lösungswort:
