


Name: _____


Klasse: _____


Datum: _____


Übungsaufgaben zum 1·1 der 2 **Zahl** · 2 + **Zahl** →


Nimm die weiße Zahl mit 2 mal und zähle dann die nebenstehende schwarze Zahl dazu! Schreibe die Lösungen in die leeren Felder bei den Aufgaben! Male im Kontrollfeld die Lösungsfelder in den angegebenen Farben aus!


A  → rot

B  → gelb

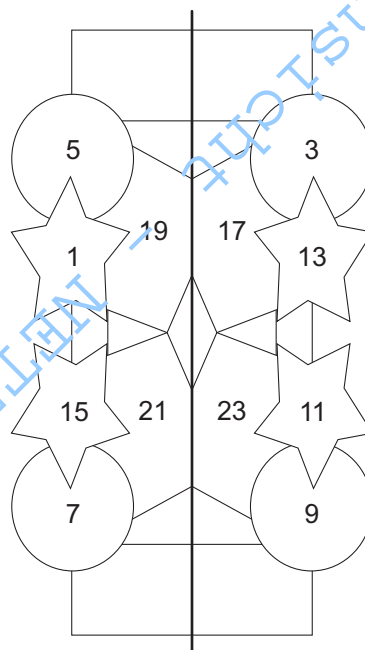
C  → blau


D  → rot


E  → gelb


F  → blau


Kontrollfeld





G  → rot


H  → gelb

I  → blau

J  → rot

K  → gelb

L  → blau



Name: _____

Klasse: _____

Datum: _____

Übungsaufgaben zum 1·1 der 6 **Zahl** · 2 + **Zahl** ⇒

Nimm die weiße Zahl mit 6 mal und zähle dann die nebenstehende schwarze Zahl dazu! Schreibe die Lösungen in die leeren Felder bei den Aufgaben! Male im Kontrollfeld die Lösungsfelder farbig aus!

A 1 1 ⇒

B 4 2 ⇒

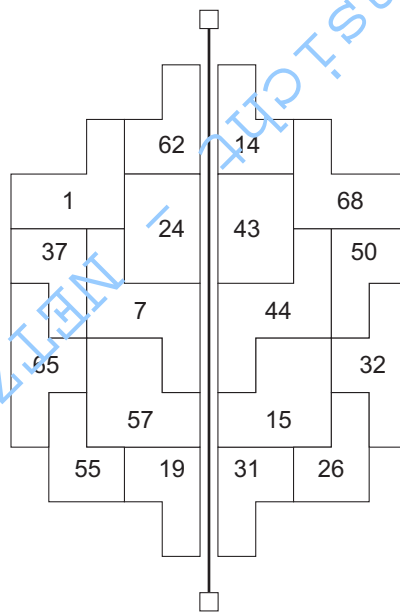
C 6 1 ⇒

D 2 2 ⇒

E 5 1 ⇒

F 10 2 ⇒

Kontrollfeld



G 9 1 ⇒

H 7 2 ⇒

I 0 1 ⇒

J 8 2 ⇒

K 3 1 ⇒

L 11 2 ⇒



Name: _____

Klasse: _____

Datum: _____

Übungsaufgaben zum 1:1 der 3 **Zahl** : 3 + **Zahl** ⇒

Teile die weiße Zahl durch 3 und zähle dann die nebenstehende schwarze Zahl dazu! Schreibe die Lösungen in die leeren Felder bei den Aufgaben! Male im Kontrollfeld eine gerade Linie von dem Aufgabenbuchstaben zur Lösungszahl!

A **12** **20** ⇒

B **27** **10** ⇒

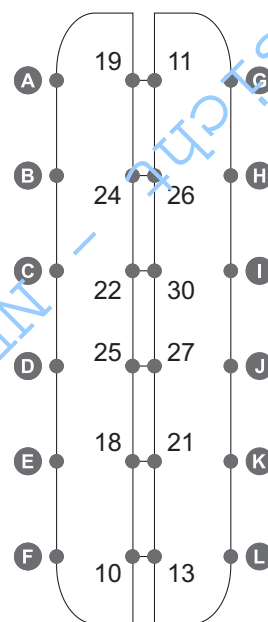
C **6** **20** ⇒

D **0** **10** ⇒

E **15** **20** ⇒

F **24** **10** ⇒

Kontrollfeld



G **18** **20** ⇒

H **3** **10** ⇒

I **30** **20** ⇒

J **9** **10** ⇒

K **21** **20** ⇒

L **33** **10** ⇒



Name: _____

Klasse: _____

Datum: _____

Übungsaufgaben zum 1:1 der 9 **Zahl** : 9 + **Zahl** ⇒

Teile die weiße Zahl durch 9 und zähle dann die nebenstehende schwarze Zahl dazu! Schreibe die Lösungen in die leeren Felder bei den Aufgaben! Male im Kontrollfeld eine gerade Linie von dem Aufgabenbuchstaben zur Lösungszahl!

A	36	20	⇒	<input type="text"/>
B	81	10	⇒	<input type="text"/>
C	18	20	⇒	<input type="text"/>
D	0	10	⇒	<input type="text"/>
E	45	20	⇒	<input type="text"/>
F	72	10	⇒	<input type="text"/>

Kontrollfeld

A	22	30	G
B	10	13	H
C	24	26	I
D	19	11	J
E	18	21	K
F	25	27	L

☺ ☹ ☹

G	54	20	⇒	<input type="text"/>
H	9	10	⇒	<input type="text"/>
I	90	20	⇒	<input type="text"/>
J	27	10	⇒	<input type="text"/>
K	63	20	⇒	<input type="text"/>
L	99	10	⇒	<input type="text"/>

Name: _____

Klasse: _____

Datum: _____

Gemischte Aufgaben zum 1:1-2 **Zahl : Zahl + Zahl** ⇒

Teile die erste weiße Zahl durch die zweite weiße Zahl und zähle dann die schwarze Zahl dazu! Schreibe die Lösungen in die Felder bei den Aufgaben! Male im Kontrollfeld eine gerade Linie von dem Aufgabenbuchstaben zur Lösungszahl!

A $27 : 9 + 20 \Rightarrow$

B $6 : 6 + 10 \Rightarrow$

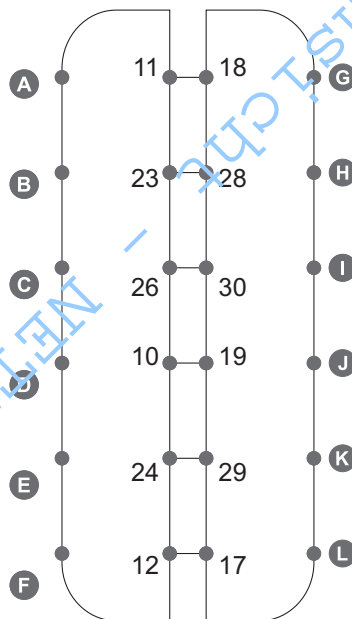
C $24 : 4 + 20 \Rightarrow$

D $10 : 5 + 10 \Rightarrow$

E $28 : 7 + 20 \Rightarrow$

F $0 : 3 + 10 \Rightarrow$

Kontrollfeld



G $40 : 5 + 20 \Rightarrow$

H $72 : 9 + 10 \Rightarrow$

I $40 : 4 + 20 \Rightarrow$

J $49 : 7 + 10 \Rightarrow$

K $54 : 6 + 20 \Rightarrow$

L $18 : 2 + 10 \Rightarrow$

