




Mein Name / Datum

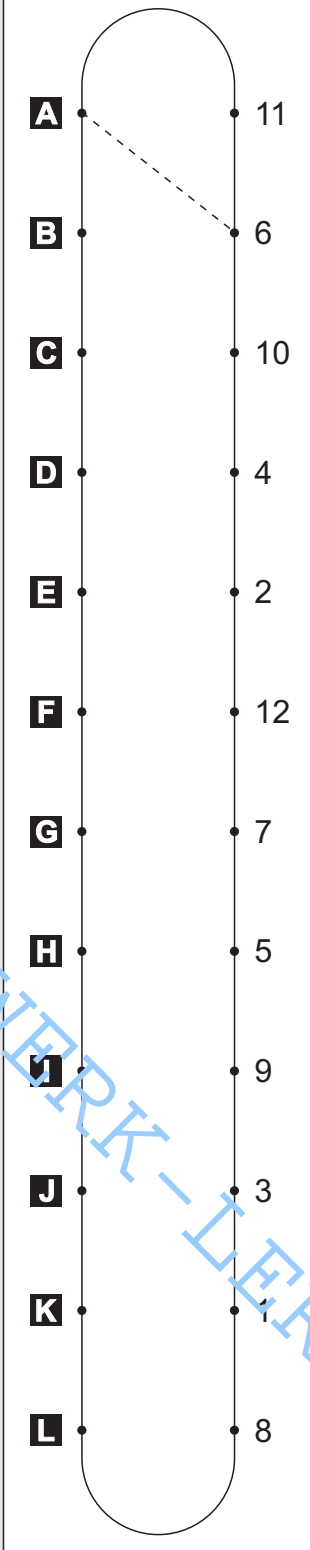
Wo ist das gleiche Muster? 1

Suche zu jeder Aufgabe von **A** bis **L** die passende Lösung. Schreibe die zugehörige Lösungszahl in das Feld unter der Aufgabe. Zeichne dann im Kontrollfeld eine gerade Linie von dem Aufgabenbuchstaben zur Lösungszahl.

Aufgaben

A  6	B 	C 	D 
E 	F 	G 	H 
I 	J 	K 	L 













Kontrollfeld



A	11
B	6
C	10
D	4
E	2
F	12
G	7
H	5
I	9
J	3
K	1
L	8

2

Lösungen

 1	 2	 3	 4
 5	 6	 7	 8
 9	 10	 11	 12



Mein Name / Datum

Wo ist das gleiche Muster? 2 (L)

Suche zu jeder Aufgabe von **A** bis **L** die passende Lösung. Schreibe die zugehörige Lösungszahl in das Feld unter der Aufgabe. Zeichne dann im Kontrollfeld eine gerade Linie von dem Aufgabenbuchstaben zur Lösungszahl.

Aufgaben

A 10	B 4	C 8	D 2
E 7	F 5	G 1	H 11
I 6	J 12	K 9	L 3

Kontrollfeld

A vertical line with 12 points labeled A through L. Dashed lines connect the points in a diamond pattern: A to 8, B to 2, C to 10, D to 4, E to 1, F to 11, G to 7, H to 5, I to 9, J to 3, K to 6, and L to 12.

5

Lösungen

 1	 2	 3	 4
 5	 6	 7	 8
 9	 10	 11	 12