




Geometrische Formen erkennen

① Wie heißen diese Formen?

Ordne die Begriffe den Zeichnungen richtig zu.
Schreibe das Wort unter die Zeichnung.

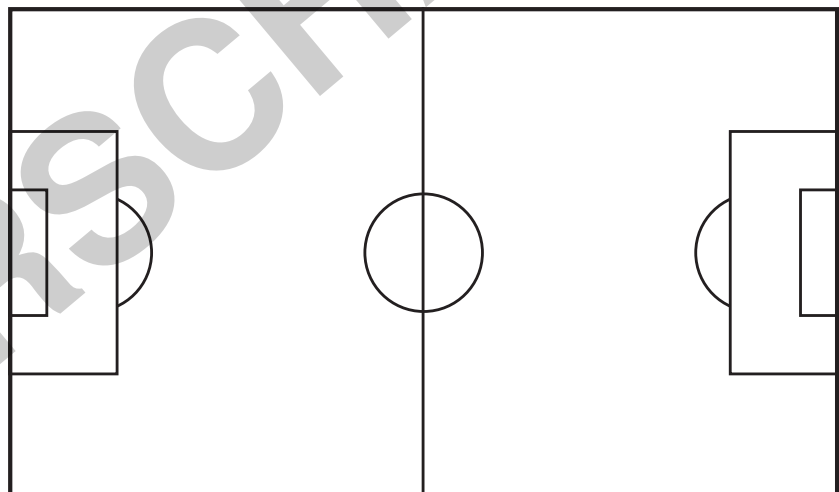
Kreis – Halbkreis – Rechteck – Quadrat



② Wie viele ... findest du?

Zähle nach und trage die richtige Anzahl ein.

- a) Rechtecke _____
- b) Kreise _____
- c) Halbkreise _____
- d) Quadrate _____



③ Messe mit dem Geodreieck:

- a) Wie lang ist die längste Strecke? _____ cm
- b) Wie lang ist die kürzeste Strecke? _____ cm



Elfmeterstatistik


In der abgelaufenen Saison haben die Schiedsrichter insgesamt 45 Elfmeter gegeben. In der Tabelle siehst du die Elfmeterschützinnen.

Name der Spielerin	Anzahl der Versuche	Verwandelte Elfmeter	Oben links	Oben rechts	In der Mitte	Unten links	Unten rechts
1. Maria Schnellfuß	14	7	1	1	1	2	2
2. Carla König	12	9	0	0	2	6	1
3. Bettina Sturm	9	8	4	4	0	0	0
4. Luise Lahm	6	2	1	0	0	1	0
5. Vera Müller	4	4	0	0	4	0	0

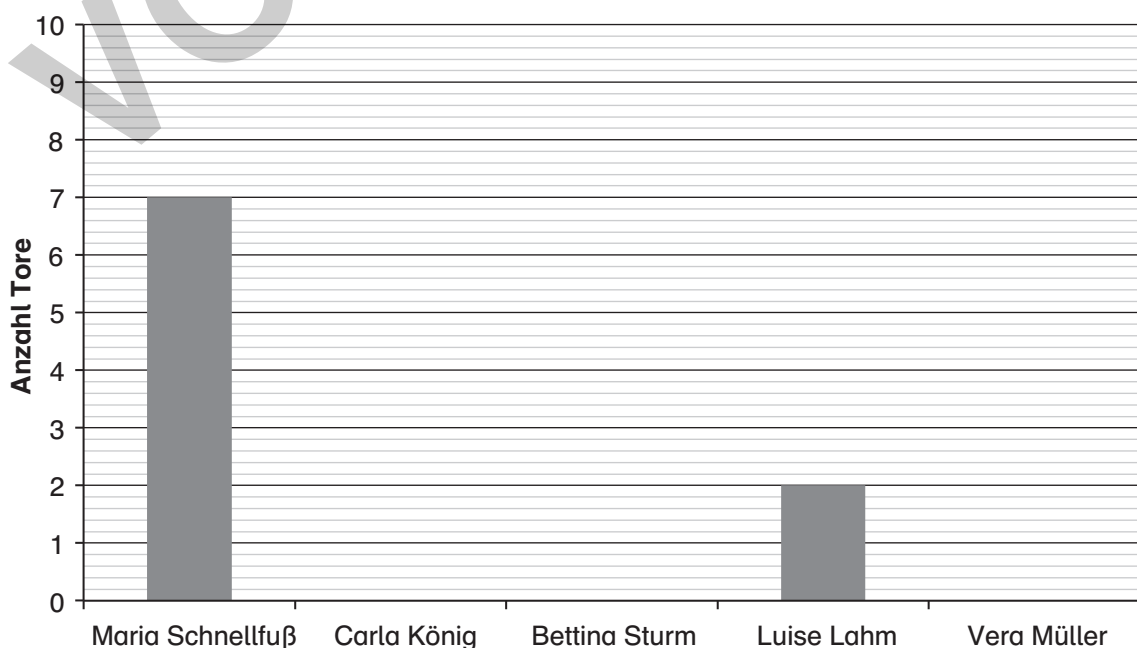
① Beantworte die Fragen:

- Welche Spielerin hat die meisten Elfmeter verwandelt? _____
- Welche Spielerin hat die meisten Versuche gehabt? _____
- Welche Spielerin hat am häufigsten danebengeschossen? _____
- Welche Spielerin hat am seltensten danebengeschossen? _____

② Wo genau im Tor landeten die meisten Bälle? Markiere die Stelle mit einem Kreuz.



③ Vervollständige das Diagramm mithilfe der Tabelle oben.





Fußballrekorde



① Wer landet auf welchem Platz? Hier sollst du die Fußballer nach ihren erzielten Rekorden sortieren. Trage die Plätze von 1 bis 4 ein. Beginne jeweils mit 1 bei der größten Zahl.

a) Ordne diese Fußballer nach Anzahl der Tore.

Jupp Heynckes 220 Tore	Manfred Burgsmüller 213 Tore	Gerd Müller 365 Tore	Klaus Fischer 268 Tore
---------------------------	---------------------------------	-------------------------	---------------------------

Platz _____ Platz _____ Platz _____ Platz _____

b) Ordne diese Fußballer nach Anzahl der Spiele.

Manfred Kaltz 581 Spiele	Oliver Kahn 557 Spiele	Klaus Fichtel 552 Spiele	Karl-Heinz Körbel 602 Spiele
-----------------------------	---------------------------	-----------------------------	---------------------------------

Platz _____ Platz _____ Platz _____ Platz _____

c) Ordne diese Fußballer nach Anzahl der verwandelten Elfmeter.

Horst-Dieter Hötthges 40 Elfmeter	Gerd Müller 51 Elfmeter	Manfred Kaltz 53 Elfmeter	Michael Zorc 49 Elfmeter
--------------------------------------	----------------------------	------------------------------	-----------------------------

Platz _____ Platz _____ Platz _____ Platz _____

② Nun seid ihr an der Reihe! Erstellt eure eigenen Rätsel.

TIPP

Überlege dir selbst, welche Rekorde du noch vergleichen möchtest. Recherchiere dazu im Internet. Zum Beispiel kannst du suchen nach: *deutsche Rekord-Nationalspielerin, älteste Torschützen oder der Spieler mit den meisten Eigentoren.*

Schreibe jeweils die 4 ersten Spielerinnen, Spieler, Mannschaften oder Länder auf und lasse deine Nachbarin oder deinen Nachbarn die Aufgabe lösen.

--	--	--	--

Platz _____ Platz _____ Platz _____ Platz _____



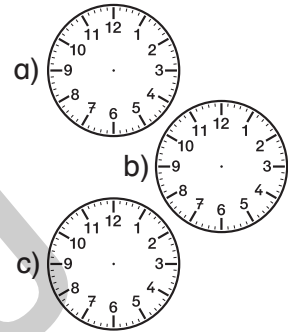
„Der Ball ist rund und das Spiel dauert 90 Minuten!“

① Wie viele Minuten sind ...?

- a) Eine viertel Stunde sind _____ Minuten.
- b) Eine halbe Stunde sind _____ Minuten.
- c) Eine dreiviertel Stunde sind _____ Minuten.

② Zeichne die richtige Zeigerstellung in die Uhr ein.

- a) Das Spiel HSV gegen Dortmund beginnt um halb vier.
- b) Die Partie Wolfsburg gegen München startet um 18:30 Uhr.
- c) Mainz gegen Schalke wird um viertel vor neun angepfiffen.







Ein Fußballspiel dauert **90 Minuten**. Es wird in **zwei Halbzeiten** gespielt, die jeweils **45 Minuten** dauern. Zwischen den Halbzeiten gibt es eine **Pause** von **15 Minuten**.

③ Wann beginnt die zweite Halbzeit?

- a) Das Spiel beginnt um 15:30 Uhr: _____
- b) Heute beginnt die Partie verspätet um zehn nach vier: _____
- c) Um 16:00 Uhr sind schon 20 Minuten gespielt: _____

④ Wann endet die Partie? Der Anpfiff der Partie war um ...

- a) Spielende: _____ Uhr 
- b) Spielende: _____ Uhr 
- c) Spielende: _____ Uhr 
- d) Spielende: _____ Uhr 

- ⑤ Beim Pokalspiel HSV gegen Bremen kommt es zur Verlängerung. Nach der normalen Spielzeit von zweimal 45 Minuten geht das Spiel weiter, da das Ergebnis 1:1 lautet. Die Verlängerung wird in zwei Halbzeiten zu je 15 Minuten gespielt. Der Schiedsrichter gönnt den Spielern eine kurze Pause von fünf Minuten zum Verschlaufen.
Der HSV geht um 19:30 Uhr als Sieger vom Platz.

Wann hat die Verlängerung begonnen? _____

Einsatzmöglichkeiten nach Klassenstufen

	Inhalt	Seite	2. Klasse	3. Klasse	4. Klasse
Mathematik	Der Stadionbesuch ⚽/⚽/⚽ Sachaufgaben, Addition	1	x	x	x
	Geometrische Formen erkennen Geometrie	3		x	x
	Der Fußball ist eine Kugel Körper und deren Eigenschaften erkennen	4		x	x
	Elfmeterstatistik Tabelle auswerten	5		x	x
	Fußball-Ergebnisse vergleichen Zahlen vergleichen	6	x		
	Zuschauerzahlen vergleichen Zahlen vergleichen	7		x	x
	Spielertransfers Textaufgaben Grundrechenarten	8			x
	Fußballrekorde Zahlen nach Größe ordnen	9		x	x
	Rechnen und ausmalen Grundrechenarten	10	x		
	Der lange Weg zum Tor Grundrechenarten	11		x	x
	Fußball-Europameister Diagramm auswerten	12		x	x
	„Der Ball ist rund und das Spiel dauert 90 Minuten!“ Uhrzeiten und Zeiteinheiten üben	13	x	x	

VORSCHAU