
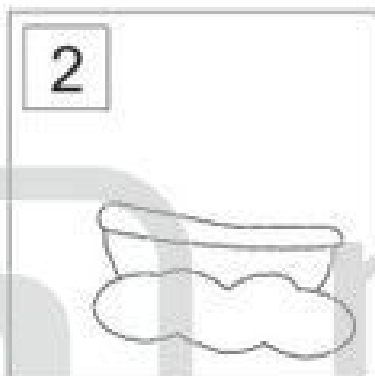
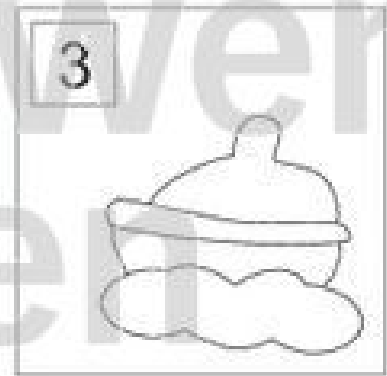
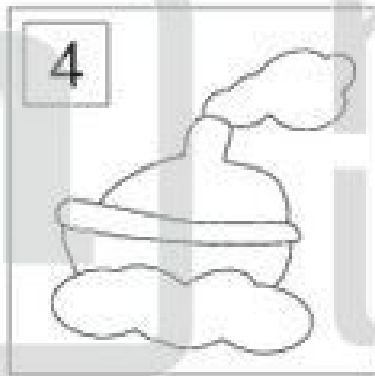



Gesucht: die richtige Reihenfolge! (L)

In welcher Reihenfolge wurde das Bild dieses Schiffes gezeichnet?
 Nummeriere von 1 bis 12!
 Male das fertige Bild farbig aus!



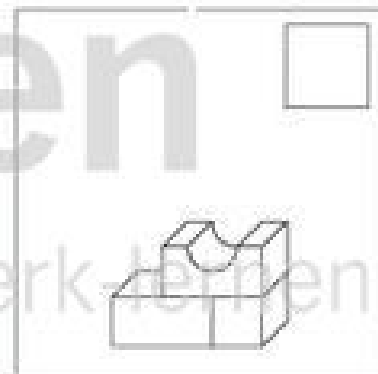
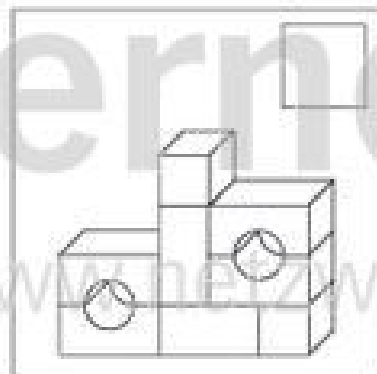
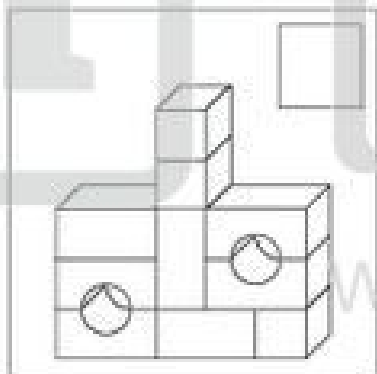
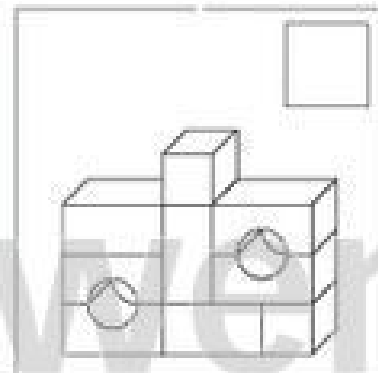
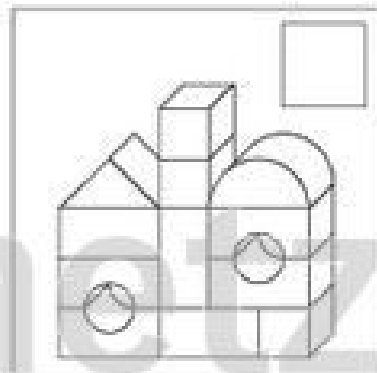
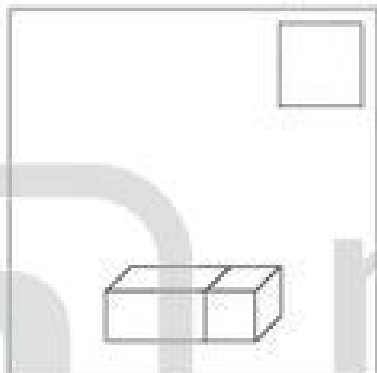
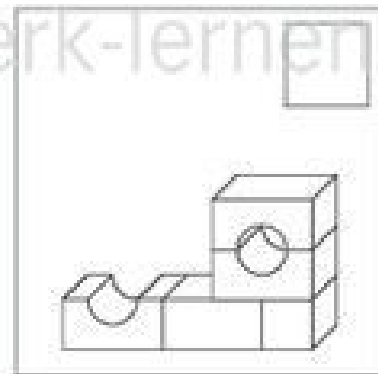
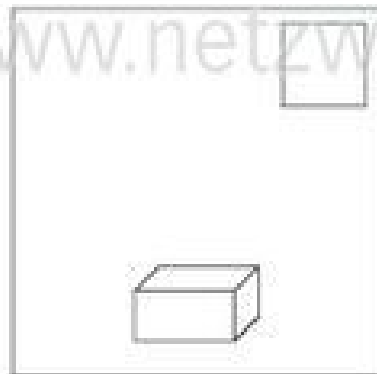
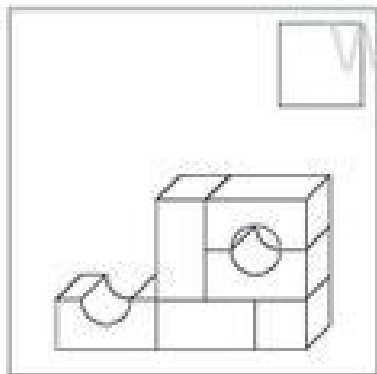
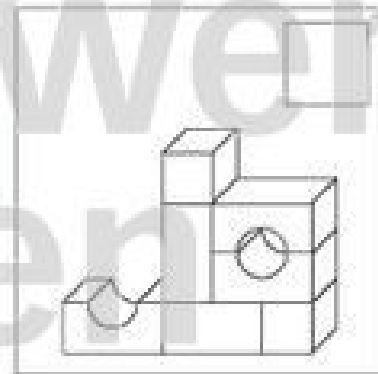
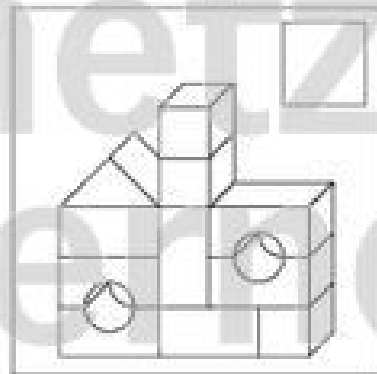
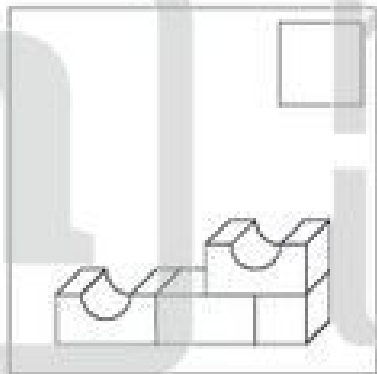
Name

Klasse

Datum

Gesucht: die richtige Reihenfolge!

In welcher Reihenfolge wurde das Bild dieses Bauwerkes gezeichnet? Nummeriere von 1 bis 12! Male das fertige Bild farbig aus!



Michael Jung, Brunschwieg 2010



Gesucht: die richtige Reihenfolge! (L)










In welcher Reihenfolge wurde das Bild dieses Bauwerkes gezeichnet?
 Nummeriere von 1 bis 12!
 Male das fertige Bild farbig aus!













<p>4</p>	<p>11</p>	<p>7</p>
<p>6</p>	<p>1</p>	<p>5</p>
<p>2</p>	<p>12</p>	<p>9</p>
<p>10</p>	<p>8</p>	<p>3</p>

Wo ist das gleiche
Bild?













Suche zu jeder Aufgabe von **A** bis **L** die passende Lösung.
Schreibe die zugehörige Lösungszahl in das Feld unter der Aufgabe.
Zeichne dann im Kontrollfeld eine gerade Linie von dem Aufgaben-
Buchstaben zur Lösungszahl.













Aufgaben				Kontrollfeld	
A 	B 	C 	D 	A	11
E 	F 	G 	H 	B	6
I 	J 	K 	L 	C	10
				D	4
				E	2
				F	12
				G	7
				H	5
				I	9
				J	3
				K	1
				L	8

Lösungen			
			
1	2	3	4
			
5	6	7	8
			
9	10	11	12

Wo ist das gleiche Bild? (L)

Suche zu jeder Aufgabe von **A** bis **L** die passende Lösung. Schreibe die zugehörige Lösungszahl in das Feld unter der Aufgabe. Zeichne dann im Kontrollfeld eine gerade Linie von dem Aufgabenbuchstaben zur Lösungszahl.













Aufgaben			
A  6	B  11	C  4	D  10
E  7	F  5	G  2	H  12
I  3	J  9	K  8	L  1













Lösungen			
 1	 2	 3	 4
 5	 6	 7	 8
 9	 10	 11	 12

Kontrollfeld	
A	11
B	6
C	10
D	4
E	2
F	12
G	7
H	5
I	9
J	3
K	1
L	8

Wo ist das gleiche Bild?

Suche zu jeder Aufgabe von **A** bis **L** die passende Lösung. Schreibe die zugehörige Lösungszahl in das Feld unter der Aufgabe. Zeichne dann im Kontrollfeld eine gerade Linie von dem Aufgabenbuchstaben zur Lösungszahl.













Aufgaben				Kontrollfeld	
A 	B 	C 	D 	A	8
E 	F 	G 	H 	B	2
I 	J 	K 	L 	C	10
				D	4
				E	1
				F	11
				G	7
				H	5
				I	9
				J	3
				K	6
				L	12

Lösungen			
 1	 2	 3	 4
 5	 6	 7	 8
 9	 10	 11	 12













Wo ist das gleiche Bild? (L)

Suche zu jeder Aufgabe von **A** bis **L** die passende Lösung. Schreibe die zugehörige Lösungszahl in das Feld unter der Aufgabe. Zeichne dann im Kontrollfeld eine gerade Linie von dem Aufgabenbuchstaben zur Lösungszahl.

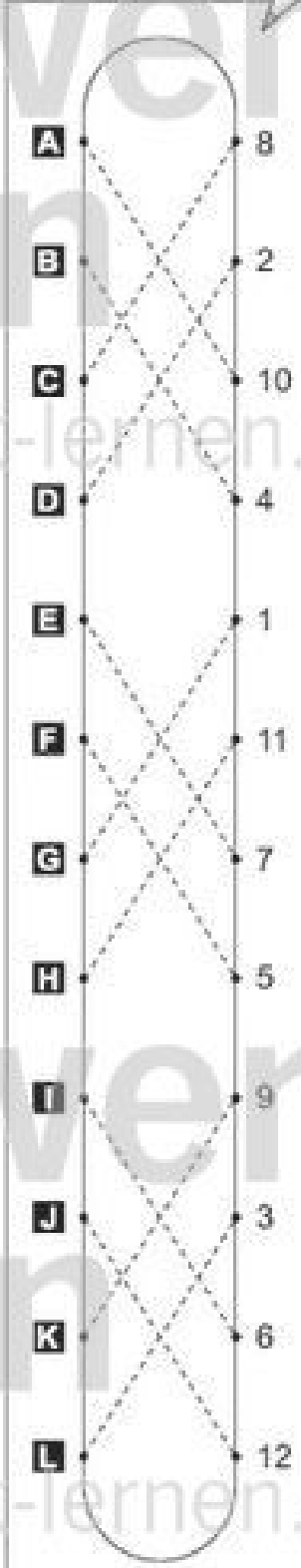
Aufgaben

A  10	B  4	C  8	D  2
E  7	F  5	G  1	H  11
I  6	J  12	K  9	L  3

Lösungen

 1	 2	 3	 4
 5	 6	 7	 8
 9	 10	 11	 12

Kontrollfeld















A	8
B	2
C	10
D	4
E	1
F	11
G	7
H	5
I	9
J	3
K	6
L	12













Wo ist das gleiche Bild?

Suche zu jeder Aufgabe von **A** bis **L** die passende Lösung.
Schreibe die zugehörige Lösungszahl in das Feld unter der Aufgabe.
Zeichne dann im Kontrollfeld eine gerade Linie von dem Aufgabenbuchstaben zur Lösungszahl.

Aufgaben

A 	B 	C 	D 
E 	F 	G 	H 
I 	J 	K 	L 

Lösungen

 1	 2	 3	 4
 5	 6	 7	 8
 9	 10	 11	 12

Kontrollfeld

A	12
B	6
C	3
D	9
E	1
F	5
G	7
H	11
I	4
J	10
K	2
L	8

Wo ist das gleiche Bild? (L)

Suche zu jeder Aufgabe von **A** bis **L** die passende Lösung. Schreibe die zugehörige Lösungszahl in das Feld unter der Aufgabe. Zeichne dann im Kontrollfeld eine gerade Linie von dem Aufgabenbuchstaben zur Lösungszahl.

Aufgaben

A 6	B 12	C 9	D 3
E 7	F 11	G 1	H 5
I 10	J 4	K 8	L 2

Lösungen

 1	 2	 3	 4
 5	 6	 7	 8
 9	 10	 11	 12

Kontrollfeld

A	12
B	6
C	3
D	9
E	1
F	5
G	7
H	11
I	4
J	10
K	2
L	8

Zeichne nach!

Zeichne das Bild dieser Eule unten in das große Feld und male es in deinen Lieblingsfarben aus!

