



Name: \_\_\_\_\_

Klasse: \_\_\_\_\_

Datum: \_\_\_\_\_

## 2. Aufgaben vom Typ

$$A - B + C = \underline{\quad}$$

Übertrage die Aufgaben aus den Tabellen unten in die freien Felder und rechne sie aus! Verbinde rechts jede Aufgabennummer mit der zugehörigen Lösungszahl! Wenn du alles richtig rechnest, entsteht im Kontrollbild ein symmetrisches Muster.

Kontrollbild

-	30	40	50	+	-	30	40	50	+
470	5	4		20	760	9		11	10
360		2			650		10		
670		6	1	30	960		12	8	20
560			3		750		7		

1	670-50+30=	2	360-40+
3	560-	4	
5		6	
7		8	
9		10	
11		12	

1

2

3

4

5

6

7

8

9

10

11

12

540

450

650

340

660

460

930

730

720

940

740

620

© michaeljung@t-online.de





Name: \_\_\_\_\_

Klasse: \_\_\_\_\_

Datum: \_\_\_\_\_

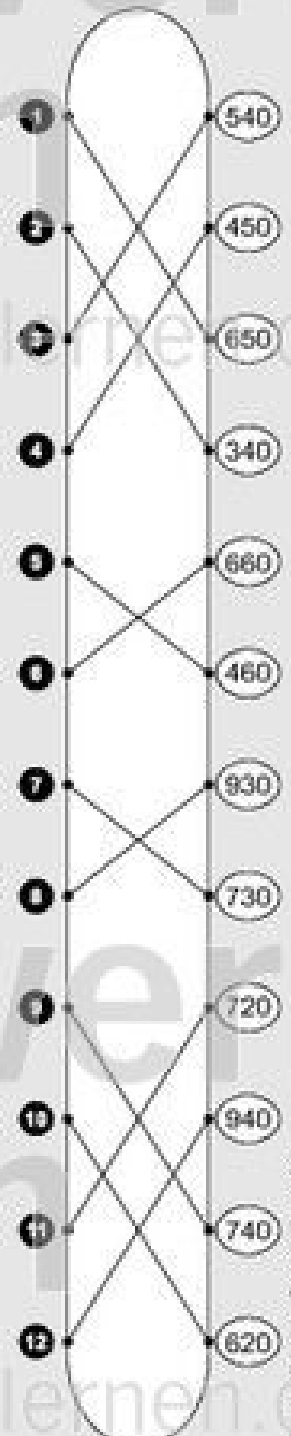
## 2. Aufgaben vom Typ A-B+C=\_\_\_ (Lösung)

Übertrage die Aufgaben aus den Tabellen unten in die freien Felder und rechne sie aus! Verbinde rechts jede Aufgabennummer mit der zugehörigen Lösungszahl! Wenn du alles richtig rechnest, entsteht im Kontrollbild ein symmetrisches Muster.

Kontrollbild

-	30	40	50	+	-	30	40	50	+
470	5	4		20	760	9		11	10
360		2			650		10		
670		6	1	30	960		12	8	20
560			3		750		7		

<b>1</b> $670-50+30=650$	<b>2</b> $360-40+20=340$
<b>3</b> $560-50+30=540$	<b>4</b> $470-40+20=450$
<b>5</b> $470-30+20=460$	<b>6</b> $670-40+30=660$
<b>7</b> $750-40+20=730$	<b>8</b> $960-50+20=930$
<b>9</b> $760-30+10=740$	<b>10</b> $650-40+10=620$
<b>11</b> $760-50+10=720$	<b>12</b> $960-40+20=940$



© michaeljung@t-online.de



Name: \_\_\_\_\_

Klasse: \_\_\_\_\_

Datum: \_\_\_\_\_

### 3. Aufgaben vom Typ

$$A+B-C= \underline{\quad}$$

Übertrage die Aufgaben aus den Tabellen unten in die freien Felder und rechne sie aus! Schreibe rechts zu jeder Aufgabennummer den zugehörigen Kennbuchstaben! Setze dann aus den jeweils vier Buchstaben ein Lösungswort zusammen!

Lösungen mit Kennbuchstaben

+	120	230	340	-	+	140	250	360	-
410	2		5	10	330	8		12	30
320		4			220	11			
630			6	20	530	10		7	40
520	3	1			320		9		

330	440	520
K	K	E
530	540	620
S	T	B
630	660	730
U	S	T
740	850	950
A	M	M

1 520+230-20=	2 410+120-
3 520+	4
5	6
7	8
9	10
11	12

Kennbuchstaben

1 2 3 4


Lösungswort

Kennbuchstaben

5 6 7 8


Lösungswort

Kennbuchstaben

9 10 11 12


Lösungswort



Name: \_\_\_\_\_

Klasse: \_\_\_\_\_

Datum: \_\_\_\_\_

### 3. Aufgaben vom Typ A+B-C=\_\_\_ (Lösung)

Übertrage die Aufgaben aus den Tabellen unten in die freien Felder und rechne sie aus! Schreibe rechts zu jeder Aufgabennummer den zugehörigen Kennbuchstaben! Setze dann aus den jeweils vier Buchstaben ein Lösungswort zusammen!

+	120	230	340	-
410	<b>2</b>		<b>5</b>	10
320		<b>4</b>		
630			<b>6</b>	20
520	<b>3</b>	<b>1</b>		

+	140	250	360	-
330	<b>8</b>		<b>12</b>	30
220	<b>11</b>			
530	<b>10</b>		<b>7</b>	40
320		<b>9</b>		

<b>1</b> $520+230-20=730$	<b>2</b> $410+120-10=520$
<b>3</b> $520+120-20=620$	<b>4</b> $320+230-10=540$
<b>5</b> $410+340-10=740$	<b>6</b> $630+340-20=950$
<b>7</b> $530+360-40=850$	<b>8</b> $330+140-30=440$
<b>9</b> $320+250-40=530$	<b>10</b> $530+140-40=630$
<b>11</b> $220+140-30=330$	<b>12</b> $330+360-30=660$

Lösungen mit  
Kennbuchstaben

330	440	520
K	K	E
530	540	620
S	T	B
630	660	730
U	S	T
740	850	950
A	M	M

Kennbuchstaben

<b>1</b>	<b>2</b>	<b>3</b>	<b>4</b>
T	E	B	T
B	E	T	T

Lösungswort

Kennbuchstaben

<b>5</b>	<b>6</b>	<b>7</b>	<b>8</b>
A	M	M	K
K	A	M	M

Lösungswort

Kennbuchstaben

<b>9</b>	<b>10</b>	<b>11</b>	<b>12</b>
S	U	K	S
K	U	S	S

Lösungswort

(c) michaeljung@t-online.de



Name: \_\_\_\_\_

Klasse: \_\_\_\_\_

Datum: \_\_\_\_\_

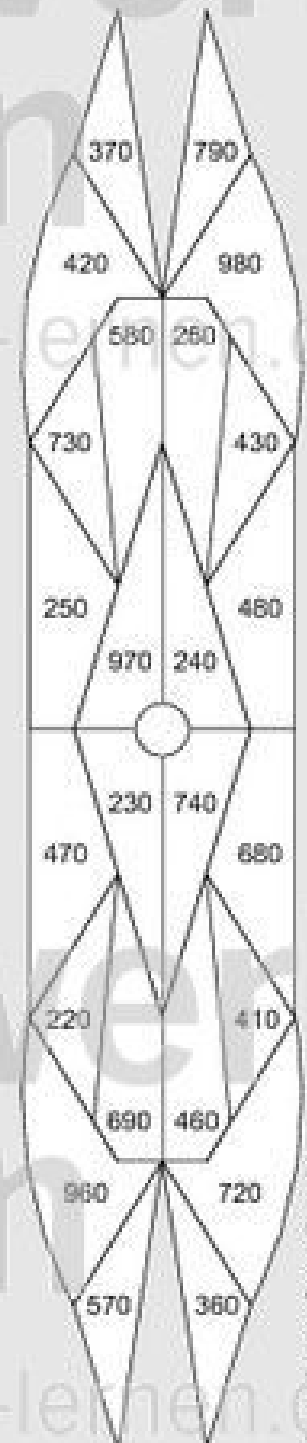
## 4. Aufgaben vom Typ A-B+C=

Übertrage die Aufgaben aus den Tabellen unten in die freien Felder und rechne sie aus! Male rechts im Kontrollbild alle Felder mit den Lösungszahlen farbig aus! Wenn du alles richtig rechnest, entsteht im Kontrollbild ein symmetrisches Muster.

-	120	230	340	+	-	120	230	340	+
590	6	4		10	680	9			20
480		2			570			10	
790	5		1	20	880	8	12		30
680			3		770		7	11	

1 790-340+20=	2 480-230+
3 680-	4
5	6
7	8
9	10
11	12

Kontrollbild



©) michaeltung@t-online.de



Name: \_\_\_\_\_

Klasse: \_\_\_\_\_

Datum: \_\_\_\_\_

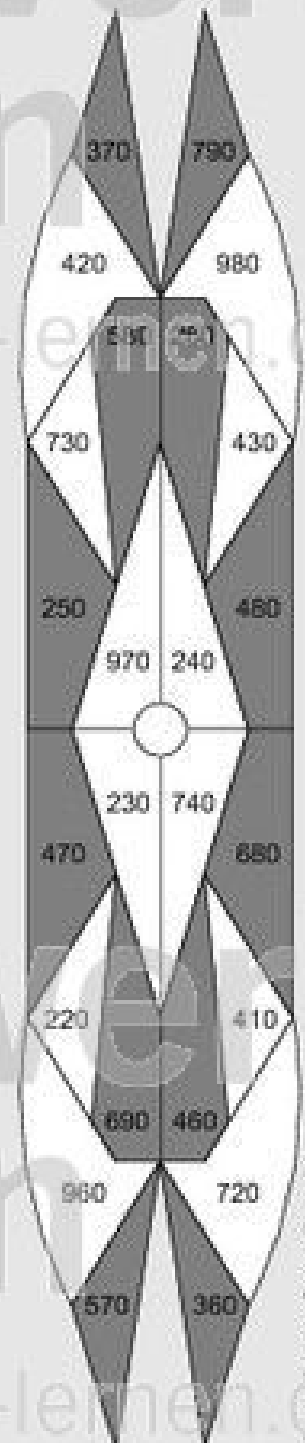
## 4. Aufgaben vom Typ A-B+C=\_\_\_ (Lösung)

Übertrage die Aufgaben aus den Tabellen unten in die freien Felder und rechne sie aus! Male rechts im Kontrollbild alle Felder mit den Lösungszahlen farbig aus! Wenn du alles richtig rechnest, entsteht im Kontrollbild ein symmetrisches Muster.

-	120	230	340	+	-	120	230	340	+
590	6	4		10	680	9			20
480		2			570			10	
790	5		1	20	880	8	12		30
680			3		770		7	11	

<b>1</b> $790 - 340 + 20 = 470$	<b>2</b> $480 - 230 + 10 = 260$
<b>3</b> $680 - 340 + 20 = 360$	<b>4</b> $590 - 230 + 10 = 370$
<b>5</b> $790 - 120 + 20 = 690$	<b>6</b> $590 - 120 + 10 = 480$
<b>7</b> $770 - 230 + 30 = 570$	<b>8</b> $880 - 120 + 30 = 790$
<b>9</b> $680 - 120 + 20 = 580$	<b>10</b> $570 - 340 + 20 = 250$
<b>11</b> $770 - 340 + 30 = 460$	<b>12</b> $880 - 230 + 30 = 680$

Kontrollbild



©) michaeltung@t-online.de



Name: \_\_\_\_\_

Klasse: \_\_\_\_\_

Datum: \_\_\_\_\_

## 5. Aufgaben vom Typ

$$A+B-C= \underline{\quad}$$

Übertrage die Aufgaben aus den Tabellen unten in die freien Felder und rechne sie aus! Verbinde rechts jede Aufgabennummer mit der zugehörigen Lösungszahl! Wenn du alles richtig rechnest, entsteht im Kontrollbild ein symmetrisches Muster.

Kontrollbild

+	140	260	350	-	+	170	250	360	-
290	2	5		80	180	8		12	90
380		4			290	11			
460			6	90	370	10		7	80
570	3	1			460		9		

1	570+260-90=	2	290+140-
3	570+	4	
5		6	
7		8	
9		10	
11		12	

1

2

3

4

5

6

7

8

9

10

11

12

620

560

740

350

260

650

720

470

370

450

630

480

© michaeljung@t-online.de





Name: \_\_\_\_\_

Klasse: \_\_\_\_\_

Datum: \_\_\_\_\_

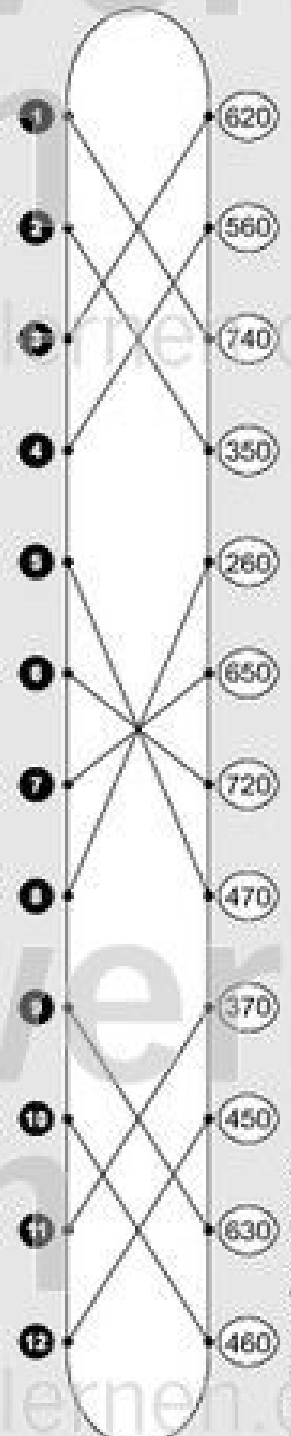
## 5. Aufgaben vom Typ A+B-C=\_\_\_ (Lösung)

Übertrage die Aufgaben aus den Tabellen unten in die freien Felder und rechne sie aus! Verbinde rechts jede Aufgabennummer mit der zugehörigen Lösungszahl! Wenn du alles richtig rechnest, entsteht im Kontrollbild ein symmetrisches Muster.

Kontrollbild

+	140	260	350	-	+	170	250	360	-
290	<b>2</b>	<b>5</b>		80	180	<b>8</b>		<b>12</b>	90
380		<b>4</b>			290	<b>11</b>			
460			<b>6</b>	90	370	<b>10</b>		<b>7</b>	80
570	<b>3</b>	<b>1</b>			460		<b>9</b>		

<b>1</b> $570+260-90=740$	<b>2</b> $290+140-80=350$
<b>3</b> $570+140-90=620$	<b>4</b> $380+260-80=560$
<b>5</b> $290+260-80=470$	<b>6</b> $460+350-90=720$
<b>7</b> $370+360-80=650$	<b>8</b> $180+170-90=260$
<b>9</b> $460+250-80=630$	<b>10</b> $370+170-80=460$
<b>11</b> $290+170-90=370$	<b>12</b> $180+360-90=450$



© michaelung@t-online.de

netzwerk  
lernen

zur Vollversion