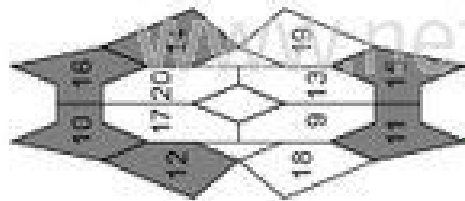


Plusaufgaben mit 6, 7, 8 und 9 (Lösung)

Rechne die Aufgaben aus und schreibe die Lösungen auf! Male links die Felder mit den Lösungszahlen farbig aus!

1 → 6



2 → 6

$$9 + 6 = 15$$


3 → 6

$$8 + 8 = 16$$

5 → 6

$$4 + 6 = 10$$

7 → 12



8 → 6

$$18 = 9 + 8$$

9 → 10

$$11 = 5 + 6$$

10 → 12

$$15 = 7 + 8$$

$$12 = 3 + 9$$

Plusaufgaben mit 6, 7, 8 und 9 (Lösung)

Rechne die Aufgaben aus und schreibe die Lösungen auf! Male rechts die Felder mit den Lösungszahlen farbig aus!

2 → 6

$$6 + 6 = 12$$

4 → 6

$$5 + 8 = 13$$

6 → 6

$$8 + 7 = 15$$

8 → 12

$$14 = 6 + 8$$

10 → 12

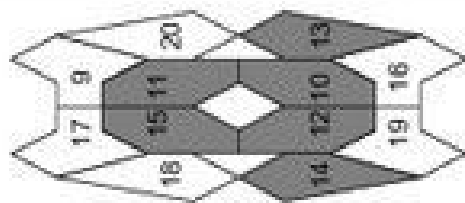
$$13 = 7 + 6$$

12 → 12

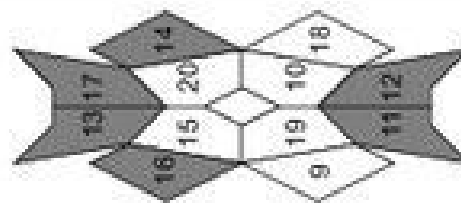
$$12 = 4 + 8$$

$$17 = 8 + 9$$

1 → 6



7 → 12

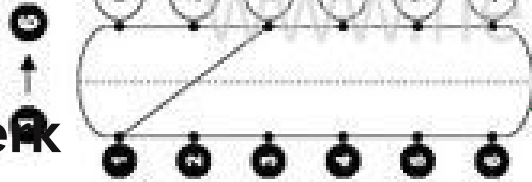


Klasse

Name

Minusaufgaben mit 6, 7, 8 und 9

Rechne die Aufgaben aus und schreibe die Lösungen auf! Verbinde links die Aufgabennummern mit den Lösungszahlen!



1  $12 - 6 = 5$  2

3  $14 - 8 =$  4

6  $15 - 6 =$  6



7  $= 13 - 8$  8  $= 11 - 9$

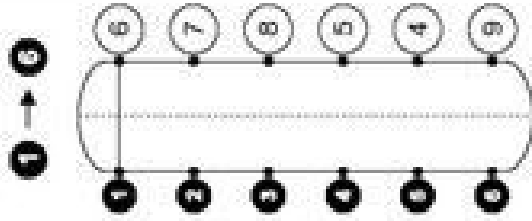
9  $= 14 - 6$  10  $= 11 - 7$

10  $= 17 - 8$  12  $= 12 - 9$

Klasse

Minusaufgaben mit 6, 7, 8 und 9

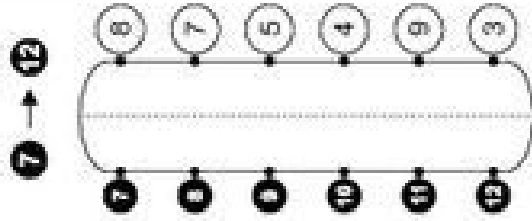
Rechne die Aufgaben aus und schreibe die Lösungen auf! Verbinde rechts die Aufgabennummern mit den Lösungszahlen!



1  $12 - 6 = 6$  2  $11 - 7 =$

3  $13 - 8 =$  4  $17 - 9 =$

6  $13 - 6 =$  6  $16 - 7 =$



7  $= 16 - 8$  8  $= 13 - 9$

9  $= 11 - 6$  10  $= 14 - 7$

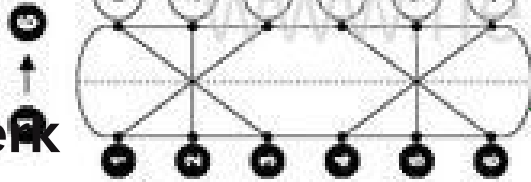
11  $= 11 - 8$  12  $= 18 - 9$

Klasse

Name

Minusaufgaben mit 6, 7, 8 und 9 (Lösung)

Rechne die Aufgaben aus und schreibe die Lösungen auf! Verbinde links die Aufgabennummern mit den Lösungszahlen!



1  $12 - 6 = 5$  2  $15 - 7 = 8$

3  $14 - 8 = 6$  4  $13 - 9 = 4$

5  $15 - 6 = 9$  6  $14 - 7 = 7$

7  $5 = 13 - 8$  8  $2 = 11 - 9$

9  $8 = 14 - 6$  10  $4 = 11 - 7$

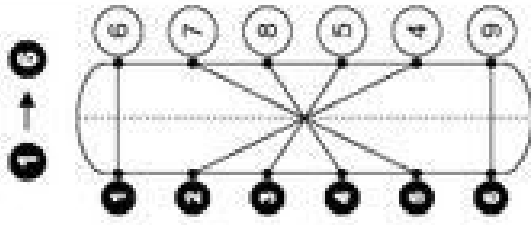
11  $9 = 17 - 8$  12  $3 = 12 - 9$

© Michael Jung, Braunschweig 2010

Klasse

Minusaufgaben mit 6, 7, 8 und 9 (Lösung)

Rechne die Aufgaben aus und schreibe die Lösungen auf! Verbinde rechts die Aufgabennummern mit den Lösungszahlen!



1  $12 - 6 = 6$  2  $11 - 7 = 4$

3  $13 - 8 = 5$  4  $17 - 9 = 8$

5  $13 - 6 = 7$  6  $16 - 7 = 9$

7  $8 = 16 - 8$  8  $4 = 13 - 9$

9  $5 = 11 - 6$  10  $7 = 14 - 7$

11  $3 = 11 - 8$  12  $9 = 18 - 9$

© Michael Jung, Braunschweig 2010

Klasse

Name

Plus und Minus mit 6, 7, 8 und 9

Rechne die Aufgaben aus und schreibe die Lösungen auf! Zeichne links Kreise um die Lösungszahlen! Male die Kreise farbig aus!

1 → 3

9		
8	12	7
16	11	13
14	15	6
17		

1

5 + 6 = 11

2

7 + 7 =

3

15 - 6 =

4

13 - 7 =

5

4 + 8 =

6

6 + 9 =

7 → 12

8		
11	4	
2	3	
15	16	
14		

7

= 12 - 8

8

= 11 - 9

9

= 6 + 6

10

= 9 + 7

11

= 14 - 6

12

= 12 - 7

Klasse

Plus und Minus mit 6, 7, 8 und 9

Rechne die Aufgaben aus und schreibe die Lösungen auf! Zeichne rechts Kreise um die Lösungszahlen! Male die Kreise farbig aus!

1

9 + 6 = 15

2

5 + 7 =

3

12 - 6 =

4

16 - 7 =

5

6 + 8 =

6

2 + 9 =

7

= 13 - 8

8

= 17 - 9

9

= 5 + 6

10

= 6 + 7

11

= 13 - 6

12

= 11 - 7

1 → 3

5		
11	6	15
16	14	13
3	12	4
9		

7 → 12

12		
5	10	7
4	13	8
9	11	6
14		

Klasse

Name

### Plus und Minus mit 6, 7, 8 und 9 (Lösung)

Rechne die Aufgaben aus und schreibe die Lösungen auf! Zeichne links Kreise um die Lösungszahlen! Male die Kreise farbig aus!

1 → 3

8	12	7
16	11	13
14	15	6
17		

1

$5 + 6 = 11$

2

$7 + 7 = 14$

3

$15 - 6 = 9$

4

$13 - 7 = 6$

5

$4 + 8 = 12$

6

$6 + 9 = 15$

7

$4 = 12 - 8$

8

$2 = 11 - 9$

9

$12 = 6 + 6$

10

$16 = 9 + 7$

11

$8 = 14 - 6$

12

$5 = 12 - 7$

© Metakanga Braunschweig 2010

Klasse

### Plus und Minus mit 6, 7, 8 und 9 (Lösung)

Rechne die Aufgaben aus und schreibe die Lösungen auf! Zeichne rechts Kreise um die Lösungszahlen! Male die Kreise farbig aus!

1

$9 + 6 = 15$

2

$5 + 7 = 12$

3

$12 - 6 = 6$

4

$16 - 7 = 9$

5

$6 + 8 = 14$

6

$2 + 9 = 11$

7

$5 = 13 - 8$

8

$8 = 17 - 9$

9

$11 = 5 + 6$

10

$13 = 6 + 7$

11

$7 = 13 - 6$

12

$4 = 11 - 7$

1 → 3

5		
11	6	15
16	14	13
3	12	4
		9

7 → 12

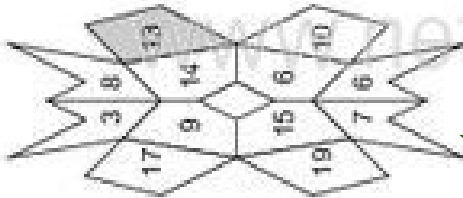
		12
5	10	7
4	13	8
9	11	6
		14

© Metakanga Braunschweig 2010

**Gemischte Plusaufgaben**

Rechne die Aufgaben aus und schreibe die Lösungen auf! Male links die Felder mit den Lösungszahlen farbig aus!

1 → 3



2

$$5 + 8 = 13 \quad 9 + \bigcirc = 16$$

3

$$\bigcirc + 7 = 10 \quad \bigcirc = 8 + 9$$

4

$$15 = \bigcirc + 7 \quad 11 = 5 + \bigcirc$$

5

$$9 + 7 = \bigcirc \quad 7 + \bigcirc = 12$$

6

$$\bigcirc + 6 = 14 \quad \bigcirc = 8 + 4$$

7

$$11 = \bigcirc + 7 \quad 13 = 4 + \bigcirc$$

© Michael Jung, Braunschweig 2010

**Gemischte Plusaufgaben**

Rechne die Aufgaben aus und schreibe die Lösungen auf! Male rechts die Felder mit den Lösungszahlen farbig aus!

1

$$9 + 9 = 18 \quad 8 + \bigcirc = 13$$

2

$$\bigcirc + 9 = 11 \quad \bigcirc = 6 + 8$$

3

$$13 = \bigcirc + 7 \quad 14 = 5 + \bigcirc$$

4

$$6 + 5 = \bigcirc \quad 5 + \bigcirc = 12$$

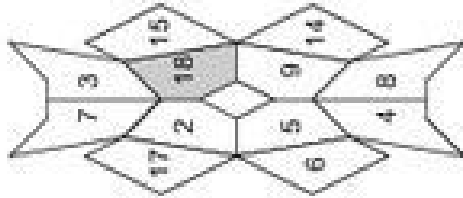
5

$$\bigcirc + 6 = 15 \quad \bigcirc = 8 + 7$$

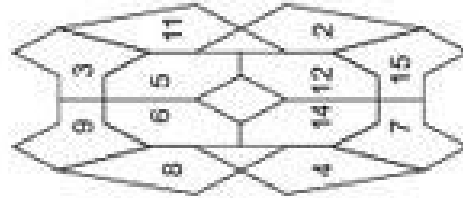
6

$$11 = \bigcirc + 8 \quad 10 = 2 + \bigcirc$$

1 → 3



7 → 12

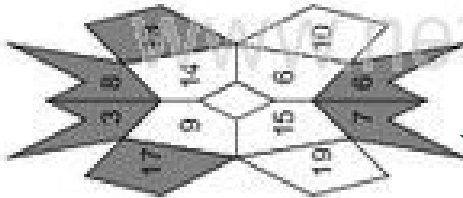


© Michael Jung, Braunschweig 2010

### Gemischte Plusaufgaben (Lösungen)

Rechne die Aufgaben aus und schreibe die Lösungen auf! Male links die Felder mit den Lösungszahlen farbig aus!

1 → 3



2

$$5 + 8 = 13 \quad 9 + 7 = 16$$

3

$$3 + 7 = 10 \quad 17 = 8 + 9$$

5

$$15 = 8 + 7 \quad 11 = 5 + 6$$

7 → 12



9

$$9 + 7 = 16 \quad 7 + 5 = 12$$

9

$$8 + 6 = 14 \quad 12 = 8 + 4$$

10

$$11 = 4 + 7 \quad 13 = 4 + 9$$

### Gemischte Plusaufgaben (Lösungen)

Rechne die Aufgaben aus und schreibe die Lösungen auf! Male rechts die Felder mit den Lösungszahlen farbig aus!

1

$$9 + 9 = 18$$

2

$$8 + 5 = 13$$

3

$$2 + 9 = 11$$

4

$$14 = 6 + 8$$

5

$$13 = 6 + 7$$

6

$$14 = 5 + 9$$

7

$$6 + 5 = 11$$

8

$$5 + 7 = 12$$

9

$$9 + 6 = 15$$

10

$$15 = 8 + 7$$

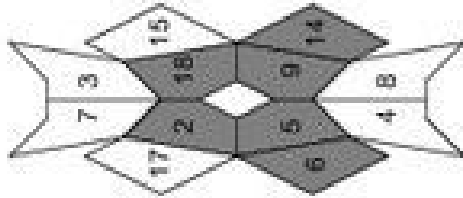
11

$$11 = 3 + 8$$

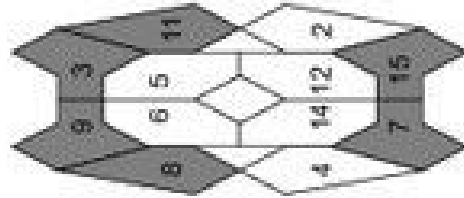
12

$$10 = 2 + 8$$

1 → 3



7 → 12



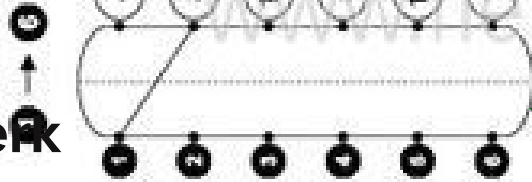
Klasse

Name

Klasse

### Gemischte Minusaufgaben

Rechne die Aufgaben aus und schreibe die Lösungen auf! Verbinde links die Aufgabennummern mit den Lösungszahlen!



1  $17 - 9 = 8$

3  $\text{ } - 8 = 5$

6  $8 = \text{ } - 8$



7  $13 - 7 = \text{ }$

9  $\text{ } - 5 = 9$

10  $4 = \text{ } - 8$

2  $11 - \text{ } = 7$

4  $\text{ } = 10 - 5$

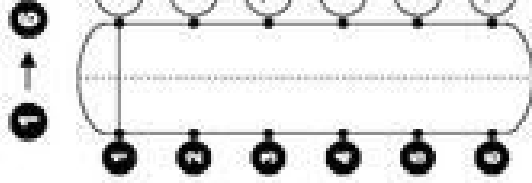
8  $5 = 12 - \text{ }$

10  $\text{ } = 12 - 3$

12  $6 = 11 - \text{ }$

### Gemischte Minusaufgaben

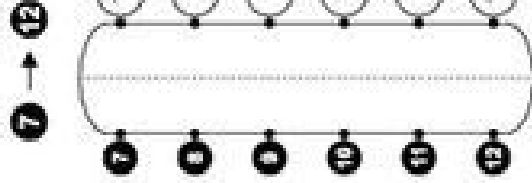
Rechne die Aufgaben aus und schreibe die Lösungen auf! Verbinde rechts die Aufgabennummern mit den Lösungszahlen!



1  $13 - 6 = 7$

3  $\text{ } - 7 = 8$

6  $3 = \text{ } - 9$



7  $16 - 9 = \text{ }$

9  $\text{ } - 8 = 9$

11  $7 = \text{ } - 7$

2  $15 - \text{ } = 6$

4  $\text{ } = 11 - 7$

8  $6 = 12 - \text{ }$

8  $11 - \text{ } = 6$

12  $\text{ } = 12 - 4$





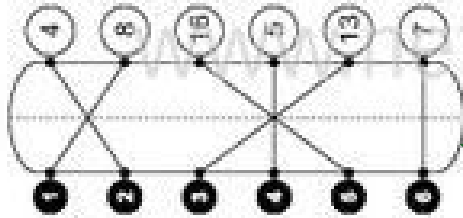
Klasse

Name

### Gemischte Minusaufgaben (Lösungen)

Rechne die Aufgaben aus und schreibe die Lösungen auf! Verbinde links die Aufgabennummern mit den Lösungszahlen!

1 → 3



2

17 - 9 = 8    11 - 4 = 7

3

13 - 8 = 5    5 = 10 - 5

4

8 = 16 - 8    5 = 12 - 7

7 → 12



8

13 - 7 = 6    14 - 8 = 6

9

14 - 5 = 9    9 = 12 - 3

10

4 = 12 - 8    6 = 11 - 5

Klasse

### Gemischte Minusaufgaben (Lösungen)

Rechne die Aufgaben aus und schreibe die Lösungen auf! Verbinde rechts die Aufgabennummern mit den Lösungszahlen!

1

13 - 6 = 7    15 - 9 = 6

3

15 - 7 = 8    4 = 11 - 7

6

3 = 12 - 9    6 = 12 - 6

7

16 - 9 = 7    11 - 5 = 6

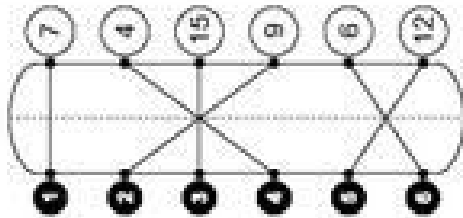
9

17 - 8 = 9    8 = 12 - 4

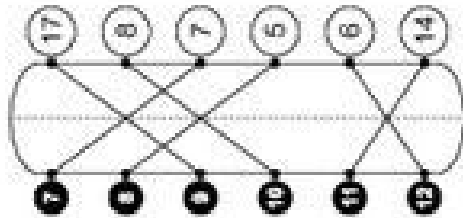
11

7 = 14 - 7    4 = 10 - 6

1 → 3



7 → 12



Klasse

Name

Klasse

### Gemischte Plus- und Minusaufgaben

Rechne die Aufgaben aus und schreibe die Lösungen auf! Zeichne links Kreise um die Lösungszahlen! Male die Kreise farbig aus!

1 → 3

3

2 4 1

19 6 20

14 9 12

15

→ 12

3

5 16

2 13

9 8

4

1 2

$6 + 8 = 14 = 5$

3 4

$\bigcirc - 8 = 4 = 9 + 6$

5 6

$16 = \bigcirc + 7 \quad 9 = 13 - \bigcirc$

7 8

$15 - 7 = \bigcirc \quad 6 + \bigcirc = 11$

9 10

$\bigcirc + 9 = 12 \quad \bigcirc = 14 - 7$

11 12

$7 = \bigcirc - 9 \quad 10 = 4 + \bigcirc$

© Michael Jung, Braunschweig 2010

### Gemischte Plus- und Minusaufgaben

Rechne die Aufgaben aus und schreibe die Lösungen auf! Zeichne rechts Kreise um die Lösungszahlen! Male die Kreise farbig aus!

1 → 3

14

8 10 5

15 13 17

16 9 6

7

7 → 12

2

17 8 19

4 7 9

3 6 5

15

1 2

$8 + 5 = 13 \quad 12 - \bigcirc = 7$

3 4

$\bigcirc - 8 = 6 \quad \bigcirc = 7 + 9$

5 6

$13 = \bigcirc + 7 \quad 9 = 17 - \bigcirc$

7 8

$15 - 6 = \bigcirc \quad 9 + \bigcirc = 13$

9 10

$\bigcirc + 5 = 11 \quad \bigcirc = 15 - 7$

11 12

$9 = \bigcirc - 6 \quad 14 = 7 + \bigcirc$

© Michael Jung, Braunschweig 2010