

Plusaufgaben mit 2, 3, 4, 5 und 6 (L)

Rechne die Aufgaben aus und schreibe die Lösungen auf! Male links die Felder mit den Lösungszahlen farbig aus!

1 → 6



2

$$8 + 5 = 13$$


3

$$9 + 6 = 15$$

4

$$8 + 4 = 12$$

7 → 12



8

$$15 = 9 + 6$$

9

$$10 = 8 + 2$$

10

$$13 = 9 + 4$$

$$11 = 7 + 4$$

Plusaufgaben mit 2, 3, 4, 5 und 6 (L)

Rechne die Aufgaben aus und schreibe die Lösungen auf! Male rechts die Felder mit den Lösungszahlen farbig aus!

1

$$9 + 4 = 13$$

2

$$8 + 6 = 14$$

3

$$9 + 2 = 11$$

7

$$12 = 6 + 6$$

9

$$11 = 8 + 3$$

10

$$14 = 9 + 5$$

3

$$7 + 5 = 12$$

4

$$6 + 4 = 10$$

6

$$9 + 6 = 15$$

8

$$15 = 9 + 6$$

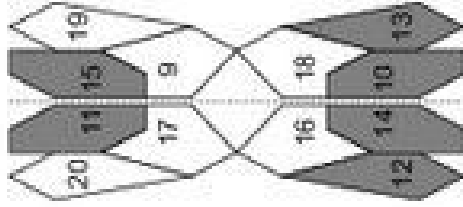
10

$$13 = 8 + 5$$

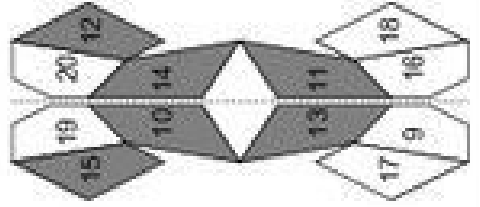
12

$$10 = 7 + 3$$

1 → 6



7 → 12



Klasse

Name

Klasse

Minusaufgaben mit 2, 3, 4, 5 und 6

Rechne die Aufgaben aus und schreibe die Lösungen auf! Verbinde links die Aufgabennummern mit den Lösungszahlen!

1	2	3	4	5	6	7	8	9	10	11	12
12-3=	11-4=	11-6=	13-3=	13-5=	12-6=	=11-2	=10-4	=15-5	=11-3	=11-6	=12-5

© Michael Jung, Braunschweig 2010

Minusaufgaben mit 2, 3, 4, 5 und 6

Rechne die Aufgaben aus und schreibe die Lösungen auf! Verbinde rechts die Aufgabennummern mit den Lösungszahlen!

1	2	3	4	5	6	7	8	9	10	11	12
14-4=	13-5=	12-6=	12-3=	10-5=	=12-4	=11-2	=16-6	=11-5	=13-6	=11-6	

© Michael Jung, Braunschweig 2010



Klasse

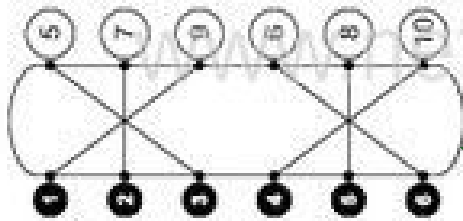
Name

Klasse

Minusaufgaben mit 2, 3, 4, 5 und 6 (L)

Rechne die Aufgaben aus und schreibe die Lösungen auf! Verbinde links die Aufgabennummern mit den Lösungszahlen!

1 → 3



2

$12 - 3 = 9$


3

$11 - 6 = 5$

6

$13 - 5 = 8$

7 → 12



8

$9 = 11 - 2$

9

$10 = 15 - 5$

10

$5 = 11 - 6$

12

$7 = 12 - 5$

Minusaufgaben mit 2, 3, 4, 5 und 6 (L)

Rechne die Aufgaben aus und schreibe die Lösungen auf! Verbinde rechts die Aufgabennummern mit den Lösungszahlen!

1

$14 - 4 = 10$

3

$12 - 6 = 6$

6

$11 - 4 = 7$

7

$8 = 12 - 4$

9

$6 = 11 - 5$

11

$7 = 13 - 6$

2

$13 - 5 = 8$

4

$12 - 3 = 9$

8

$10 - 5 = 5$

8

$9 = 11 - 2$

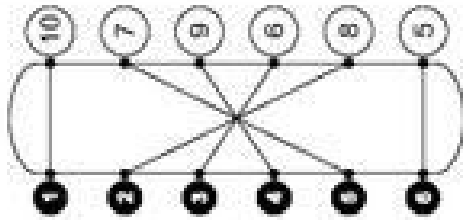
10

$10 = 16 - 6$

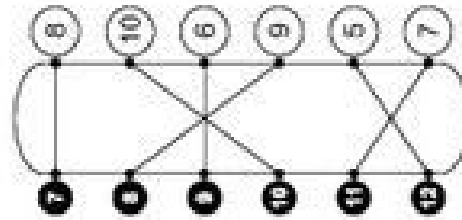
12

$5 = 11 - 6$

1 → 3



7 → 12



Klasse

Name

Klasse

Plus und Minus mit 2, 3, 4, 5 und 6

Rechne die Aufgaben aus und schreibe die Lösungen auf! Zeichne links Kreise um die Lösungszahlen! Male die Kreise farbig aus!

1 → 3

6	11	13
20		18
16	7	
19	17	
12	9	15

2

$9 + 3 = 12$

3

$12 - 6 = \bigcirc$

4

$8 + 5 = \bigcirc$

→ 12

5	10	
	12	
	15	
8	7	6

5

$\bigcirc = 12 - 5$

6

$\bigcirc = 8 + 6$

7

$\bigcirc = 13 - 4$

Plus und Minus mit 2, 3, 4, 5 und 6

Rechne die Aufgaben aus und schreibe die Lösungen auf! Zeichne rechts Kreise um die Lösungszahlen! Male die Kreise farbig aus!

1

$8 + 5 = 13$

2

$11 - 4 = \bigcirc$

3

$8 + 6 = \bigcirc$

4

$\bigcirc = 11 - 5$

5

$\bigcirc = 9 + 2$

6

$\bigcirc = 11 - 3$

1 → 3

9	7	8
18		16
13		14
12		15
17	5	6

7 → 12

6	15	8
13		16
4		12
7		11
14	4	9

Klasse

Name

Klasse

Plus und Minus mit 2, 3, 4, 5 und 6 (L)

Rechne die Aufgaben aus und schreibe die Lösungen auf! Zeichne links Kreise um die Lösungszahlen! Male die Kreise farbig aus!

1 → 3

6	11	13
20		18
16		7
19		17
12	9	15

1 → 3

9 + 3 = 12 7 + 4 = 11

3 → 1

12 - 6 = 6 11 - 2 = 9

5 → 3

8 + 5 = 13 9 + 6 = 15

→ 12

5	10	
	12	15
	7	
8	6	

1 → 3

7 = 12 - 5 5 = 11 - 6

9 → 10

14 = 8 + 6 12 = 7 + 5

10 → 12

9 = 13 - 4 8 = 14 - 6

© Michael Jung, Braunschweig 2010

Plus und Minus mit 2, 3, 4, 5 und 6 (L)

Rechne die Aufgaben aus und schreibe die Lösungen auf! Zeichne rechts Kreise um die Lösungszahlen! Male die Kreise farbig aus!

1 → 3

9	7	8
18		16
	13	14
	12	15
17	5	6

2 → 3

8 + 5 = 13 9 + 6 = 15

3 → 4

11 - 4 = 7 11 - 6 = 5

5 → 6

8 + 6 = 14 9 + 3 = 12

7 → 12

6	15	8
13		16
	4	12
	7	11
14	4	9

8 → 12

6 = 11 - 5 9 = 12 - 3

9 → 10

11 = 9 + 2 14 = 8 + 6

10 → 12

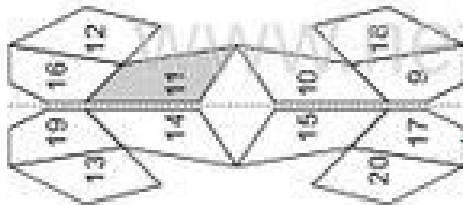
8 = 11 - 3 7 = 12 - 5

© Michael Jung, Braunschweig 2010

Plusaufgaben mit 4, 5, 6 und 7

Rechne die Aufgaben aus und schreibe die Lösungen auf! Male links die Felder mit den Lösungszahlen farbig aus!

1 → 3



2

$7 + 4 = 11$

3

$8 + 7 = \bigcirc$

5

$9 + 5 = \bigcirc$

7 → 12



8

$\bigcirc = 9 + 6$

9

$\bigcirc = 7 + 7$

11

$\bigcirc = 9 + 4$

Plusaufgaben mit 4, 5, 6 und 7

Rechne die Aufgaben aus und schreibe die Lösungen auf! Male rechts die Felder mit den Lösungszahlen farbig aus!

1

$8 + 4 = 12$

3

$3 + 7 = \bigcirc$

6

$9 + 4 = \bigcirc$

7

$\bigcirc = 5 + 6$

9

$\bigcirc = 9 + 7$

11

$\bigcirc = 8 + 4$

2

$9 + 5 = \bigcirc$

4

$5 + 6 = \bigcirc$

8

$8 + 7 = \bigcirc$

8

$\bigcirc = 8 + 5$

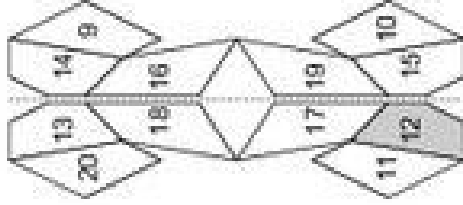
10

$\bigcirc = 7 + 7$

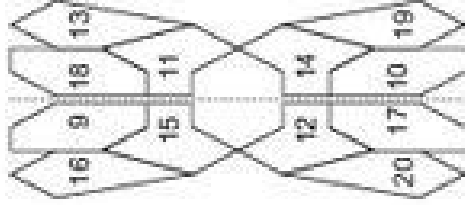
12

$\bigcirc = 9 + 6$

1 → 3



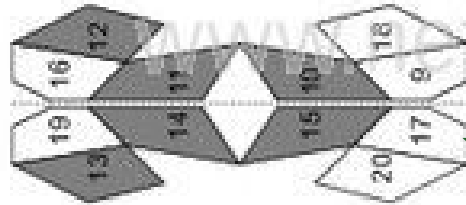
7 → 12



Plusaufgaben mit 4, 5, 6 und 7 (L)

Rechne die Aufgaben aus und schreibe die Lösungen auf! Male links die Felder mit den Lösungszahlen farbig aus!

1 → 3



2

$$7 + 4 = 11$$

3

$$8 + 7 = 15$$

4

$$6 + 6 = 12$$

5

$$9 + 5 = 14$$

6

$$3 + 7 = 10$$

7

$$15 = 9 + 6$$

8

$$12 = 7 + 5$$

9

$$14 = 7 + 7$$

10

$$16 = 9 + 7$$

11

$$13 = 9 + 4$$

12

$$11 = 6 + 5$$

Plusaufgaben mit 4, 5, 6 und 7 (L)

Rechne die Aufgaben aus und schreibe die Lösungen auf! Male rechts die Felder mit den Lösungszahlen farbig aus!

1

$$8 + 4 = 12$$

2

$$9 + 5 = 14$$

3

$$3 + 7 = 10$$

4

$$5 + 6 = 11$$

5

$$9 + 4 = 13$$

6

$$8 + 7 = 15$$

7

$$11 = 5 + 6$$

8

$$13 = 8 + 5$$

9

$$16 = 9 + 7$$

10

$$14 = 7 + 7$$

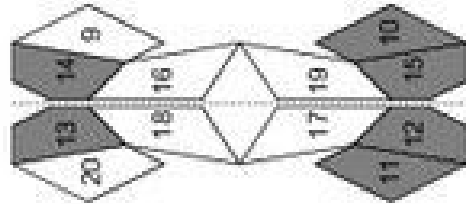
11

$$12 = 8 + 4$$

12

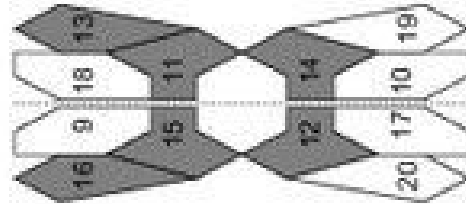
$$15 = 9 + 6$$

12



1 → 3

7 → 12





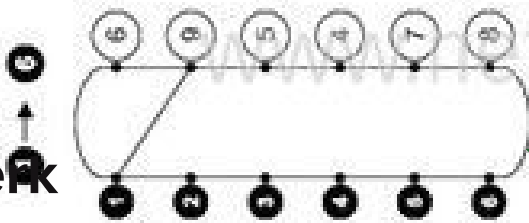
Klasse

Name

Klasse

Minusaufgaben mit 4, 5, 6 und 7


Rechne die Aufgaben aus und schreibe die Lösungen auf! Verbinde links die Aufgabennummern mit den Lösungszahlen!



1 $13 - 4 = 9$ 2 $12 - 6 =$

3 $14 - 7 =$ 4 $11 - 7 =$

5 $10 - 5 =$ 6 $12 - 4 =$



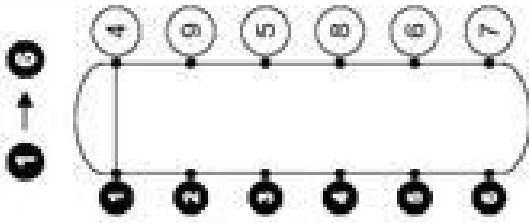
7 $= 13 - 5$ 8 $= 11 - 6$

9 $= 10 - 6$ 10 $= 14 - 5$

11 $= 12 - 5$ 12 $= 13 - 7$

Minusaufgaben mit 4, 5, 6 und 7

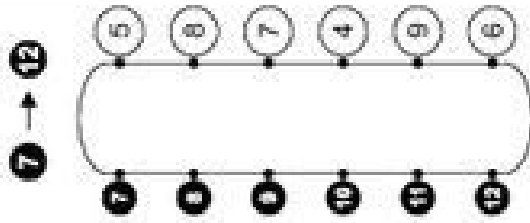
Rechne die Aufgaben aus und schreibe die Lösungen auf! Verbinde rechts die Aufgabennummern mit den Lösungszahlen!



1 $10 - 6 = 4$ 2 $14 - 6 =$

3 $11 - 6 =$ 4 $16 - 7 =$

5 $14 - 7 =$ 6 $11 - 5 =$



7 $= 13 - 6$ 8 $= 11 - 7$

9 $= 10 - 5$ 10 $= 12 - 4$

11 $= 12 - 6$ 12 $= 13 - 4$



Klasse

Name

Klasse

Minusaufgaben mit 4, 5, 6 und 7 (L)

Rechne die Aufgaben aus und schreibe die Lösungen auf! Verbinde links die Aufgabennummern mit den Lösungszahlen!

1 → 6

2 → 9

3 → 5

4 → 4

5 → 7

6 → 8

7 → 12

8 = 13 - 5

9 = 10 - 6

10 = 12 - 5

11 = 11 - 6

12 = 14 - 5

13 = 4 = 9

14 - 7 = 7

15 = 12 - 5

16 = 13 - 7

17 = 12 - 6

18 = 11 - 7

19 = 12 - 4

20 = 6 = 13 - 7

© Michael Jung, Braunschweig 2010

Minusaufgaben mit 4, 5, 6 und 7 (L)

Rechne die Aufgaben aus und schreibe die Lösungen auf! Verbinde rechts die Aufgabennummern mit den Lösungszahlen!

1 → 3

2 → 8

3 → 9

4 → 5

5 → 8

6 → 6

7 → 7

8 → 12

9 = 10 - 5

10 = 12 - 4

11 = 13 - 6

12 = 11 - 7

13 = 4 = 9

14 - 6 = 8

15 = 13 - 6

16 = 12 - 6

17 = 13 - 6

18 = 11 - 7

19 = 10 - 5

20 = 12 - 4

21 = 13 - 4

© Michael Jung, Braunschweig 2010

Plus- und Minus mit 4, 5, 6 und 7

Rechne die Aufgaben aus und schreibe die Lösungen auf! Zeichne links Kreise um die Lösungszahlen! Male die Kreise farbig aus!

1 → 3

16	7	12
13		4
14		11
6		15
8	9	5

1 → 3

8 + 6 = 14 =

3 → 1

12 - 5 = =

8 → 3

7 + 6 = =

→ 12

11	4	
	5	10
		6
7	14	

7 → 9

= 11 - 6 = 8 + 7

9 → 10

= 6 + 4 = 13 - 5

10 → 12

= 12 - 6 = 8 + 4

Plus- und Minus mit 4, 5, 6 und 7

Rechne die Aufgaben aus und schreibe die Lösungen auf! Zeichne rechts Kreise um die Lösungszahlen! Male die Kreise farbig aus!

1 → 3

14	4	9
5		11
10		8
7		12
6	15	13

1 → 3

9 + 6 = 15 =

3 → 4

10 - 6 = =

6 → 8

5 + 7 = =

7 → 12

11	15	5
9		6
12		10
7		4
14	8	13

7 → 8

= 13 - 7 = 9 + 5

9 → 10

= 5 + 6 = 13 - 4

10 → 12

= 12 - 7 = 9 + 4