


### Plusaufgaben mit 3, 4 und 5 (Lösungen)

Rechne die Aufgaben aus und schreibe die Lösungen auf! Male links die Felder mit den Lösungszahlen farbig aus!

1 → 3



1

+	3
14	17

2

+	5
15	20

3

+	4
11	15

4

+	5
13	18


5

+	4
12	16

6

+	3
16	19

7 → 12



7

+	4
16	20

8

+	5
14	19

9

+	3
11	14

10

+	3
13	16

11

+	4
14	18


12

+	5
12	17

### Plusaufgaben mit 3, 4 und 5 (Lösungen)

Rechne die Aufgaben aus und schreibe die Lösungen auf! Male rechts die Felder mit den Lösungszahlen farbig aus!

1 → 3



3

+	3
11	14

2

+	5
12	17


6

+	5
10	15

5

+	4
12	16

7 → 12



9

+	4
10	14

8

+	5
15	20

12

+	3
11	16

11

+	3
12	15

10

+	4
15	19

Klasse

Name

Minusaufgaben mit 3, 4 und 5

Rechne die Aufgaben aus und schreibe die Lösungen auf! Verbinde links die Aufgabennummern mit den Lösungszahlen!

1	17-3 = 14	2	20-5 =
3	16-4 =	4	19-3 =
6	18-5 =	8	15-4 =
7	20-4 =	9	17-5 =
9	14-3 =	10	14-4 =
10	19-5 =	12	16-3 =

1 → 6  
 2 → 12  
 3 → 15  
 4 → 14  
 5 → 11  
 6 → 13  
 7 → 16

© Michael Jung, Braunschweig 2010

Klasse

Minusaufgaben mit 3, 4 und 5

Rechne die Aufgaben aus und schreibe die Lösungen auf! Verbinde rechts die Aufgabennummern mit den Lösungszahlen!

1	17-5 = 12	2	18-3 =
3	16-3 =	4	20-4 =
6	14-4 =	8	19-5 =
7	20-5 =	9	16-4 =
9	15-4 =	10	17-3 =
11	19-3 =	12	18-5 =

1 → 3  
 2 → 10  
 3 → 16  
 4 → 13  
 5 → 15  
 6 → 14

7 → 12  
 8 → 15  
 9 → 14  
 10 → 11  
 11 → 12  
 12 → 13  
 13 → 16

© Michael Jung, Braunschweig 2010

Klasse

Name

Minusaufgaben mit 3, 4 und 5 (Lösungen)

Rechne die Aufgaben aus und schreibe die Lösungen auf! Verbinde links die Aufgabennummern mit den Lösungszahlen!

	<p><b>1</b> <math>17-3=</math> <b>14</b></p>	<p><b>2</b> <math>20-5=</math> <b>15</b></p>
	<p><b>3</b> <math>16-4=</math> <b>12</b></p>	<p><b>4</b> <math>19-3=</math> <b>16</b></p>
	<p><b>5</b> <math>18-5=</math> <b>13</b></p>	<p><b>6</b> <math>15-4=</math> <b>11</b></p>
	<p><b>7</b> <math>20-4=</math> <b>16</b></p>	<p><b>8</b> <math>17-5=</math> <b>12</b></p>
	<p><b>9</b> <math>14-3=</math> <b>11</b></p>	<p><b>10</b> <math>14-4=</math> <b>10</b></p>
	<p><b>10</b> <math>19-5=</math> <b>14</b></p>	<p><b>12</b> <math>16-3=</math> <b>13</b></p>

© Michael Jung, Braunschweig 2010

Klasse

Minusaufgaben mit 3, 4 und 5 (Lösungen)

Rechne die Aufgaben aus und schreibe die Lösungen auf! Verbinde rechts die Aufgabennummern mit den Lösungszahlen!

	<p><b>1</b> <math>17-5=</math> <b>12</b></p>	<p><b>2</b> <math>18-3=</math> <b>15</b></p>
	<p><b>3</b> <math>16-3=</math> <b>13</b></p>	<p><b>4</b> <math>20-4=</math> <b>16</b></p>
	<p><b>5</b> <math>14-4=</math> <b>10</b></p>	<p><b>6</b> <math>19-5=</math> <b>14</b></p>
	<p><b>7</b> <math>20-5=</math> <b>15</b></p>	<p><b>8</b> <math>16-4=</math> <b>12</b></p>
	<p><b>9</b> <math>15-4=</math> <b>11</b></p>	<p><b>10</b> <math>17-3=</math> <b>14</b></p>
	<p><b>11</b> <math>19-3=</math> <b>16</b></p>	<p><b>12</b> <math>18-5=</math> <b>13</b></p>

© Michael Jung, Braunschweig 2010

Klasse

Name

Plus- und Minusaufgaben mit 3, 4 und 5

Rechne die Aufgaben aus und schreibe die Lösungen auf! Kreuze links die Lösungszahlen an!

1 → 3

20

18 14 16

13 ~~X~~ 12

19 17 11

10

→ 12

18

17 15

12 19

11 14

20

1

$12 + 3 = 15$

3

$16 - 5 =$

5

$15 + 4 =$

7

$16 - 3 =$

9

$13 + 5 =$

10

$18 - 4 =$

2

$16 + 4 =$

4

$17 - 3 =$

6

$12 + 5 =$

8

$19 - 4 =$

10

$13 + 3 =$

12

$17 - 5 =$

3

$12 + 4 = 16$

4

$13 - 3 =$

6

$15 + 5 =$

8

$20 - 4 =$

9

$17 + 3 =$

10

$20 - 5 =$

1 → 3

13

14 18 10

11 ~~X~~ 17

15 20 12

19

7 → 12

10

11 14 18

13 15 16

19 20 12

17

Plus- und Minusaufgaben mit 3, 4 und 5

Rechne die Aufgaben aus und schreibe die Lösungen auf! Kreuze rechts die Lösungszahlen an!

Klasse

Name

Plus- und Minusaufgaben mit 3, 4 und 5 (L)

Rechne die Aufgaben aus und schreibe die Lösungen auf! Kreuze links die Lösungszahlen an!

1 → 3

<input checked="" type="checkbox"/>	18	<input checked="" type="checkbox"/>	16
<input checked="" type="checkbox"/>	13	<input checked="" type="checkbox"/>	12
<input checked="" type="checkbox"/>	<input checked="" type="checkbox"/>	<input checked="" type="checkbox"/>	<input checked="" type="checkbox"/>
	10		

1

$12 + 3 = 15$

2

$16 + 4 = 20$

3

$16 - 5 = 11$

4

$17 - 3 = 14$

5

$15 + 4 = 19$

6

$12 + 5 = 17$

7 → 12

<input checked="" type="checkbox"/>	17	<input checked="" type="checkbox"/>	19
<input checked="" type="checkbox"/>	11	<input checked="" type="checkbox"/>	12
	20		

7

$16 - 3 = 13$

8

$19 - 4 = 15$

9

$13 + 5 = 18$

10

$13 + 3 = 16$

11

$18 - 4 = 14$

12

$17 - 5 = 12$

Klasse

Plus- und Minusaufgaben mit 3, 4 und 5 (L)

Rechne die Aufgaben aus und schreibe die Lösungen auf! Kreuze rechts die Lösungszahlen an!

1

$12 + 4 = 16$

2

$16 + 3 = 19$

3

$13 - 3 = 10$

4

$19 - 5 = 14$

5

$15 + 5 = 20$

6

$14 + 4 = 18$

7

$20 - 4 = 16$

8

$14 - 3 = 11$

9

$17 + 3 = 20$

10

$13 + 5 = 18$

11

$20 - 5 = 15$

12

$17 - 4 = 13$

1 → 3

<input checked="" type="checkbox"/>	<input checked="" type="checkbox"/>	<input checked="" type="checkbox"/>	13
<input checked="" type="checkbox"/>	<input checked="" type="checkbox"/>	<input checked="" type="checkbox"/>	11
<input checked="" type="checkbox"/>	<input checked="" type="checkbox"/>	<input checked="" type="checkbox"/>	15
			17
			12

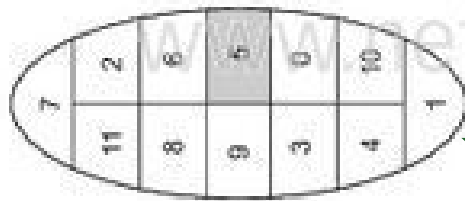
7 → 12

<input checked="" type="checkbox"/>	<input checked="" type="checkbox"/>	<input checked="" type="checkbox"/>	10
<input checked="" type="checkbox"/>	<input checked="" type="checkbox"/>	<input checked="" type="checkbox"/>	14
<input checked="" type="checkbox"/>	<input checked="" type="checkbox"/>	<input checked="" type="checkbox"/>	19
			12
			17

### Plusaufgaben mit 20

Rechne die Aufgaben aus und schreibe die Lösungen auf! Male links die Felder mit den Lösungszahlen farbig aus!

1 → 3



$$\begin{array}{r} + \\ 5 \\ \hline 15 \end{array} \quad 20$$

$$\begin{array}{r} + \\ \phantom{00} \\ \hline 12 \end{array} \quad 20$$


$$\begin{array}{r} + \\ \phantom{00} \\ \hline 17 \end{array} \quad 20$$

$$\begin{array}{r} + \\ \phantom{00} \\ \hline 20 \end{array} \quad 20$$

$$\begin{array}{r} + \\ \phantom{00} \\ \hline 14 \end{array} \quad 20$$

$$\begin{array}{r} + \\ \phantom{00} \\ \hline 11 \end{array} \quad 20$$

7 → 12



$$\begin{array}{r} + \\ \phantom{00} \\ \hline 19 \end{array} \quad 20$$

$$\begin{array}{r} + \\ \phantom{00} \\ \hline 10 \end{array} \quad 20$$

$$\begin{array}{r} + \\ \phantom{00} \\ \hline 16 \end{array} \quad 20$$

$$\begin{array}{r} + \\ \phantom{00} \\ \hline 13 \end{array} \quad 20$$

$$\begin{array}{r} + \\ \phantom{00} \\ \hline 18 \end{array} \quad 20$$


$$\begin{array}{r} + \\ \phantom{00} \\ \hline 15 \end{array} \quad 20$$

© Michael Jung, Braunschweig 2010

### Plusaufgaben mit 20

Rechne die Aufgaben aus und schreibe die Lösungen auf! Male rechts die Felder mit den Lösungszahlen farbig aus!

1 → 3



$$\begin{array}{r} + \\ \phantom{00} \\ \hline 15 \end{array} \quad 20$$

$$\begin{array}{r} + \\ \phantom{00} \\ \hline 19 \end{array} \quad 20$$


$$\begin{array}{r} + \\ \phantom{00} \\ \hline 16 \end{array} \quad 20$$

$$\begin{array}{r} + \\ \phantom{00} \\ \hline 18 \end{array} \quad 20$$

$$\begin{array}{r} + \\ \phantom{00} \\ \hline 10 \end{array} \quad 20$$

$$\begin{array}{r} + \\ \phantom{00} \\ \hline 13 \end{array} \quad 20$$

7 → 12



$$\begin{array}{r} + \\ \phantom{00} \\ \hline 14 \end{array} \quad 20$$

$$\begin{array}{r} + \\ \phantom{00} \\ \hline 12 \end{array} \quad 20$$

$$\begin{array}{r} + \\ \phantom{00} \\ \hline 17 \end{array} \quad 20$$

$$\begin{array}{r} + \\ \phantom{00} \\ \hline 16 \end{array} \quad 20$$

$$\begin{array}{r} + \\ \phantom{00} \\ \hline 11 \end{array} \quad 20$$


$$\begin{array}{r} + \\ \phantom{00} \\ \hline 20 \end{array} \quad 20$$

© Michael Jung, Braunschweig 2010

### Plusaufgaben mit 20 (Lösungen)

Rechne die Aufgaben aus und schreibe die Lösungen auf! Male links die Felder mit den Lösungszahlen farbig aus!

1 → 3



1

+	5	
		15 20

2

+	8	
		12 20

3

+	3	
		17 20

4

+	0	
		20 20


5

+	6	
		14 20

6

+	9	
		11 20

7 → 12



7

+	1	
		19 20

8

+	10	
		10 20

9

+	4	
		16 20

10

+	7	
		13 20

11

+	2	
		18 20


12

+	5	
		15 20

### Plusaufgaben mit 20 (Lösungen)

Rechne die Aufgaben aus und schreibe die Lösungen auf! Male rechts die Felder mit den Lösungszahlen farbig aus!

1 → 3



2

+	1	
		19 20


3

+	5	
		15 20

6

+	2	
		18 20

7 → 12



9

+	6	
		14 20

8

+	8	
		12 20

12

+	4	
		16 20

11

+	9	
		11 20







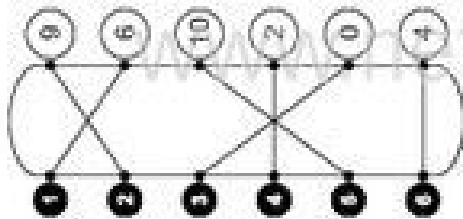
Klasse

Name

### Minusaufgaben mit 20 (Lösungen)

Rechne die Aufgaben aus und schreibe die Lösungen auf! Verbinde links die Aufgabennummern mit den Lösungszahlen!

10 → 3



2

$20 - 6 = 14$

$20 - 9 = 11$

3

$20 - 0 = 20$

$20 - 2 = 18$

6

$20 - 10 = 10$

$20 - 4 = 16$

7

$20 - 1 = 19$

$20 - 8 = 12$

9

$20 - 3 = 17$

$20 - 5 = 15$

10

$20 - 7 = 13$

$20 - 6 = 14$

→ 12



Klasse

### Minusaufgaben mit 20 (Lösungen)

Rechne die Aufgaben aus und schreibe die Lösungen auf! Verbinde rechts die Aufgabennummern mit den Lösungszahlen!

1

$20 - 4 = 16$

$20 - 8 = 12$

3

$20 - 1 = 19$

$20 - 3 = 17$

6

$20 - 7 = 13$

$20 - 5 = 15$

7

$20 - 2 = 18$

$20 - 0 = 20$

9

$20 - 10 = 10$

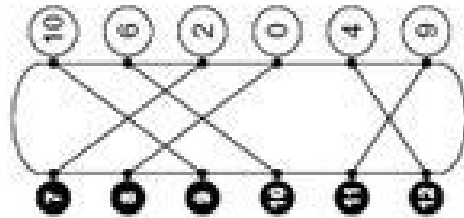
$20 - 6 = 14$

11

$20 - 9 = 11$

$20 - 4 = 16$

7 → 12



Plus- und Minusaufgaben mit 20

Rechne die Aufgaben aus und schreibe die Lösungen auf! Kreuze links die Lösungszahlen an!

1 → 3

5
4 6 7
10 <del>X</del> 2
9 8 3
0

1

$19 + 1 = 20$     $20 - \bigcirc = 11$

3

$20 - \bigcirc = 17$     $14 + \bigcirc = 20$

5

$20 + \bigcirc = 20$     $20 - \bigcirc = 12$

7 → 12

9
4 2
1 8
0 10
3

7

$20 - \bigcirc = 10$     $15 + \bigcirc = 20$

9

$11 + \bigcirc = 20$     $20 - \bigcirc = 18$

10

$20 - \bigcirc = 13$     $16 + \bigcirc = 20$

Plus- und Minusaufgaben mit 20

Rechne die Aufgaben aus und schreibe die Lösungen auf! Kreuze rechts die Lösungszahlen an!

1 → 3

7
<del>X</del> 6 8
1 2 5
0 9 4
3

1

$10 + 10 = 20$     $20 - \bigcirc = 16$

3

$20 - \bigcirc = 12$     $18 + \bigcirc = 20$

5

$13 + \bigcirc = 20$     $20 - \bigcirc = 20$

7 → 12

7
2 3 10
1 8 9
0 6 4
5

7

$20 - \bigcirc = 14$     $11 + \bigcirc = 20$

9

$17 + \bigcirc = 20$     $20 - \bigcirc = 19$

11

$20 - \bigcirc = 15$     $12 + \bigcirc = 20$