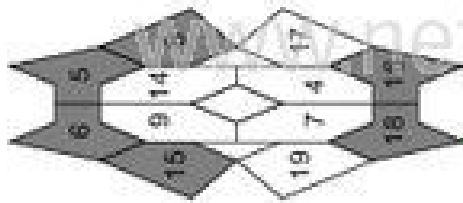


Analogieaufgaben mit 2, 3 und 4 (Lösung)

Rechne die Aufgaben aus und schreibe die Lösungen auf! Male links die Felder mit den Lösungszahlen farbig aus!

1 → 3



2 → 6

$5 + 3 = 8$

3 → 4

$4 + 2 = 6$

5 → 3

$1 + 4 = 5$

7 → 3

$3 + 4 = 7$

9 → 10

$2 + 2 = 4$

11 → 12

$6 + 3 = 9$

2 → 3

$2 + 3 = 5$

4 → 4

$7 + 2 = 9$

6 → 3

$2 + 4 = 6$

8 → 12

$4 + 4 = 8$

10 → 10

$5 + 2 = 7$

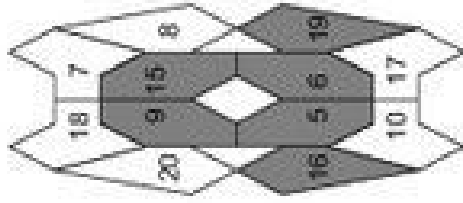
12 → 12

$7 + 3 = 10$

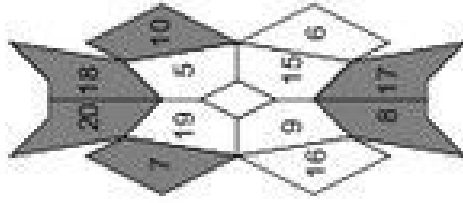
Analogieaufgaben mit 2, 3 und 4 (Lösung)

Rechne die Aufgaben aus und schreibe die Lösungen auf! Male rechts die Felder mit den Lösungszahlen farbig aus!

1 → 3



7 → 12



Klasse

Name

Analogieaufgaben mit 2, 3 und 4

Rechne die Aufgaben aus und schreibe die Lösungen auf! Verbinde links die Aufgabennummern mit den Lösungszahlen!

| | | | | | | | | | | | |
|------------------------------|-------------------------------|------------------------------|-------------------------------|------------------------------|-------------------------------|------------------------------|-------------------------------|------------------------------|-------------------------------|------------------------------|-------------------------------|
| 1 | 2 | 3 | 4 | 5 | 6 | 7 | 8 | 9 | 10 | 11 | 12 |
| 9 - 3 = <input type="text"/> | 19 - 3 = <input type="text"/> | 5 - 2 = <input type="text"/> | 15 - 2 = <input type="text"/> | 8 - 4 = <input type="text"/> | 18 - 4 = <input type="text"/> | 5 - 4 = <input type="text"/> | 15 - 4 = <input type="text"/> | 9 - 2 = <input type="text"/> | 19 - 2 = <input type="text"/> | 8 - 3 = <input type="text"/> | 18 - 3 = <input type="text"/> |

Klasse

Analogieaufgaben mit 2, 3 und 4

Rechne die Aufgaben aus und schreibe die Lösungen auf! Verbinde rechts die Aufgabennummern mit den Lösungszahlen!

| | | | | | | | | | | | |
|------------------------------|-------------------------------|------------------------------|-------------------------------|------------------------------|-------------------------------|------------------------------|-------------------------------|------------------------------|-------------------------------|-------------------------------|-------------------------------|
| 1 | 2 | 3 | 4 | 5 | 6 | 7 | 8 | 9 | 10 | 11 | 12 |
| 4 - 3 = <input type="text"/> | 14 - 3 = <input type="text"/> | 7 - 2 = <input type="text"/> | 17 - 2 = <input type="text"/> | 6 - 4 = <input type="text"/> | 16 - 4 = <input type="text"/> | 7 - 4 = <input type="text"/> | 17 - 4 = <input type="text"/> | 6 - 2 = <input type="text"/> | 16 - 2 = <input type="text"/> | 10 - 3 = <input type="text"/> | 20 - 3 = <input type="text"/> |

Analogieaufgaben mit 2, 3 und 4

Rechne die Aufgaben aus und schreibe die Lösungen auf! Zeichne links Kreise um die Lösungszahlen! Male die Kreise farbig aus!

1 → 3

| | | |
|----|----|----|
| 11 | 5 | 1 |
| 10 | 7 | 20 |
| 15 | 17 | 2 |
| 12 | | |

2

2 + 3 =

3

12 + 3 =

3

4 - 2 =

4

14 - 2 =

5

3 + 4 =

6

13 + 4 =

7 → 12

| | | |
|----|----|--|
| 6 | | |
| 5 | 1 | |
| 10 | 7 | |
| 15 | 16 | |
| 2 | | |

8

5 - 4 =

9

15 - 4 =

9

8 + 2 =

10

18 + 2 =

10

9 - 3 =

11

19 - 3 =

Analogieaufgaben mit 2, 3 und 4

Rechne die Aufgaben aus und schreibe die Lösungen auf! Zeichne rechts Kreise um die Lösungszahlen! Male die Kreise farbig aus!

1

3 + 3 =

2

13 + 3 =

3

6 - 2 =

4

16 - 2 =

5

4 + 4 =

6

14 + 4 =

7

4 - 4 =

8

14 - 4 =

9

5 + 2 =

10

15 + 2 =

11

8 - 3 =

12

18 - 3 =

1 → 3

| | | |
|----|----|---|
| 10 | | |
| 14 | 8 | 6 |
| 17 | 4 | 5 |
| 15 | 18 | 7 |
| 16 | | |

7 → 12

| | | |
|----|----|----|
| 6 | | |
| 15 | 14 | 17 |
| 10 | 5 | 0 |
| 16 | 7 | 4 |
| 8 | | |

Analogieaufgaben mit 2, 3 und 4 (Lösung)

Rechne die Aufgaben aus und schreibe die Lösungen auf! Zeichne links Kreise um die Lösungszahlen! Male die Kreise farbig aus!

1 → 3

| | | | |
|----|----|----|--|
| 12 | | | |
| 11 | 5 | 1 | |
| 10 | 7 | 20 | |
| 15 | 17 | 2 | |
| 6 | | | |

1

2 + 3 = 5

3

4 - 2 = 2

5

3 + 4 = 7

7

5 - 4 = 1

9

8 + 2 = 10

10

9 - 3 = 6

2

12 + 3 = 15

4

14 - 2 = 12

6

13 + 4 = 17

8

15 - 4 = 11

10

18 + 2 = 20

12

19 - 3 = 16

Analogieaufgaben mit 2, 3 und 4 (Lösung)

Rechne die Aufgaben aus und schreibe die Lösungen auf! Zeichne rechts Kreise um die Lösungszahlen! Male die Kreise farbig aus!

2

13 + 3 = 16

4

16 - 2 = 14

6

14 + 4 = 18

8

14 - 4 = 10

10

15 + 2 = 17

12

18 - 3 = 15

1 → 3

| | | | |
|----|----|----|--|
| | | | |
| | 10 | | |
| 14 | 8 | 6 | |
| 17 | 4 | 5 | |
| 15 | 18 | 7 | |
| | | 16 | |

7 → 12

| | | | |
|----|----|----|--|
| | | | |
| | 6 | | |
| 15 | 14 | 17 | |
| 10 | 5 | 0 | |
| 16 | 7 | 4 | |
| | | 8 | |

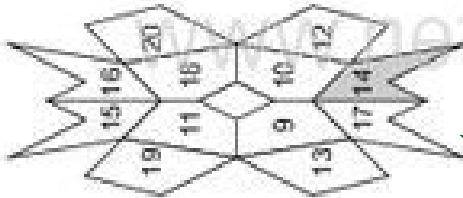
Klasse

Name

Plusaufgaben mit 2, 3 und 4

Rechne die Aufgaben aus und schreibe die Lösungen auf! Male links die Felder mit den Lösungszahlen farbig aus!

1 → 3



2 → 6

$12 + 2 = 14$ $15 + 4 =$ ○


3 → 4

$17 + 3 =$ ○ $14 + 2 =$ ○

5 → 3

$13 + 4 =$ ○ $12 + 3 =$ ○

→ 12



7 → 3

$16 + 2 =$ ○ $11 + 4 =$ ○

9 → 10

$11 + 3 =$ ○ $17 + 2 =$ ○

10 → 12

$16 + 4 =$ ○ $13 + 3 =$ ○

© Michael Jung, Braunschweig 2010

Klasse

Plusaufgaben mit 2, 3 und 4

Rechne die Aufgaben aus und schreibe die Lösungen auf! Male rechts die Felder mit den Lösungszahlen farbig aus!

1 → 3

$11 + 2 = 13$ $14 + 4 =$ ○

3 → 4

$16 + 3 =$ ○ $13 + 2 =$ ○

5 → 3

$16 + 4 =$ ○ $11 + 3 =$ ○

7 → 3

$18 + 2 =$ ○ $12 + 4 =$ ○

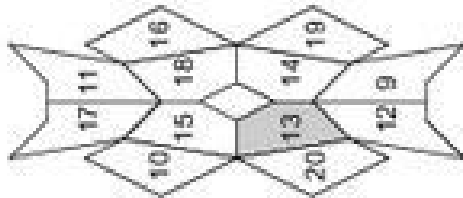
9 → 10

$12 + 3 =$ ○ $16 + 2 =$ ○

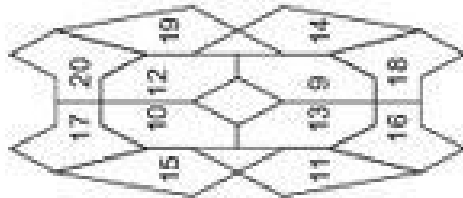
10 → 12

$15 + 4 =$ ○ $14 + 3 =$ ○

1 → 3



7 → 12

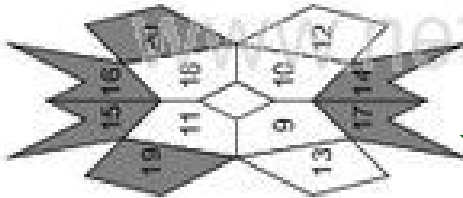


© Michael Jung, Braunschweig 2010

Plusaufgaben mit 2, 3 und 4 (Lösungen)

Rechne die Aufgaben aus und schreibe die Lösungen auf! Male links die Felder mit den Lösungszahlen farbig aus!

1 → 3



2

$$12 + 2 = 14 \quad 15 + 4 = 19$$

3

$$17 + 3 = 20 \quad 14 + 2 = 16$$

5

$$13 + 4 = 17 \quad 12 + 3 = 15$$

7

$$16 + 2 = 18 \quad 11 + 4 = 15$$

9

$$11 + 3 = 14 \quad 17 + 2 = 19$$

10

$$16 + 4 = 20 \quad 13 + 3 = 16$$

© Michael Jung, Braunschweig 2010

Plusaufgaben mit 2, 3 und 4 (Lösungen)

Rechne die Aufgaben aus und schreibe die Lösungen auf! Male rechts die Felder mit den Lösungszahlen farbig aus!

2

$$11 + 2 = 13 \quad 14 + 4 = 18$$

3

$$16 + 3 = 19 \quad 13 + 2 = 15$$

6

$$16 + 4 = 20 \quad 11 + 3 = 14$$

8

$$18 + 2 = 20 \quad 12 + 4 = 16$$

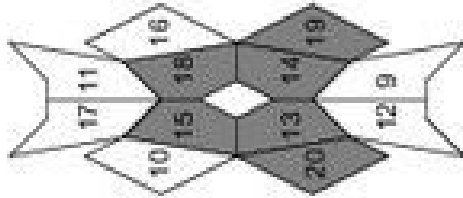
9

$$12 + 3 = 15 \quad 16 + 2 = 18$$

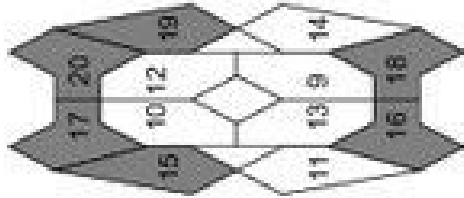
12

$$15 + 4 = 19 \quad 14 + 3 = 17$$

1 → 3



7 → 12



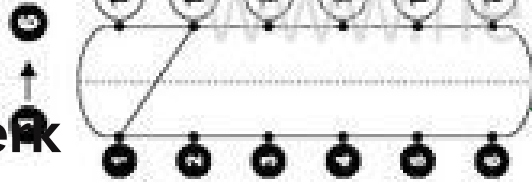
© Michael Jung, Braunschweig 2010

Klasse

Name

Minusaufgaben mit 2, 3 und 4

Rechne die Aufgaben aus und schreibe die Lösungen auf! Verbinde links die Aufgabennummern mit den Lösungszahlen!



1 $20 - 2 = 18$ 2 $16 - 4 =$

3 $17 - 3 =$ 4 $12 - 2 =$

5 $15 - 4 =$ 6 $19 - 3 =$



7 $13 - 2 =$ 8 $17 - 4 =$

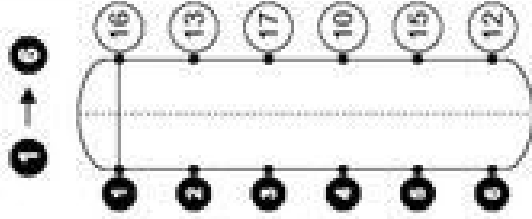
9 $15 - 3 =$ 10 $19 - 2 =$

11 $19 - 4 =$ 12 $13 - 3 =$

Klasse

Minusaufgaben mit 2, 3 und 4

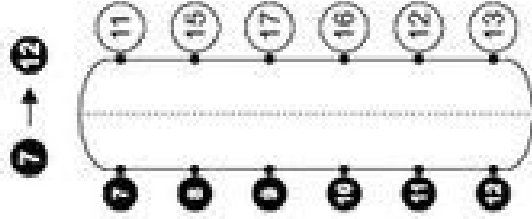
Rechne die Aufgaben aus und schreibe die Lösungen auf! Verbinde rechts die Aufgabennummern mit den Lösungszahlen!



1 $18 - 2 = 16$ 2 $14 - 4 =$

3 $20 - 3 =$ 4 $15 - 2 =$

5 $16 - 4 =$ 6 $18 - 3 =$



7 $19 - 2 =$ 8 $20 - 4 =$

9 $14 - 3 =$ 10 $17 - 2 =$

11 $17 - 4 =$ 12 $15 - 3 =$



Klasse

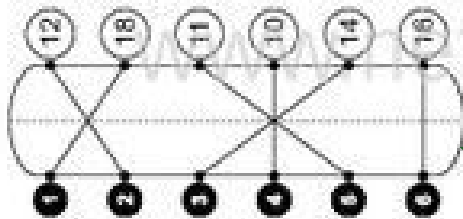
Name

Klasse

Minusaufgaben mit 2, 3 und 4 (Lösungen)

Rechne die Aufgaben aus und schreibe die Lösungen auf! Verbinde links die Aufgabennummern mit den Lösungszahlen!

1 → 3



2

$20 - 2 = 18$

3

$17 - 3 = 14$

5

$15 - 4 = 11$

7

$13 - 2 = 11$

9

$15 - 3 = 12$

10

$19 - 4 = 15$

2

$18 - 2 = 16$

4

$20 - 3 = 17$

6

$16 - 4 = 12$

8

$19 - 2 = 17$

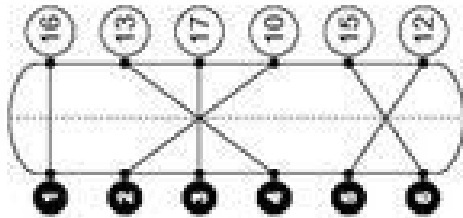
10

$14 - 3 = 11$

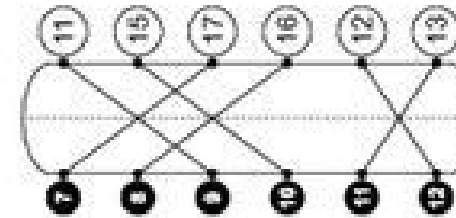
12

$17 - 4 = 13$

1 → 3



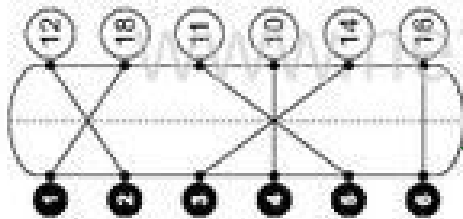
7 → 12




Minusaufgaben mit 2, 3 und 4 (Lösungen)

Rechne die Aufgaben aus und schreibe die Lösungen auf! Verbinde rechts die Aufgabennummern mit den Lösungszahlen!

10 → 12



→ 12



Plus- und Minusaufgaben mit 2, 3 und 4

Rechne die Aufgaben aus und schreibe die Lösungen auf! Zeichne links Kreise um die Lösungszahlen! Male die Kreise farbig aus!

1 → 3

| | | | |
|----|----|----|----|
| 10 | 15 | 11 | 13 |
| 14 | 20 | 19 | 18 |
| 12 | 12 | 16 | 17 |

1

$16 + 2 = 18$

3

$19 - 3 =$

5

$13 + 4 =$

→ 12

| | | |
|----|----|----|
| 18 | 19 | 12 |
| 20 | 17 | 15 |
| 13 | 11 | |

7

$14 - 2 =$

9

$15 + 3 =$

10

$17 - 4 =$

2

$15 - 4 =$

4

$18 + 2 =$

6

$15 - 3 =$

8

$12 + 4 =$

10

$12 - 2 =$

12

$16 + 3 =$

Plus- und Minusaufgaben mit 2, 3 und 4

Rechne die Aufgaben aus und schreibe die Lösungen auf! Zeichne rechts Kreise um die Lösungszahlen! Male die Kreise farbig aus!

1

$17 + 2 = 19$

3

$18 - 3 =$

5

$16 + 4 =$

7

$15 - 2 =$

9

$11 + 3 =$

11

$20 - 4 =$

2

$16 - 4 =$

4

$16 + 2 =$

6

$14 - 3 =$

8

$13 + 4 =$

10

$17 - 2 =$

12

$17 + 3 =$

1 → 3

| | | | |
|----|----|----|----|
| 12 | 11 | 14 | 20 |
| 17 | 19 | 16 | 13 |
| 15 | 10 | 18 | |

7 → 12

| | | | |
|----|----|----|----|
| 10 | 18 | 13 | 19 |
| 15 | 20 | 17 | 11 |
| 16 | 12 | 14 | |