

Klasse

Name

Klasse

Plusaufgaben mit 1 (Lösungen)

Rechne die Aufgaben aus und schreibe die Lösungen auf! Male rechts die Felder mit den Lösungszahlen farbig aus!

1 → 2

5 + 1 = 6

0 + 1 = 1

3 → 4

2 + 1 = 3

8 + 1 = 9

5 → 6

7 + 1 = 8

4 + 1 = 5

8 → 9

1 + 1 = 2

1 + 1 = 2

10 → 11

3 + 1 = 4

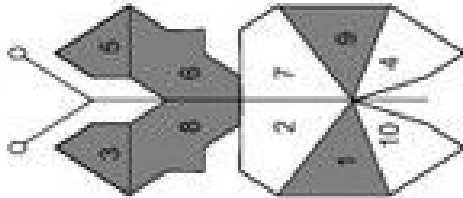
3 + 1 = 4

12 → 13

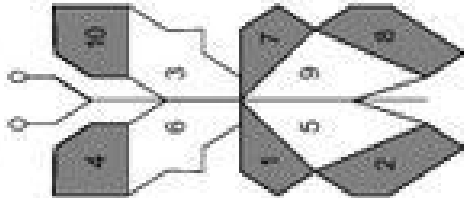
7 + 1 = 8

7 + 1 = 8

1 → 2



7 → 12



© Michael Jung, Braunschweig 2008

Plusaufgaben mit 1 (Lösungen)

Rechne die Aufgaben aus und schreibe die Lösungen auf! Male rechts die Felder mit den Lösungszahlen farbig aus!

1 → 2

7 + 1 = 8

1 + 1 = 2

3 → 4

5 + 1 = 6

3 + 1 = 4

6 → 7

2 + 1 = 3

8 + 1 = 9

8 → 9

5 + 1 = 6

9 + 1 = 10

9 → 10

0 + 1 = 1

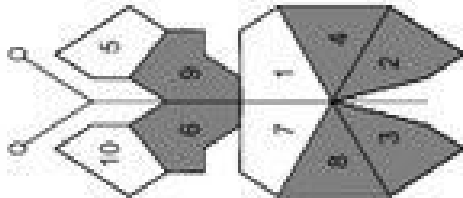
4 + 1 = 5

11 → 12

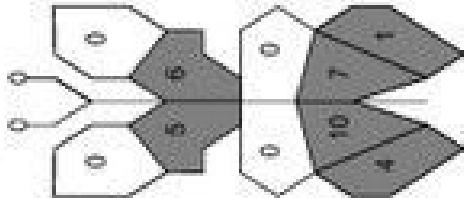
6 + 1 = 7

3 + 1 = 4

1 → 2



7 → 12



© Michael Jung, Braunschweig 2008

Name

Klasse

Minusaufgaben mit 1

Rechne die Aufgaben aus und schreibe die Lösungen auf! Verbinde rechts die Aufgabennummern mit den Lösungszahlen!

1	9 - 1 =	8	2	2 - 1 =	4
3	5 - 1 =		7	1 - 1 =	1
5	3 - 1 =		6	10 - 1 =	8
7			8		9
			9		2
			10		0
			11		
			12		

1 → 6

7 → 12

© Michael Jung, Braunschweig 2008

Name

Klasse

Minusaufgaben mit 1

Rechne die Aufgaben aus und schreibe die Lösungen auf! Verbinde rechts die Aufgabennummern mit den Lösungszahlen!

1	4 - 1 =	3	2	6 - 1 =	6
3	2 - 1 =		4	9 - 1 =	8
6	7 - 1 =		6	5 - 1 =	1
			8		5
			9		3
			10		4
			11		
			12		

1 → 6

7 → 12

© Michael Jung, Braunschweig 2008

Klasse

Name

Minusaufgaben mit 1 (Lösungen)

Rechne die Aufgaben aus und schreibe die Lösungen auf! Verbinde rechts die Aufgabennummern mit den Lösungszahlen!

1	9 - 1 = 8	2	2 - 1 = 1
3	5 - 1 = 4	4	1 - 1 = 0
5	3 - 1 = 2	6	10 - 1 = 9
7	6 - 1 = 6	8	9 - 1 = 8
9	3 - 1 = 3	10	6 - 1 = 5
11	7 - 1 = 7	12	3 - 1 = 2

1	4
2	1
3	8
4	9
5	2
6	0

1 → 6

7	6
8	5
9	7
10	8
11	3
12	2

7 → 12

© Michael Jung, Braunschweig 2008

Klasse

Minusaufgaben mit 1 (Lösungen)

Rechne die Aufgaben aus und schreibe die Lösungen auf! Verbinde rechts die Aufgabennummern mit den Lösungszahlen!

1	4 - 1 = 3	2	6 - 1 = 5
3	2 - 1 = 1	4	9 - 1 = 8
5	7 - 1 = 6	6	5 - 1 = 4
7	1 - 1 = 0	8	3 - 1 = 2
9	10 - 1 = 9	10	8 - 1 = 7
11	2 - 1 = 1	12	4 - 1 = 3

1	6
2	8
3	1
4	5
5	3
6	4

1 → 6

7	0
8	7
9	9
10	2
11	3
12	1

7 → 12

© Michael Jung, Braunschweig 2008

Klasse

Name

Plus- und Minusaufgaben mit 1

Rechne die Aufgaben aus und schreibe die Lösungen auf! Zeichne rechts Kreise um die Lösungszahlen! Male die Kreise farbig aus!

1 → 6

4 + 1 = 5 5 - 1 =

4
10 9 2
6 5 7
0 1 8
3

9 - 1 = 8 + 1 =

0 + 1 = 1 - 1 =

7 → 12

- 1 = 5 + 1 =

3
7 10 2
1 8 4
6 0 9
5

+ 1 = 10 - 1 =

- 1 = 7 + 1 =

© Michael Jung, Braunschweig 2008

Klasse

Plus- und Minusaufgaben mit 1

Rechne die Aufgaben aus und schreibe die Lösungen auf! Zeichne rechts Kreise um die Lösungszahlen! Male die Kreise farbig aus!

1 → 6

5 + 1 = 6 8 - 1 =

5
8 2 7
4 6 1
0 3 10
9

10 - 1 = 7 + 1 =

2 + 1 = 3 - 1 =

7 → 12

1 - 1 = 8 + 1 =

7
1 10 4
8 0 9
3 5 6
2

4 + 1 = 5 - 1 =

9 - 1 = 0 + 1 =

© Michael Jung, Braunschweig 2008

Klasse

Name

Plus- und Minusaufgaben mit 1 (Lösungen)

Rechne die Aufgaben aus und schreibe die Lösungen auf! Zeichne rechts Kreise um die Lösungszahlen! Male die Kreise farbig aus!

1 $4 + 1 = 5$ 2 $5 - 1 = 4$

3 $9 - 1 = 8$ 4 $8 + 1 = 9$

5 $0 + 1 = 1$ 6 $1 - 1 = 0$

1 → 6

4		
10	9	2
6	5	7
0	1	8
3		

8 $- 1 = 2$ 9 $5 + 1 = 6$

10 $+ 1 = 3$ 11 $10 - 1 = 9$

12 $- 1 = 7$ 13 $7 + 1 = 8$

7 → 12

3		
7	10	2
1	8	4
6	0	9
5		

© Michael Jung, Braunschweig 2008

Klasse

Plus- und Minusaufgaben mit 1 (Lösungen)

Rechne die Aufgaben aus und schreibe die Lösungen auf! Zeichne rechts Kreise um die Lösungszahlen! Male die Kreise farbig aus!

1 $5 + 1 = 6$ 2 $8 - 1 = 7$

3 $10 - 1 = 9$ 4 $7 + 1 = 8$

5 $2 + 1 = 3$ 6 $3 - 1 = 2$

1 → 6

5		
8	2	7
4	6	1
0	3	10
9		

7 $1 - 1 = 0$ 8 $8 + 1 = 9$

9 $4 + 1 = 5$ 10 $5 - 1 = 4$

11 $9 - 1 = 8$ 12 $0 + 1 = 1$

7 → 12

7		
1	10	4
8	0	9
3	5	6
2		

© Michael Jung, Braunschweig 2008

Klasse

Name

Plusaufgaben mit 2

Rechne die Aufgaben aus und schreibe die Lösungen auf! Male rechts die Felder mit den Lösungszahlen farbig aus!

1 $8 + 2 = 10$ $2 + 2 = \bigcirc$

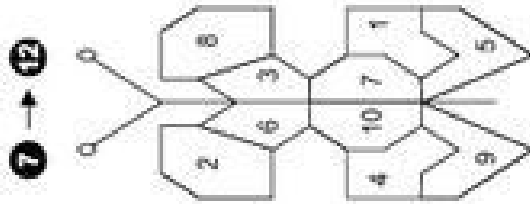
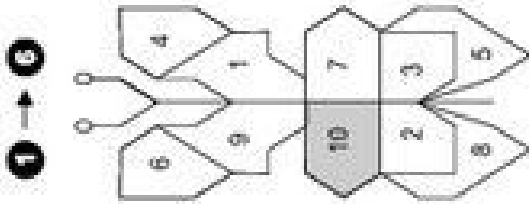
3 $0 + 2 = \bigcirc$ $5 + 2 = \bigcirc$

5 $1 + 2 = \bigcirc$ $4 + 2 = \bigcirc$

8 $+ 2 = \bigcirc$ $8 + 2 = \bigcirc$

10 $+ 2 = \bigcirc$ $0 + 2 = \bigcirc$

12 $+ 2 = \bigcirc$ $5 + 2 = \bigcirc$



© Michael Jung, Braunschweig 2008

Klasse

Plusaufgaben mit 2

Rechne die Aufgaben aus und schreibe die Lösungen auf! Male rechts die Felder mit den Lösungszahlen farbig aus!

1 $5 + 2 = 7$ $7 + 2 = \bigcirc$

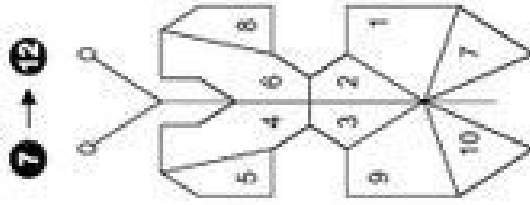
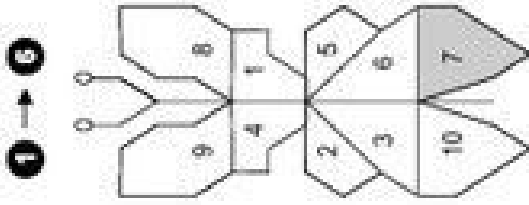
3 $3 + 2 = \bigcirc$ $8 + 2 = \bigcirc$

6 $0 + 2 = \bigcirc$ $6 + 2 = \bigcirc$

8 $4 + 2 = \bigcirc$ $1 + 2 = \bigcirc$

10 $5 + 2 = \bigcirc$ $2 + 2 = \bigcirc$

12 $8 + 2 = \bigcirc$ $0 + 2 = \bigcirc$



© Michael Jung, Braunschweig 2008

Klasse

Name

Plusaufgaben mit 2 (Lösungen)

Rechne die Aufgaben aus und schreibe die Lösungen auf! Male rechts die Felder mit den Lösungszahlen farbig aus!

1 $8 + 2 = 10$

2 $2 + 2 = 4$

3 $0 + 2 = 2$

4 $5 + 2 = 7$

5 $1 + 2 = 3$

6 $4 + 2 = 6$

7 $+ 2 = 8$

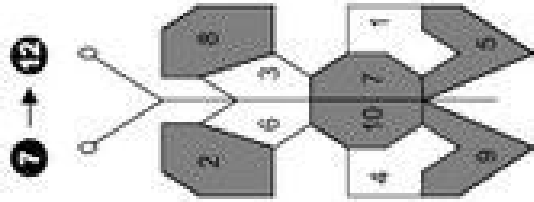
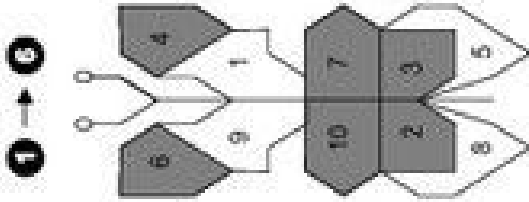
8 $8 + 2 = 10$

9 $+ 2 = 5$

10 $0 + 2 = 2$

11 $+ 2 = 9$

12 $5 + 2 = 7$



© Michael Jung, Braunschweig 2008

Klasse

Plusaufgaben mit 2 (Lösungen)

Rechne die Aufgaben aus und schreibe die Lösungen auf! Male rechts die Felder mit den Lösungszahlen farbig aus!

1 $5 + 2 = 7$

2 $7 + 2 = 9$

3 $3 + 2 = 5$

4 $8 + 2 = 10$

5 $0 + 2 = 2$

6 $6 + 2 = 8$

7 $4 + 2 = 6$

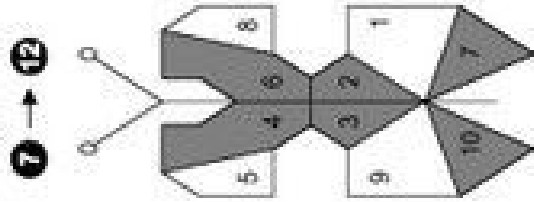
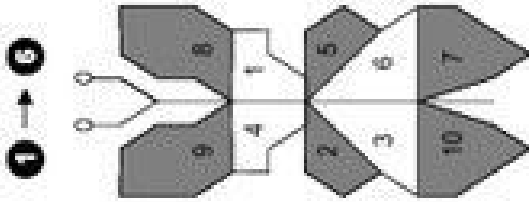
8 $1 + 2 = 3$

9 $5 + 2 = 7$

10 $2 + 2 = 4$

11 $8 + 2 = 10$

12 $0 + 2 = 2$



© Michael Jung, Braunschweig 2008



Netzwerk lernen

zur Vollversion

Klasse

Name

Klasse

Minusaufgaben mit 2

Rechne die Aufgaben aus und schreibe die Lösungen auf! Verbinde rechts die Aufgabennummern mit den Lösungszahlen!

1	8 - 2 =	2	4 - 2 =	1 → 6
3	9 - 2 =	4	2 - 2 =	2
5	5 - 2 =	6	10 - 2 =	3
7	1 - 2 =	8	7 - 2 =	0
9	1 - 2 =	10	9 - 2 =	7
11	0 - 2 =	12	6 - 2 =	8

1	2	3	4	5	6	7	8
1	2	3	4	5	6	7	8

© Michael Jung, Braunschweig 2008

Minusaufgaben mit 2

Rechne die Aufgaben aus und schreibe die Lösungen auf! Verbinde rechts die Aufgabennummern mit den Lösungszahlen!

1	6 - 2 =	2	2 - 2 =	1 → 6
3	3 - 2 =	4	10 - 2 =	4
5	7 - 2 =	6	9 - 2 =	8
7	8 - 2 =	8	5 - 2 =	1
9	9 - 2 =	10	4 - 2 =	0
11	2 - 2 =	12	10 - 2 =	0

1	2	3	4	5	6	7	8
1	2	3	4	5	6	7	8

© Michael Jung, Braunschweig 2008



netzwerk
lernen

zur Vollversion

Name

Klasse

Klasse

Minusaufgaben mit 2 (Lösungen)

Rechne die Aufgaben aus und schreibe die Lösungen auf! Verbinde rechts die Aufgabennummern mit den Lösungszahlen!

1 $8 - 2 = 6$ 2 $4 - 2 = 2$

3 $9 - 2 = 7$ 4 $2 - 2 = 0$

5 $5 - 2 = 3$ 6 $10 - 2 = 8$

7 $1 - 2 = 1$ 8 $7 - 2 = 5$

9 $1 - 2 = 0$ 10 $9 - 2 = 7$

11 $0 - 2 = 8$ 12 $6 - 2 = 4$

1 $6 - 2 = 4$ 2 $2 - 2 = 0$

3 $3 - 2 = 1$ 4 $10 - 2 = 8$

5 $7 - 2 = 5$ 6 $9 - 2 = 7$

7 $8 - 2 = 6$ 8 $5 - 2 = 3$

9 $9 - 2 = 7$ 10 $4 - 2 = 2$

11 $2 - 2 = 0$ 12 $10 - 2 = 8$

Minusaufgaben mit 2 (Lösungen)

Rechne die Aufgaben aus und schreibe die Lösungen auf! Verbinde rechts die Aufgabennummern mit den Lösungszahlen!

1 $1 \rightarrow 3$

2 $1 \rightarrow 3$

3 $1 \rightarrow 3$

4 $1 \rightarrow 3$

5 $1 \rightarrow 3$

6 $1 \rightarrow 3$

7 $1 \rightarrow 3$

7 $7 \rightarrow 12$

8 $7 \rightarrow 12$

9 $7 \rightarrow 12$

10 $7 \rightarrow 12$

11 $7 \rightarrow 12$

12 $7 \rightarrow 12$

Plus- und Minusaufgaben mit 2

Rechne die Aufgaben aus und schreibe die Lösungen auf! Zeichne rechts Kreise um die Lösungszahlen! Male die Kreise farbig aus!

1 → 6

6 + 2 = 8 4 - 2 =

1	10	9
0	2	3
7	6	8
4		5

7 - 2 = 8 + 2 =

5 + 2 = 8 - 2 =

7 → 12

- 2 = 4 + 2 =

9		
3	1	5
7	2	8
6	10	0
		4

+ 2 = 2 - 2 =

- 2 = 7 + 2 =

© Michael Jung, Braunschweig 2008

Plus- und Minusaufgaben mit 2

Rechne die Aufgaben aus und schreibe die Lösungen auf! Zeichne rechts Kreise um die Lösungszahlen! Male die Kreise farbig aus!

1 → 6

7 + 2 = 9 2 - 2 =

1	4	0
8	9	7
3	10	5
		2

5 - 2 = 4 + 2 =

3 + 2 = 3 - 2 =

7 → 12

8 - 2 = 5 + 2 =

0		
9	7	1
2	10	6
3	5	4
		8

6 + 2 = 4 - 2 =

7 - 2 = 8 + 2 =

© Michael Jung, Braunschweig 2008