




Name: _____

Klasse: _____

Datum: _____

Tiere 1

Wo ist das Gleiche?



Zu jeder der Aufgaben von A bis L gehört unten eine Lösung mit einer Lösungszahl. Schreibe diese Zahl in das Feld bei der Aufgabe. Male dann im Kontroll-Block alle Felder mit den Lösungszahlen aus! Wenn du alles richtig machst, sieht das Farbmuster im Kontroll-Block schön gleichmäßig aus.

A	24	B		C		D		E		F	
G		H		I		J		K		L	

1	2	3	4	5	6
7	8	9	10	11	12
13	14	Kontroll-Block		15	16
17	18			19	20
21	22			23	24

www.netzwerk-lernen.de (c) Michael Jung, Braunschweig 2010



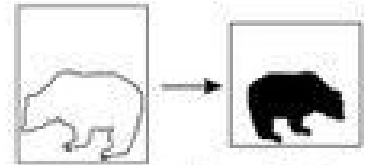
Name: _____

Klasse: _____

Datum: _____

Tiere 3

Ordne jedem weißen Tier das gespiegelte schwarze zu!



Zu jeder der Aufgaben von A bis L gehört unten eine Lösung mit einer Lösungszahl. Schreibe diese Zahl in das Feld bei der Aufgabe. Male dann im Kontroll-Block alle Felder mit den Lösungszahlen aus! Wenn du alles richtig machst, sieht das Farbmuster im Kontroll-Block schön gleichmäßig aus.

A 24 	B 	C 	D 	E 	F
G 	H 	I 	J 	K 	L

1 	2 	3 	4 	5 	6
7 	8 	9 	10 	11 	12
13 	14 	Kontroll-Block		15 	16
17 	18 	5 6 7 8 9 10	11 12	19 	20
21 	22 	13 14 15 16	17 18 19 20 21 22	23 	24
		17 18 19 20 21 22	23 24		

www.netzwerk-lernen.de (c) Michael Jung, Braunschweig 2010



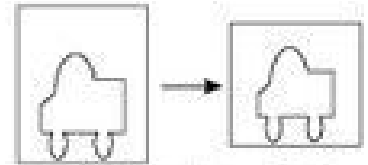
Name: _____

Klasse: _____

Datum: _____

Fahrzeuge 1

Wo findest du das gleiche Auto?



Zu jeder der Aufgaben von A bis L gehört unten eine Lösung mit einer Lösungszahl. Schreibe diese Zahl in das Feld bei der Aufgabe. Male dann im Kontroll-Block alle Felder mit den Lösungszahlen aus! Wenn du alles richtig machst, sieht das Farbmuster im Kontroll-Block schön gleichmäßig aus.

A <input type="text" value="20"/>	B <input type="text"/>	C <input type="text"/>	D <input type="text"/>	E <input type="text"/>	F <input type="text"/>
G <input type="text"/>	H <input type="text"/>	I <input type="text"/>	J <input type="text"/>	K <input type="text"/>	L <input type="text"/>

		Kontroll-Block <table border="1" style="margin: auto;"> <tr><td>1</td><td>2</td><td>3</td><td>4</td></tr> <tr><td>5</td><td>6</td><td>7</td><td>8</td><td>9</td><td>10</td></tr> <tr><td colspan="2"></td><td>11</td><td>12</td><td colspan="2"></td></tr> <tr><td>13</td><td>14</td><td>15</td><td>16</td></tr> <tr><td>17</td><td>18</td><td>19</td><td>20</td><td>21</td><td>22</td></tr> <tr><td colspan="2"></td><td>23</td><td>24</td><td colspan="2"></td></tr> </table>		1	2	3	4	5	6	7	8	9	10			11	12			13	14	15	16	17	18	19	20	21	22			23	24				
1	2	3	4																																		
5	6	7	8	9	10																																
		11	12																																		
13	14	15	16																																		
17	18	19	20	21	22																																
		23	24																																		

www.netzwerk-lernen.de (c) Michael Jung, Braunschweig 2010



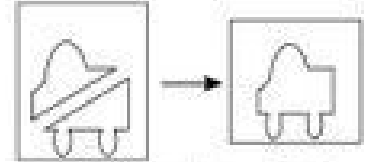
Name: _____

Klasse: _____

Datum: _____

Fahrzeuge 3

Wo ist jeweils das zusammengesetzte Auto?



Zu jeder der Aufgaben von A bis L gehört unten eine Lösung mit einer Lösungszahl. Schreibe diese Zahl in das Feld bei der Aufgabe. Male dann im Kontroll-Block alle Felder mit den Lösungszahlen aus! Wenn du alles richtig machst, sieht das Farbmuster im Kontroll-Block schön gleichmäßig aus.

A <input type="text" value="20"/> 	B <input type="text"/> 	C <input type="text"/> 	D <input type="text"/> 	E <input type="text"/> 	F <input type="text"/>
G <input type="text"/> 	H <input type="text"/> 	I <input type="text"/> 	J <input type="text"/> 	K <input type="text"/> 	L <input type="text"/>

1	2	3	4	5	6																																		
7	8	9	10	11	12																																		
13	14	Kontroll-Block		15	16																																		
17	18	<table border="1"> <tr><td>1</td><td>2</td><td>3</td><td>4</td></tr> <tr><td>5</td><td>6</td><td>7</td><td>8</td><td>9</td><td>10</td></tr> <tr><td colspan="2"></td><td>11</td><td>12</td><td colspan="2"></td></tr> <tr><td>13</td><td>14</td><td>15</td><td>16</td><td colspan="2"></td></tr> <tr><td>17</td><td>18</td><td>19</td><td>20</td><td>21</td><td>22</td></tr> <tr><td colspan="2"></td><td>23</td><td>24</td><td colspan="2"></td></tr> </table>		1	2	3	4	5	6	7	8	9	10			11	12			13	14	15	16			17	18	19	20	21	22			23	24			19	20
1	2	3	4																																				
5	6	7	8	9	10																																		
		11	12																																				
13	14	15	16																																				
17	18	19	20	21	22																																		
		23	24																																				
21	22			23	24																																		

www.netzwerk-lernen.de (c) Michael Jung, Braunschweig 2010



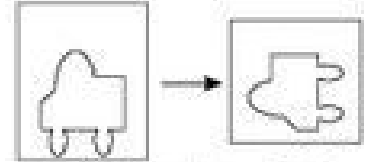
Name: _____

Klasse: _____

Datum: _____

Fahrzeuge 4

Wo findest du das gleiche Auto, das gedreht wurde?



Zu jeder der Aufgaben von A bis L gehört unten eine Lösung mit einer Lösungszahl. Schreibe diese Zahl in das Feld bei der Aufgabe. Male dann im Kontroll-Block alle Felder mit den Lösungszahlen aus! Wenn du alles richtig machst, sieht das Farbmuster im Kontroll-Block schön gleichmäßig aus.

A <input type="text" value="20"/>	B <input type="text"/>	C <input type="text"/>	D <input type="text"/>	E <input type="text"/>	F <input type="text"/>
G <input type="text"/>	H <input type="text"/>	I <input type="text"/>	J <input type="text"/>	K <input type="text"/>	L <input type="text"/>

1 	2 	3 	4 	5 	6 																																		
7 	8 	9 	10 	11 	12 																																		
13 	14 	Kontroll-Block		15 	16 																																		
17 	18 	<table border="1"> <tr><td>1</td><td>2</td><td>3</td><td>4</td></tr> <tr><td>5</td><td>6</td><td>7</td><td>8</td><td>9</td><td>10</td></tr> <tr><td colspan="2"></td><td>11</td><td>12</td><td colspan="2"></td></tr> <tr><td>13</td><td>14</td><td>15</td><td>16</td><td colspan="2"></td></tr> <tr><td>17</td><td>18</td><td>19</td><td>20</td><td>21</td><td>22</td></tr> <tr><td colspan="2"></td><td>23</td><td>24</td><td colspan="2"></td></tr> </table>		1	2	3	4	5	6	7	8	9	10			11	12			13	14	15	16			17	18	19	20	21	22			23	24			19 	20
1	2	3	4																																				
5	6	7	8	9	10																																		
		11	12																																				
13	14	15	16																																				
17	18	19	20	21	22																																		
		23	24																																				
21 	22 			23 	24 																																		

www.netzwerk-lernen.de (c) Michael Jung, Braunschweig 2010



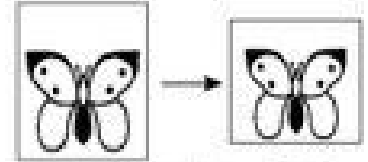
Name: _____

Klasse: _____

Datum: _____

Schmetterlinge 1

Wo ist der Gleiche?



Zu jeder der Aufgaben von A bis L gehört unten eine Lösung mit einer Lösungszahl. Schreibe diese Zahl in das Feld bei der Aufgabe. Male dann im Kontroll-Block alle Felder mit den Lösungszahlen aus! Wenn du alles richtig machst, sieht das Farbmuster im Kontroll-Block schön gleichmäßig aus.

A	<input type="text" value="13"/>	B	<input type="text"/>	C	<input type="text"/>	D	<input type="text"/>	E	<input type="text"/>	F	<input type="text"/>
G	<input type="text"/>	H	<input type="text"/>	I	<input type="text"/>	J	<input type="text"/>	K	<input type="text"/>	L	<input type="text"/>

		Kontroll-Block																															
		<table border="1"> <tr><td>1</td><td>2</td><td>3</td><td>4</td></tr> <tr><td>5</td><td>6</td><td>7</td><td>8</td><td>9</td><td>10</td></tr> <tr><td>11</td><td>12</td><td>13</td><td>14</td><td>15</td><td>16</td></tr> <tr><td>17</td><td>18</td><td>19</td><td>20</td><td>21</td><td>22</td></tr> <tr><td>23</td><td>24</td><td></td><td></td><td></td><td></td></tr> </table>		1	2	3	4	5	6	7	8	9	10	11	12	13	14	15	16	17	18	19	20	21	22	23	24						
1	2	3	4																														
5	6	7	8	9	10																												
11	12	13	14	15	16																												
17	18	19	20	21	22																												
23	24																																
		<table border="1"> <tr><td>17</td><td>18</td><td>19</td><td>20</td><td>21</td><td>22</td></tr> <tr><td>23</td><td>24</td><td></td><td></td><td></td><td></td></tr> </table>		17	18	19	20	21	22	23	24																						
17	18	19	20	21	22																												
23	24																																

www.netzwerk-lernen.de (c) Michael Jung, Braunschweig 2010