

Name: \_\_\_\_\_ Klasse: \_\_\_\_\_

**Minusaufgaben mit 0, 1 oder 2**  
Löse die Aufgaben und schreibe die Ergebnisse in die Lösungsfelder!  
Suche dann rechts auf dem Kontrollbild die Lösungszahl! Verbinde jeweils die Aufgabennummer mit der zugehörigen Lösungszahl!

1	$10-1=$	1
2	$6-2=$	1
3	$4-1=$	9
4	$7-2=$	2
5	$4-1=$	7
6	$7-2=$	10
7	$7-1=$	5
8	$2-2=$	3
9	$4-2=$	0
10	$2-1=$	😊
11	$10-2=$	6
12	$2-2=$	8

Kontrollbild

Name: \_\_\_\_\_ Klasse: \_\_\_\_\_

**Minusaufgaben mit 0, 1 oder 2**  
Löse die Aufgaben und schreibe die Ergebnisse in die Lösungsfelder!  
Suche dann rechts auf dem Kontrollbild die Lösungszahl! Verbinde jeweils die Aufgabennummer mit der zugehörigen Lösungszahl!

1	$10-0=$	1
2	$3-2=$	3
3	$3-2=$	10
4	$1-1=$	5
5	$1-1=$	7
6	$3-1=$	2
7	$3-1=$	8
8	$5-1=$	0
9	$5-1=$	4
10	$9-0=$	😊
11	$5-2=$	9
12	$9-0=$	6


Kontrollbild

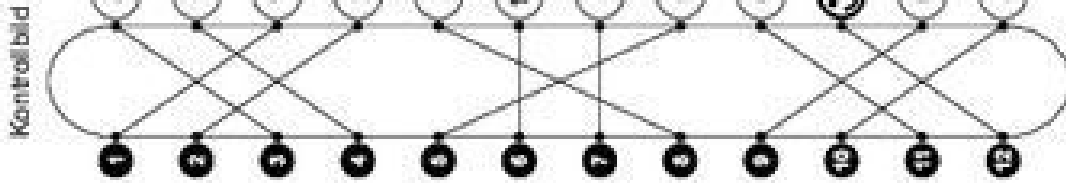
Name:

Klasse:

**Minusaufgaben mit 0, 1 oder 2 (Lösung)**

Löse die Aufgaben und schreibe die Ergebnisse in die Lösungsfelder!  
Suche dann rechts auf dem Kontrollbild die Lösungszahl! Verbinde jeweils die Aufgabennummer mit der zugehörigen Lösungszahl!

1	$10-1=9$	9	$4-2=2$	2
2	$6-2=4$	4	$2-1=1$	1
3	$4-1=3$	3	$10-0=10$	10
4	$7-2=5$	5	$8-1=7$	7
5	$7-1=6$	6	$10-2=8$	8
6	$2-2=0$	0		




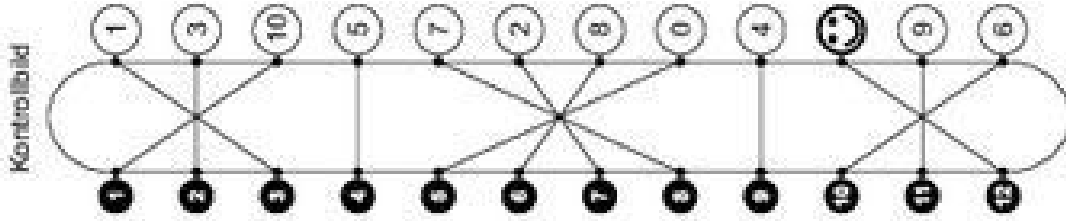
Name:

Klasse:

**Minusaufgaben mit 0, 1 oder 2 (Lösung)**

Löse die Aufgaben und schreibe die Ergebnisse in die Lösungsfelder!  
Suche dann rechts auf dem Kontrollbild die Lösungszahl! Verbinde jeweils die Aufgabennummer mit der zugehörigen Lösungszahl!




1	$10-0=10$	10	$5-2=3$	3
2	$3-2=1$	1	$6-1=5$	5
3	$1-1=0$	0	$9-1=8$	8
4	$3-1=2$	2	$9-2=7$	7
5	$5-1=4$	4	$8-2=6$	6
6	$9-0=9$	9		





Name: \_\_\_\_\_ Klasse: \_\_\_\_\_

### Plus- und Minusaufgaben mit 0, 1 oder 2

Löse die Aufgaben und schreibe die Ergebnisse in die Lösungsfelder!  
Suche dann unten auf dem Kontrollbild die Lösungszahl! Zeichne dort in die Feder die bei der Aufgabe angegebenen Symbole!

1	<input type="checkbox"/>	$4+2=$	<input type="checkbox"/>	$3-2=$	<input type="checkbox"/>	2	<input type="checkbox"/>	$4+2=$	<input type="checkbox"/>	$7+1=$	<input type="checkbox"/>	3	<input type="checkbox"/>	$5-2=$	<input type="checkbox"/>	4	<input type="checkbox"/>	$5-2=$
5	<input type="checkbox"/>	$6-1=$	<input type="checkbox"/>	$8+2=$	<input type="checkbox"/>	6	<input type="checkbox"/>	$6-1=$	<input type="checkbox"/>	$4-2=$	<input type="checkbox"/>	7	<input type="checkbox"/>	$6+1=$	<input type="checkbox"/>	8	<input type="checkbox"/>	$6+1=$
9	<input type="checkbox"/>	$7+2=$	<input type="checkbox"/>	$7+2=$	<input type="checkbox"/>	9	<input type="checkbox"/>	$7+2=$	<input type="checkbox"/>	$5-1=$	<input type="checkbox"/>	10	<input type="checkbox"/>	$5-1=$	<input type="checkbox"/>	11	<input type="checkbox"/>	$5-1=$
13	<input type="checkbox"/>	$2-2=$	<input type="checkbox"/>	$2-2=$	<input type="checkbox"/>	13	<input type="checkbox"/>	$2-2=$	<input type="checkbox"/>		<input type="checkbox"/>	14	<input type="checkbox"/>		<input type="checkbox"/>	15	<input type="checkbox"/>	

Kontrollbild

1	4	8	10
0	2	0	0
7	6	3	9
	9		5




Male gleiche Symbole in den gleichen Farben aus!

5


Name: \_\_\_\_\_ Klasse: \_\_\_\_\_

### Plus- und Minusaufgaben mit 0, 1 oder 2

Löse die Aufgaben und schreibe die Ergebnisse in die Lösungsfelder!  
Suche dann unten auf dem Kontrollbild die Lösungszahl! Zeichne dort in die Feder die bei der Aufgabe angegebenen Symbole!

1	<input type="checkbox"/>	$5+2=$	<input type="checkbox"/>	$1-1=$	<input type="checkbox"/>	2	<input type="checkbox"/>	$5+2=$	<input type="checkbox"/>	$8+1=$	<input type="checkbox"/>	3	<input type="checkbox"/>	$7-2=$	<input type="checkbox"/>	4	<input type="checkbox"/>	$7-2=$
5	<input type="checkbox"/>	$4-1=$	<input type="checkbox"/>	$5+1=$	<input type="checkbox"/>	5	<input type="checkbox"/>	$4-1=$	<input type="checkbox"/>	$4-2=$	<input type="checkbox"/>	6	<input type="checkbox"/>	$9+1=$	<input type="checkbox"/>	7	<input type="checkbox"/>	$9+1=$
9	<input type="checkbox"/>	$6+2=$	<input type="checkbox"/>	$6+2=$	<input type="checkbox"/>	9	<input type="checkbox"/>	$6+2=$	<input type="checkbox"/>	$6-2=$	<input type="checkbox"/>	10	<input type="checkbox"/>	$6-2=$	<input type="checkbox"/>	11	<input type="checkbox"/>	$6-2=$
13	<input type="checkbox"/>	$2-1=$	<input type="checkbox"/>	$2-1=$	<input type="checkbox"/>	13	<input type="checkbox"/>	$2-1=$	<input type="checkbox"/>		<input type="checkbox"/>	14	<input type="checkbox"/>		<input type="checkbox"/>	15	<input type="checkbox"/>	

Kontrollbild



10	8	6	3
0	0	7	7
1	9		4
2	5	2	5

Male gleiche Symbole in den gleichen Farben aus!

6

Name: \_\_\_\_\_ Klasse: \_\_\_\_\_

**Plus- und Minusaufgaben mit 0, 1 oder 2 (Lösung)**  
 Löse die Aufgaben und schreibe die Ergebnisse in die Lösungsfelder!  
 Suche dann unten auf dem Kontrollbild die Lösungszahl! Zeichne dort in die Feder die bei der Aufgabe angegebenen Symbole!

<input type="checkbox"/>	<input type="checkbox"/>	<input type="checkbox"/>	<input type="checkbox"/>
1-1=	3-2=	7+1=	5-2=
6	1	8	3
2	3	4	8
5	6	7	9
4-1=	8+2=	4-2=	6+1=
5	10	2	7
9	10	11	12
<input type="checkbox"/>	<input type="checkbox"/>	<input type="checkbox"/>	<input type="checkbox"/>
7+2=	5-1=		
9	4		
<input type="checkbox"/>	<input type="checkbox"/>		
2-2=	0		

**Kontrollbild**



1	4	8	10
0	2	6	3
7	9	5	10
☹	9	☹	5

Male gleiche Symbole in den gleichen Farben aus!

5 (L)

Name: \_\_\_\_\_ Klasse: \_\_\_\_\_

**Plus- und Minusaufgaben mit 0, 1 oder 2 (Lösung)**  
 Löse die Aufgaben und schreibe die Ergebnisse in die Lösungsfelder!  
 Suche dann unten auf dem Kontrollbild die Lösungszahl! Zeichne dort in die Feder die bei der Aufgabe angegebenen Symbole!


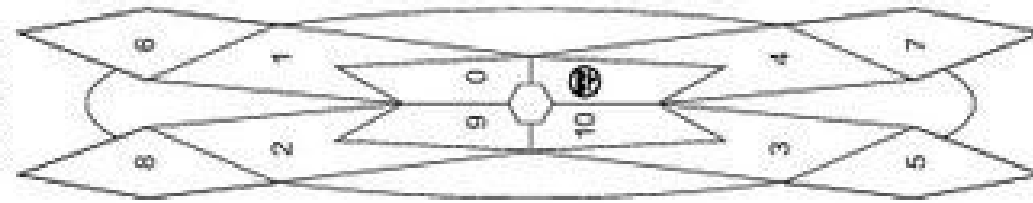
<input type="checkbox"/>	<input type="checkbox"/>	<input type="checkbox"/>	<input type="checkbox"/>
5+2=	1-1=	8+1=	7-2=
7	0	9	5
2	3	4	8
5	6	7	9
4-1=	5+1=	4-2=	9+1=
3	6	2	10
9	10	11	12
<input type="checkbox"/>	<input type="checkbox"/>	<input type="checkbox"/>	<input type="checkbox"/>
6+2=	6-2=		
8	4		
<input type="checkbox"/>	<input type="checkbox"/>		
2-1=	1		


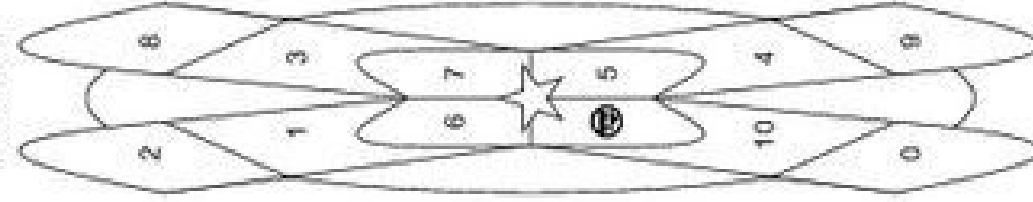
**Kontrollbild**

10	8	6	7
3	0	☹	4
0	3	9	5
1	9	2	5

Male gleiche Symbole in den gleichen Farben aus!

6 (L)

Name:		Klasse:	
<p><b>Plusaufgaben bis 10</b> Löse die Aufgaben und schreibe die Ergebnisse in die Lösungsfelder! Suche dann rechts auf dem Kontrollbild die Lösungszahl! Male die Felder in den bei der Aufgabe angegebenen Farben aus!</p>			
<input type="radio"/> blau	$1+3=$ ○	<input checked="" type="radio"/> gelb	$2+4=$ ○
<input checked="" type="radio"/> rot	$0+0=$ ○	<input checked="" type="radio"/> blau	$0+2=$ ○
<input checked="" type="radio"/> gelb	$2+3=$ ○	<input checked="" type="radio"/> rot	
<input checked="" type="radio"/> blau	$+0=$ ○	<input checked="" type="radio"/> gelb	$4+4=$ ○
<input checked="" type="radio"/> rot	$+3=$ ○	<input checked="" type="radio"/> blau	$1+2=$ ○
<input checked="" type="radio"/> gelb	$+4=$ ○	<input checked="" type="radio"/> rot	$4+5=$ ○
		Kontrollbild	
			

Name:		Klasse:	
<p><b>Plusaufgaben bis 10</b> Löse die Aufgaben und schreibe die Ergebnisse in die Lösungsfelder! Suche dann rechts auf dem Kontrollbild die Lösungszahl! Male die Felder in den bei der Aufgabe angegebenen Farben aus!</p>			
<input checked="" type="radio"/> blau	$1+1=$ ○	<input checked="" type="radio"/> gelb	$2+2=$ ○
<input checked="" type="radio"/> rot	$2+4=$ ○	<input checked="" type="radio"/> blau	$3+6=$ ○
<input checked="" type="radio"/> gelb	$0+1=$ ○	<input checked="" type="radio"/> rot	
<input checked="" type="radio"/> blau	$5+3=$ ○	<input checked="" type="radio"/> gelb	$6+4=$ ○
<input checked="" type="radio"/> rot	$1+4=$ ○	<input checked="" type="radio"/> blau	$0+0=$ ○
<input checked="" type="radio"/> gelb	$0+3=$ ○	<input checked="" type="radio"/> rot	$2+5=$ ○
		Kontrollbild	
			

Name:		Klasse:	
<p><b>Plusaufgaben bis 10 (Lösung)</b>          Löse die Aufgaben und schreibe die Ergebnisse in die Lösungsfelder!          Suche dann rechts auf dem Kontrollbild die Lösungszahl! Male die          Felder in den bei der Aufgabe angegebenen Farben aus!</p>			
<input checked="" type="radio"/> blau	$1+3=4$	<input checked="" type="radio"/> gelb	$2+4=6$
<input checked="" type="radio"/> rot	$0+0=0$	<input checked="" type="radio"/> blau	$0+2=2$
<input checked="" type="radio"/> gelb	$2+3=5$	<input checked="" type="radio"/> rot	
<input checked="" type="radio"/> blau	$+0=1$	<input checked="" type="radio"/> gelb	$4+4=8$
<input checked="" type="radio"/> rot	$+3=10$	<input checked="" type="radio"/> blau	$1+2=3$
<input checked="" type="radio"/> gelb	$+4=7$	<input checked="" type="radio"/> rot	$4+5=9$
Kontrollbild			

Name:		Klasse:	
<p><b>Plusaufgaben bis 10 (Lösung)</b>          Löse die Aufgaben und schreibe die Ergebnisse in die Lösungsfelder!          Suche dann rechts auf dem Kontrollbild die Lösungszahl! Male die          Felder in den bei der Aufgabe angegebenen Farben aus!</p>			
<input checked="" type="radio"/> blau	$1+1=2$	<input checked="" type="radio"/> gelb	$2+2=4$
<input checked="" type="radio"/> rot	$2+4=6$	<input checked="" type="radio"/> blau	$3+6=9$
<input checked="" type="radio"/> gelb	$0+1=1$	<input checked="" type="radio"/> rot	
<input checked="" type="radio"/> blau	$5+3=8$	<input checked="" type="radio"/> gelb	$6+4=10$
<input checked="" type="radio"/> rot	$1+4=5$	<input checked="" type="radio"/> blau	$0+0=0$
<input checked="" type="radio"/> gelb	$0+3=3$	<input checked="" type="radio"/> rot	$2+5=7$
Kontrollbild			

Name: \_\_\_\_\_ Klasse: \_\_\_\_\_

### Minusaufgaben bis 10

Löse die Aufgaben und schreibe die Ergebnisse in die Lösungsfelder!  
Suche dann rechts auf dem Kontrollbild die Lösungszahl! Verbinde jeweils die Aufgabennummer mit der zugehörigen Lösungszahl!

1	$5-4=$	6	$8-3=$
2	$10-0=$	0	$9-1=$
3	$8-2=$	0	$7-5=$
4	$1-4=$	0	
5	$5-3=$	10	$10-1=$
6	$9-2=$	6	$9-5=$
7		7	
8		0	
9		9	
10		0	
11		3	
12		4	

Kontrollbild

Name: \_\_\_\_\_ Klasse: \_\_\_\_\_

### Minusaufgaben bis 10

Löse die Aufgaben und schreibe die Ergebnisse in die Lösungsfelder!  
Suche dann rechts auf dem Kontrollbild die Lösungszahl! Verbinde jeweils die Aufgabennummer mit der zugehörigen Lösungszahl!

1	$6-4=$	7	$8-1=$
2	$10-5=$	0	$6-5=$
3	$9-0=$	0	$9-3=$
4	$7-4=$	0	
5	$5-5=$	10	$10-2=$
6	$8-4=$	4	$10-0=$
7		7	
8		0	
9		9	
10		0	
11		10	
12		4	

Kontrollbild



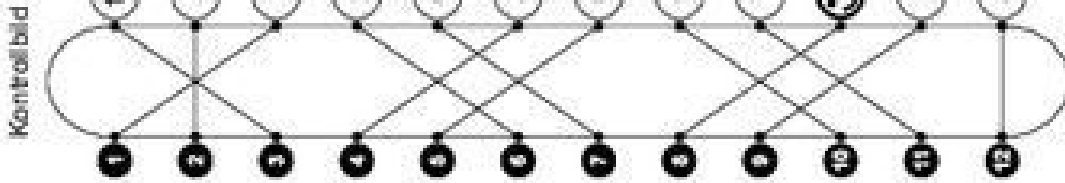
Name:

Klasse:

### Minusaufgaben bis 10 (Lösung)

Löse die Aufgaben und schreibe die Ergebnisse in die Lösungsfelder!  
Suche dann rechts auf dem Kontrollbild die Lösungszahl! Verbinde jeweils die Aufgabennummer mit der zugehörigen Lösungszahl!

1	$5-4=1$	1	$8-3=5$
2	$10-0=10$	2	$9-1=8$
3	$8-2=6$	3	$7-5=2$
4	$1-4=0$	4	
5	$5-3=3$	5	$10-1=9$
6	$9-2=7$	6	$9-5=4$



Name:

Klasse:

### Minusaufgaben bis 10 (Lösung)

Löse die Aufgaben und schreibe die Ergebnisse in die Lösungsfelder!  
Suche dann rechts auf dem Kontrollbild die Lösungszahl! Verbinde jeweils die Aufgabennummer mit der zugehörigen Lösungszahl!

1	$6-4=2$	1	$8-1=7$
2	$10-5=5$	2	$6-5=1$
3	$9-0=9$	3	$9-3=6$
4	$7-4=3$	4	
5	$5-5=0$	5	$10-2=8$
6	$8-4=4$	6	$10-0=10$

