

A




2 jfjH
2 ap surtsumm
unz uegfneite

unz uegfneite
Partneer 11 unuz ap
Partneer 11 unuz ap
Partneer 11 unuz ap
Partneer 11 unuz ap
Partneer 11 unuz ap
Partneer 11 unuz ap
Partneer 11 unuz ap
Partneer 11 unuz ap

A Wie viel ist 4 geteilt durch 2?	2
B Wie viel ist 12 geteilt durch 2?	6
C Wie viel ist 8 geteilt durch 2?	4
D Wie viel ist 18 geteilt durch 2?	9

1a



Teilaufgaben zum Ermitteln der 2 Heft 2

Unsere Partner / deine Partnerin die 11 Aufgaben auf den folgenden 3 Seiten vor und überprüfe, ob seine / ihre Antworten richtig sind. Dirke anschließend das Heft um und lass die durch von deinem Partner / deiner Partnerin die anderen 11 Aufgaben vorlesen.

B

E Wie viel ist 2 geteilt durch 2?	1
F wie viel ist 16 geteilt durch 2?	8
G Wie viel ist 0 geteilt durch 2?	0
H Wie viel ist 10 geteilt durch 2?	5

2a

© Gehirn Jogging für Kinder - Michael Jung, Braunschweig

A Wie viel ist 6 geteilt durch 2?	3
B Wie viel ist 10 geteilt durch 2?	5
C Wie viel ist 0 geteilt durch 2?	0
D Wie viel ist 16 geteilt durch 2?	8

1b

E Wie viel ist 4 geteilt durch 2?	2
F Wie viel ist 20 geteilt durch 2?	10
G Wie viel ist 8 geteilt durch 2?	4
H Wie viel ist 12 geteilt durch 2?	6

2b

I Wie viel ist 6 geteilt durch 2?	3
J Wie viel ist 14 geteilt durch 2?	7
K Wie viel ist 20 geteilt durch 2?	10

3a

Ende

3c

6	2 durch 2 ist 1
7	2 durch 2 ist 1
8	2 durch 2 ist 1
9	2 durch 2 ist 1

A

Partnerhaft

2 ap suareumij
umz ueqfneijel

4 jfjH

2 ap suareumij
umz ueqfneijel



A	2 ist 4 geteilt durch wie viel?	2
B	2 ist 12 geteilt durch wie viel?	6
C	2 ist 18 geteilt durch wie viel?	9
D	2 ist 8 geteilt durch wie viel?	4

1a

B

Partnerhaft

Lesen (laut)
zu zweit

Teilaufgaben zum
Ermitteln der 2
Hält 4

Lesen dieses Partner / deiner Partnerin
die 10 Aufgaben auf den folgenden
3 Seiten vor und überprüfe, ob seine /
ihre Antworten richtig sind. Durch
anschließend das Heft um und lass
die durch von deinem Partner / deiner
Partnerin die anderen 10 Aufgaben
vorlesen.

B

E	2 ist 2 geteilt durch wie viel?	1
F	2 ist 14 geteilt durch wie viel?	7
G	2 ist 20 geteilt durch wie viel?	10
H	2 ist 10 geteilt durch wie viel?	5

2a

A	2 ist 6 geteilt durch wie viel?	3
B	2 ist 18 geteilt durch wie viel?	9
C	2 ist 4 geteilt durch wie viel?	2
D	2 ist 16 geteilt durch wie viel?	8

1b

E	2 ist 20 geteilt durch wie viel?	10
F	2 ist 8 geteilt durch wie viel?	4
G	2 ist 12 geteilt durch wie viel?	6
H	2 ist 2 geteilt durch wie viel?	1

2b

I	2 ist 6 geteilt durch wie viel?	3
J	2 ist 16 geteilt durch wie viel?	8

Ende

3a

9	2 ist 18 geteilt durch wie viel?	9
4	2 ist 8 geteilt durch wie viel?	4

3c


apuz

A

unabhängig 11. unabhangig von anderen
Partner / Partnerinnen
sind und nicht zur
Erhaltung der Partnerschaft
notwendig sind. / Partner / Partnerinnen
sind nicht zur
Erhaltung der Partnerschaft
notwendig sind.


1. Teil

3. Teil



A	24 geteilt durch 3 ist wie viel?	8
B	12 geteilt durch 3 ist wie viel?	4
C	27 geteilt durch 3 ist wie viel?	9
D	18 geteilt durch 3 ist wie viel?	6

1a



Teilaufgaben zum
Ermitteln der 3.
Halfte

Lesen Sie die Partner / Partnerinnen
auf den folgenden
3. Seiten vor und uberprufen, ob seine /
ihre Antworten richtig sind. Daraus
anschlieend das Heft um und lassen
die durch von diesem Partner / Partnerinnen
Partnerinnen die anderen 11 Aufgaben
vorlesen.

B

E	6 geteilt durch 3 ist wie viel?	2
F	30 geteilt durch 3 ist wie viel?	10
G	9 geteilt durch 3 ist wie viel?	3
H	0 geteilt durch 3 ist wie viel?	0

2a

A	9 geteilt durch 3 ist wie viel?	3
B	3 geteilt durch 3 ist wie viel?	1
C	24 geteilt durch 3 ist wie viel?	8
D	15 geteilt durch 3 ist wie viel?	5

1b

E	0 geteilt durch 3 ist wie viel?	
F	21 geteilt durch 3 ist wie viel?	
G	30 geteilt durch 3 ist wie viel?	
H	12 geteilt durch 3 ist wie viel?	

2b

I	21 geteilt durch 3 ist wie viel?	7
J	3 geteilt durch 3 ist wie viel?	1
K	15 geteilt durch 3 ist wie viel?	5

3a

ende		ende
2	21 geteilt durch 3 ist wie viel?	9
9	21 geteilt durch 3 ist wie viel?	6
6	21 geteilt durch 3 ist wie viel?	2

3c

[zur Vollversion](#)


A

Partnerheit
2 2

3 jap suieimurij
unz uegfneiej


2 jfjH

Wie viele Partner / deiner Partnerin die 11 Aufgaben auf den folgenden 3 Seiten vor und überprüfe, ob seine / ihre Antworten richtig sind. Drehe anschließend das Heft um und lass dir durch von deinem Partner / deiner Partnerin die anderen 11 Aufgaben vorstellen.



A Wie viel ist 15 geteilt durch 3?	5
B Wie viel ist 3 geteilt durch 3?	1
C Wie viel ist 21 geteilt durch 3?	7
D Wie viel ist 0 geteilt durch 3?	0

1a



Teilaufgaben zum Ermitteln der 3 Heft 2

Wie das dein Partner / deine Partnerin die 11 Aufgaben auf den folgenden 3 Seiten vor und überprüfe, ob seine / ihre Antworten richtig sind. Drehe anschließend das Heft um und lass dir durch von deinem Partner / deiner Partnerin die anderen 11 Aufgaben vorstellen.

B

E Wie viel ist 9 geteilt durch 3?	3
F wie viel ist 30 geteilt durch 3?	10
G Wie viel ist 6 geteilt durch 3?	2
H Wie viel ist 18 geteilt durch 3?	6

2a

A Wie viel ist 6 geteilt durch 3?	2
B Wie viel ist 18 geteilt durch 3?	6
C Wie viel ist 27 geteilt durch 3?	9
D Wie viel ist 12 geteilt durch 3?	4

1b

E Wie viel ist 30 geteilt durch 3?	10
F Wie viel ist 21 geteilt durch 3?	7
G Wie viel ist 0 geteilt durch 3?	0
H Wie viel ist 15 geteilt durch 3?	5

2b

I Wie viel ist 27 geteilt durch 3?	9
J Wie viel ist 12 geteilt durch 3?	4
K Wie viel ist 24 geteilt durch 3?	8

3a

QC Wie viel ist 6 geteilt durch 3?	2
QD Wie viel ist 24 geteilt durch 3?	8

QC

A

vorherige
Aufgabe 01. Entscheide dich, wie viele
Partner / Partnerinnen von dir
sind und um wie viel sie
mehr sind. Das Ergebnis
ist die Lösung für Aufgabe 01.
Die Partner / Partnerinnen
sind die Lösung für Aufgabe 01.

3 JH
3 jpp sueremurj
umz uegfgneijel



A 24 geteilt durch wie viel ist 3?	8
B 12 geteilt durch wie viel ist 3?	4
C 27 geteilt durch wie viel ist 3?	9
D 18 geteilt durch wie viel ist 3?	6

1a



Teilaufgaben zum
Ermitteln der 3
Hält 3

Lesen diesem Partner / deiner Partnerin
die 10 Aufgaben auf den folgenden
3 Seiten vor und überprüfe, ob sie
/ ihre Antworten richtig sind. Dir
entscheidend das Heft um und lass
de durch von deinem Partner / deiner
Partnerin die anderen 10 Aufgaben
vorlesen.

B

E 6 geteilt durch wie viel ist 3?	2
F 30 geteilt durch wie viel ist 3?	10
G 9 geteilt durch wie viel ist 3?	3
H 15 geteilt durch wie viel ist 3?	5

2a

A 9 geteilt durch wie viel ist 3?	3
B 3 geteilt durch wie viel ist 3?	1
C 24 geteilt durch wie viel ist 3?	8
D 15 geteilt durch wie viel ist 3?	5

1b

E 18 geteilt durch wie viel ist 3?	6
F 12 geteilt durch wie viel ist 3?	4
G 21 geteilt durch wie viel ist 3?	7
H 30 geteilt durch wie viel ist 3?	10

2b

I 21 geteilt durch wie viel ist 3?	7
J 3 geteilt durch wie viel ist 3?	1

Ende

3a

6	23 ist viel wie teilt 22
1	23 ist wie durch teilt 3


3c

A

von 100

Partner / Partnerin
Partner / Partnerin
Partner / Partnerin
Partner / Partnerin
Partner / Partnerin
Partner / Partnerin
Partner / Partnerin
Partner / Partnerin
Partner / Partnerin
Partner / Partnerin

4 Hektar
3 Hektar
3 Hektar
3 Hektar
3 Hektar
3 Hektar
3 Hektar
3 Hektar
3 Hektar
3 Hektar



- A** 3 ist
15 geteilt durch
wie viel? 5
- B** 3 ist
3 geteilt durch
wie viel? 1
- C** 3 ist
21 geteilt durch
wie viel? 7
- D** 3 ist
9 geteilt durch
wie viel? 3

1a



Teilaufgaben zum
Ergebnis der 3
Hektar

Lesen Sie den Partner / die Partnerin
der 10 Aufgaben auf den folgenden
3 Seiten vor und überlegen, ob seine /
ihre Antworten richtig sind. Durch
anschaufend das Heft um und lass
die durch von diesem Partner / dieser
Partnerin die anderen 10 Aufgaben
vorlesen.

B

- E** 3 ist
24 geteilt durch
wie viel? 8
- F** 3 ist
30 geteilt durch
wie viel? 10
- G** 3 ist
6 geteilt durch
wie viel? 2
- H** 3 ist
18 geteilt durch
wie viel? 6

2a

- A** 3 ist
6 geteilt durch
wie viel? 2
- B** 3 ist
18 geteilt durch
wie viel? 6
- C** 3 ist
27 geteilt durch
wie viel? 9
- D** 3 ist
12 geteilt durch
wie viel? 4

1b

- E** 3 ist
30 geteilt durch
wie viel? 10
- F** 3 ist
21 geteilt durch
wie viel? 7
- G** 3 ist
9 geteilt durch
wie viel? 3
- H** 3 ist
15 geteilt durch
wie viel? 5

2b

- I** 3 ist
27 geteilt durch
wie viel? 9
- J** 3 ist
12 geteilt durch
wie viel? 4

Ende

3a

- 1
durch 3
wie viel?
3
- 8
durch 3
wie viel?
3

3c

A

Partnerteil
 1. Partner
 2. Partner
 3. Partner
 4. Partner
 5. Partner
 6. Partner
 7. Partner
 8. Partner
 9. Partner
 10. Partner

1. Partner
 2. Partner
 3. Partner
 4. Partner
 5. Partner
 6. Partner
 7. Partner
 8. Partner
 9. Partner
 10. Partner

A	8 geteilt durch 4 ist wie viel?	2
B	32 geteilt durch 4 ist wie viel?	8
C	16 geteilt durch 4 ist wie viel?	4
D	40 geteilt durch 4 ist wie viel?	10

1a

Partnerteil
 1. Partner
 2. Partner
 3. Partner
 4. Partner
 5. Partner
 6. Partner
 7. Partner
 8. Partner
 9. Partner
 10. Partner

Teilaufgaben zum
Ermitteln der 4
Helfer 1

Lesen Sie die Partner / die Partnerinnen
der 11 Aufgaben auf den folgenden
3 Seiten vor und überlegen, ob seine /
ihre Antworten richtig sind. Diskutieren
anschließend das Heft um und lassen
die Partner von diesem Partner / dieser
Partnerin die anderen 11 Aufgaben
vorlesen.

B

E	24 geteilt durch 4 ist wie viel?	6
F	0 geteilt durch 4 ist wie viel?	0
G	4 geteilt durch 4 ist wie viel?	1
H	36 geteilt durch 4 ist wie viel?	9

2a

Partnerteil
 1. Partner
 2. Partner
 3. Partner
 4. Partner
 5. Partner
 6. Partner
 7. Partner
 8. Partner
 9. Partner
 10. Partner

A	0 geteilt durch 4 ist wie viel?	0
B	16 geteilt durch 4 ist wie viel?	4
C	8 geteilt durch 4 ist wie viel?	2
D	12 geteilt durch 4 ist wie viel?	3

1b

Partnerteil
 1. Partner
 2. Partner
 3. Partner
 4. Partner
 5. Partner
 6. Partner
 7. Partner
 8. Partner
 9. Partner
 10. Partner

E	32 geteilt durch 4 ist wie viel?	8
F	24 geteilt durch 4 ist wie viel?	6
G	36 geteilt durch 4 ist wie viel?	9
H	4 geteilt durch 4 ist wie viel?	1

2b

I	28 geteilt durch 4 ist wie viel?	7
J	20 geteilt durch 4 ist wie viel?	5
K	12 geteilt durch 4 ist wie viel?	3

3a

L	5	21
M	7	28
N	10	40

3c

zur Vollversion

A

Partnerteil
 (Lernen (laut))
 zu zweit

3 JfH
 4 ap suarum
 umz ueqfneitel

- A** 20 geteilt durch wie viel ist 4? 5
- B** 8 geteilt durch wie viel ist 4? 2
- C** 16 geteilt durch wie viel ist 4? 4
- D** 12 geteilt durch wie viel ist 4? 3

1a

- E** 32 geteilt durch wie viel ist 4? 8
- F** 24 geteilt durch wie viel ist 4? 6
- G** 36 geteilt durch wie viel ist 4? 9
- H** 4 geteilt durch wie viel ist 4? 1

2a

- I** 40 geteilt durch wie viel ist 4? 10
 - J** 28 geteilt durch wie viel ist 4? 7
- Ende

3a

- K** 24 geteilt durch wie viel ist 4? 6
- L** 16 geteilt durch wie viel ist 4? 4
- M** 36 geteilt durch wie viel ist 4? 9

2b

- N** 4 geteilt durch wie viel ist 4? 1
- O** 40 geteilt durch wie viel ist 4? 10

Partnerteil
 (Lernen (laut))
 zu zweit

3 JfH
 4 ap suarum
 umz ueqfneitel

Teilaufgaben zum Ermalens der 4 Heft 3

Lesen Sie diesen Partner / deiner Partnerin die 10 Aufgaben auf den folgenden 3 Seiten vor und überprüfe, ob seine / ihre Antworten richtig sind. Diskutiere anschließend das Heft um und lass die dazu von deinem Partner / deiner Partnerin die anderen 10 Aufgaben verstehen.

© Gehirn Jogging für Kinder - Michel Jung, Braunschweig

- A** 8 geteilt durch wie viel ist 4? 2
- B** 32 geteilt durch wie viel ist 4? 8
- C** 12 geteilt durch wie viel ist 4? 3
- D** 40 geteilt durch wie viel ist 4? 10

1b

- E** 24 geteilt durch wie viel ist 4? 6
- F** 16 geteilt durch wie viel ist 4? 4
- G** 4 geteilt durch wie viel ist 4? 1
- H** 36 geteilt durch wie viel ist 4? 9

2b