



Name: _____

Klasse: _____

Datum: _____

Addition bis 1000 ohne Überschreitung 2

Sieh in der Tabelle nach, welche Aufgaben du rechnen musst! Löse zuerst die Aufgaben und schreibe die Ergebnisse in die Lösungsfelder! Dann suche rechts zu jeder Lösung den zugehörigen Kennbuchstaben und schreibe ihn in das zugehörige Feld! Setze daraus schließlich die Lösungswörter zusammen!

+	326	234	+	206	125
341	1	2	472	7	8
462	3	4	551	9	10
503	5	6	620	11	12

1 3 4 1 + 3 2 6 _____ _____	2 3 4 1 + _____ _____ _____	3 _____ + _____ _____ _____
4 _____ + _____ _____ _____	5 _____ + _____ _____ _____	6 _____ + _____ _____ _____
7 _____ + _____ _____ _____	8 _____ + _____ _____ _____	9 _____ + _____ _____ _____
10 _____ + _____ _____ _____	11 _____ + _____ _____ _____	12 _____ + _____ _____ _____

Lösungen mit Kennbuchstaben

575	597	667
B	U	T
676	678	696
E	R	O
737	745	757
T	T	O
788	826	829
E	N	E

Kennbuchstaben

1	2	3	4
_____	_____	_____	_____
_____	_____	_____	_____

Lösungswort

Kennbuchstaben

5	6	7	8
_____	_____	_____	_____
_____	_____	_____	_____

Lösungswort

Kennbuchstaben

9	10	11	12
_____	_____	_____	_____
_____	_____	_____	_____

Lösungswort



Name: _____

Klasse: _____

Datum: _____

Addition bis 1000 ohne Überschreitung 2 (Lösung)

Sieh in der Tabelle nach, welche Aufgaben du rechnen musst! Löse zuerst die Aufgaben und schreibe die Ergebnisse in die Lösungsfelder! Dann suche rechts zu jeder Lösung den zugehörigen Kennbuchstaben und schreibe ihn in das zugehörige Feld! Setze daraus schließlich die Lösungswörter zusammen!

+	326	234	+	206	125
341	1	2	472	7	8
462	3	4	551	9	10
503	5	6	620	11	12

1	$\begin{array}{r} 341 \\ + 326 \\ \hline 667 \end{array}$	2	$\begin{array}{r} 341 \\ + 234 \\ \hline 575 \end{array}$	3	$\begin{array}{r} 462 \\ + 326 \\ \hline 788 \end{array}$
---	---	---	---	---	---

4	$\begin{array}{r} 462 \\ + 234 \\ \hline 696 \end{array}$	5	$\begin{array}{r} 503 \\ + 326 \\ \hline 829 \end{array}$	6	$\begin{array}{r} 503 \\ + 234 \\ \hline 737 \end{array}$
---	---	---	---	---	---

7	$\begin{array}{r} 472 \\ + 206 \\ \hline 678 \end{array}$	8	$\begin{array}{r} 472 \\ + 125 \\ \hline 597 \end{array}$	9	$\begin{array}{r} 551 \\ + 206 \\ \hline 757 \end{array}$
---	---	---	---	---	---

10	$\begin{array}{r} 551 \\ + 125 \\ \hline 676 \end{array}$	11	$\begin{array}{r} 620 \\ + 206 \\ \hline 826 \end{array}$	12	$\begin{array}{r} 620 \\ + 124 \\ \hline 744 \end{array}$
----	---	----	---	----	---

Lösungen mit Kennbuchstaben

575	597	667
B	U	T
676	678	696
E	R	O
737	745	757
T	T	O
788	826	829
E	N	E

Kennbuchstaben

1	2	3	4
T	B	E	O
B	O	T	E

Lösungswort

5	6	7	8
E	T	R	U
R	U	T	E

Lösungswort

9	10	11	12
O	E	N	T
N	O	T	E

Lösungswort





Name: _____

Klasse: _____

Datum: _____

Subtraktion bis 1000 ohne Überschreitung 1

Sieh in der Tabelle nach, welche Aufgaben du rechnen musst! Löse zuerst die Aufgaben und schreibe die Ergebnisse in die Lösungsfelder! Dann suche rechts zu jeder Lösung den zugehörigen Kennbuchstaben und schreibe ihn in das zugehörige Feld! Setze daraus schließlich die Lösungswörter zusammen!

⊖	475	367	⊖	646	565
689	1	2	778	7	8
777	3	4	899	9	10
898	5	6	987	11	12

Lösungen mit Kennbuchstaben

132	213	214
M	K	T
253	302	322
S	B	E
334	341	410
U	K	T
422	423	531
S	A	M

1	2	3
$\begin{array}{r} 689 \\ - 475 \\ \hline \end{array}$	$\begin{array}{r} 689 \\ - \\ \hline \end{array}$	$\begin{array}{r} \\ - \\ \hline \end{array}$
4	5	6
$\begin{array}{r} \\ - \\ \hline \end{array}$	$\begin{array}{r} \\ - \\ \hline \end{array}$	$\begin{array}{r} \\ - \\ \hline \end{array}$
7	8	9
$\begin{array}{r} \\ - \\ \hline \end{array}$	$\begin{array}{r} \\ - \\ \hline \end{array}$	$\begin{array}{r} \\ - \\ \hline \end{array}$
10	11	12
$\begin{array}{r} \\ - \\ \hline \end{array}$	$\begin{array}{r} \\ - \\ \hline \end{array}$	$\begin{array}{r} \\ - \\ \hline \end{array}$

Kennbuchstaben

1	2	3	4

Lösungswort

Kennbuchstaben

5	6	7	8

Lösungswort

Kennbuchstaben

9	10	11	12

Lösungswort



Name: _____

Klasse: _____

Datum: _____

Subtraktion bis 1000 ohne Überschreitung 1 (Lösung)

Sieh in der Tabelle nach, welche Aufgaben du rechnen musst! Löse zuerst die Aufgaben und schreibe die Ergebnisse in die Lösungsfelder! Dann suche rechts zu jeder Lösung den zugehörigen Kennbuchstaben und schreibe ihn in das zugehörige Feld! Setze daraus schließlich die Lösungswörter zusammen!

⊖	475	367	⊖	646	565
689	1	2	778	7	8
777	3	4	899	9	10
898	5	6	987	11	12

Lösungen mit Kennbuchstaben

132	213	214
M	K	T
253	302	322
S	B	E
334	341	410
U	K	T
422	423	531
S	A	M

1	2	3
6 8 9	6 8 9	7 7 7
— 4 7 5	— 3 6 7	— 4 7 5
2 1 4	3 2 2	3 0 2

4	5	6
7 7 7	8 9 8	8 9 8
— 3 6 7	— 4 7 5	— 3 6 7
4 1 0	5 2 3	5 3 1

Kennbuchstaben

1	2	3	4
T	E	B	T
B	E	T	T

Lösungswort

7	8	9
7 7 8	7 7 8	8 9 9
— 6 4 6	— 5 6 5	— 6 4 6
1 3 2	2 1 3	2 5 3

Kennbuchstaben

5	6	7	8
A	M	M	K
K	A	M	M

Lösungswort

10	11	12
8 9 9	9 8 7	9 8 7
— 5 6 5	— 6 4 6	— 5 6 5
3 3 4	3 4 1	4 2 2

Kennbuchstaben

9	10	11	12
S	U	K	S
K	U	S	S

Lösungswort





Name: _____

Klasse: _____

Datum: _____

Subtraktion bis 1000 ohne Überschreitung 2

Sieh in der Tabelle nach, welche Aufgaben du rechnen musst! Löse zuerst die Aufgaben und schreibe die Ergebnisse in die Lösungsfelder! Dann suche rechts zu jeder Lösung den zugehörigen Kennbuchstaben und schreibe ihn in das zugehörige Feld! Setze daraus schließlich die Lösungswörter zusammen!

⊖	375	264	⊖	642	576
997	1	2	889	7	8
879	3	4	797	9	10
788	5	6	978	11	12

Lösungen mit Kennbuchstaben

155	221	247
A	T	T
313	336	402
W	I	X
413	504	524
I	H	Z
615	622	733
X	E	E

1 9 9 7 - 3 7 5 _____ _____	2 9 9 7 _____ _____	3 _____ _____ _____
4 _____ _____ _____	5 _____ _____ _____	6 _____ _____ _____
7 _____ _____ _____	8 _____ _____ _____	9 _____ _____ _____
10 _____ _____ _____	11 _____ _____ _____	12 _____ _____ _____

Kennbuchstaben

1	2	3	4
_____	_____	_____	_____
_____	_____	_____	_____

Lösungswort

Kennbuchstaben

5	6	7	8
_____	_____	_____	_____
_____	_____	_____	_____

Lösungswort

Kennbuchstaben

9	10	11	12
_____	_____	_____	_____
_____	_____	_____	_____

Lösungswort



Name: _____

Klasse: _____

Datum: _____

Subtraktion bis 1000 ohne Überschreitung 2 (Lösung)

Sieh in der Tabelle nach, welche Aufgaben du rechnen musst! Löse zuerst die Aufgaben und schreibe die Ergebnisse in die Lösungsfelder! Dann suche rechts zu jeder Lösung den zugehörigen Kennbuchstaben und schreibe ihn in das zugehörige Feld! Setze daraus schließlich die Lösungswörter zusammen!

⊖	375	264	⊖	642	576
997	1	2	889	7	8
879	3	4	797	9	10
788	5	6	978	11	12

Lösungen mit Kennbuchstaben

155	221	247
A	T	T
313	336	402
W	I	X
413	504	524
I	H	Z
615	622	733
X	E	E

1	2	3
9 9 7	9 9 7	8 7 9
- 3 7 5	- 2 6 4	- 3 7 5
6 2 2	7 3 3	5 0 4

4	5	6
8 7 9	7 8 8	7 8 8
- 2 6 4	- 3 7 5	- 2 6 4
6 1 5	4 1 3	5 2 4

7	8	9
8 8 9	8 8 9	7 9 7
- 6 4 2	- 5 7 6	- 6 4 2
2 4 7	3 1 3	1 5 5

10	11	12
7 9 7	9 7 8	9 7 8
- 5 7 6	- 6 4 2	- 5 7 6
2 2 1	3 3 6	4 0 2

Kennbuchstaben

1	2	3	4
E	E	H	X
H	E	X	E

Lösungswort

Kennbuchstaben			
5	6	7	8
I	Z	T	W
W	I	T	Z

Lösungswort

Kennbuchstaben			
9	10	11	12
A	T	I	X
T	A	X	I

Lösungswort





Name: _____

Klasse: _____

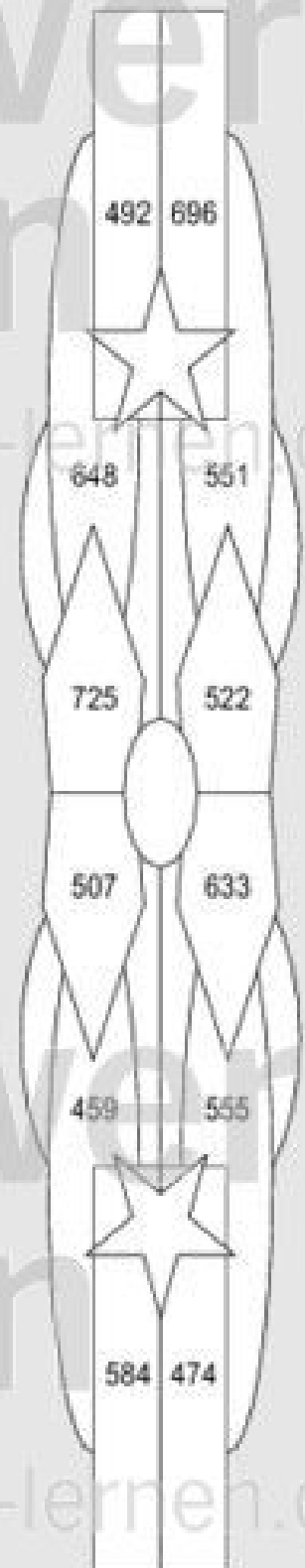
Datum: _____

Addition bis 1000 mit Überschreitung 1

Sieh in der Tabelle nach, welche Aufgaben du rechnen musst! Löse zuerst die Aufgaben und schreibe die Ergebnisse in die Lösungsfelder! Dann suche auf dem Kontrollbild die Lösungszahlen! Male jedes Feld in der angegebenen Farbe aus!

+	164	179	227	256
295	❶	❷	❸	❹
328	❺	❻	❼	❽
469	❾	❿	⓫	⓬

Kontrollbild



❶ blau $\begin{array}{r} 295 \\ + 164 \\ \hline \end{array}$	❷ gelb $\begin{array}{r} 295 \\ + \quad \quad \\ \hline \end{array}$	❸ rot $\begin{array}{r} \quad \quad \\ + \quad \quad \\ \hline \end{array}$
❹ blau $\begin{array}{r} \quad \quad \\ + \quad \quad \\ \hline \end{array}$	❺ gelb $\begin{array}{r} \quad \quad \\ + \quad \quad \\ \hline \end{array}$	❽ rot $\begin{array}{r} \quad \quad \\ + \quad \quad \\ \hline \end{array}$
❻ blau $\begin{array}{r} \quad \quad \\ + \quad \quad \\ \hline \end{array}$	❼ gelb $\begin{array}{r} \quad \quad \\ + \quad \quad \\ \hline \end{array}$	⓫ rot $\begin{array}{r} \quad \quad \\ + \quad \quad \\ \hline \end{array}$
⓬ blau $\begin{array}{r} \quad \quad \\ + \quad \quad \\ \hline \end{array}$	⓭ gelb $\begin{array}{r} \quad \quad \\ + \quad \quad \\ \hline \end{array}$	⓮ rot $\begin{array}{r} \quad \quad \\ + \quad \quad \\ \hline \end{array}$



Name: _____

Klasse: _____

Datum: _____

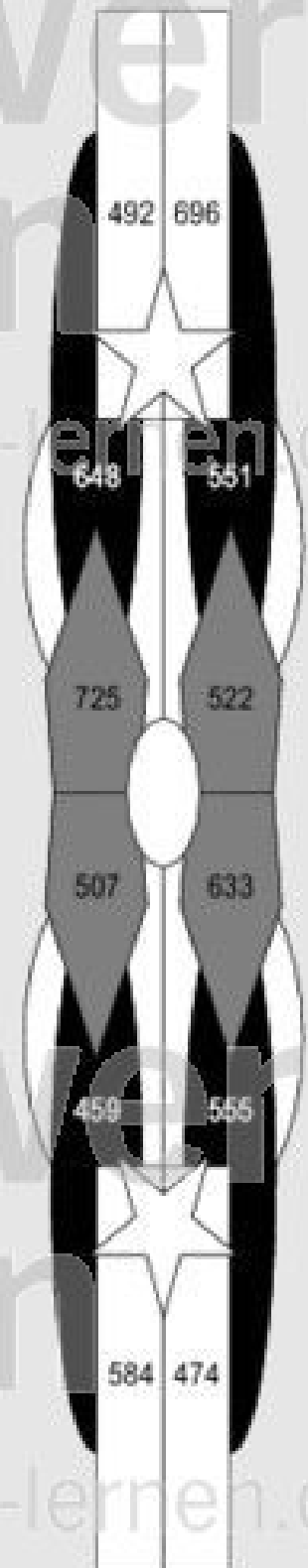
Addition bis 1000 mit Überschreitung 1 (Lösung)

Sieh in der Tabelle nach, welche Aufgaben du rechnen musst! Löse zuerst die Aufgaben und schreibe die Ergebnisse in die Lösungsfelder! Dann suche auf dem Kontrollbild die Lösungszahlen! Male jedes Feld in der angegebenen Farbe aus!

+	164	179	227	256
295	❶	❷	❸	❹
328	❺	❻	❼	❽
469	❾	❿	⓫	⓬

❶ blau $\begin{array}{r} 295 \\ + 164 \\ \hline 459 \end{array}$	❷ gelb $\begin{array}{r} 295 \\ + 179 \\ \hline 474 \end{array}$	❸ rot $\begin{array}{r} 295 \\ + 227 \\ \hline 522 \end{array}$
❹ blau $\begin{array}{r} 295 \\ + 256 \\ \hline 551 \end{array}$	❺ gelb $\begin{array}{r} 328 \\ + 164 \\ \hline 492 \end{array}$	❽ rot $\begin{array}{r} 328 \\ + 179 \\ \hline 507 \end{array}$
❻ blau $\begin{array}{r} 328 \\ + 227 \\ \hline 555 \end{array}$	❼ gelb $\begin{array}{r} 328 \\ + 256 \\ \hline 584 \end{array}$	⓫ rot $\begin{array}{r} 469 \\ + 164 \\ \hline 633 \end{array}$
⓬ blau $\begin{array}{r} 469 \\ + 179 \\ \hline 648 \end{array}$	⓫ gelb $\begin{array}{r} 469 \\ + 227 \\ \hline 696 \end{array}$	⓬ rot $\begin{array}{r} 469 \\ + 256 \\ \hline 725 \end{array}$

Kontrollbild





Name: _____

Klasse: _____

Datum: _____

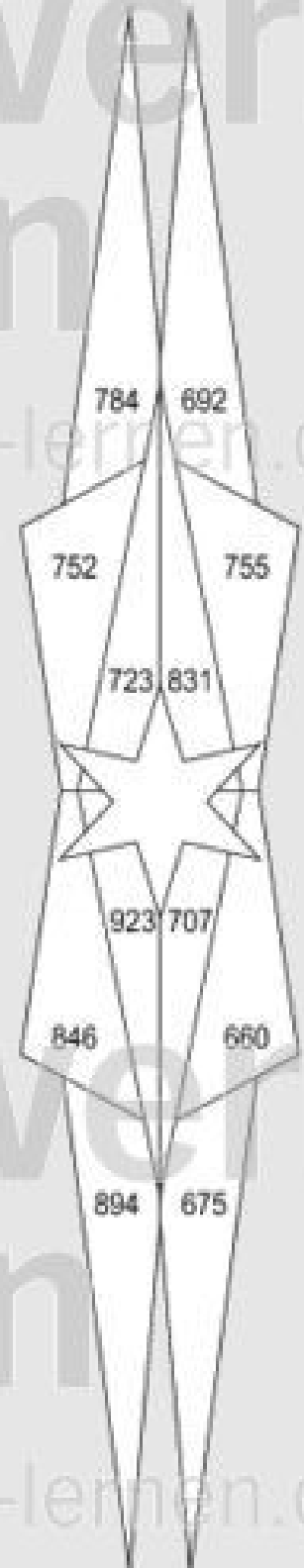
Addition bis 1000 mit Überschreitung 2

Sieh in der Tabelle nach, welche Aufgaben du rechnen musst! Löse zuerst die Aufgaben und schreibe die Ergebnisse in die Lösungsfelder! Dann suche auf dem Kontrollbild die Lösungszahlen! Male jedes Feld in der angegebenen Farbe aus!

+	264	279	327	356
396	❶	❷	❸	❹
428	❺	❻	❼	❽
567	❾	❿	⓫	⓬

Kontrollbild

❶ blau $\begin{array}{r} 396 \\ + 264 \\ \hline \end{array}$	❷ gelb $\begin{array}{r} 396 \\ + \\ \hline \end{array}$	❸ rot $\begin{array}{r} \\ + \\ \hline \end{array}$
❹ blau $\begin{array}{r} \\ + \\ \hline \end{array}$	❺ gelb $\begin{array}{r} \\ + \\ \hline \end{array}$	❻ rot $\begin{array}{r} \\ + \\ \hline \end{array}$
❼ blau $\begin{array}{r} \\ + \\ \hline \end{array}$	❽ gelb $\begin{array}{r} \\ + \\ \hline \end{array}$	❾ rot $\begin{array}{r} \\ + \\ \hline \end{array}$
❿ blau $\begin{array}{r} \\ + \\ \hline \end{array}$	⓫ gelb $\begin{array}{r} \\ + \\ \hline \end{array}$	⓬ rot $\begin{array}{r} \\ + \\ \hline \end{array}$





Name: _____

Klasse: _____

Datum: _____

Addition bis 1000 mit Überschreitung 2 (Lösung)

Sieh in der Tabelle nach, welche Aufgaben du rechnen musst! Löse zuerst die Aufgaben und schreibe die Ergebnisse in die Lösungsfelder! Dann suche auf dem Kontrollbild die Lösungszahlen! Male jedes Feld in der angegebenen Farbe aus!

+	264	279	327	356
396	❶	❷	❸	❹
428	❺	❻	❼	❽
567	❾	❿	⓫	⓬

Kontrollbild

❶ blau $\begin{array}{r} 396 \\ + 264 \\ \hline 660 \end{array}$	❷ gelb $\begin{array}{r} 396 \\ + 279 \\ \hline 675 \end{array}$	❸ rot $\begin{array}{r} 396 \\ + 327 \\ \hline 723 \end{array}$
❹ blau $\begin{array}{r} 396 \\ + 356 \\ \hline 752 \end{array}$	❺ gelb $\begin{array}{r} 428 \\ + 264 \\ \hline 692 \end{array}$	❻ rot $\begin{array}{r} 428 \\ + 279 \\ \hline 707 \end{array}$
❼ blau $\begin{array}{r} 428 \\ + 327 \\ \hline 755 \end{array}$	❽ gelb $\begin{array}{r} 428 \\ + 356 \\ \hline 784 \end{array}$	❾ rot $\begin{array}{r} 567 \\ + 264 \\ \hline 831 \end{array}$
❿ blau $\begin{array}{r} 567 \\ + 279 \\ \hline 846 \end{array}$	⓫ gelb $\begin{array}{r} 567 \\ + 327 \\ \hline 894 \end{array}$	⓬ rot $\begin{array}{r} 567 \\ + 356 \\ \hline 923 \end{array}$

