






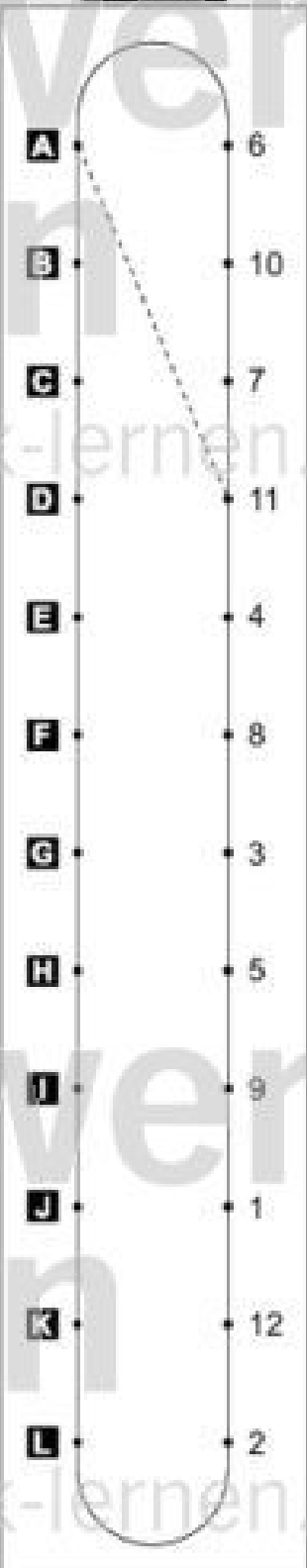










Name: _____

Klasse: _____

Datum: _____

Falt- und Schneide- rätsel 1

Welche Figur entsteht jeweils, wenn du ein zweimal gefaltetes Rechenblatt an den markierten Linien beschneidest und dann aufklappst? Suche zu jeder Aufgabe von **A** bis **L** die passende Lösung. Schreibe die zugehörige Lösungszahl in das Feld unter der Aufgabe. Zeichne dann im Kontrollfeld eine gerade Linie von dem Aufgabenbuchstaben zur Lösungszahl.

Aufgaben		Lösungen		Kontrollfeld
A	 11	 7	 2	
B				
C				
D				
E				
F				
G				
H				
I				
J				
K				
L	