



Name: _____

Klasse: _____


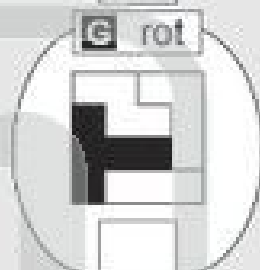
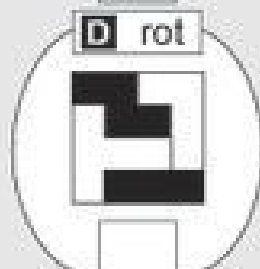


Datum: _____

Zusammengesetzte Quadrate

	1	2	3	4
	5	6	7	8
	9	10	11	12

Suche zu jeder Aufgabe von **A** bis **L** in der Matrix die passende Lösung. Schreibe die Kennzahl der Lösung in das Feld unter der Aufgabe. Male dann die Lösungsfelder im Kontrollbild in den angegebenen Farben aus. Die übrigen Felder kannst du ausmalen, wie du möchtest.

Aufgaben



Kontrollbild

