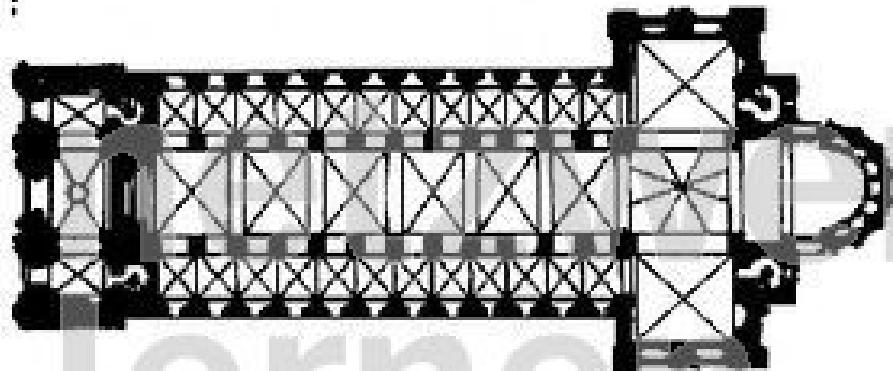


Arbeitsblatt zum

Arbeitstransparent: Romanische Kirchen

Nr. 8143 Das Äußere 1

Arbeitsaufgaben:



1. Male im obigen Grundriss das Westwerk rot und den Chor blau aus!

2. Erkläre anhand des nebenstehenden Westwerks die Baugesinnung der Romanik!

.....

.....

.....

.....

.....

.....

.....

.....

.....

.....

.....

.....

.....

.....

.....

.....

.....

.....


.....


.....

.....

.....

.....





3. Welche Gebäudeteile sind in obiger Abbildung (Speyrer Dom) erkennbar?

.....
.....
.....
.....
.....
.....
.....
.....
.....
.....

Bewertung:

Arbeitsblatt zum

Arbeitstransparent: Romanische Kirchen

Nr. 8144 Das Äußere 2

Arbeitsaufgaben

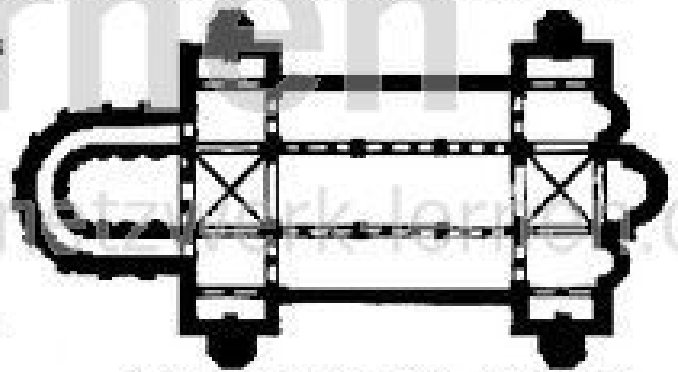
1. Warum hat man im Mittelalter Kirchen mit zwei Chören gebaut?

.....

.....

.....

2. Male auf nebenstehendem Grundriss das Mittelschiff gelb, die Seitenschiffe grün, die Querschiffe blau und die Chöre rot aus. Die Vierungen bleiben weiß.



Grundriss von St. Michael

3. Zähle anhand der nebenstehenden Ansicht die einzelnen Gebäudeteile auf!

.....

.....

.....

.....

.....


.....

.....

.....

.....

.....




Sankt Michael von Südwesten

4. Wie wirkt die Kirche insgesamt?

.....


.....

- SCHEMA -



5. Erkläre anhand von Grundriss und Ansicht den Aufbau eines romanischen Tores!

.....
.....
.....
www.netzwerk-lernen.de



6. Wie nennt man das Bogenfeld eines Tores?

.....

7. Was ist auf der Abbildung dargestellt?

.....

Bewertung:

Begründung: