

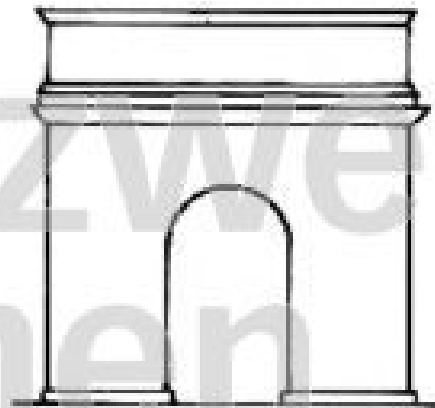
**Arbeitsblatt zum
Arbeitstransparent**

Nr. 8123 Der Konstantinbogen: Ein Beispiel für einen Triumphbogen

Arbeitsaufgaben:

1. Zähle mit Hilfe der nebenstehenden

Abbildung die Teile auf, aus denen ein
Triumphbogen besteht!




.....
.....
.....
.....

.....

.....
.....
www.netzwerk-lernen.de

2. Male diese Teile in der obigen Abbildung verschiedenfarbig aus!



3. Abbildung 2 zeigt drei verschiedene Formen von Triumphbögen, und zwar - von links nach rechts - in der zeitlichen Reihenfolge ihrer Entstehung. Erkläre anhand dieser Abbildung, wie sich die Form des Triumphbogens entwickelt hat!

.....
.....

.....
.....
www.netzwerk-lernen.de

4. Was sollte ein Triumphbogen zum Ausdruck bringen?

.....
.....
.....

5. Wer durfte im Römischen Reich einen Triumphbogen errichten?

.....
.....
.....

6. Aus welchen Anlässen wurden Triumphbögen erbaut?

.....
.....
.....

7. Welchen Triumphbogen zeigt die untenstehende Abbildung?


.....

8. Wo steht dieser Triumphbogen?

.....

8. Aus welchem Anlass wurde er gebaut,
und woher kennt man diesen Anlass?

.....
.....
.....
.....
.....
.....
.....
.....



Bewertung:

Begründung: