

Arbeitsaufgaben:

1. Welche Form (Grundriss) hat die römische Barockkirche (Abb. 1)?

.....

.....

.....

.....

.....

.....

.....

.....

.....

.....

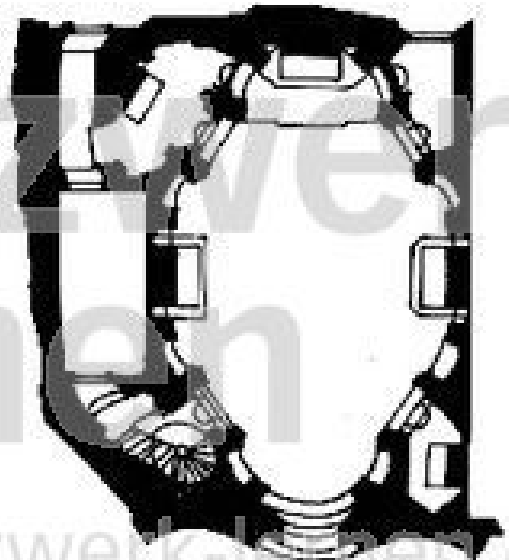


Abb. 1: San Carlo alle quattro Fontane

2. Welche Form (Grundriss) hat die deutsche Barockkirche in Abbildung 2?

.....

.....

.....

.....

.....

.....

.....

.....

.....

.....

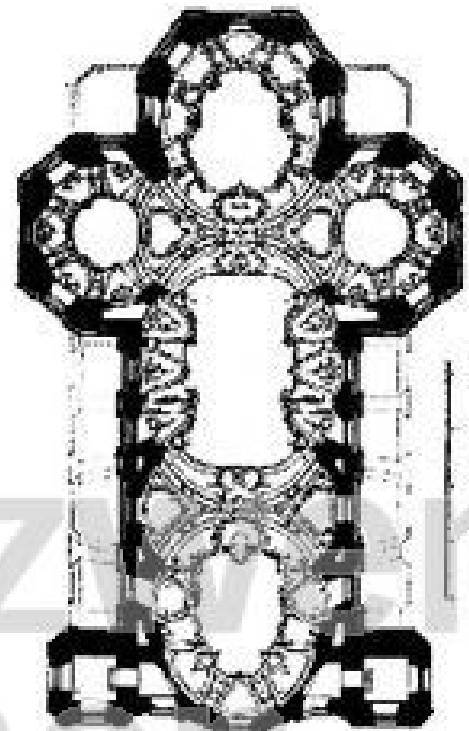


Abb. 2: Wallfahrtskirche
Vierzehnheiligen

3. Was förderte den Bau von Wallfahrtskirchen?

.....

.....

4. Warum wurden in der Barockzeit in Süddeutschland, in Österreich und in der Schweiz so viele Klöster erbaut oder erweitert?

.....
.....
.....




Abb. 3. Benediktinerabtei in Weingarten

5. Erkläre anhand der Abb. 3 Form und Aussehen eines Barockklosters!

.....
.....
.....
.....
.....
.....
.....
.....
.....
.....
.....
.....
.....
.....

Bewertung:

Begründung:

