

## Die westliche Erdhälfte

nach Behaim  in Wirklichkeit



Abb. 2

- b) in Wirklichkeit
- c) Färbe auf diesen Skizzen die Ozeane blau, die Kontinente gelb!
- 4. Vergleiche die beiden Zeichnungen und erläutere sie kurz: Welche Vorstellungen Behaims kommen den tatsächlichen Verhältnissen nahe, welche sind völlig unrichtig?

.....

.....

.....

.....

.....

.....

.....

Bewertung: ..... Begründung: .....

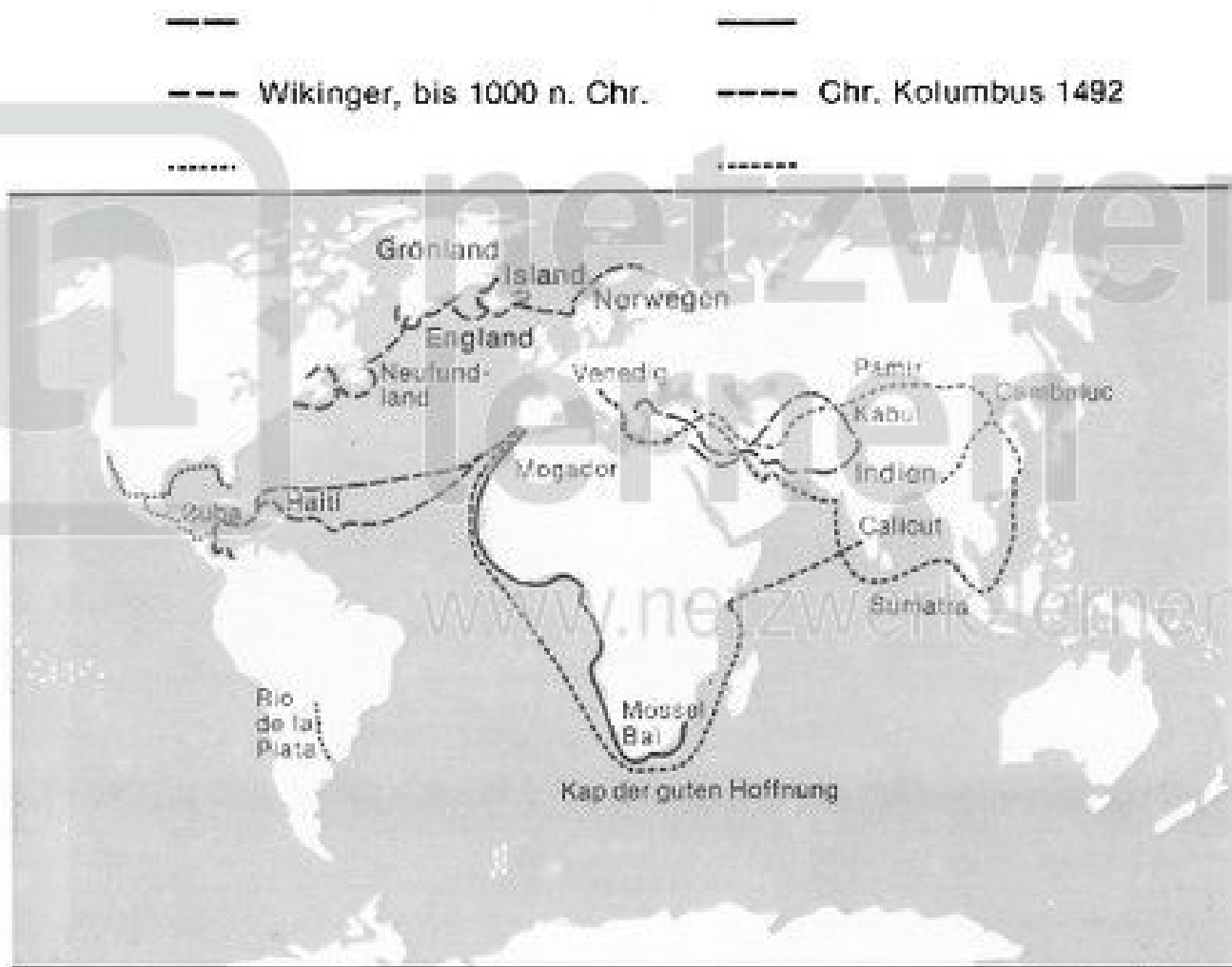


Abb. 1  
..... H. Cortez, 1519 - 21

### Arbeitsaufgaben:

1. Trage in das Register zu Abbildung 1 die zugehörigen Namen ein:
  - a) Alexander d. Gr.
  - b) Marco Polo
  - c) B. Diaz
  - d) V. da. Gama
2. Verfolge die in Abb. 1 dargestellten Reiserouten und beschreibe sie auf einem gesonderten Blatt!

- Alexander der Große, 329 - 323 v. Chr.
- - - Wikinger, bis 1000 n. Chr.

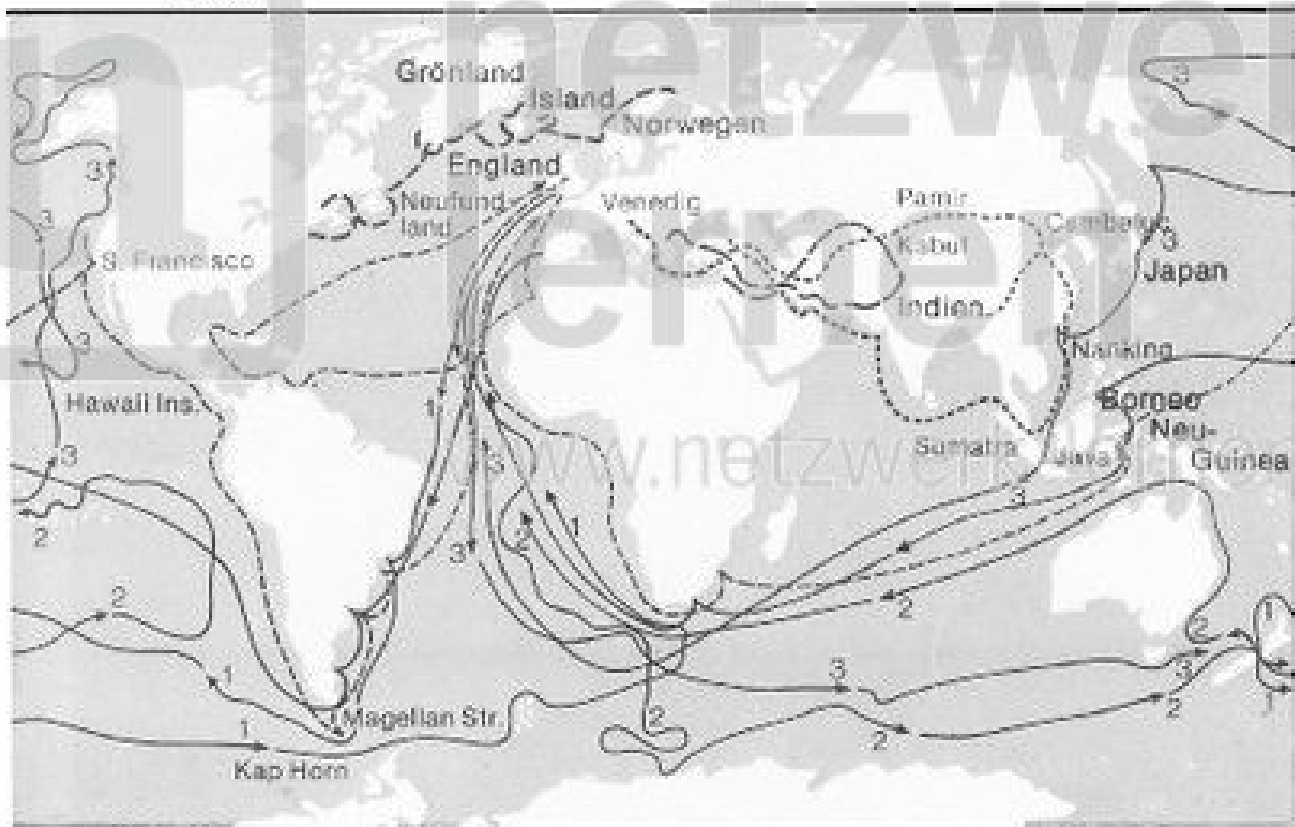


Abb. 2

-----  
1 2 3

3. Trage in das Register zu Abb. 2 die zugehörigen Namen ein:

- a) F. Drake
- b) Magellan/Elcano
- c) J. Cook

4. Verfolge die in Abb. 2 dargestellten Reiserouten und beschreibe sie auf einem gesonderten Blatt!

Bewertung: ..... Begründung: .....

**A r b e i t s a u f g a b e n**

1. Trage in die nebenstehende Abbildung

folgende Bezeichnungen ein:

- a) Troposphäre
- b) Stratosphäre
- c) Mesosphäre
- d) Ionosphäre
- e) Exosphäre

2. Beschreibe mit Hilfe der nebenstehenden Abbildung den Aufbau der Atmosphäre (Schichten, Luftdruck- und Temperaturverteilung, atmosphärische Erscheinungen)!

.....

.....

.....

.....

.....

.....

.....

.....

.....

.....

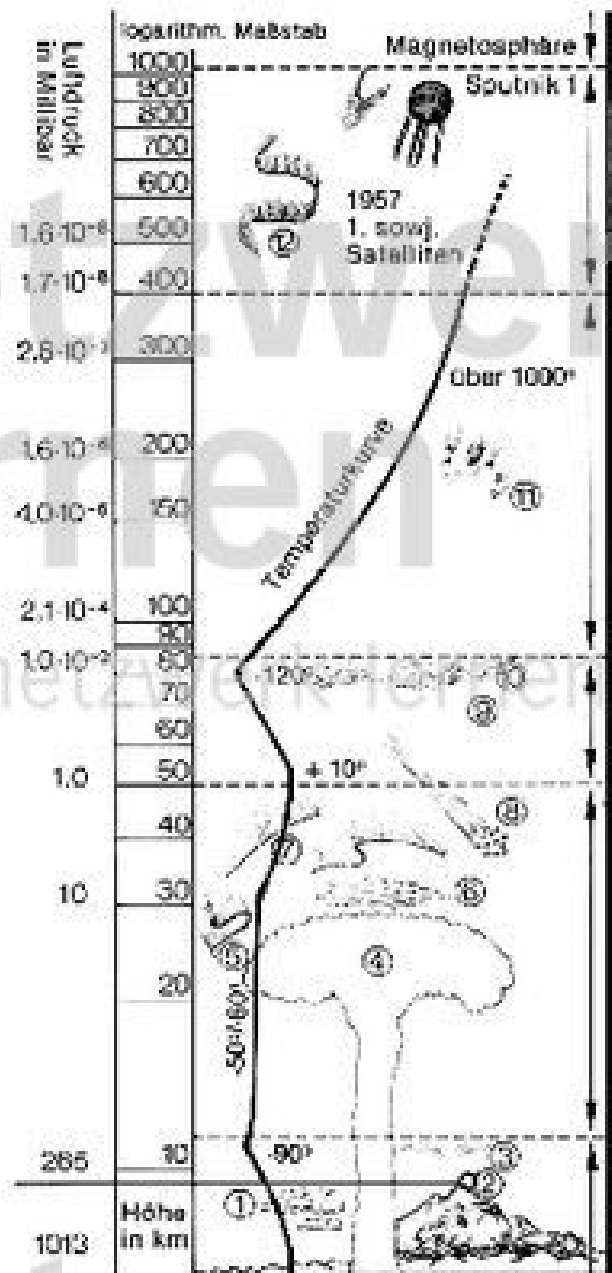


Abb. 1

3. Wo liegt der höchste Punkt der Erdoberfläche, und wann und von wem wurde er erstmals erklommen?

.....

.....