

Arbeitsaufgaben:

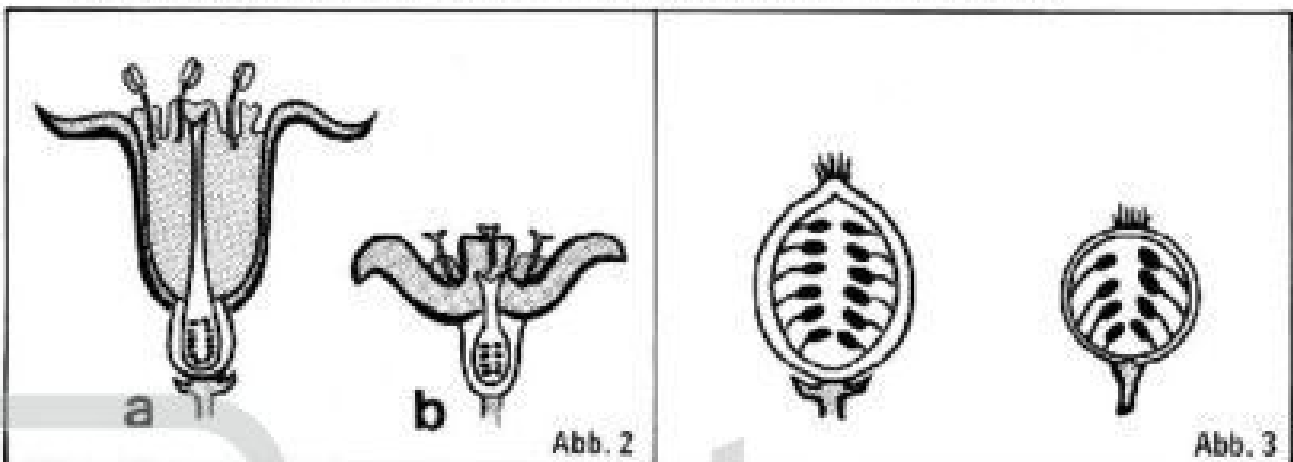


1. Färbe in den Abbildungen 1a bis 1c den Fruchtknoten rot!
2. Ergänze!

Abbildung 1a zeigt einenständigen

Abbildung 1b einenständigen

Abbildung 1c einenständigen Fruchtknoten.



3. Färbe in Abbildung 2 den Blütenboden grün, den Fruchtknoten rot!
4. Färbe in Abbildung 3 die Fruchtschale grün, das Fruchtfleisch rot!
5. Abbildung 2 zeigt zwei verschiedene Blüten, Abbildung 3 zwei verschiedene Früchte. Bezeichne die Früchte in Abbildung 3 mit den gleichen Kleinbuchstaben wie die zugehörigen Blüten in Abbildung 2!
6. Zu welchen Pflanzen gehören die Blüten und Früchte in den Abbildungen 2 und 3!
 - a)
 - b)










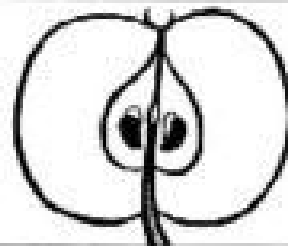
	BLÜTEN- BODEN	BLÜTE	FRUCHT	ART
a	krug- förmig			
b	kegel- förmig			Sammel- frucht
c	polster- förmig			
d	becher- förmig hohl			Stein- frucht
e	schüssel- förmig ausgefüllt			Schein- frucht

Abb. 4

7. Färbe in Abbildung 3 den Fruchtknoten rot, den Kelch grün! Färbe die entsprechenden Teile der Frucht ebenso!

8. Weißt du, wie die in Abbildung 3 dargestellten Pflanzen heißen?

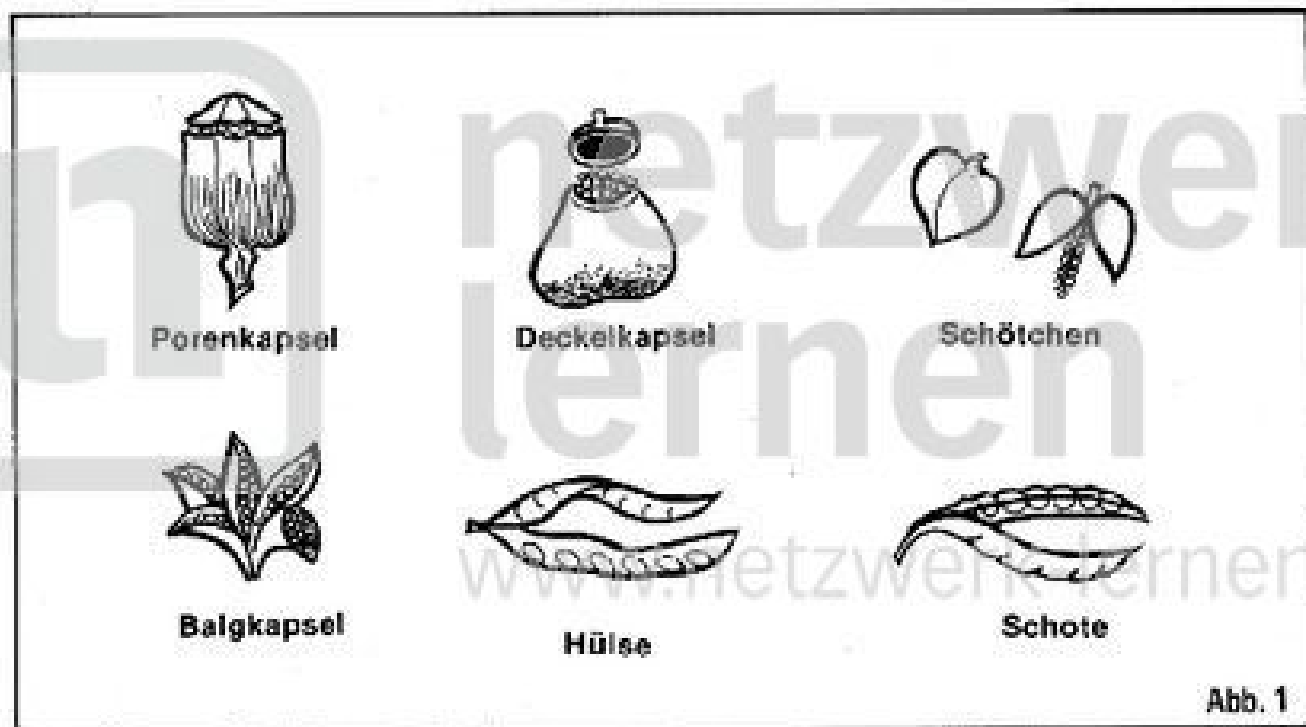
- a)
- b) c)
- d) e)

9. Zu welcher Familie gehören diese Pflanzen?

.....
www.netzwerk-lernen.de

Bewertung: Begründung:

Arbeitsaufgaben:

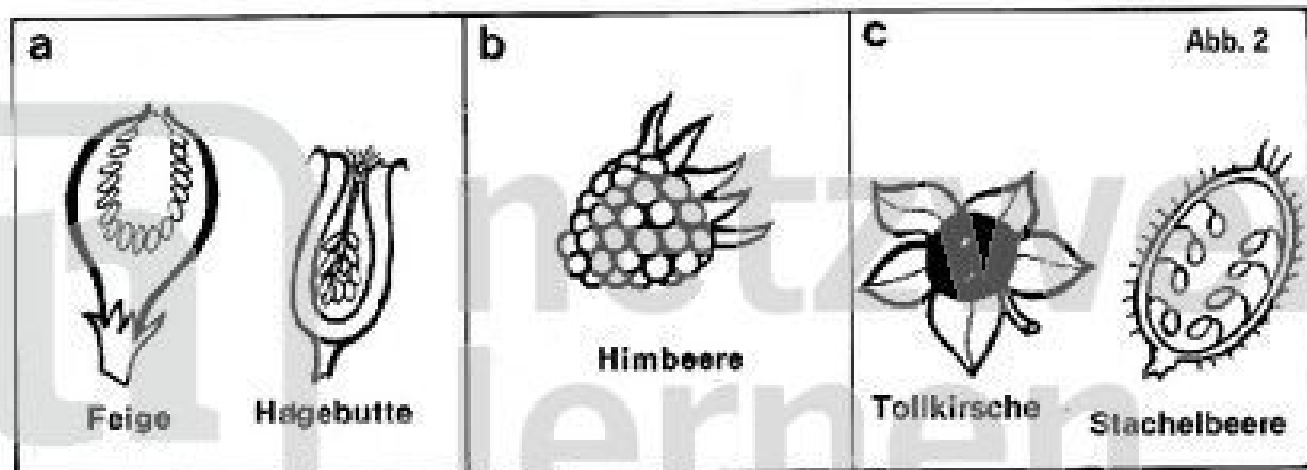


1. Welche Fruchtform zeigt die Abbildung 1?

.....

2. Was weißt du über solche Früchte?

.....



3. Welche Fruchtformen sind in Abbildung 2 wiedergegeben?

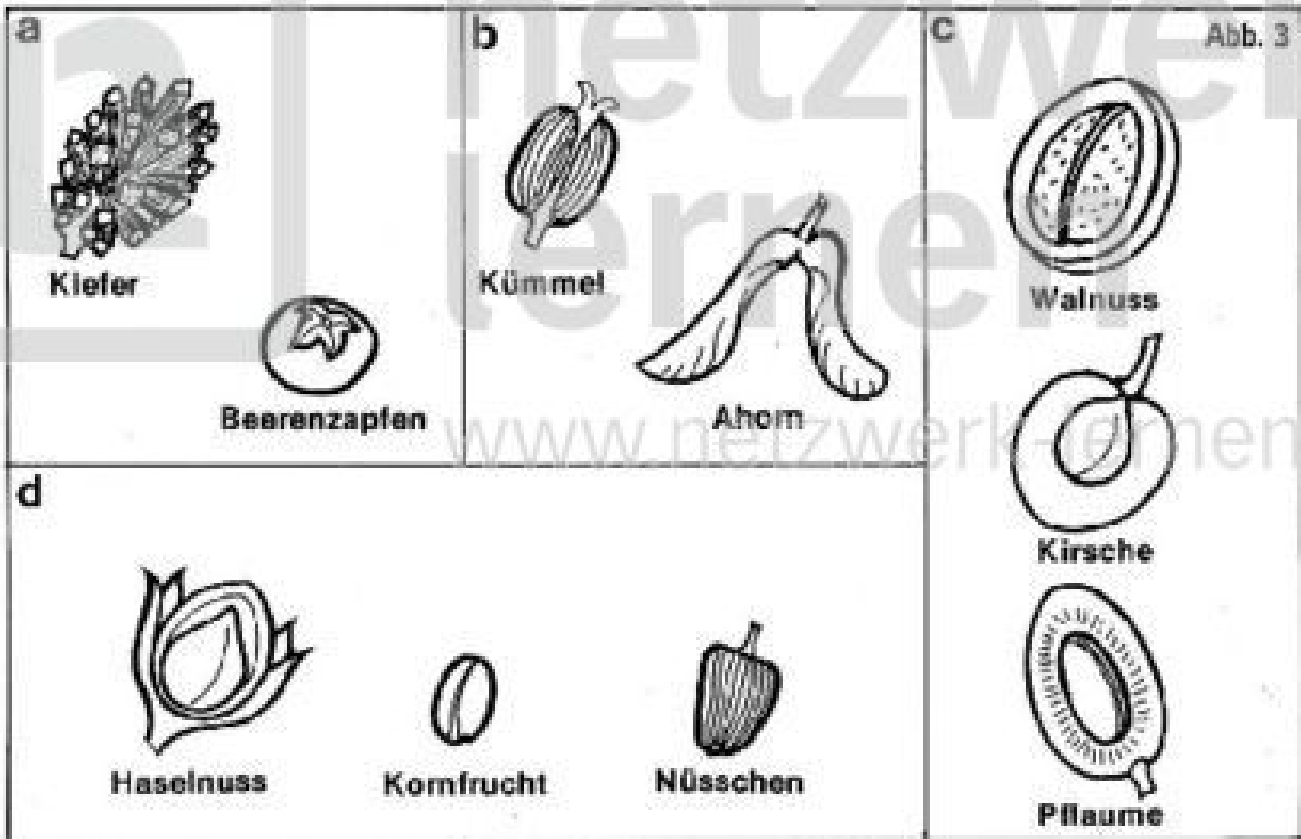
a)

b)

c)

4. Was weißt du über die unter 2 abgebildeten Früchte?

- a)
- b)
- c)



5. Welche Fruchtformen sind in Abbildung 3 wiedergegeben?

- a)
- b)
- c)
- d)

6. Was weißt du über derartige Früchte?

- a)
- b)
- c)
- d)

Bewertung: Begründung: