


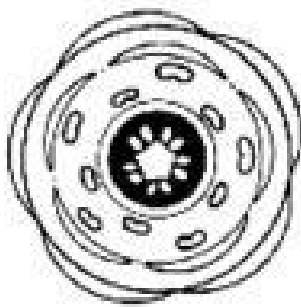
Besenginster



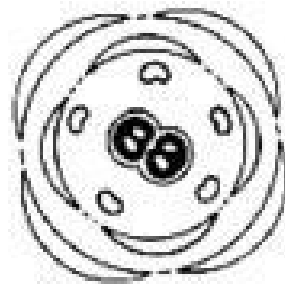
Rote Lichtnelke



Wiesen
schaumkraut



Fam:



Fam:




Fam:

Abb.1

Arbeitsaufgaben:

- Abbildung 1 zeigt drei verschiedene Blüten und - in vertauschter Reihenfolge - die zugehörigen Diagramme.
 - Färbe die Blüten in den annähernd richtigen Farben!
 - Färbe die Blütendiagramme dementsprechend!
 - Bezeichne Blüte und zugehöriges Diagramm jeweils mit dem gleichen Kleinbuchstaben (a, b, c)!

d) Schreibe zu jedem Blütendiagramm in Abbildung 1, zu welcher Familie die dargestellte Blüte gehört!

	<p style="text-align: center;">Diagramm</p>
---	--

www.netzwerk-lernen.de

2. a) Welche Blüte zeigt Abbildung 2?

.....

b) Färbe diese Blüte in den annähernd richtigen Farben. Zeichne das zu dieser Blüte gehörende Blütendiagramm (farbig) in die Abbildung 2 ein!

 <p>Abb. 2</p>	<p style="text-align: center;">Diagramm</p>
---	--

3. Färbe die Blüte in Abbildung 3 und zeichne (farbig) das zugehörige Diagramm!

Um welche Blüte handelt es sich?

.....

Bewertung: Begründung:

www.netzwerk-lernen.de