

Sozialkunde

Name:

Klasse:

Datum:

Nr.

Lösung: Die Länder der Bundesrepublik Deutschland

Arbeitsaufgabe: 🎨 😊 🖋️ 🇩🇪

Ordnet die Wappen der Bundesländer den entsprechenden Gebieten auf der Karte richtig zu, indem ihr Wappen und Land mit der gleichen Farbe ausmalt!



www.netzwerk-lernen.de

Sozialkunde	Name:	Klasse:	Datum:	Nr.
<h2>Bundesländer - Puzzle</h2>				
<i>Arbeitsaufgabe:</i> ✂ ☺ ➡ 📄				
Klebt die Puzzle-Teile so zusammen, dass eine Deutschlandkarte entsteht!				

Sozialkunde	Name:	Klasse:	Datum:	Nr.
-------------	-------	---------	--------	-----

M1: Die „alten“ Bundesländer



M2: Bundessymbole



M3: Die vier Besatzungszonen



Sozialkunde	Name:	Klasse:	Datum:	Nr.
--------------------	--------------	----------------	---------------	------------

Kennt ihr die Bundesländer im Osten Deutschlands?

☐ zum Beispiel: der Freistaat Sachsen

🇩🇪 Wappen


Das sächsische Wappen zeigt 5 schwarze Balken auf goldenem Grund, belegt mit einem grünen Rautenkranz, das Wappenbild des Hauses Sachsen-Wittenberg, das von den Wettinern übernommen wurde.

🇩🇪 Flagge: Weiß-Grün.

🇩🇪 Größe: ca. 18.413 qkm (Stand 30. 6. 1990) 🇩🇪 Einwohnerzahl: 4,46 Millionen

🇩🇪 Städte: **Dresden**, mit 471.000 Einwohnern hinter **Leipzig** (490.000 Einwohner) die zweitgrößte Stadt Sachsens, ist die alte und neue Landeshauptstadt. **Chemnitz** (261.000 Einwohner) war schon im 16. Jahrhundert Zentrum der Textilproduktion und ist seit dem 19. Jahrhundert der Hauptstandort des Maschinenbaus in Sachsen. **Zwickau** (99.000 Einwohner) ist ebenfalls ein bedeutendes Industriezentrum, früher der Tuchmacher, später des Maschinen- und Fahrzeugbaus (Audi und Herch, später der Trabi, jetzt Polo). **Görlitz** (83.000 Einwohner), seit 1815 zu Schlesien gehörend, ist geteilt. Die Märitel jenseits der Görlitzer Neiße sind polnisch, der größere Teil mit der restaurierten Altstadt gehört jetzt zu Sachsen.

🇩🇪 Weitere wichtige Städte sind: **Plauen** (67.000 Einwohner), dessen Ruf die „Plauener Spitzen“ begründet haben. **Bautzen** (43.000 Einwohner) mit seinem eindrucksvollen Stadtbild, ein Zentrum der Sorben, in deren Siedlungsgebiet die Stadt liegt, und **Meißen** (30.000 Einwohner) mit der weltberühmten Porzellanmanufaktur.



☐ zum Beispiel: Sachsen-Anhalt

🇩🇪 Wappen

Das Wappen des neu gegründeten Landes vereinigt die Wappen der früheren preußischen Provinz Sachsen und des Landes Anhalt. Das Erstere zeigt fünf schwarze Balken auf goldenem Grund, belegt mit einem grünen Rautenkranz und dem preußischen Adler im rechten oberen Feld. Das anhaltische Wappen im unteren Feld zeigt auf silbernem Grunde einen schwarzen Bären, der über eine rote mit einem Tor versehene Zinnenmauer schreitet. Es ist eine Variante des Wappens, das das ehemals in Anhalt regierende Herzoghaus führte.


🇩🇪 Flagge: Gelb-Schwarz.

🇩🇪 Größe: ca. 20.444 qkm (Stand 30. 6. 1990) 🇩🇪 Einwohnerzahl: 2,65 Millionen

🇩🇪 Städte: **Magdeburg**, mit 235.000 Einwohnern die zweitgrößte Stadt des Landes, wurde in Konkurrenz mit Halle zur neuen Landeshauptstadt. Der 805 erstmals erwähnte Handelsplatz war bis zur

Zerstörung im Dreißigjährigen Krieg eine der mächtigsten deutschen Städte und wurde im 19. Jahrhundert zu einer bedeutenden Industriestadt. 1945 schwer getroffen, ist sie auch heute ein wichtiges industrielles Zentrum. **Halle** (253.000 Einwohner) gelangte im Mittelalter durch den Salzhandel zu Reichtum und wurde vor allem durch seine chemische Industrie zu einem bedeutenden Industriestandort. **Dessau** (87.000 Einwohner) war 1471-1918 Residenz der Fürsten von Anhalt-Dessau und ist ein bedeutendes Kulturzentrum.

🇩🇪 Weitere wichtige Städte sind: die Lutherstadt **Wittenberg** (51.000 Einwohner), **Stendal** (43.000 Einwohner), die alte Kaiserpfalz **Merseburg** (40.000 Einwohner), in der über 20 Reichstage stattfanden, heute Zentrum von Chemie und Braunkohle, sowie **Halberstadt** (43.000 Einwohner).



☐ zum Beispiel: der Freistaat Thüringen

🇩🇪 Wappen


Die sieben silbernen Sterne stehen für die sieben Kleinstaaten, aus denen Thüringen 1920 gebildet wurde. Der achte Stern wurde in das neue Wappen mit dem Löwen eingefügt, als der vormals preußische Regierungsbezirk Erfurt 1945 wieder an Thüringen fiel.

🇩🇪 Flagge: Weiß-Rot.

🇩🇪 Größe: 16.171 qkm (Stand 30. 6. 1990) 🇩🇪 Einwohnerzahl: 2,46 Millionen

🇩🇪 Städte: **Erfurt**, mit 198.000 Einwohnern die größte Stadt Thüringens, ist die Landeshauptstadt. Vor 1200 Jahren gegründet, war es lange eines der bedeutendsten deutschen Handelszentren. Die 1392 gegründete traditionsreiche und 1816 geschlossene Universität soll wiedererstehen. **Gera** (116.000 Einwohner), 995 erstmals urkundlich erwähnt, erhielt im 13. Jahrhundert Stadtrecht, war ein Zentrum der Tuchmacherei und Weberei und ist heute einer der wichtigsten Industriestandorte in Thüringen. **Jena**, die dritte Großstadt Thüringens (99.000 Einwohner), beherbergt eine der berühmtesten deutschen Universitäten (1558 gegründet) und wurde durch seine feinnormschicht-optische Industrie weltbekannt. **Weimar** (62.000 Einwohner) war das Zentrum der deutschen klassischen Literatur und ist wegen seiner zahlreichen historischen Bauten ein Anziehungspunkt für Besucher aus aller Welt.

🇩🇪 Weitere wichtige Städte sind: die Wartburgstadt **Eisenach** (45.000 Einwohner); die alte Residenzstadt **Gotha** (50.000 Einwohner) mit zahlreichen Denkmälern und Sehenswürdigkeiten; **Arnstadt** (30.000 Einwohner), der älteste urkundlich erwähnte (704) Ort Thüringens; **Meltingen** (22.000 Einwohner), einst einer der bedeutendsten Theaterplätze; **Erfurt**; **Mühlhausen** (39.000 Einwohner) mit einer vollständig erhaltenen mittelalterlichen Stadtanlage und **Helmstedt** (28.000 Einwohner), Zentrum der thüringischen Glasindustrie.



Sozialkunde	Name:	Klasse:	Datum:	Nr.
-------------	-------	---------	--------	-----

Kennt ihr die Bundesländer im Osten Deutschlands?

zum Beispiel: Brandenburg

● Wappen

Der rote Adler auf silbernem Grund ist das seit 1156 überlieferte Wappentier der askanischen Markgrafen von Brandenburg, das von den Hohenzollern übernommen wurde.

● Flagge: Rot-Weiß

● Größe: ca. 29.479 qkm

● Einwohnerzahl: 2,60 Millionen

● Städte:

Potsdam, die Landeshauptstadt, hat rund 130.000 Einwohner, war seit dem 17. Jh. Residenzstadt; Friedrich der Große ließ hier in einem weiträumigen Park das Schloss Sanssouci erbauen. Im Schloss Cecilienhof schlossen die Alliierten 1945 das Potsdamer Abkommen.

Cottbus mit 115.000 Einwohnern ist das Zentrum des Braunkohleabbaus. Handwerker- und Kaufmannshäuser aus dem 17. bis 19. Jahrhundert zeugen vor allem von der damaligen Stellung der Tuchmacherei und der Textilindustrie.

Brandenburg mit 83.000 Einwohnern war im Mittelalter Handelsplatz und Ackerbürgerstadt. Heute steht hier ein Stahl- und Walzwerk.

Frankfurt/Oder (79.000 Einwohner) war Hansestadt und Zentrum der Buchdruckerkunst. Die Universitätsstadt liegt an der Grenze zu Polen.

● Weitere wichtige Städte sind:

Hoyerswerda (56.000 Einwohner), Wohnort für viele Beschäftigte des nahe gelegenen Braunkohlereviere.

Kathenow (28.000 Einwohner), Zentrum der optischen Industrie

Neuruppin (32.000 Einwohner), Geburtsort Theodor Fontanes.



oder: Mecklenburg-Vorpommern

● Wappen

Das Wappen vereinigt die Wappenbilder von Mecklenburg und von Pommern. Im linken Feld zeigt es einen schwarzen Stierkopf mit silbernen Hörnern auf goldenem Grund. Es ist das alte Wappenbild des mecklenburgischen Fürstenhauses, das zuerst Nikolaus II. auf einem Siegel des Jahres 1219 führte. Im rechten Feld zeigt es einen roten Greifen auf silbernem Grund, das Wappen des Herzogtums Pommern, zuerst auf einem Siegel des Herzogs Wartislaw VI. (1240 - 1264) bekannt, das auch von der späteren Provinz Pommern geführt wurde.

● Flagge: Blau-Weiß-Gelb-Weiß-Rot

● Größe: ca. 23.170 qkm

● Einwohnerzahl: 1,79 Millionen

● Städte:

Schwerin mit seinen 105.000 Einwohnern ist die neue Landeshauptstadt. Es war auch zuvor Haupt- und Residenzstadt Mecklenburgs. Davon zeugt noch die Schlossinsel im Kern der Stadt.


Rostock ist mit 205.000 Einwohnern die größte Stadt des Landes. Die alte Hansestadt war für die DDR das „Tor zur Welt“. Rostock ist Universitätsstadt.

Stralsund (63.000 Einwohner), ebenfalls ehemalige Hansestadt, von 1648 bis 1815 unter schwedischer Herrschaft, weist eine historische Altstadt auf mit über 400 unter Denkmalschutz stehenden Objekten

Greifswald mit seinen 58.000 Einwohnern ist seit 1456 Universitätsstadt.

● Weitere wichtige Städte sind:

Neubrandenburg mit 78.000 Einwohnern - das alte Handwerks- und Handelszentrum wurde im Zweiten Weltkrieg fast völlig zerstört, die ehemalige Hansestadt *Wismar* (49.000 Einwohner) und die beiden früheren Residenzstädte *Güstrow* (33.000 Einwohner) und *Neustrelitz* (24.000 Einwohner).



Arbeitsaufgaben: ↗ ⌂ ☺ ➡ |

① Fasst die wichtigsten Fakten über die beiden Bundesländer zusammen und stellt sie der Klasse vor!




② Geht in Gruppenarbeit ein Plakat zu jedem Bundesland und ...

Sozialkunde	Name:	Klasse:	Datum:	Nr.
--------------------	--------------	----------------	---------------	------------

Quiz: Kennt ihr die Bundesländer im Osten Deutschlands?

❶ Ordne den Ländern die richtigen Wappen zu!

1. Brandenburg
2. Mecklenburg-Vorpommern
3. Thüringen
4. Sachsen
5. Sachsen-Anhalt



Kreuze richtig an!

❷ Zwei Zuordnungen **Bundesland-Landeshauptstadt** stimmen nicht. Welche?

- Sachsen (Dresden) Sachsen-Anhalt (Magdeburg) Thüringen (Erfurt)
 Mecklenburg-Vorpommern (Rostock) Brandenburg (Berlin)

❸ Jeweils **eine Stadt** gehört nicht zu den Bundesländern!

Brandenburg:

- Potsdam Berlin Cottbus Brandenburg Frankfurt/Oder

Mecklenburg-Vorpommern:

- Schwerin Rostock Stralsund Neuruppin Greifswald

Sachsen:

- Dresden Leipzig Erfurt Chemnitz Zwickau Görlitz

Sachsen-Anhalt:

- Magdeburg Halle Dessau Stendal Neu-Brandenburg

Thüringen:

- Wismar Gera Jena Gotha Weimar Arnstadt

❹ Die Stadt Wittenberg im Bundesland Sachsen-Anhalt hat folgenden **Beinamen**:

- Fuggerstadt Hansestadt Lutherstadt Chemiestadt Karl-Marx-Stadt

❺ Welche Stadt im Bundesland Thüringen steht mit der **Wartburg** und dem Wartburg-Fest in Zusammenhang?

- Meiningen Eisenach Mühlhausen Ilmenau Weimar Erfurt Gera

❻ Durch welchen **Industriezweig** ist die Stadt Meißen weltberühmt?

- Porzellanmanufaktur Textilindustrie Autoindustrie Optische Geräte

❼ Welches „neue“ Bundesland hat die größte **Ausdehnung in qkm**?

- Thüringen Brandenburg Mecklenburg-Vorpommern Sachsen-Anhalt

❽ Eine **Landesfarben-Zuordnung** ist falsch:

- Sachsen: Weiß-Grün Thüringen: Weiß-Rot Brandenburg: Rot-Weiß
 Sachsen-Anhalt: Gelb-Rot-Blau Mecklenburg-Vorpommern: Blau-Weiß-Gelb-Weiß - Rot

❾ Zwei „neue“ Bundesländer haben den Beinamen „**Freistaat**“. Welche?

- Thüringen Sachsen Sachsen-Anhalt Mecklenburg-Vorpommern Brandenburg

❿ Von welchem Bundesland ist die Hauptstadt **Berlin** umgeben?

- Thüringen Sachsen Sachsen-Anhalt Mecklenburg-Vorpommern Brandenburg




Sozialkunde	Name:	Klasse:	Datum:	Nr.
-------------	-------	---------	--------	-----

Quiz: Kennt ihr die Bundesländer im Osten Deutschlands? (Lösung)

❶ Ordne den Ländern die richtigen Wappen zu!

1. Brandenburg
2. Mecklenburg-Vorpommern
3. Thüringen
4. Sachsen
5. Sachsen-Anhalt



③



④



⑤



②



①

Kreuze richtig an!

❷ Zwei Zuordnungen Bundesland-Landeshauptstadt stimmen nicht. Welche?

Sachsen (Dresden) Sachsen-Anhalt (Magdeburg) Thüringen (Erfurt)

Mecklenburg-Vorpommern (Rostock) Brandenburg (Berlin)

❸ Jeweils eine Stadt gehört nicht zu den Bundesländern!

Brandenburg:

Potsdam Berlin Cottbus Brandenburg Frankfurt/Oder

Mecklenburg-Vorpommern:

Schwerin Rostock Stralsund Neuruppin Greifswald

Sachsen:

Dresden Leipzig Erfurt Chemnitz Zwickau Görlitz

Sachsen-Anhalt:

Magdeburg Halle Dessau Stendal Neu-Brandenburg

Thüringen:

Wismar Gera Jena Gotha Weimar Arnstadt

❹ Die Stadt Wittenberg im Bundesland Sachsen-Anhalt hat folgenden Beinamen:

Fuggerstadt Hansestadt Lutherstadt Chemiestadt Karl-Marx-Stadt

❺ Welche Stadt im Bundesland Thüringen steht mit der Wartburg und dem Wartburg-Fest in Zusammenhang?

Meinigen Eisenach Mühlhausen Ilmenau Weimar Erfurt Gera

❻ Durch welchen Industriezweig ist die Stadt Meißen weltberühmt?

Porzellanmanufaktur Textilindustrie Autoindustrie Optische Geräte

❼ Welches „neue“ Bundesland hat die größte Ausdehnung in qkm?

Thüringen Brandenburg Mecklenburg-Vorpommern Sachsen-Anhalt

❽ Eine Landesfarben-Zuordnung ist falsch:

Sachsen: Weiß-Grün Thüringen: Weiß-Rot Brandenburg: Rot-Weiß

Sachsen-Anhalt: Gelb-Rot-Blau Mecklenburg-Vorpommern: Blau-Weiß-Gelb-Weiß - Rot

❾ Zwei „neue“ Bundesländer haben den Beinamen „Freistaat“. Welche?

Thüringen Sachsen Sachsen-Anhalt Mecklenburg-Vorpommern Brandenburg

❿ Von welchem Bundesland ist die Hauptstadt Berlin umgeben?

Thüringen Sachsen Sachsen-Anhalt Mecklenburg-Vorpommern Brandenburg

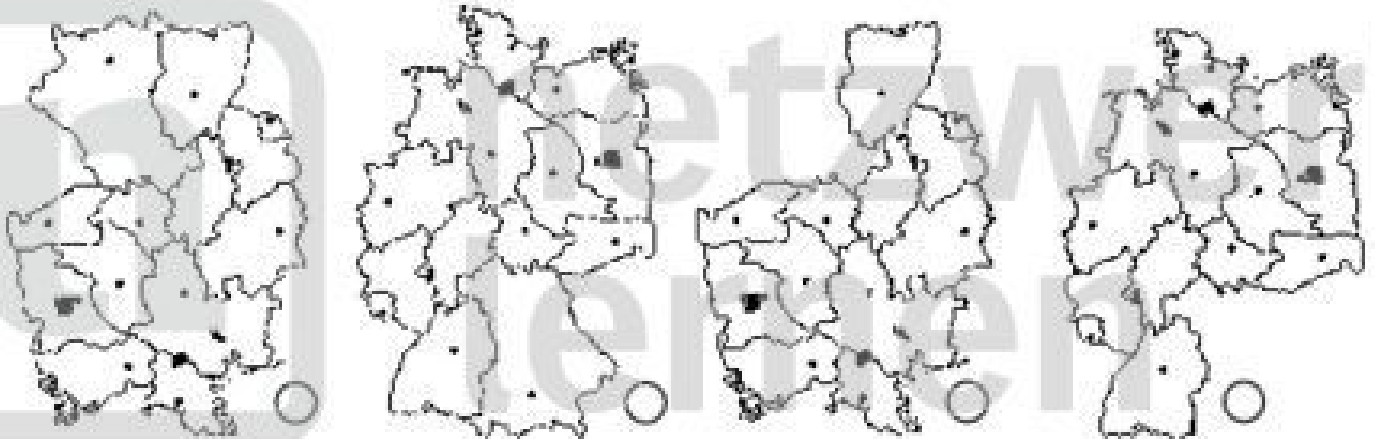


Sozialkunde	Name:	Klasse:	Datum:	Nr.
-------------	-------	---------	--------	-----


Ist Deutschland ein Bundesstaat oder ein Einheitsstaat?

Arbeitsaufgaben: Kreuze richtig an! ➤ ☹ ☹ ☹

1 Welche Kartenumrisse zeigen die Bundesrepublik Deutschland?



2 Welches Wappen symbolisiert die Bundesrepublik Deutschland?



3 Wenn in einem Staat mehrere Länder oder Staaten zusammengefasst sind, sprechen wir von einem

Zentralstaat Bundesstaat Einheitsstaat demokratischen Staat Rechtsstaat

4 In einem Bundesstaat hat jedes einzelne Land seine eigene Regierung und seine eigene Verwaltung. Wie nennt man diese Staatsform?

demokratisch sozial-liberal föderalistisch feudalistisch diktatorisch

5 Bundesstaaten sind zum Beispiel:

Bundesrepublik Deutschland Frankreich Österreich GUS Schweiz

Vereinigten Staaten von Amerika (USA) frühere DDR Mexiko

6 Wie heißt die gegensätzliche Staatsform zum Bundesstaat?

Diktatur Einheitsstaat Zentralstaat Senat Monarchie Landtag

7 Kreuze die richtigen Aussagen an!

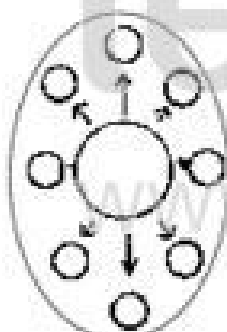
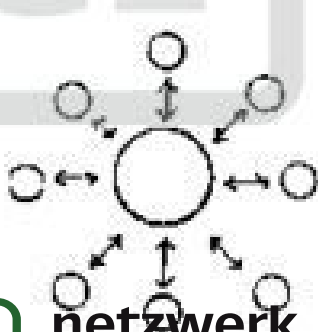
In einem zentralistischen Staat sind Verwaltung und Regierung einheitlich.

Der zentralistische Staat besteht nicht aus Ländern, sondern aus Verwaltungsbezirken.

Der Einheitsstaat lässt Verfassungen einzelner Bundesländer zu.

Im Einheitsstaat gilt der Grundsatz: Die Verwaltungsbezirke haben eigenen Staatscharakter

8 Welches Schemabild passt zum Einheitsstaat? 9 Was haben diese Symbole mit dem Bundesstaat zu tun?

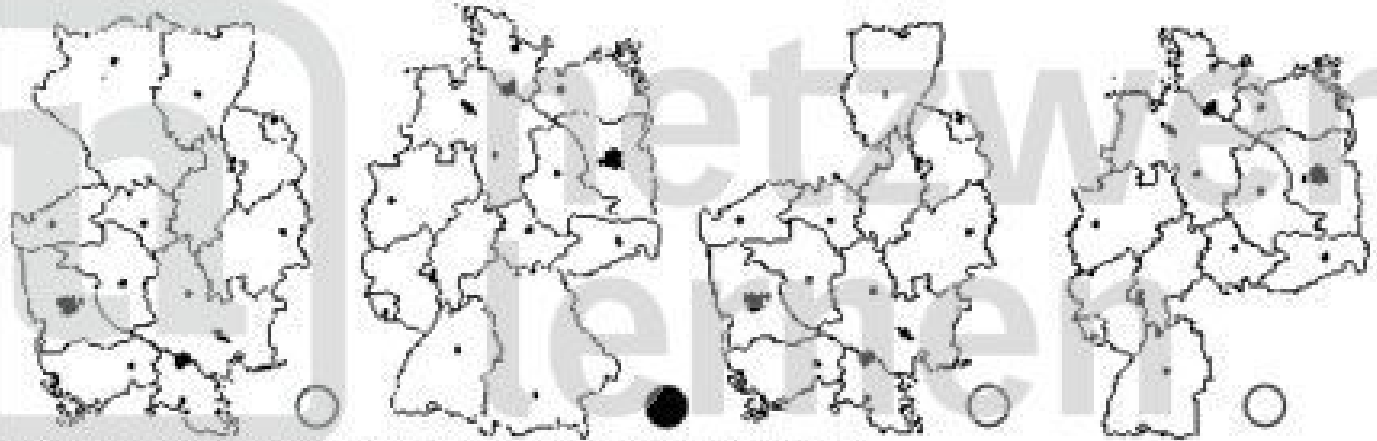


Sozialkunde	Name:	Klasse:	Datum:	Nr.
-------------	-------	---------	--------	-----

Lösung: Ist Deutschland ein Bundesstaat oder ein Einheitsstaat?

Arbeitsaufgaben: Kreuze richtig an! ☞ ☹ ☛ ☜

❶ Welche Kartenumrisse zeigen die Bundesrepublik Deutschland?



❷ Welches Wappen symbolisiert die Bundesrepublik Deutschland?



❸ Wenn in einem Staat mehrere Länder oder Staaten zusammengefasst sind, sprechen wir von einem
 Zentralstaat Bundesstaat Einheitsstaat demokratischen Staat Rechtsstaat

❹ In einem Bundesstaat hat jedes einzelne Land seine eigene Regierung und seine eigene Verwaltung.

Wie nennt man diese Staatsform?

demokratisch sozial-liberal föderalistisch feudalistisch diktatorisch

❺ Bundesstaaten sind zum Beispiel:

Bundesrepublik Deutschland Frankreich Österreich GUS Schweiz

Vereinigten Staaten von Amerika (USA) frühere DDR Mexiko

❻ Wie heißt die gegensätzliche Staatsform zum Bundesstaat?

Diktatur Einheitsstaat Zentralstaat Senat Monarchie Landtag

❼ Kreuze die richtigen Aussagen an!

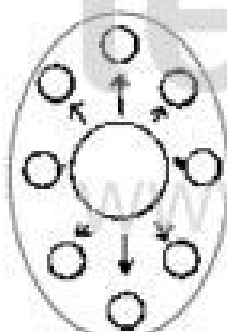
In einem zentralistischen Staat sind Verwaltung und Regierung einheitlich.

Der zentralistische Staat besteht nicht aus Ländern, sondern aus Verwaltungsbezirken.

Der Einheitsstaat lässt Verfassungen einzelner Bundesländer zu.

Im Einheitsstaat gilt der Grundsatz: Die Verwaltungsbezirke haben eigenen Staatscharakter

❽ Welches Schemabild passt zum Einheitsstaat? ❾ Was haben diese Symbole mit dem Bundesstaat zu tun?



NDR



Sozialkunde	Name:	Klasse:	Datum:	Nr.
-------------	-------	---------	--------	-----

Die Bundesrepublik Deutschland ist in Länder gegliedert

❶ Der Zweite Weltkrieg (1939 bis 1945) hinterlässt in Deutschland ein Trümmerfeld. Nach der Hitler-Diktatur besetzen die Alliierten-Siegermächte unser Land; es wird in vier Besatzungszonen aufgeteilt. An die Stelle von Hitlers Machtwillkür tritt die Macht der Militärregierungen.

❷ Zu Beginn ihrer Geschichte wird die Bundesrepublik Deutschland als Übergangstaat angesehen - bis zu einer späteren Wiedervereinigung Deutschlands. Für die demokratischen Grundregeln wird nicht die Bezeichnung „Verfassung“, sondern „Grundgesetz“ gewählt.

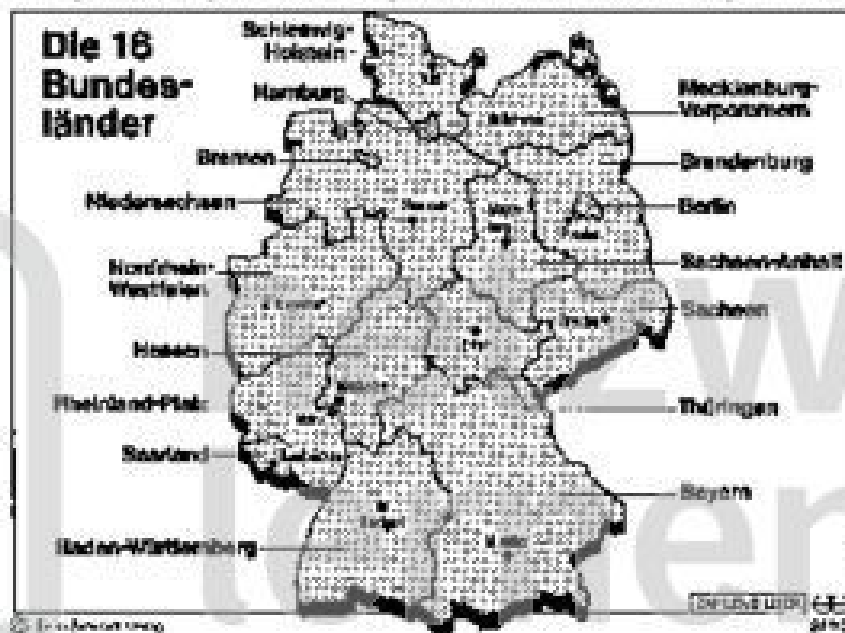
Nach dem Inkrafttreten des Grundgesetzes am 23. Mai 1949 wird der erste deutsche Bundestag gewählt, Theodor Heuss (F.D.P.) wird Bundespräsident und Konrad Adenauer (CDU) erster Bundeskanzler.

❸ Die Siegermächte sind gegen einen deutschen Zentralstaat. Nach den Vorstellungen der westlichen Siegermächte sollen drei abgestufte Ebenen entstehen: lokale Verwaltungen - Staaten (Länder) - Bund (Bundesstaat). In der Bundesrepublik entstehen 11 demokratisch gegliederte Bundesländer. In der früheren DDR bildet sich ein kommunistischer Staat ab 1949 bis 1989.

❹ Am 9. November 1989 erklärt das SED-Politbüro der DDR: „Ständige Ausreisen können über alle Grenzübergangsstellen erfolgen.“ Ab 21 Uhr strömen die Ost-Berliner in den Westen der Stadt, junge Leute übersteigen von beiden Seiten die Mauer. Am 22. Dezember wird das Brandenburger Tor geöffnet. Am 31. August 1990 verabschieden Bundesinnenminister Schäuble und DDR-Ministerpräsident Lothar de Maiziere den Einigungsvertrag in Berlin. Der Zusammenschluss der beiden deutschen Staaten ist besiegelt. Am 3. Oktober 1990 ist die DDR nur noch Geschichte, am 14. Oktober wählt man in Thüringen, Sachsen, Sachsen-Anhalt, Brandenburg und Mecklenburg-Vorpommern die Länderparlamente.

❺ Ein Bundesstaat ist eine staatsrechtliche Staatenverbindung, in der mehrere Staaten zu einem Gesamtstaat vereinigt sind und in der die Staatlichkeit der Gliedstaaten erhalten bleibt, dem Gesamtstaat aber in allen die Einheit und den Bestand des Ganzen betreffende Fragen die Entscheidung zufällt.

Ein Bundesstaat hat *doppelte Staatsgewalt*: Gewalt des *Bundes*, Gewalt der *Länder*; es gibt eine Gesetzgebung des Bundes, aber auch Landesgesetze; es gibt ein Bundesparlament, aber auch Länderparlamente.



Arbeitsaufgaben: 1. 2. 3. 4.

❶ Kennzeichnet die „alten“ Bundesländer (bis 1990) mit blauer, die „neuen“ Bundesländer mit roter Farbe!

❷ Formuliert zu folgenden Begriffen jeweils einen kurzen Satz:

Wiedervereinigung - Besatzungszonen - Zentralstaat - Bundesstaat

❸ Was ist ein Bundesstaat? Unterstreicht im Text oben!

❹ Was ist ein Bundesstaat doppelte Staatsgewalt?