



01

Rechen-Bingo ZE+E=ZE o. Ü.

Trage folgende Lösungszahlen kreuz und quer in den Bingo-Plan ein!

45	46	47			
56	57	58			
67	68	69			
74	75	76	77		
85	86	87	88		
96	97	98	99		



Hier das Blatt nach Hause bringen!

Rechne jeweils eine Aufgabe aus, schreibe die Lösung in den Kreis und kreuze dann oben im Bingo-Plan die Lösungszahl an! Wenn du eine komplette Bingo-Reihe fertig hast, kannst du mit dem Rechnen aufhören.

- 1 $51 + 4 =$
- 2 $63 + 6 =$
- 3 $43 + 1 =$
- 4 $82 + 3 =$
- 5 $95 + 2 =$
- 6 $64 + 4 =$
- 7 $91 + 7 =$
- 8 $43 + 2 =$
- 9 $81 + 6 =$
- 10 $42 + 4 =$
- 11 $93 + 6 =$
- 12 $72 + 5 =$
- 13 $63 + 3 =$
- 14 $91 + 7 =$
- 15 $43 + 2 =$
- 16 $54 + 3 =$
- 17 $94 + 2 =$
- 18 $61 + 6 =$
- 19 $72 + 2 =$
- 20 $81 + 5 =$
- 21 $44 + 3 =$
- 22 $71 + 4 =$
- 23 $85 + 3 =$
- 24 $52 + 4 =$

Wie viele Aufgaben musstest du rechnen, bevor du eine komplette Bingo-Reihe fertig hast?

© 2019 Angela Baurmeier 2019

02

Rechen-Bingo ZE+E=ZE o. Ü.

Trage folgende Lösungszahlen kreuz und quer in den Bingo-Plan ein!

44	45	46	47		
55	56	57	58		
66	67	68	69		
74	75	76	77		
85	86	87	88		
96	97	98	99		



Hier das Blatt nach Hause bringen!

Rechne jeweils eine Aufgabe aus, schreibe die Lösung in den Kreis und kreuze dann oben im Bingo-Plan die Lösungszahl an! Wenn du eine komplette Bingo-Reihe fertig hast, kannst du mit dem Rechnen aufhören.

- 1 $63 + 3 =$
- 2 $91 + 7 =$
- 3 $43 + 2 =$
- 4 $54 + 3 =$
- 5 $81 + 6 =$
- 6 $42 + 4 =$
- 7 $93 + 6 =$
- 8 $72 + 5 =$
- 9 $44 + 3 =$
- 10 $71 + 4 =$
- 11 $85 + 3 =$
- 12 $52 + 4 =$
- 13 $94 + 2 =$
- 14 $61 + 6 =$
- 15 $72 + 2 =$
- 16 $81 + 5 =$
- 17 $95 + 2 =$
- 18 $64 + 4 =$
- 19 $53 + 5 =$
- 20 $74 + 2 =$
- 21 $51 + 4 =$
- 22 $63 + 6 =$
- 23 $43 + 1 =$
- 24 $82 + 3 =$

Wie viele Aufgaben musstest du rechnen, bevor du eine komplette Bingo-Reihe fertig hast?

© 2019 Angela Baurmeier 2019



01

Rechen-Bingo ZE+E=ZE o. Ü. (Lösung)

Trage folgende Lösungszahlen kreuz und quer in den Bingo-Plan ein!

45	46	47			
56	57	58			
67	68	69			
74	75	76	77		
85	86	87	88		
96	97	98	99		



Hier das Blatt nach hinten klappen!

Rechne jeweils eine Aufgabe aus, schreibe die Lösung in den Kreis und kreuze dann oben im Bingo-Plan die Lösungszahl an! Wenn du eine komplette Bingo-Reihe fertig hast, kannst du mit dem Rechnen aufhören.

- $51 + 4 = 55$
- $63 + 6 = 69$
- $43 + 1 = 44$
- $82 + 3 = 85$
- $95 + 2 = 97$
- $64 + 4 = 68$
- $53 + 5 = 58$
- $74 + 2 = 76$
- $81 + 6 = 87$
- $42 + 4 = 46$
- $93 + 6 = 99$
- $72 + 5 = 77$
- $63 + 3 = 66$
- $91 + 7 = 98$
- $43 + 2 = 45$
- $54 + 3 = 57$
- $94 + 2 = 96$
- $61 + 6 = 67$
- $72 + 2 = 74$
- $81 + 5 = 86$
- $44 + 3 = 47$
- $71 + 4 = 75$
- $85 + 3 = 88$
- $52 + 4 = 56$

Wie viele Aufgaben musstest du rechnen, bevor du eine komplette Bingo-Reihe fertig hast?

© 2019 Angela Baurweg 2008

02

Rechen-Bingo ZE+E=ZE o. Ü. (Lösung)

Trage folgende Lösungszahlen kreuz und quer in den Bingo-Plan ein!

44	45	46	47		
55	56	57	58		
66	67	68	69		
74	75	76	77		
85	86	87	88		
96	97	98	99		



Hier das Blatt nach hinten klappen!

Rechne jeweils eine Aufgabe aus, schreibe die Lösung in den Kreis und kreuze dann oben im Bingo-Plan die Lösungszahl an! Wenn du eine komplette Bingo-Reihe fertig hast, kannst du mit dem Rechnen aufhören.

- $63 + 3 = 66$
- $91 + 7 = 98$
- $43 + 2 = 45$
- $54 + 3 = 57$
- $81 + 6 = 87$
- $42 + 4 = 46$
- $93 + 6 = 99$
- $72 + 5 = 77$
- $44 + 3 = 47$
- $71 + 4 = 75$
- $85 + 3 = 88$
- $52 + 4 = 56$
- $94 + 2 = 96$
- $61 + 6 = 67$
- $72 + 2 = 74$
- $81 + 5 = 86$
- $95 + 2 = 97$
- $64 + 4 = 68$
- $53 + 5 = 58$
- $74 + 2 = 76$
- $51 + 4 = 55$
- $63 + 6 = 69$
- $43 + 1 = 44$
- $82 + 3 = 85$

Wie viele Aufgaben musstest du rechnen, bevor du eine komplette Bingo-Reihe fertig hast?

© 2019 Angela Baurweg 2008




03

Rechen-Bingo ZE-E=ZE o. Ü.

Trage folgende Lösungszahlen kreuz und quer in den Bingo-Plan ein!

11	12	13	14
22	23	24	25
33	34	35	36
41	42	43	44
52	53	54	55
63	64	65	66

Hier das Blatt nach hinten klappen!

Rechne jeweils eine Aufgabe aus, schreibe die Lösung in den Kreis und kreuze dann oben im Bingo-Plan die Lösungszahl an! Wenn du eine komplette Bingo-Reihe fertig hast, kannst du mit dem Rechnen aufhören.

- 19 - 5 =
- 38 - 4 =
- 27 - 2 =
- 39 - 6 =
- 47 - 5 =
- 15 - 2 =
- 59 - 5 =
- 68 - 3 =
- 26 - 4 =
- 48 - 7 =
- 56 - 3 =
- 19 - 8 =
- 68 - 4 =
- 39 - 3 =
- 26 - 2 =
- 57 - 5 =
- 38 - 3 =
- 28 - 5 =
- 59 - 4 =
- 18 - 6 =
- 47 - 4 =
- 68 - 2 =
- 37 - 4 =
- 49 - 5 =

Wie viele Aufgaben musstest du rechnen, bevor du eine komplette Bingo-Reihe fertig hast?


©2019 Angela Baurmeier 2019

04

Rechen-Bingo ZE-E=ZE o. Ü.

Trage folgende Lösungszahlen kreuz und quer in den Bingo-Plan ein!

11	12	13	14
22	23	24	25
33	34	35	36
41	42	43	44
52	53	54	55
63	64	65	66

Hier das Blatt nach hinten klappen!

Rechne jeweils eine Aufgabe aus, schreibe die Lösung in den Kreis und kreuze dann oben im Bingo-Plan die Lösungszahl an! Wenn du eine komplette Bingo-Reihe fertig hast, kannst du mit dem Rechnen aufhören.

- 68 - 4 =
- 39 - 3 =
- 26 - 2 =
- 57 - 5 =
- 26 - 4 =
- 48 - 7 =
- 56 - 3 =
- 19 - 8 =
- 47 - 4 =
- 68 - 2 =
- 37 - 4 =
- 49 - 5 =
- 38 - 3 =
- 28 - 5 =
- 59 - 4 =
- 18 - 6 =
- 47 - 5 =
- 15 - 2 =
- 59 - 5 =
- 68 - 3 =
- 19 - 5 =
- 38 - 4 =
- 27 - 2 =
- 69 - 6 =

Wie viele Aufgaben musstest du rechnen, bevor du eine komplette Bingo-Reihe fertig hast?

©2019 Angela Baurmeier 2019



03

Rechen-Bingo ZE-E=ZE o. 0. (Lösung)

Trage folgende Lösungszahlen kreuz und quer in den Bingo-Plan ein!

11	12	13	14			
21	23	24	25			
31	34	35	36			
41	42	43	44			
52	53	54	55			
63	64	65	66			



Hier das Blatt nach hinten klappen!

Rechne jeweils eine Aufgabe aus, schreibe die Lösung in den Kreis und kreuze dann oben im Bingo-Plan die Lösungszahl an! Wenn du eine komplette Bingo-Reihe fertig hast, kannst du mit dem Rechnen aufhören.

- 19 - 5 = 14
- 38 - 4 = 34
- 27 - 2 = 25
- 39 - 6 = 63
- 47 - 5 = 42
- 15 - 2 = 13
- 59 - 5 = 54
- 68 - 3 = 65
- 26 - 4 = 22
- 48 - 7 = 41
- 56 - 3 = 53
- 19 - 8 = 11
- 68 - 4 = 64
- 39 - 3 = 36
- 26 - 2 = 24
- 57 - 5 = 52
- 38 - 3 = 35
- 28 - 5 = 23
- 59 - 4 = 55
- 18 - 6 = 12
- 47 - 4 = 43
- 68 - 2 = 66
- 37 - 4 = 33
- 49 - 5 = 44

Wie viele Aufgaben musstest du rechnen, bevor du eine komplette Bingo-Reihe fertig hast?

Name:

04

Rechen-Bingo ZE-E=ZE o. 0. (Lösung)

Trage folgende Lösungszahlen kreuz und quer in den Bingo-Plan ein!

11	12	13	14			
22	23	24	25			
33	34	35	36			
41	42	43	44			
52	53	54	55			
63	64	65	66			



Hier das Blatt nach hinten klappen!

Rechne jeweils eine Aufgabe aus, schreibe die Lösung in den Kreis und kreuze dann oben im Bingo-Plan die Lösungszahl an! Wenn du eine komplette Bingo-Reihe fertig hast, kannst du mit dem Rechnen aufhören.

- 68 - 4 = 64
- 39 - 3 = 36
- 26 - 2 = 24
- 57 - 5 = 52
- 26 - 4 = 22
- 48 - 7 = 41
- 56 - 3 = 53
- 19 - 8 = 11
- 47 - 4 = 43
- 68 - 2 = 66
- 37 - 4 = 33
- 49 - 5 = 44
- 38 - 3 = 35
- 28 - 5 = 23
- 59 - 4 = 55
- 18 - 6 = 12
- 47 - 5 = 42
- 15 - 2 = 13
- 59 - 5 = 54
- 68 - 3 = 65
- 19 - 5 = 14
- 38 - 4 = 34
- 27 - 2 = 25
- 69 - 6 = 63

Wie viele Aufgaben musstest du rechnen, bevor du eine komplette Bingo-Reihe fertig hast?




05

Rechen-Bingo ZE+/-E=ZE o. Ü.

Trage folgende Lösungszahlen kreuz und quer in den Bingo-Plan ein!

11	12	13	14
21	23	24	25
31	34	35	36
74	75	76	77
85	86	87	88
96	97	98	99

Hier das Blatt nach hinten klappen!

Rechne jeweils eine Aufgabe aus, schreibe die Lösung in den Kreis und kreuze dann oben im Bingo-Plan die Lösungszahl an! Wenn du eine komplette Bingo-Reihe fertig hast, kannst du mit dem Rechnen aufhören.

- 1 $92 + 7 =$
- 2 $27 - 2 =$
- 3 $71 + 5 =$
- 4 $38 - 4 =$
- 5 $33 + 3 =$
- 6 $18 - 5 =$
- 7 $91 + 7 =$
- 8 $28 - 4 =$
- 9 $85 + 2 =$
- 10 $29 - 7 =$
- 11 $72 + 3 =$
- 12 $36 - 3 =$
- 13 $72 + 5 =$
- 14 $39 - 4 =$
- 15 $93 + 3 =$
- 16 $18 - 7 =$
- 17 $71 + 3 =$
- 18 $38 - 2 =$
- 19 $81 + 4 =$
- 20 $19 - 7 =$
- 21 $93 + 4 =$
- 22 $16 - 2 =$
- 23 $85 + 3 =$
- 24 $27 - 4 =$

Wie viele Aufgaben musstest du rechnen, bevor du eine komplette Bingo-Reihe fertig hast?


©2019 Maria Angela Baumweg 2008

06

Rechen-Bingo ZE+/-E=ZE o. Ü.

Trage folgende Lösungszahlen kreuz und quer in den Bingo-Plan ein!

11	12	13	14
22	23	24	25
33	34	35	36
74	75	76	77
85	86	87	88
96	97	98	99

Hier das Blatt nach hinten klappen!

Rechne jeweils eine Aufgabe aus, schreibe die Lösung in den Kreis und kreuze dann oben im Bingo-Plan die Lösungszahl an! Wenn du eine komplette Bingo-Reihe fertig hast, kannst du mit dem Rechnen aufhören.

- 1 $72 + 5 =$
- 2 $39 - 4 =$
- 3 $93 + 3 =$
- 4 $18 - 7 =$
- 5 $85 + 2 =$
- 6 $29 - 7 =$
- 7 $72 + 3 =$
- 8 $36 - 3 =$
- 9 $93 + 4 =$
- 10 $16 - 2 =$
- 11 $85 + 3 =$
- 12 $27 - 4 =$
- 13 $71 + 3 =$
- 14 $38 - 2 =$
- 15 $81 + 4 =$
- 16 $19 - 7 =$
- 17 $83 + 3 =$
- 18 $18 - 5 =$
- 19 $91 + 7 =$
- 20 $28 - 4 =$
- 21 $92 + 7 =$
- 22 $27 - 2 =$
- 23 $71 + 5 =$
- 24 $38 - 4 =$

Wie viele Aufgaben musstest du rechnen, bevor du eine komplette Bingo-Reihe fertig hast?

©2019 Maria Angela Baumweg 2008



05

Rechen-Bingo ZE+/E=ZE o. U. (Lösung)

Trage folgende Lösungszahlen kreuz und quer in den Bingo-Plan ein!

11	12	13	14				
22	23	24	25				
33	34	35	36				
74	75	76	77				
85	86	87	88				
96	97	98	99				



Hier das Blatt nach hinten klappen!

Rechne jeweils eine Aufgabe aus, schreibe die Lösung in den Kreis und kreuze dann oben im Bingo-Plan die Lösungszahl an! Wenn du eine komplette Bingo-Reihe fertig hast, kannst du mit dem Rechnen aufhören.

- $92 + 7 = 99$
- $27 - 2 = 25$
- $71 + 5 = 76$
- $38 - 4 = 34$
- $33 + 3 = 86$
- $18 - 5 = 13$
- $91 + 7 = 98$
- $28 - 4 = 24$
- $85 + 2 = 87$
- $29 - 7 = 22$
- $72 + 3 = 75$
- $36 - 3 = 33$
- $72 + 5 = 77$
- $39 - 4 = 35$
- $93 + 3 = 96$
- $18 - 7 = 11$
- $71 + 3 = 74$
- $38 - 2 = 36$
- $81 + 4 = 85$
- $19 - 7 = 12$
- $93 + 4 = 97$
- $16 - 2 = 14$
- $85 + 3 = 88$
- $27 - 4 = 23$

Wie viele Aufgaben musstest du rechnen, bevor du eine komplette Bingo-Reihe fertig hast?

Name:

06

Rechen-Bingo ZE+/E=ZE o. U. (Lösung)

Trage folgende Lösungszahlen kreuz und quer in den Bingo-Plan ein!

11	12	13	14				
22	23	24	25				
33	34	35	36				
74	75	76	77				
85	86	87	88				
96	97	98	99				



Hier das Blatt nach hinten klappen!

Rechne jeweils eine Aufgabe aus, schreibe die Lösung in den Kreis und kreuze dann oben im Bingo-Plan die Lösungszahl an! Wenn du eine komplette Bingo-Reihe fertig hast, kannst du mit dem Rechnen aufhören.

- $72 + 5 = 77$
- $39 - 4 = 35$
- $93 + 3 = 96$
- $18 - 7 = 11$
- $85 + 2 = 87$
- $29 - 7 = 22$
- $72 + 3 = 75$
- $36 - 3 = 33$
- $93 + 4 = 97$
- $16 - 2 = 14$
- $85 + 3 = 88$
- $27 - 4 = 23$
- $71 + 3 = 74$
- $38 - 2 = 36$
- $81 + 4 = 85$
- $19 - 7 = 12$
- $83 + 3 = 86$
- $18 - 5 = 13$
- $91 + 7 = 98$
- $28 - 4 = 24$
- $92 + 7 = 99$
- $27 - 2 = 25$
- $71 + 5 = 76$
- $38 - 4 = 34$

Wie viele Aufgaben musstest du rechnen, bevor du eine komplette Bingo-Reihe fertig hast?




07

Rechen-Bingo ZE+E=ZE m. Ü.

Trage folgende Lösungszahlen kreuz und quer in den Bingo-Plan ein!

41	42	43	44
51	53	54	55
61	64	65	66
71	72	73	74
82	83	84	85
93	94	95	96

Hier das Blatt nach hinten klappen!

Rechne jeweils eine Aufgabe aus, schreibe die Lösung in den Kreis und kreuze dann oben im Bingo-Plan die Lösungszahl an! Wenn du eine komplette Bingo-Reihe fertig hast, kannst du mit dem Rechnen aufhören.

- 49 + 3 =
- 58 + 5 =
- 66 + 7 =
- 84 + 8 =
- 96 + 7 =
- 58 + 8 =
- 45 + 9 =
- 76 + 6 =
- 87 + 7 =
- 36 + 5 =
- 68 + 3 =
- 89 + 7 =
- 48 + 5 =
- 57 + 7 =
- 69 + 5 =
- 78 + 7 =
- 67 + 5 =
- 39 + 4 =
- 75 + 8 =
- 86 + 9 =
- 47 + 8 =
- 79 + 5 =
- 38 + 6 =
- 59 + 6 =


Wie viele Aufgaben musstest du rechnen, bevor du eine komplette Bingo-Reihe fertig hast?

08

Rechen-Bingo ZE+E=ZE m. Ü.

Trage folgende Lösungszahlen kreuz und quer in den Bingo-Plan ein!

41	42	43	44
52	53	54	55
63	64	65	66
71	72	73	74
82	83	84	85
93	94	95	96

Hier das Blatt nach hinten klappen!

Rechne jeweils eine Aufgabe aus, schreibe die Lösung in den Kreis und kreuze dann oben im Bingo-Plan die Lösungszahl an! Wenn du eine komplette Bingo-Reihe fertig hast, kannst du mit dem Rechnen aufhören.

- 48 + 5 =
- 57 + 7 =
- 69 + 5 =
- 78 + 7 =
- 87 + 7 =
- 36 + 5 =
- 68 + 3 =
- 89 + 7 =
- 47 + 8 =
- 79 + 5 =
- 38 + 6 =
- 59 + 6 =
- 67 + 5 =
- 39 + 4 =
- 75 + 8 =
- 86 + 9 =
- 47 + 8 =
- 58 + 8 =
- 45 + 9 =
- 76 + 6 =
- 49 + 3 =
- 58 + 5 =
- 66 + 7 =
- 34 + 8 =

Wie viele Aufgaben musstest du rechnen, bevor du eine komplette Bingo-Reihe fertig hast?



07

Rechen-Bingo ZE+E=ZE m. 0. (Lösung)

Trage folgende Lösungszahlen kreuz und quer in den Bingo-Plan ein!

41	42	43	44
51	53	54	55
61	64	65	66
71	72	73	74
82	83	84	85
93	94	95	96



Hier das Blatt nach hinten klappen!

Rechne jeweils eine Aufgabe aus, schreibe die Lösung in den Kreis und kreuze dann oben im Bingo-Plan die Lösungszahl an! Wenn du eine komplette Bingo-Reihe fertig hast, kannst du mit dem Rechnen aufhören.

- 49 + 3 = 52
- 58 + 5 = 63
- 66 + 7 = 73
- 84 + 8 = 42
- 96 + 7 = 93
- 58 + 8 = 66
- 45 + 9 = 54
- 76 + 6 = 82
- 87 + 7 = 94
- 36 + 5 = 41
- 68 + 3 = 71
- 89 + 7 = 96
- 48 + 5 = 53
- 57 + 7 = 64
- 69 + 5 = 74
- 78 + 7 = 85
- 67 + 5 = 72
- 39 + 4 = 43
- 75 + 8 = 83
- 86 + 9 = 95
- 47 + 8 = 55
- 79 + 5 = 84
- 38 + 6 = 44
- 59 + 6 = 65



Wie viele Aufgaben musstest du rechnen, bevor du eine komplette Bingo-Reihe fertig hast?

08

Rechen-Bingo ZE+E=ZE m. 0. (Lösung)

Trage folgende Lösungszahlen kreuz und quer in den Bingo-Plan ein!

41	42	43	44
52	53	54	55
63	64	65	66
71	72	73	74
82	83	84	85
93	94	95	96



Hier das Blatt nach hinten klappen!

Rechne jeweils eine Aufgabe aus, schreibe die Lösung in den Kreis und kreuze dann oben im Bingo-Plan die Lösungszahl an! Wenn du eine komplette Bingo-Reihe fertig hast, kannst du mit dem Rechnen aufhören.

- 48 + 5 = 53
- 57 + 7 = 64
- 69 + 5 = 74
- 78 + 7 = 85
- 87 + 7 = 94
- 36 + 5 = 41
- 68 + 3 = 71
- 89 + 7 = 96
- 47 + 8 = 55
- 79 + 5 = 84
- 38 + 6 = 44
- 59 + 6 = 65
- 67 + 5 = 72
- 39 + 4 = 43
- 75 + 8 = 83
- 86 + 9 = 95
- 47 + 8 = 55
- 58 + 8 = 66
- 45 + 9 = 54
- 76 + 6 = 82
- 49 + 3 = 52
- 58 + 5 = 63
- 66 + 7 = 73
- 34 + 8 = 42



Wie viele Aufgaben musstest du rechnen, bevor du eine komplette Bingo-Reihe fertig hast?

(© Klaus Jung, Braunschweig 2008)



09

Rechen-Bingo ZE-E=ZE m. Ü.

Trage folgende Lösungszahlen kreuz und quer in den Bingo-Plan ein!

- 17 18 19
- 26 27 28
- 34 35 36 37
- 46 47 48 49
- 55 56 57 58
- 64 65 66 67

Hier das Blatt nach hinten klappen!

Rechne jeweils eine Aufgabe aus, schreibe die Lösung in den Kreis und kreuze dann oben im Bingo-Plan die Lösungszahl an! Wenn du eine komplette Bingo-Reihe fertig hast, kannst du mit dem Rechnen aufhören.

- 1 41 - 7 =
- 2 75 - 8 =
- 3 32 - 4 =
- 4 56 - 9 =
- 5 61 - 6 =
- 6 23 - 7 =
- 7 31 - 4 =
- 8 55 - 7 =
- 9 54 - 5 =
- 10 23 - 6 =
- 11 71 - 5 =
- 12 43 - 8 =
- 13 55 - 9 =
- 14 72 - 7 =
- 15 23 - 5 =
- 16 62 - 6 =
- 17 33 - 7 =
- 18 52 - 4 =
- 19 73 - 9 =
- 20 42 - 6 =
- 21 61 - 4 =
- 22 22 - 3 =
- 23 45 - 8 =
- 24 32 - 7 =

Wie viele Aufgaben musstest du rechnen, bevor du eine komplette Bingo-Reihe fertig hast?

10

Rechen-Bingo ZE-E=ZE m. Ü.

Trage folgende Lösungszahlen kreuz und quer in den Bingo-Plan ein!

- 16 17 18 19
- 25 26 27 28
- 34 35 36 37
- 46 47 48 49
- 55 56 57 58
- 64 65 66 67

Hier das Blatt nach hinten klappen!

Rechne jeweils eine Aufgabe aus, schreibe die Lösung in den Kreis und kreuze dann oben im Bingo-Plan die Lösungszahl an! Wenn du eine komplette Bingo-Reihe fertig hast, kannst du mit dem Rechnen aufhören.

- 1 55 - 9 =
- 2 72 - 7 =
- 3 23 - 5 =
- 4 62 - 6 =
- 5 54 - 5 =
- 6 23 - 6 =
- 7 71 - 5 =
- 8 43 - 8 =
- 9 61 - 4 =
- 10 22 - 3 =
- 11 45 - 8 =
- 12 32 - 7 =
- 13 73 - 9 =
- 14 52 - 4 =
- 15 33 - 7 =
- 16 42 - 6 =
- 17 23 - 7 =
- 18 61 - 6 =
- 19 31 - 4 =
- 20 65 - 7 =
- 21 41 - 7 =
- 22 75 - 8 =
- 23 32 - 4 =
- 24 56 - 9 =

Wie viele Aufgaben musstest du rechnen, bevor du eine komplette Bingo-Reihe fertig hast?



09

Rechen-Bingo ZE-E=ZE m. 0. (Lösung)

Trage folgende Lösungszahlen kreuz und quer in den Bingo-Plan ein!

17	18	19			
26	27	28			
34	35	36	37		
46	47	48	49		
55	56	57	58		
64	65	66	67		



Hier das Blatt nach hinten klappen!

Rechne jeweils eine Aufgabe aus, schreibe die Lösung in den Kreis und kreuze dann oben im Bingo-Plan die Lösungszahl an! Wenn du eine komplette Bingo-Reihe fertig hast, kannst du mit dem Rechnen aufhören.

- 41 - 7 = 34
- 75 - 8 = 67
- 32 - 4 = 28
- 56 - 9 = 47
- 61 - 6 = 55
- 23 - 7 = 16
- 31 - 4 = 27
- 55 - 7 = 58
- 54 - 5 = 49
- 23 - 6 = 17
- 71 - 5 = 66
- 43 - 8 = 35
- 55 - 9 = 46
- 72 - 7 = 65
- 23 - 5 = 18
- 62 - 6 = 56
- 33 - 7 = 26
- 52 - 4 = 48
- 73 - 9 = 64
- 42 - 6 = 36
- 61 - 4 = 57
- 22 - 3 = 19
- 45 - 8 = 37
- 32 - 7 = 25

Wie viele Aufgaben musstest du rechnen, bevor du eine komplette Bingo-Reihe fertig hattest?

10

Rechen-Bingo ZE-E=ZE m. 0. (Lösung)

Trage folgende Lösungszahlen kreuz und quer in den Bingo-Plan ein!

16	17	18	19		
25	26	27	28		
34	35	36	37		
46	47	48	49		
55	56	57	58		
64	65	66	67		



Hier das Blatt nach hinten klappen!

Rechne jeweils eine Aufgabe aus, schreibe die Lösung in den Kreis und kreuze dann oben im Bingo-Plan die Lösungszahl an! Wenn du eine komplette Bingo-Reihe fertig hast, kannst du mit dem Rechnen aufhören.

- 55 - 9 = 46
- 72 - 7 = 65
- 23 - 5 = 18
- 62 - 6 = 56
- 54 - 5 = 49
- 23 - 6 = 17
- 71 - 5 = 66
- 43 - 8 = 35
- 61 - 4 = 57
- 22 - 3 = 19
- 45 - 8 = 37
- 32 - 7 = 25
- 73 - 9 = 64
- 52 - 4 = 48
- 33 - 7 = 26
- 42 - 6 = 36
- 23 - 7 = 16
- 61 - 6 = 55
- 31 - 4 = 27
- 65 - 7 = 58
- 41 - 7 = 34
- 75 - 8 = 67
- 32 - 4 = 28
- 56 - 9 = 47

Wie viele Aufgaben musstest du rechnen, bevor du eine komplette Bingo-Reihe fertig hattest?