

# Mein Arbeitspass

Arbeitspass für: \_\_\_\_\_

		angefangen	beendet	kontrolliert
1	Deine Uhr			
2	Die Uhrzeiten			
3	Riesenzeitdomino			
4	Ein Tag hat 24 Stunden			
5	Fehlende Stunden			
6	Fehlende Minuten			
7	Mein Tagesablauf			
8	Zeitspannen schätzen und stoppen			
9	Zeitdauer und Zeitpunkt			
10	Öffnungszeiten			
11	Rechnen mit der Zeit			
12	Meine Zeitgeschichte			
13	Zeit im Alltag			
14	Lebensabschnitte			
15	Meine Kindheit			
16	Interview			
17	Frühling, Sommer, Herbst & Winter			
18	Die vier Jahreszeiten			
19	Das Vier-Jahreszeiten-Spiel			
20	Ein Jahr hat 12 Monate			
21	Jeder Tag hat ein Datum			
22	Knifflige Fragen rund um die Zeit			
23	Eine Woche hat 7 Tage			
24	Rätsel um den Kalender			
25	Fest- und Feiertage			
26	Die Sternzeichen			
27	Der Sternzeichen-Mix			
28	Planung			

# 1 Deine Uhr

✂ Schneide das Ziffernblatt aus und klebe es auf Pappe.



✂ Bemale oder beklebe deine Uhr.


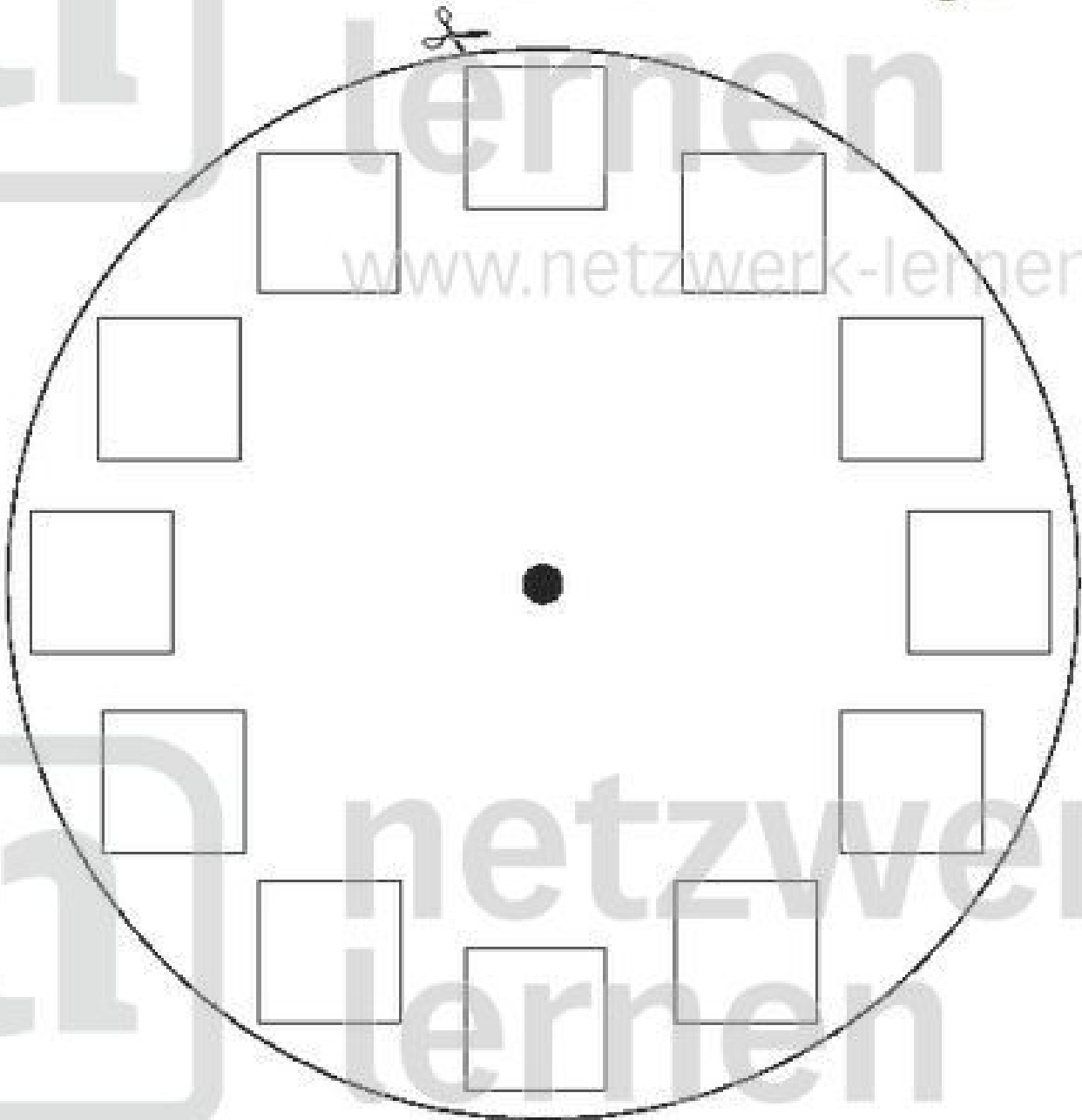


✂ Schneide die Zeiger aus und klebe sie auf Pappe.



✂ Bohre vorsichtig ein Loch durch die Zeiger und die Mitte des Ziffernblattes.

✂ Befestige die Zeiger mit einer Prospektklammer in der Mitte.

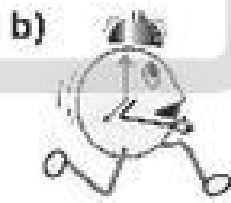


## 2 Die Uhrzeiten


- 🕒 Stelle die Uhrzeiten an deiner Uhr ein.
- 🕒 Schreibe die Uhrzeiten neben die Uhren.



\_\_\_\_\_ Uhr  
 \_\_\_\_\_ Uhr



\_\_\_\_\_ Uhr  
 \_\_\_\_\_ Uhr




\_\_\_\_\_ Uhr  
 \_\_\_\_\_ Uhr



\_\_\_\_\_ Uhr  
 \_\_\_\_\_ Uhr




\_\_\_\_\_ Uhr  
 \_\_\_\_\_ Uhr




\_\_\_\_\_ Uhr  
 \_\_\_\_\_ Uhr



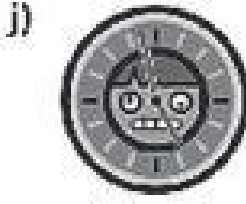
\_\_\_\_\_ Uhr  
 \_\_\_\_\_ Uhr



\_\_\_\_\_ Uhr  
 \_\_\_\_\_ Uhr



\_\_\_\_\_ Uhr  
 \_\_\_\_\_ Uhr



\_\_\_\_\_ Uhr  
 \_\_\_\_\_ Uhr



\_\_\_\_\_ Uhr  
 \_\_\_\_\_ Uhr



\_\_\_\_\_ Uhr  
 \_\_\_\_\_ Uhr



\_\_\_\_\_ Uhr  
 \_\_\_\_\_ Uhr



\_\_\_\_\_ Uhr  
 \_\_\_\_\_ Uhr

# 3

## Riesenzeitdomino

✂ Schneide die Karten aus und spiele das Domino mit einem Partner.




# 4 Ein Tag hat 24 Stunden

Zeichne die Zeiger richtig in die Uhren ein.

a)	b)	c)	d)	e)	f)
9 Uhr morgens	12 Uhr mittags	1 Uhr nachts	10 Uhr morgens	7 Uhr morgens	11 Uhr morgens



g)	h)	i)	j)	k)	l)
2 Uhr nachts	5 Uhr nachts	8 Uhr morgens	4 Uhr nachts	3 Uhr nachts	6 Uhr morgens



m)	n)	o)	p)	q)	r)
14 Uhr	17 Uhr	19 Uhr	13 Uhr	23 Uhr	18 Uhr
2 Uhr mittags	5 Uhr nachmittags	7 Uhr abends	1 Uhr mittags	11 Uhr abends	6 Uhr nachmittags



s)	t)	u)	v)	w)	x)
21 Uhr	16 Uhr	24 Uhr	22 Uhr	15 Uhr	20 Uhr
9 Uhr abends	4 Uhr nachmittags	12 Uhr nachts	10 Uhr abends	3 Uhr mittags	8 Uhr abends





# 5

## Fehlende Stunden



Wie viele Stunden fehlen zwischen den beiden Uhrzeiten?

von bis



a) \_\_\_\_\_ Stunden

von bis

b) \_\_\_\_\_ Stunden

von bis

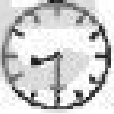

c) \_\_\_\_\_ Stunden

von bis




d) \_\_\_\_\_ Stunden

von bis

e) \_\_\_\_\_ Stunden

von bis




f) \_\_\_\_\_ Stunden

von bis




g) \_\_\_\_\_ Stunden

von bis




h) \_\_\_\_\_ Stunden

von bis




i) \_\_\_\_\_ Stunden

von bis

14:00 16:00

j) \_\_\_\_\_ Stunden

von bis

06:10 12:10

k) \_\_\_\_\_ Stunden

von bis

17:25 20:25

l) \_\_\_\_\_ Stunden

von bis

02:45 06:45

m) \_\_\_\_\_ Stunden

von bis

22:10 00:10

n) \_\_\_\_\_ Stunden

von bis

03:10 11:10

o) \_\_\_\_\_ Stunden

von bis

17:30 23:30

p) \_\_\_\_\_ Stunden

von bis

09:05 18:05

q) \_\_\_\_\_ Stunden

von bis

22:30 03:30



r) \_\_\_\_\_ Stunden

# 6

## Fehlende Minuten



Wie viele Minuten fehlen zwischen den beiden Uhrzeiten?

von      bis



a) \_\_\_\_\_ Minuten

von      bis

b) \_\_\_\_\_ Minuten

von      bis

c) \_\_\_\_\_ Minuten

von      bis




d) \_\_\_\_\_ Minuten

von      bis




e) \_\_\_\_\_ Minuten

von      bis




f) \_\_\_\_\_ Minuten

von      bis




g) \_\_\_\_\_ Minuten

von      bis




h) \_\_\_\_\_ Minuten

von      bis




i) \_\_\_\_\_ Minuten

von      bis

**12:00**    **12:30**

j) \_\_\_\_\_ Minuten

von      bis

**12:45**    **17:10**

k) \_\_\_\_\_ Minuten

von      bis

**08:15**    **08:55**

l) \_\_\_\_\_ Minuten

von      bis

**20:05**    **20:20**

m) \_\_\_\_\_ Minuten

von      bis

**13:40**    **14:05**

n) \_\_\_\_\_ Minuten

von      bis

**10:10**    **11:10**

o) \_\_\_\_\_ Minuten

von      bis

**05:20**    **05:35**

p) \_\_\_\_\_ Minuten

von      bis

**09:15**    **10:00**

q) \_\_\_\_\_ Minuten

von      bis

**14:30**    **15:05**

r) \_\_\_\_\_ Minuten

# 7

## Mein Tagesablauf

✂ Schneide die Felder aus.



✂ Klebe sie in der richtigen Reihenfolge auf ein Blatt.



✂ Zeichne die Zeigereinstellung in die Uhren, die für dich gelten.



<p>Hausaufgaben</p>	<p>Hobby</p>	<p>Schule</p>
	<p>Aufstehen</p>	<p>Abendessen</p>
<p>Mittagessen</p>	<p>Fernsehen</p>	
<p>Schlafen</p>	<p>Frühstück</p>	<p>Spielen/Freunde treffen</p>



## 8

## Zeitspannen schätzen und stoppen

- ⌘ *Arbeite mit einem Partner zusammen.*
- ⌘ *Les die Aufgaben durch und schätzt die Zeiten. Schreibe sie auf.*
- ⌘ *Führt die Aufgaben aus und stoppt die Zeiten. Schreibe sie auf.*

Aufgabe	geschätzte Zeit	gestoppte Zeit
das Wort Hamster schreiben	_____ Sekunden	_____ Sekunden
das Mathebuch aus der Tasche holen und die Seite 29 aufschlagen	_____ Sekunden	_____ Sekunden
deinen Namen schreiben	_____ Sekunden	_____ Sekunden
dreimal um deinen Tisch gehen	_____ Sekunden	_____ Sekunden
zur Eingangstür der Schule und wieder zurückgehen	_____ Sekunden	_____ Sekunden
deine Schultasche aus- und einräumen	_____ Sekunden	_____ Sekunden
deinem Partner ein Gedicht vorlesen	_____ Sekunden	_____ Sekunden
das Wort Regen rückwärts schreiben	_____ Sekunden	_____ Sekunden
einmal an allen vier Wänden der Klasse entlanggehen	_____ Sekunden	_____ Sekunden
die Augen so lange offen halten, bis du zwinkerst	_____ Sekunden	_____ Sekunden
die 7er- und die 9er-Reihe des Einmaleins aus dem Kopf aufsagen	_____ Sekunden	_____ Sekunden
einen Ton singen, bis dir der Atem ausgeht	_____ Sekunden	_____ Sekunden

## 9 Zeitdauer und Zeitpunkt

- 8 Lies die Sätze genau durch.
- 8 Schreibe die Sätze dann in den richtigen Teil der Tabelle.

1. Es sind 7 Stunden und 5 Minuten vergangen.
2. Alena kommt um 11.00 Uhr zu mir.
3. Der Bus fährt um 15.30 Uhr ab.
4. Ich habe am 30. Oktober Geburtstag.
5. Morgen beginnt der Unterricht um 8.45 Uhr.
6. Die Fahrt in den Urlaub dauert 5 Stunden und 20 Minuten.
7. Es ist jetzt 19.40 Uhr.
8. Der Supermarkt hat heute von 9.00 Uhr bis 22.00 Uhr geöffnet.
9. Für meinen Schulweg brauche ich 15 Minuten.
10. Der Wandertag dauert von 10.00 Uhr bis 17.00 Uhr.
11. Der Wandertag beginnt um 10.00 Uhr.
12. Das Schuhgeschäft öffnet um 9.00 Uhr.
13. Gestern hat es über eine Stunde geregnet.
14. Die Sommerferien dauern über 6 Wochen.
15. Der Film beginnt um 20.15 Uhr.

Zeitdauer	
Zeitpunkt	