



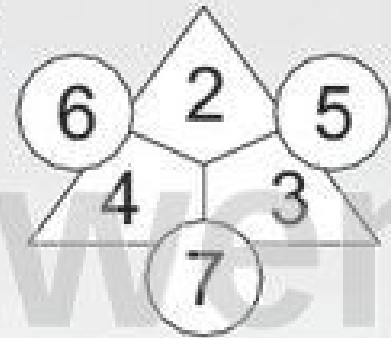
Name: \_\_\_\_\_

Klasse: \_\_\_\_\_

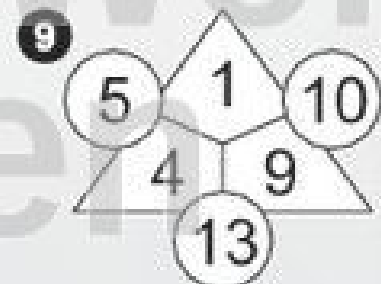
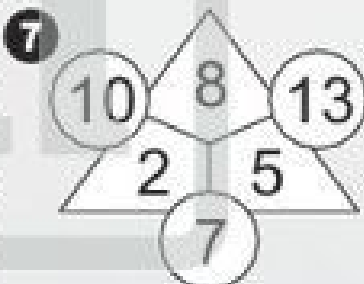
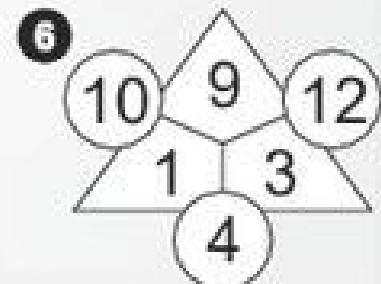
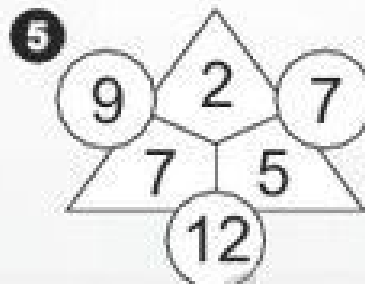
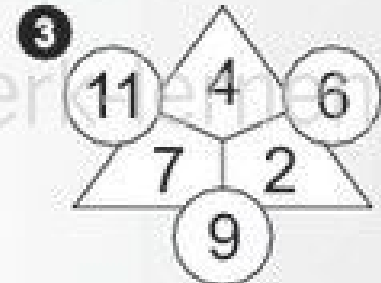
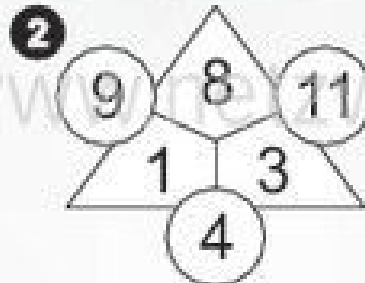
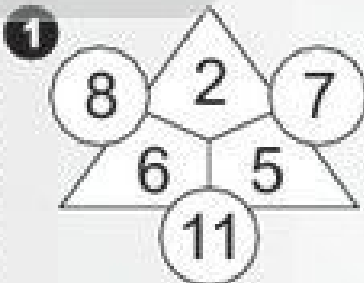
Datum: \_\_\_\_\_

## Zahlendreiecke 2 (Lösungsbeispiele)

Hier rechts siehst du das Beispiel für ein Zahlendreieck. In einem Zahlendreieck ergeben zwei Zahlen, die innen nebeneinander stehen, zusammgezählt immer die entsprechende Zahl außen. Versuche jetzt, die neun Zahlendreiecke unten zu füllen! Du darfst aber nur die jeweils angegebenen Zahlen verwenden. Das sieht zwar einfach aus, ist aber manchmal ganz schön verzwickelt!



Beispiel





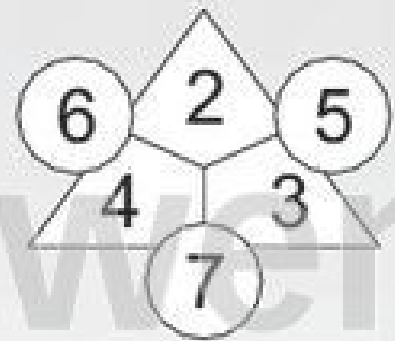
Name: \_\_\_\_\_

Klasse: \_\_\_\_\_

Datum: \_\_\_\_\_

## Zahlendreiecke

Hier rechts siehst du das Beispiel für ein Zahlendreieck. In einem Zahlendreieck ergeben zwei Zahlen, die innen nebeneinander stehen, zusammgezählt immer die entsprechende Zahl außen. Versuche jetzt, die neun Zahlendreiecke unten zu füllen! Du darfst aber nur die jeweils angegebenen Zahlen verwenden. Das sieht zwar einfach aus, ist aber manchmal ganz schön verzwickelt!



Beispiel

**1**

**2**

**3**

**4**

**5**

**6**

**7**

**8**

**9**

