



Name:

Klasse:

Datum:

Rechenplan 3

| | | | | |
|----|---|--|---|--|
| 12 | - | | = | |
|----|---|--|---|--|

| | | | | |
|----|---|--|---|--|
| 12 | - | | = | |
|----|---|--|---|--|

| | | | | |
|----|---|--|---|--|
| 12 | - | | = | |
|----|---|--|---|--|

Schneide diese Zahlen sorgfältig aus und lege sie so auf den Rechenplan, dass alle Rechnungen aufgehen!
 Klebe dann die Zahlen auf die Felder und male sie fertig aus!

| | | | | |
|---|---|---|---|--|
| 1 | 2 | 3 | 3 | |
| 4 | 4 | 5 | 6 | |



Name:

Klasse:

Datum:

Rechenplan 4

$$\underline{14} - \square = \square = \square$$

$$\underline{14} - \square = \square = \square$$

$$\underline{14} - \square = \square = \square$$

Schneide diese Zahlen sorgfältig aus und lege sie so auf den Rechenplan, dass alle Rechnungen aufgehen!
 Klebe dann die Zahlen auf die Felder und male sie fertig aus!

1 2 3 4 ✂

5 6 6 7 8



Name:

Klasse:

Datum:

Rechenplan 5

$$\square + \square = \underline{11}$$

$$\square + \square - \square = \underline{11}$$

$$\square + \square - \square = \underline{11}$$

Schneide diese Zahlen sorgfältig aus und lege sie so auf den Rechenplan, dass alle Rechnungen aufgehen!
Klebe dann die Zahlen auf die Felder und male sie fertig aus!





Name:

Klasse:

Datum:

Rechenplan 6

$$\square - \square + \square = \underline{13}$$

$$\square - \square + \square = \underline{13}$$

$$\square - \square + \square = \underline{13}$$

Schneide diese Zahlen sorgfältig aus und lege sie so auf den Rechenplan, dass alle Rechnungen aufgehen!
Klebe dann die Zahlen auf die Felder und male sie fertig aus!

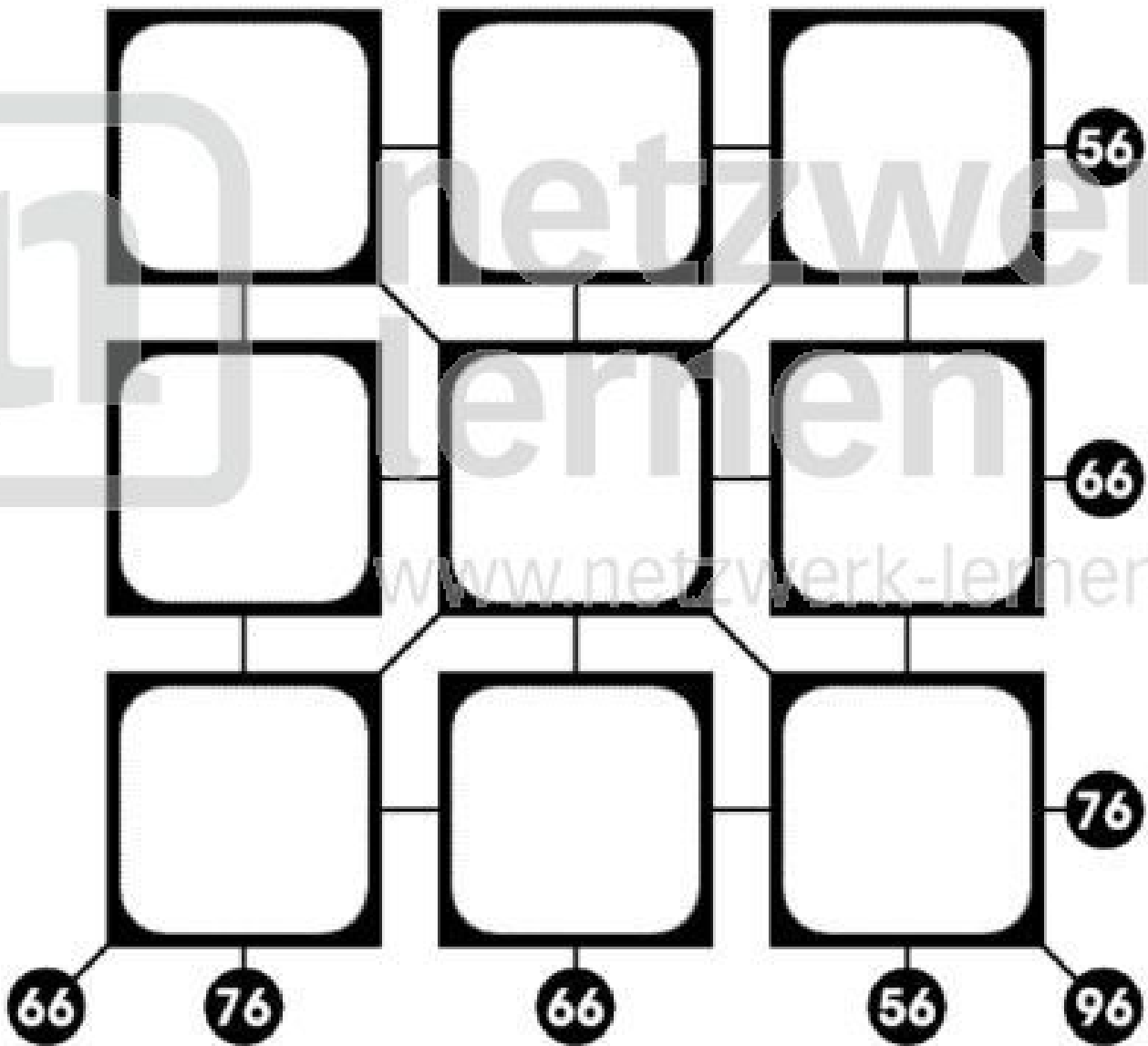


Name: _____

Klasse: _____

Datum: _____

Rechenplan 7



Schneide diese Zahlen sorgfältig aus und lege sie so auf den Rechenplan, dass die Summen der drei Zahlen die waagrecht, senkrecht und diagonal angegebenen Ergebnisse ergeben! Klebe dann die Zahlen auf die Felder und male sie farblich aus!

11 12 13 21

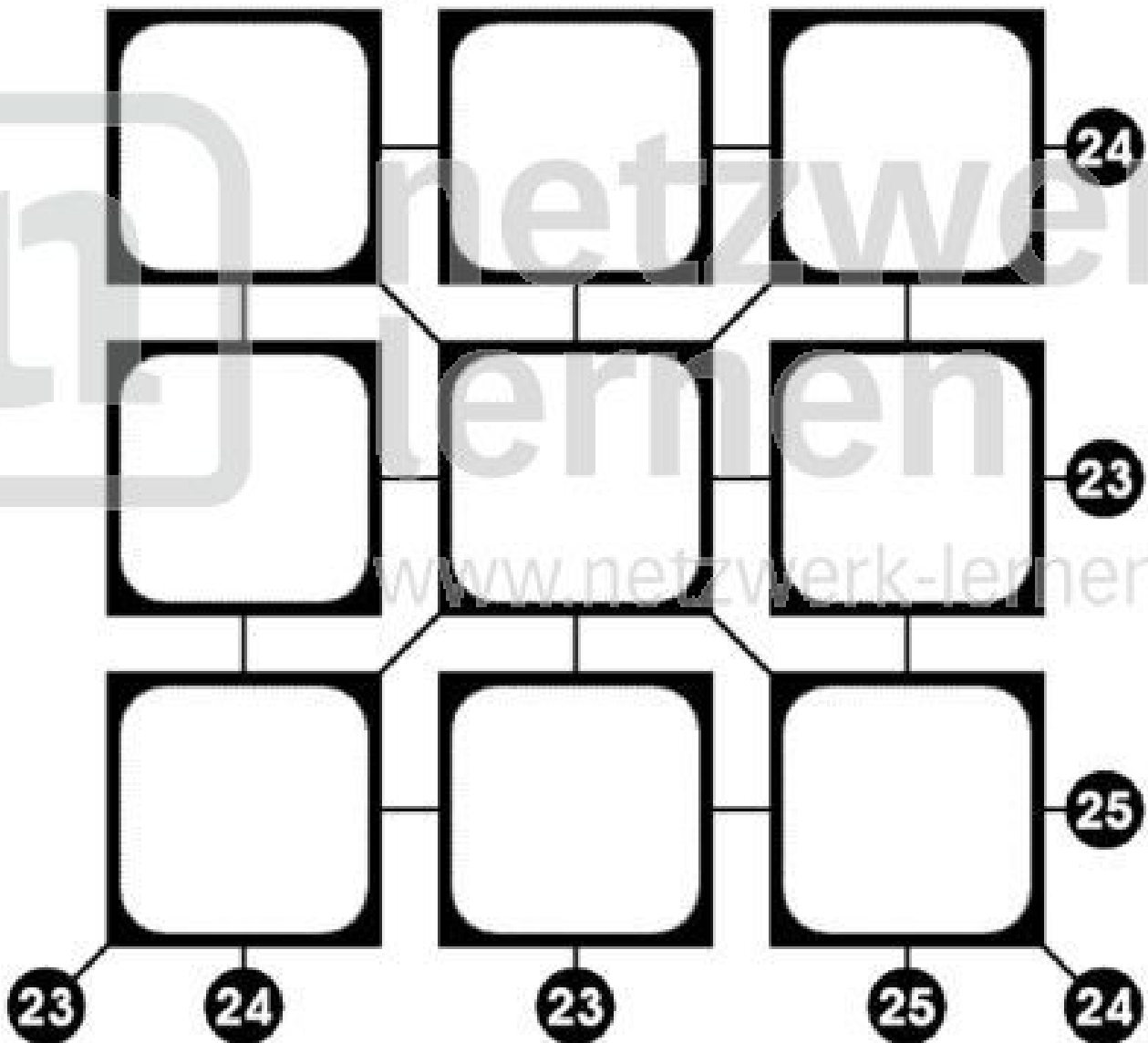
22 23 31 32 33

Name: _____

Klasse: _____

Datum: _____

Rechenplan 8



Schneide diese Zahlen sorgfältig aus und lege sie so auf den Rechenplan, dass die Summen der drei Zahlen die waagrecht, senkrecht und diagonal angegebenen Ergebnisse ergeben! Klebe dann die Zahlen auf die Felder und male sie farblich aus!

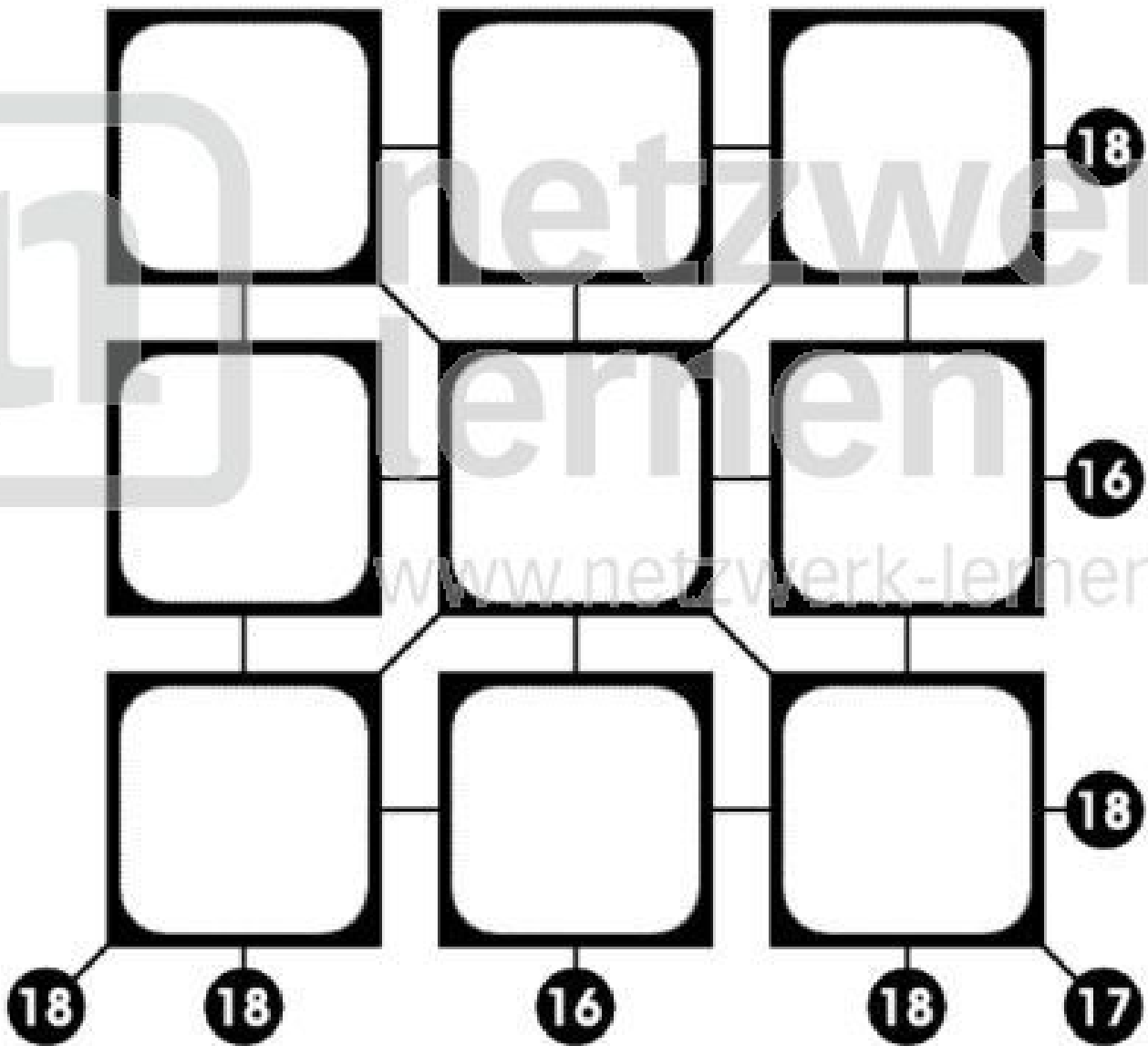


Name: _____

Klasse: _____

Datum: _____

Rechenplan 9



Schneide diese Zahlen sorgfältig aus und lege sie so auf den Rechenplan, dass die Summen der drei Zahlen die waagrecht, senkrecht und diagonal angegebenen Ergebnisse ergeben! Klebe dann die Zahlen auf die Felder und male sie farblich aus!

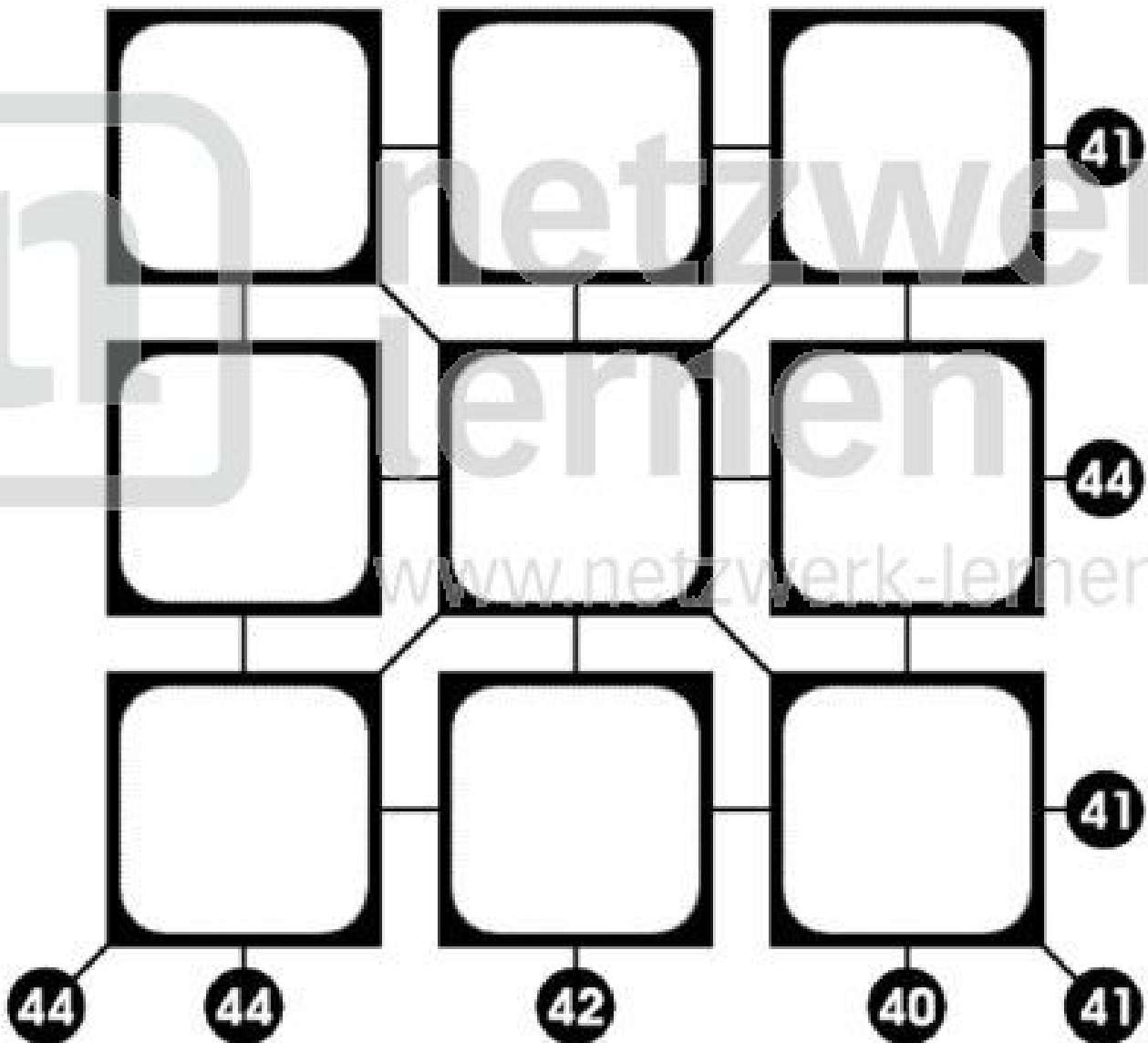


Name: _____

Klasse: _____

Datum: _____

Rechenplan 10



Schneide diese Zahlen sorgfältig aus und lege sie so auf den Rechenplan, dass die Summen der drei Zahlen die waagrecht, senkrecht und diagonal angegebenen Ergebnisse ergeben! Klebe dann die Zahlen auf die Felder und male sie farblich aus!

10 11 12 13

14 15 16 17 18



netzwerk lernen

zur Vollversion