

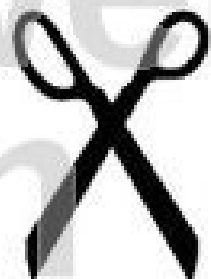
Rechenplan 3

$$\square + \square = 7$$

$$\square - \square = 3$$

$$\square + \square = 9$$

Schneide diese Zahlen sorgfältig aus und lege sie so auf den Rechenplan, dass alle Rechnungen aufgehen! Klebe dann die Zahlen auf die Felder und male sie fertig aus!



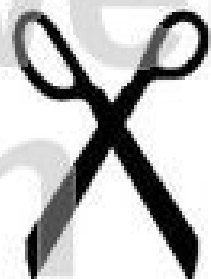
Rechenplan 4

$$\square - \square = \underline{4}$$

$$\square + \square = \underline{9}$$

$$\square - \square = \underline{2}$$

Schneide diese Zahlen sorgfältig aus und lege sie so auf den Rechenplan, dass alle Rechnungen aufgehen! Klebe dann die Zahlen auf die Felder und male sie fertig aus!





Name:

Klasse:

Datum:

Rechenplan 5

$$\square + \square + \square = \underline{6}$$

$$\square + \square + \square = \underline{7}$$

$$\square + \square + \square = \underline{8}$$

Schneide diese Zahlen sorgfältig aus und lege sie so auf den Rechenplan, dass alle Rechnungen aufgehen!
Klebe dann die Zahlen auf die Felder und male sie fertig aus!

0 1 2 2 ✂

3 3 3 3 4




Name:

Klasse:

Datum:

Rechenplan 6



Schneide diese Zahlen sorgfältig aus und lege sie so auf den Rechenplan, dass alle Rechnungen aufgehen!
Klebe dann die Zahlen auf die Felder und male sie fertig aus!





Name:

Klasse:

Datum:

Rechenplan 7

$$\square + \square = \underline{3}$$

$$\square + \square = \underline{4}$$

$$\square + \square = \underline{5}$$

Schneide diese Zahlen sorgfältig aus und lege sie so auf den Rechenplan, dass alle Rechnungen aufgehen!
Klebe dann die Zahlen auf die Felder und male sie fertig aus!





Name:

Klasse:

Datum:

Rechenplan 8

$$\square - \square + \square = \underline{4}$$

$$\square - \square + \square = \underline{5}$$

$$\square - \square + \square = \underline{6}$$

Schneide diese Zahlen sorgfältig aus und lege sie so auf den Rechenplan, dass alle Rechnungen aufgehen!
Klebe dann die Zahlen auf die Felder und male sie fertig aus!



netzwerk
lernen

zur Vollversion

Rechenplan 9

| | | | | |
|---|---|---|---|---|
| | + | | = | |
| + | | + | | + |
| | + | | = | |
| = | | = | | = |
| | + | | = | |

Schneide diese Zahlen sorgfältig aus und lege sie so auf den Rechenplan, dass alle Rechnungen aufgehen!
Klebe dann die Zahlen auf die Felder und male sie fertig aus!

| | | | | |
|---|---|---|---|---|
| 1 | 1 | 2 | 2 |  |
| 3 | 4 | 5 | 6 | 8 |

Name: _____

Klasse: _____

Datum: _____

Rechenplan 10

| | | | | |
|---|---|---|---|---|
| | + | | = | |
| + | | + | | + |
| | + | | = | |
| = | | = | | = |
| | + | | = | |

Schneide diese Zahlen sorgfältig aus und lege sie so auf den Rechenplan, dass alle Rechnungen aufgehen!
Klebe dann die Zahlen auf die Felder und male sie fertig aus!

