



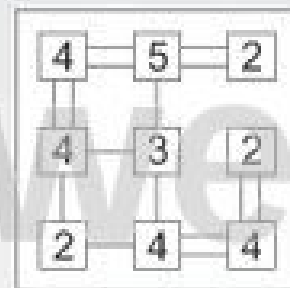
Name:

Klasse:


Datum:

Kinder-Hashi 2 (Lösungsbeispiel)

Bei einem Hashi musst du zwischen die Zahlenfelder einfache oder doppelte Linien zeichnen, so dass auf jedes Feld genau so viele Linien zulaufen, wie die Zahl im Feld angibt. Die Linien verlaufen nicht diagonal und kreuzen sich nicht. Rechts siehst du ein einfaches Hashi-Beispiel. Versuche jetzt, das Hashi-Rätsel auf dieser Seite zu knacken!



Beispiel





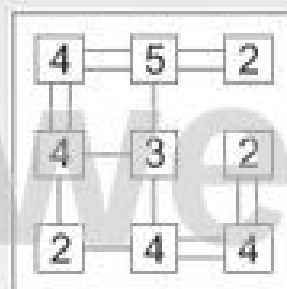
Name:

Klasse:

Datum:

Kinder-Hashi 2

Bei einem Hashi musst du zwischen die Zahlenfelder einfache oder doppelte Linien zeichnen, so dass auf jedes Feld genau so viele Linien zulaufen, wie die Zahl im Feld angibt. Die Linien verlaufen nicht diagonal und kreuzen sich nicht. Rechts siehst du ein einfaches Hashi-Beispiel. Versuche jetzt, das Hashi-Rätsel auf dieser Seite zu knacken!



Beispiel
