






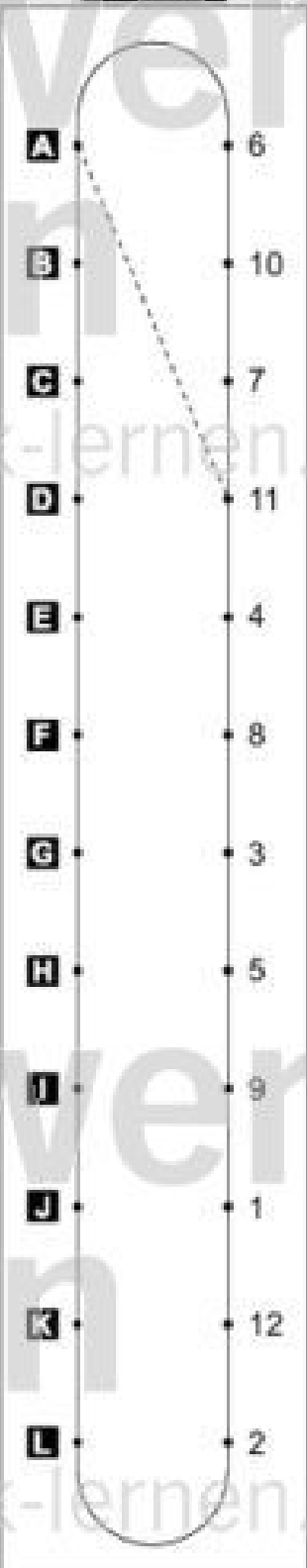










Name: \_\_\_\_\_

Klasse: \_\_\_\_\_

Datum: \_\_\_\_\_

## Falt- und Schneide- rätsel 1

Welche Figur entsteht jeweils, wenn du ein zweimal gefaltetes Rechenblatt an den markierten Linien beschneidest und dann aufklappst? Suche zu jeder Aufgabe von **A** bis **L** die passende Lösung. Schreibe die zugehörige Lösungszahl in das Feld unter der Aufgabe. Zeichne dann im Kontrollfeld eine gerade Linie von dem Aufgabenbuchstaben zur Lösungszahl.

Aufgaben		Lösungen		Kontrollfeld
<b>A</b>	 11	 7	 2	
<b>B</b>				
<b>C</b>				
<b>D</b>				
<b>E</b>				
<b>F</b>				
<b>G</b>				
<b>H</b>				
<b>I</b>				
<b>J</b>				
<b>K</b>				
<b>L</b>	