

	A
	B
5	C
1	D
7	E
3	F
10	G
2	H
6	I
9	J
4	K
8	L

		$72 : \text{Pentagon} = 8$
$32 : \text{Pentagon} = 8$	$48 : \text{Pentagon} = 8$	$16 : \text{Pentagon} = 8$
$80 : \text{Pentagon} = 8$	$56 : \text{Pentagon} = 8$	$40 : \text{Pentagon} = 8$
$64 : \text{Pentagon} = 8$	$8 : \text{Pentagon} = 8$	$24 : \text{Pentagon} = 8$


$64 : \text{Pentagon} = 8$	$32 : \text{Pentagon} = 8$	$72 : \text{Pentagon} = 8$
$48 : \text{Pentagon} = 8$	$16 : \text{Pentagon} = 8$	$80 : \text{Pentagon} = 8$
$24 : \text{Pentagon} = 8$	$56 : \text{Pentagon} = 8$	$8 : \text{Pentagon} = 8$
$40 : \text{Pentagon} = 8$		

A	3
B	1
C	8
D	5
E	7
F	10
G	2
H	6
I	4
J	9
K	
L	













C1 Einmaleins der 8 (Teilaufgaben)
Wie heißt die Lösung?













Lösungen der Rückseite



Knicke das Blatt an den drei gestrichelten Linien nach hinten und stelle es so auf:



	1
	2
8	3
4	4
9	5
6	6
2	7
10	8
3	9
7	10
1	11
5	12

 1	 2	 : 32 = 8 3
 : 80 = 8 4	 : 64 = 8 5	 : 40 = 8 6
 : 24 = 8 7	 : 8 = 8 8	 : 56 = 8 9
 : 72 = 8 10	 : 48 = 8 11	 : 16 = 8 12

A 8 = 40 : 	B 8 = 8 : 	C 8 = 56 : 
D 8 = 24 : 	E 8 = 80 : 	F 8 = 16 : 
G 8 = 48 : 	H 8 = 72 : 	I 8 = 32 : 
J 8 = 64 : 	K 	L 

A	2
B	6
C	9
D	7
E	1
F	3
G	5
H	8
I	10
J	4
K	
L	

D1 Einmaleins der 8 (Teilaufgaben)

Wie heißt die Lösung?

Lösungen der Rückseite

Knicke das Blatt an den drei gestrichelten Linien nach hinten und stelle es so auf:

