

## Zelle Aufgabe ⑥

1 Geburtstags-Rallye: Die Botschaft am Baum lautet:

2 **Es gibt eine Zahl.**  
3 **Wenn man diese durch 5 teilt,**  
4 **erhält man 8.**

5 **So viele Meter**  
6 **müsst ihr noch geradeaus gehen.**  
7 **Dort sucht eine Schatzkarte.**

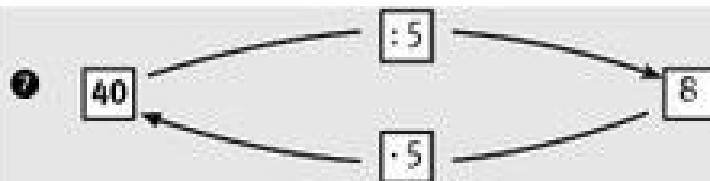
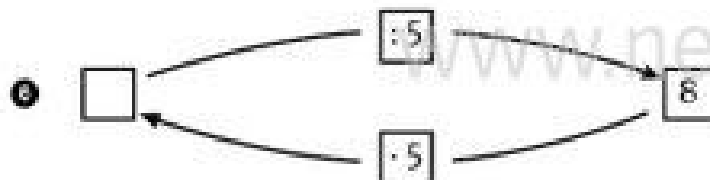
www.netzwerk-lernen.de

www.netzwerk-lernen.de



Lösungsseite


- 1 Was möchten die Kinder wissen?
- 2 Sie möchten wissen, wie viele Meter sie noch geradeaus gehen müssen.
- 3 Wie können sie das herausbekommen?
- 4 Sie müssen die Zahl errechnen, die, durch 5 geteilt, 8 ergibt.  
(Denn diese Zahl ist die Anzahl der Meter, die sie noch geradeaus gehen müssen.)
- 5 Diese Zahl erhält man durch die Umkehrrechnung.



- 3 Wie viele Meter müssen sie also noch geradeaus gehen?
- 5 Sie müssen noch 40 Meter geradeaus gehen.



Wie misst du 40 m, wenn du kein Maßband hast?



Du machst ungefähr 80 Schritte.