






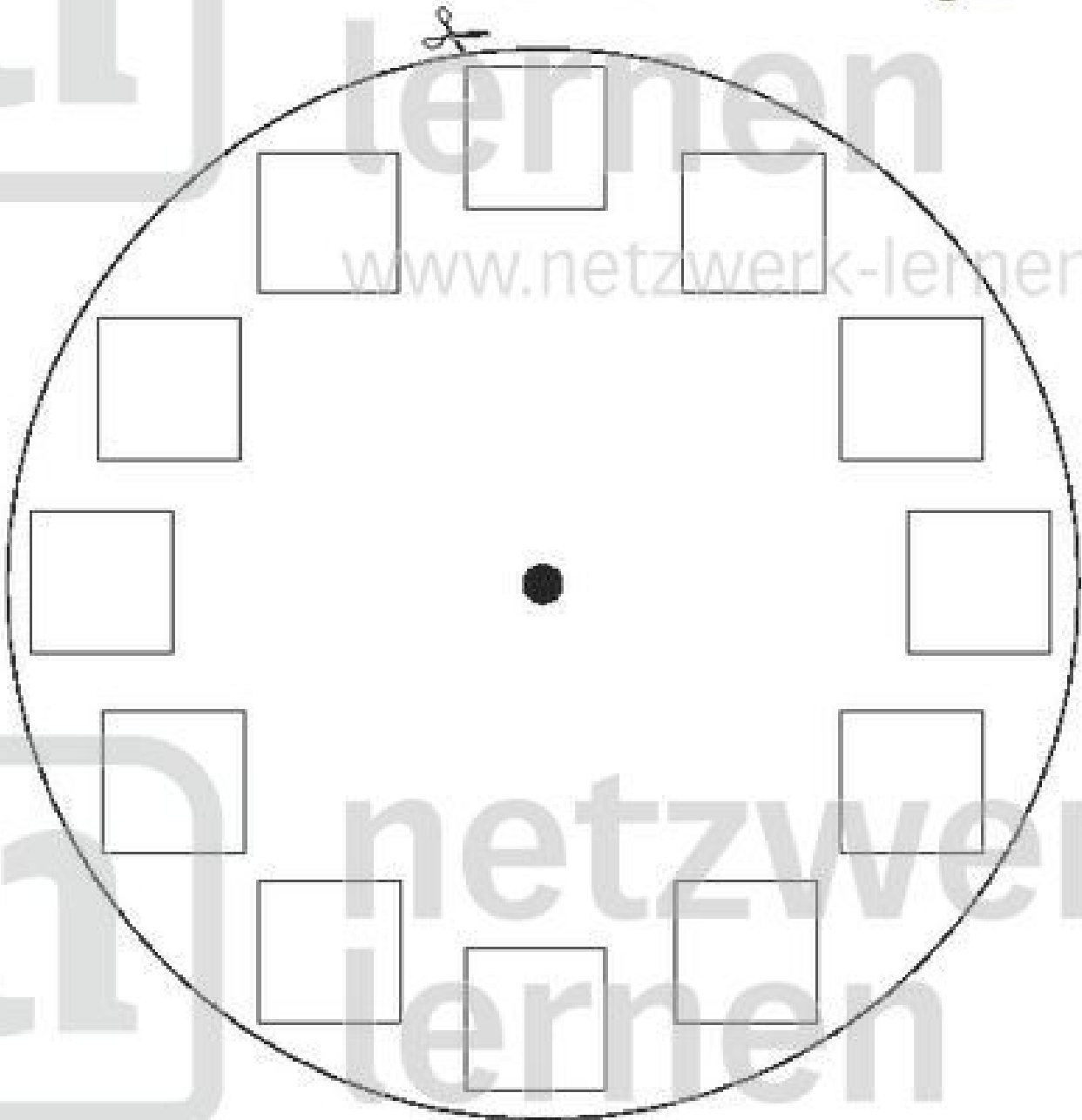
Mein Arbeitspass

Arbeitspass für: _____

		angefangen	beendet	kontrolliert
1	Deine Uhr			
2	Die Uhrzeiten			
3	Riesenzeitdomino			
4	Ein Tag hat 24 Stunden			
5	Fehlende Stunden			
6	Fehlende Minuten			
7	Mein Tagesablauf			
8	Zeitspannen schätzen und stoppen			
9	Zeitdauer und Zeitpunkt			
10	Öffnungszeiten			
11	Rechnen mit der Zeit			
12	Meine Zeitgeschichte			
13	Zeit im Alltag			
14	Lebensabschnitte			
15	Meine Kindheit			
16	Interview			
17	Frühling, Sommer, Herbst & Winter			
18	Die vier Jahreszeiten			
19	Das Vier-Jahreszeiten-Spiel			
20	Ein Jahr hat 12 Monate			
21	Jeder Tag hat ein Datum			
22	Knifflige Fragen rund um die Zeit			
23	Eine Woche hat 7 Tage			
24	Rätsel um den Kalender			
25	Fest- und Feiertage			
26	Die Sternzeichen			
27	Der Sternzeichen-Mix			
28	Planung			

1 Deine Uhr

- ✂ Schneide das Ziffernblatt aus und klebe es auf Pappe. 
- ✍ Bemale oder beklebe deine Uhr. 
- ✂ Schneide die Zeiger aus und klebe sie auf Pappe. 
- ✂ Bohre vorsichtig ein Loch durch die Zeiger und die Mitte des Ziffernblattes. 
- ✂ Befestige die Zeiger mit einer Prospektklammer in der Mitte.




2 Die Uhrzeiten

🕒 Stelle die Uhrzeiten an deiner Uhr ein.


🕒 Schreibe die Uhrzeiten neben die Uhren.



_____ Uhr
_____ Uhr




_____ Uhr
_____ Uhr




_____ Uhr
_____ Uhr



_____ Uhr
_____ Uhr



_____ Uhr
_____ Uhr




_____ Uhr
_____ Uhr



_____ Uhr
_____ Uhr



_____ Uhr
_____ Uhr



_____ Uhr
_____ Uhr



_____ Uhr
_____ Uhr



_____ Uhr
_____ Uhr



_____ Uhr
_____ Uhr



_____ Uhr
_____ Uhr



_____ Uhr
_____ Uhr

3

Riesenzeitdomino

✂ Schneide die Karten aus und spiele das Domino mit einem Partner.



4 Ein Tag hat 24 Stunden

Zeichne die Zeiger richtig in die Uhren ein.

a)	b)	c)	d)	e)	f)
9 Uhr morgens	12 Uhr mittags	1 Uhr nachts	10 Uhr morgens	7 Uhr morgens	11 Uhr morgens



g)	h)	i)	j)	k)	l)
2 Uhr nachts	5 Uhr nachts	8 Uhr morgens	4 Uhr nachts	3 Uhr nachts	6 Uhr morgens



m)	n)	o)	p)	q)	r)
14 Uhr	17 Uhr	19 Uhr	13 Uhr	23 Uhr	18 Uhr
2 Uhr mittags	5 Uhr nachmittags	7 Uhr abends	1 Uhr mittags	11 Uhr abends	6 Uhr nachmittags



s)	t)	u)	v)	w)	x)
21 Uhr	16 Uhr	24 Uhr	22 Uhr	15 Uhr	20 Uhr
9 Uhr abends	4 Uhr nachmittags	12 Uhr nachts	10 Uhr abends	3 Uhr mittags	8 Uhr abends





5

Fehlende Stunden



Wie viele Stunden fehlen zwischen den beiden Uhrzeiten?

von bis



a) _____ Stunden

von bis

b) _____ Stunden

von bis

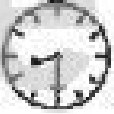

c) _____ Stunden

von bis




d) _____ Stunden

von bis

e) _____ Stunden

von bis




f) _____ Stunden

von bis




g) _____ Stunden

von bis




h) _____ Stunden

von bis




i) _____ Stunden

von bis

14:00 16:00

j) _____ Stunden

von bis

06:10 12:10

k) _____ Stunden

von bis

17:25 20:25

l) _____ Stunden

von bis

02:45 06:45

m) _____ Stunden

von bis

22:10 00:10

n) _____ Stunden

von bis

03:10 11:10

o) _____ Stunden

von bis

17:30 23:30

p) _____ Stunden

von bis

09:05 18:05

q) _____ Stunden

von bis



22:30 03:30

r) _____ Stunden

6 Fehlende Minuten



Wie viele Minuten fehlen zwischen den beiden Uhrzeiten?

von bis



a) _____ Minuten

von bis

b) _____ Minuten

von bis

c) _____ Minuten

von bis




d) _____ Minuten

von bis




e) _____ Minuten

von bis




f) _____ Minuten

von bis




g) _____ Minuten

von bis




h) _____ Minuten

von bis




i) _____ Minuten

von bis

12:00 12:30

j) _____ Minuten

von bis

12:45 17:10

k) _____ Minuten

von bis

08:15 08:55

l) _____ Minuten

von bis

20:05 20:20

m) _____ Minuten

von bis

13:40 14:05

n) _____ Minuten

von bis

10:10 11:10

o) _____ Minuten

von bis

05:20 05:35

p) _____ Minuten

von bis

09:15 10:00

q) _____ Minuten

von bis

14:30 15:05

r) _____ Minuten

7 Mein Tagesablauf

✂ Schneide die Felder aus.



✂ Klebe sie in der richtigen Reihenfolge auf ein Blatt.



✂ Zeichne die Zeigereinstellung in die Uhren, die für dich gelten.



<p>Hausaufgaben</p>	<p>Hobby</p>	<p>Schule</p>
	<p>Aufstehen</p>	<p>Abendessen</p>
<p>Mittagessen</p>	<p>Fernsehen</p>	
<p>Schlafen</p>	<p>Frühstück</p>	<p>Spielen/Freunde treffen</p>

8

Zeitspannen schätzen und stoppen

- ⌘ *Arbeite mit einem Partner zusammen.*
- ⌘ *Les die Aufgaben durch und schätzt die Zeiten. Schreibe sie auf.*
- ⌘ *Führt die Aufgaben aus und stoppt die Zeiten. Schreibe sie auf.*

Aufgabe	geschätzte Zeit	gestoppte Zeit
das Wort Hamster schreiben	_____ Sekunden	_____ Sekunden
das Mathebuch aus der Tasche holen und die Seite 29 aufschlagen	_____ Sekunden	_____ Sekunden
deinen Namen schreiben	_____ Sekunden	_____ Sekunden
dreimal um deinen Tisch gehen	_____ Sekunden	_____ Sekunden
zur Eingangstür der Schule und wieder zurückgehen	_____ Sekunden	_____ Sekunden
deine Schultasche aus- und einräumen	_____ Sekunden	_____ Sekunden
deinem Partner ein Gedicht vorlesen	_____ Sekunden	_____ Sekunden
das Wort Regen rückwärts schreiben	_____ Sekunden	_____ Sekunden
einmal an allen vier Wänden der Klasse entlanggehen	_____ Sekunden	_____ Sekunden
die Augen so lange offen halten, bis du zwinkerst	_____ Sekunden	_____ Sekunden
die 7er- und die 9er-Reihe des Einmaleins aus dem Kopf aufsagen	_____ Sekunden	_____ Sekunden
einen Ton singen, bis dir der Atem ausgeht	_____ Sekunden	_____ Sekunden

