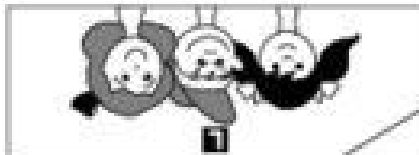


	A
20	B
14	C
6	D
10	E
0	F
16	G
2	H
18	I
8	J
12	K
4	L



$$\bigcirc = 9 \cdot 2$$

$$\bigcirc = 7 \cdot 2$$

$$\bigcirc = 1 \cdot 2$$

$$\bigcirc = 6 \cdot 2$$

$$\bigcirc = 4 \cdot 2$$

$$\bigcirc = 10 \cdot 2$$

$$\bigcirc = 2 \cdot 2$$

$$\bigcirc = 8 \cdot 2$$

$$\bigcirc = 0 \cdot 2$$

$$\bigcirc = 5 \cdot 2$$

$$\bigcirc = 3 \cdot 2$$

$$\bigcirc = 2 \cdot 2$$

$$\bigcirc = 9 \cdot 2$$

$$\bigcirc = 4 \cdot 2$$

$$\bigcirc = 6 \cdot 2$$

$$\bigcirc = 1 \cdot 2$$

$$\bigcirc = 8 \cdot 2$$


$$\bigcirc = 0 \cdot 2$$

$$\bigcirc = 5 \cdot 2$$

$$\bigcirc = 3 \cdot 2$$

$$\bigcirc = 7 \cdot 2$$

$$\bigcirc = 10 \cdot 2$$



A	6
B	10
C	0
D	16
E	4
F	20
G	8
H	12
I	2
J	14
K	18
L	

## B1 Einmaleins der 2

Wie heißt die Lösung?

Lösungen  
der  
Rückseite

Knicke das Blatt  
an den drei gestrichelten Linien  
nach hinten  
und stelle es so auf:



www.netzwerk-lernen.de

©DBGM angemeldet

	A
3	B
5	C
8	D
1	E
9	F
0	G
6	H
10	I
4	J
7	K
2	L

	$10 = 2 \cdot \text{pentagon}$	$14 = 2 \cdot \text{pentagon}$
$20 = 2 \cdot \text{pentagon}$	$2 = 2 \cdot \text{pentagon}$	$18 = 2 \cdot \text{pentagon}$
$12 = 2 \cdot \text{pentagon}$	$16 = 2 \cdot \text{pentagon}$	$6 = 2 \cdot \text{pentagon}$
$4 = 2 \cdot \text{pentagon}$	$8 = 2 \cdot \text{pentagon}$	$0 = 2 \cdot \text{pentagon}$

$2 \cdot \text{pentagon} = 4$	$2 \cdot \text{pentagon} = 14$	$2 \cdot \text{pentagon} = 8$
$2 \cdot \text{pentagon} = 20$	$2 \cdot \text{pentagon} = 12$	$2 \cdot \text{pentagon} = 0$
$2 \cdot \text{pentagon} = 18$	$2 \cdot \text{pentagon} = 2$	$2 \cdot \text{pentagon} = 16$
$2 \cdot \text{pentagon} = 10$	$2 \cdot \text{pentagon} = 6$	

A	0
B	4
C	2
D	3
E	8
F	6
G	9
H	1
I	10
J	7
K	5
L	

## C1 Einmaleins der 2

Wie heißt die Lösung?













Lösungen  
der  
Rückseite
























Knicke das Blatt  
an den drei gestrichelten Linien  
nach hinten  
und stelle es so auf:
















[www.netzwerk-lernen.de](http://www.netzwerk-lernen.de)

©DBGM angemeldet

	1
	10
	8
	3
	5
	0
	7
	1
	4
	9
	6
	2

 A	 $10 = 2 \cdot$ 	 $14 = 2 \cdot$ 
 $2 = 2 \cdot$ 	 $12 = 2 \cdot$ 	 $8 = 2 \cdot$ 
 $20 = 2 \cdot$ 	 $4 = 2 \cdot$ 	 $16 = 2 \cdot$ 
 $0 = 2 \cdot$ 	 $18 = 2 \cdot$ 	 $6 = 2 \cdot$ 

A $4 = 2 \cdot$ 	B $12 = 2 \cdot$ 	C $18 = 2 \cdot$ 
D $8 = 2 \cdot$ 	E $2 = 2 \cdot$ 	F $14 = 2 \cdot$ 
G $0 = 2 \cdot$ 	H $10 = 2 \cdot$ 	I $6 = 2 \cdot$ 
J $16 = 2 \cdot$ 	K $20 = 2 \cdot$ 	L 

A	3
B	9
C	0
D	8
E	2
F	10
G	4
H	6
I	1
J	7
K	5
L	

**D1 Einmaleins der 2**  
Wie heißt die Lösung?

Lösungen der Rückseite

Knicke das Blatt an den drei gestrichelten Linien nach hinten und stelle es so auf:



	A
15	B
3	C
21	D
0	E
9	F
30	G
6	H
18	I
27	J
12	K
24	L

	$\square = 2 \cdot 3$	$\square = 6 \cdot 3$
$\square = 9 \cdot 3$	$\square = 4 \cdot 3$	$\square = 10 \cdot 3$
$\square = 7 \cdot 3$	$\square = 0 \cdot 3$	$\square = 5 \cdot 3$
$\square = 8 \cdot 3$	$\square = 1 \cdot 3$	$\square = 3 \cdot 3$

$8 \cdot 3 = \square$	$4 \cdot 3 = \square$	$6 \cdot 3 = \square$
$6 \cdot 3 = \square$	$2 \cdot 3 = \square$	$10 \cdot 3 = \square$
$3 \cdot 3 = \square$	$0 \cdot 3 = \square$	$7 \cdot 3 = \square$
$1 \cdot 3 = \square$	$5 \cdot 3 = \square$	

A	9
B	3
C	24
D	15
E	0
F	21
G	30
H	12
I	27
J	18
K	6
L	

A1

### Einmaleins der 3

Wie heißt die Lösung?

Lösungen  
der  
Rückseite


Knicke das Blatt  
an den drei gestrichelten Linien  
nach hinten  
und stelle es so auf:




www.netzwerk-lernen.de

©DBGM angemeldet

	1
24	
12	
27	
18	
6	
30	
9	
0	
21	
3	
15	

 A	$\bigcirc = 3 \cdot 3$ B	$\bigcirc = 1 \cdot 3$ C
$\bigcirc = 8 \cdot 3$ D	$\bigcirc = 5 \cdot 3$ E	$\bigcirc = 0 \cdot 3$ F
$\bigcirc = 7 \cdot 3$ G	$\bigcirc = 10 \cdot 3$ H	$\bigcirc = 4 \cdot 3$ I
$\bigcirc = 9 \cdot 3$ J	$\bigcirc = 6 \cdot 3$ K	$\bigcirc = 2 \cdot 3$ L

A $\bigcirc = 5 \cdot 3$	B $\bigcirc = 1 \cdot 3$	C $\bigcirc = 7 \cdot 3$
D $\bigcirc = 0 \cdot 3$	E $\bigcirc = 3 \cdot 3$	F $\bigcirc = 10 \cdot 3$
G $\bigcirc = 2 \cdot 3$	H $\bigcirc = 6 \cdot 3$	I $\bigcirc = 9 \cdot 3$
J $\bigcirc = 4 \cdot 3$	K $\bigcirc = 8 \cdot 3$	L 

A	6
B	18
C	27
D	12
E	30
F	21
G	0
H	15
I	24
J	3
K	9
L	

## B1 Einmaleins der 3

Wie heißt die Lösung?

Lösungen  
der  
Rückseite


Knicke das Blatt  
an den drei gestrichelten Linien  
nach hinten  
und stelle es so auf:




[www.netzwerk-lernen.de](http://www.netzwerk-lernen.de)

©DBGM angemeldet

	A
5	B
1	C
7	D
0	E
3	F
10	G
2	H
6	I
9	J
4	K
8	L

 $3 \cdot \text{pentagon} = 6$ K	$3 \cdot \text{pentagon} = 6$ K	$3 \cdot \text{pentagon} = 18$ F
$3 \cdot \text{pentagon} = 27$ I	$3 \cdot \text{pentagon} = 12$ B	$3 \cdot \text{pentagon} = 30$ G
$3 \cdot \text{pentagon} = 21$ J	$3 \cdot \text{pentagon} = 0$ E	$3 \cdot \text{pentagon} = 15$ D
$3 \cdot \text{pentagon} = 24$ L	$3 \cdot \text{pentagon} = 3$ H	$3 \cdot \text{pentagon} = 9$ A

$3 \cdot \text{pentagon} = 24$ L	$3 \cdot \text{pentagon} = 12$ B	$3 \cdot \text{pentagon} = 27$ I
$3 \cdot \text{pentagon} = 18$ G	$3 \cdot \text{pentagon} = 6$ K	$3 \cdot \text{pentagon} = 30$ F
$3 \cdot \text{pentagon} = 9$ A	$3 \cdot \text{pentagon} = 0$ E	$3 \cdot \text{pentagon} = 21$ J
$3 \cdot \text{pentagon} = 3$ H	$3 \cdot \text{pentagon} = 15$ D	 C

A	3
B	1
C	8
D	5
E	0
F	7
G	10
H	4
I	9
J	6
K	2
L	

## C1 Einmaleins der 3

Wie heißt die Lösung?

Lösungen  
der  
Rückseite

Knicke das Blatt  
an den drei gestrichelten Linien  
nach hinten  
und stelle es so auf:



www.netzwerk-lernen.de

©DBGM angemeldet

	A
8	B
4	C
9	D
6	E
2	F
10	G
3	H
0	I
7	J
1	K
5	L

	$0 = 3 \cdot \square$	$3 = 3 \cdot \square$
$24 = 3 \cdot \square$	$15 = 3 \cdot \square$	$9 = 3 \cdot \square$
$21 = 3 \cdot \square$	$30 = 3 \cdot \square$	$12 = 3 \cdot \square$
$27 = 3 \cdot \square$	$18 = 3 \cdot \square$	$6 = 3 \cdot \square$


$15 = 3 \cdot \square$	$3 = 3 \cdot \square$	$21 = 3 \cdot \square$
$0 = 3 \cdot \square$	$9 = 3 \cdot \square$	$30 = 3 \cdot \square$
$6 = 3 \cdot \square$	$18 = 3 \cdot \square$	$27 = 3 \cdot \square$
$12 = 3 \cdot \square$	$24 = 3 \cdot \square$	

A	2
B	6
C	9
D	4
E	10
F	7
G	3
H	5
I	8
J	1
K	0
L	

**D1 Einmaleins der 3**  
Wie heißt die Lösung?

Lösungen der Rückseite

Knicke das Blatt an den drei gestrichelten Linien nach hinten und stelle es so auf:



	A
12	B
20	C
28	D
36	E
4	F
0	G
24	H
40	I
16	J
32	K
8	L

	$\square = 5 \cdot 4$	$\square = 7 \cdot 4$
$\square = 10 \cdot 4$	$\square = 1 \cdot 4$	$\square = 9 \cdot 4$
$\square = 6 \cdot 4$	$\square = 8 \cdot 4$	$\square = 3 \cdot 4$
$\square = 2 \cdot 4$	$\square = 4 \cdot 4$	$\square = 0 \cdot 4$

$2 \cdot 4 = \square$	$8 \cdot 4 = \square$	$4 \cdot 4 = \square$
$10 \cdot 4 = \square$	$6 \cdot 4 = \square$	$0 \cdot 4 = \square$
$1 \cdot 4 = \square$	$9 \cdot 4 = \square$	$7 \cdot 4 = \square$
$5 \cdot 4 = \square$	$3 \cdot 4 = \square$	

A	0
B	16
C	8
D	12
E	32
F	24
G	36
H	4
I	40
J	28
K	20
L	

A1

### Einmaleins der 4

Wie heißt die Lösung?

Lösungen  
der  
Rückseite

Knicke das Blatt  
an den drei gestrichelten Linien  
nach hinten  
und stelle es so auf:



www.netzwerk-lernen.de

©DBGM angemeldet



	<input type="checkbox"/>
28	<input type="checkbox"/>
40	<input type="checkbox"/>
12	<input type="checkbox"/>
20	<input type="checkbox"/>
0	<input type="checkbox"/>
32	<input type="checkbox"/>
4	<input type="checkbox"/>
36	<input type="checkbox"/>
16	<input type="checkbox"/>
24	<input type="checkbox"/>
8	<input type="checkbox"/>

	$\bigcirc = 9 \cdot 4$	$\bigcirc = 7 \cdot 4$
$\bigcirc = 1 \cdot 4$	$\bigcirc = 6 \cdot 4$	$\bigcirc = 4 \cdot 4$
$\bigcirc = 10 \cdot 4$	$\bigcirc = 2 \cdot 4$	$\bigcirc = 8 \cdot 4$
$\bigcirc = 0 \cdot 4$	$\bigcirc = 5 \cdot 4$	$\bigcirc = 3 \cdot 4$


$\bigcirc = 2 \cdot 4$	$\bigcirc = 9 \cdot 4$	$\bigcirc = 4 \cdot 4$
$\bigcirc = 6 \cdot 4$	$\bigcirc = 1 \cdot 4$	$\bigcirc = 8 \cdot 4$
$\bigcirc = 0 \cdot 4$	$\bigcirc = 5 \cdot 4$	$\bigcirc = 3 \cdot 4$
$\bigcirc = 10 \cdot 4$	$\bigcirc = 7 \cdot 4$	

<input type="checkbox"/>	12
<input type="checkbox"/>	20
<input type="checkbox"/>	0
<input type="checkbox"/>	32
<input type="checkbox"/>	8
<input type="checkbox"/>	40
<input type="checkbox"/>	16
<input type="checkbox"/>	24
<input type="checkbox"/>	4
<input type="checkbox"/>	28
<input type="checkbox"/>	36
<input type="checkbox"/>	

**B1 Einmaleins der 4**  
Wie heißt die Lösung?

Lösungen  
der  
Rückseite

Knicke das Blatt  
an den drei gestrichelten Linien  
nach hinten  
und stelle es so auf:



www.netzwerk-lernen.de

©DBGM angemeldet

	A
3	B
5	C
7	D
9	E
1	F
0	G
6	H
10	I
4	J
8	K
2	L

	$4 \cdot \text{pentagon} = 20$	$4 \cdot \text{pentagon} = 28$
$4 \cdot \text{pentagon} = 40$	$4 \cdot \text{pentagon} = 4$	$4 \cdot \text{pentagon} = 36$
$4 \cdot \text{pentagon} = 24$	$4 \cdot \text{pentagon} = 32$	$4 \cdot \text{pentagon} = 12$
$4 \cdot \text{pentagon} = 8$	$4 \cdot \text{pentagon} = 16$	$4 \cdot \text{pentagon} = 0$

$4 \cdot \text{pentagon} = 8$	$4 \cdot \text{pentagon} = 32$	$4 \cdot \text{pentagon} = 16$
$4 \cdot \text{pentagon} = 40$	$4 \cdot \text{pentagon} = 24$	$4 \cdot \text{pentagon} = 0$
$4 \cdot \text{pentagon} = 4$	$4 \cdot \text{pentagon} = 36$	$4 \cdot \text{pentagon} = 28$
$4 \cdot \text{pentagon} = 20$	$4 \cdot \text{pentagon} = 12$	

A	0
B	4
C	2
D	3
E	8
F	6
G	9
H	1
I	10
J	7
K	5
L	

## C1 Einmaleins der 4

Wie heißt die Lösung?

Lösungen  
der  
Rückseite

Knicke das Blatt  
an den drei gestrichelten Linien  
nach hinten  
und stelle es so auf:



www.netzwerk-lernen.de

©DBGM angemeldet