

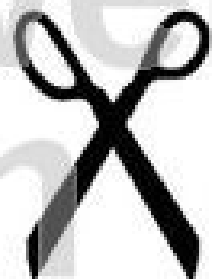
# Rechenplan 3

$$\square + \square = 7$$

$$\square - \square = 3$$

$$\square + \square = 9$$

Schneide diese Zahlen sorgfältig aus und lege sie so auf den Rechenplan, dass alle Rechnungen aufgehen! Klebe dann die Zahlen auf die Felder und male sie fertig aus!



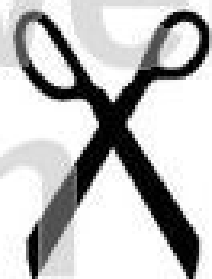
# Rechenplan 4

$$\square - \square = \underline{4}$$

$$\square + \square = \underline{9}$$

$$\square - \square = \underline{2}$$

Schneide diese Zahlen sorgfältig aus und lege sie so auf den Rechenplan, dass alle Rechnungen aufgehen! Klebe dann die Zahlen auf die Felder und male sie fertig aus!





Name: \_\_\_\_\_

Klasse: \_\_\_\_\_

Datum: \_\_\_\_\_

# Rechenplan 5

$$\square + \square + \square = \underline{6}$$

$$\square + \square + \square = \underline{7}$$

$$\square + \square + \square = \underline{8}$$

Schneide diese Zahlen sorgfältig aus und lege sie so auf den Rechenplan, dass alle Rechnungen aufgehen!  
Klebe dann die Zahlen auf die Felder und male sie fertig aus!



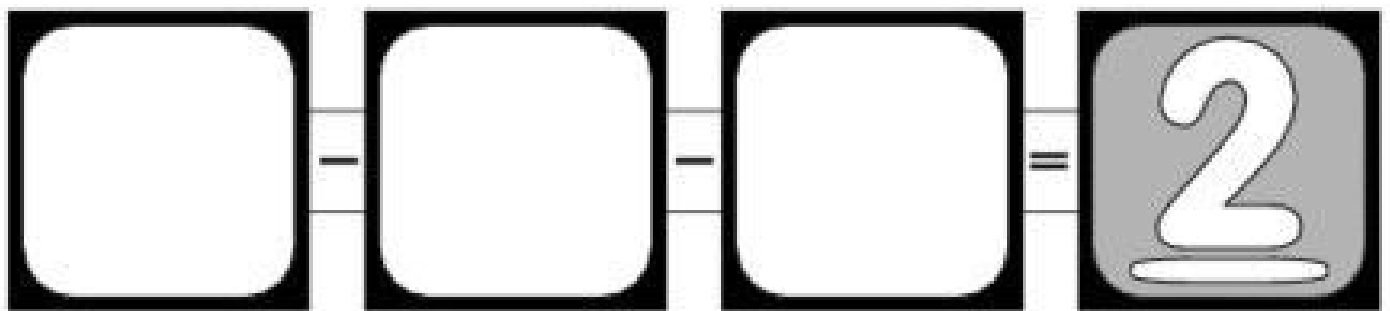


Name:

Klasse:

Datum:

# Rechenplan 6



Schneide diese Zahlen sorgfältig aus und lege sie so auf den Rechenplan, dass alle Rechnungen aufgehen!  
Klebe dann die Zahlen auf die Felder und male sie fertig aus!





Name:

Klasse:

Datum:

# Rechenplan 7

$$\square + \square = \underline{3}$$

$$\square + \square = \underline{4}$$

$$\square + \square = \underline{5}$$

Schneide diese Zahlen sorgfältig aus und lege sie so auf den Rechenplan, dass alle Rechnungen aufgehen!  
Klebe dann die Zahlen auf die Felder und male sie fertig aus!





Name:

Klasse:

Datum:

# Rechenplan 8

$$\square - \square + \square = \underline{4}$$

$$\square - \square + \square = \underline{5}$$

$$\square - \square + \square = \underline{6}$$

Schneide diese Zahlen sorgfältig aus und lege sie so auf den Rechenplan, dass alle Rechnungen aufgehen!  
Klebe dann die Zahlen auf die Felder und male sie fertig aus!



netzwerk  
lernen

zur Vollversion

# Rechenplan 9

	+		=	
+	+	+		
	+		=	
=		=		=
	+		=	

Schneide diese Zahlen sorgfältig aus und lege sie so auf den Rechenplan, dass alle Rechnungen aufgehen!  
 Klebe dann die Zahlen auf die Felder und male sie fertig aus!

1	1	2	2	
3	4	5	6	8

Name: \_\_\_\_\_

Klasse: \_\_\_\_\_

Datum: \_\_\_\_\_

# Rechenplan 10

	+		=	
+		+		+
	+		=	
=		=		=
	+		=	

Schneide diese Zahlen sorgfältig aus und lege sie so auf den Rechenplan, dass alle Rechnungen aufgehen!  
Klebe dann die Zahlen auf die Felder und male sie fertig aus!

