

Name: _____

Lernbingo

Genaueres Sehen 2.1 (Lösung)

Trage die Lösungszahlen 1 bis 24 kreuz und quer in den Bingo-Plan ein!

1	2	3	4	5	6	7	8	9	10	11	12
13	14	15	16	17	18	19	20	21	22	23	24





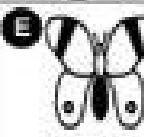



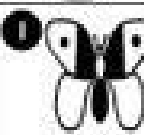


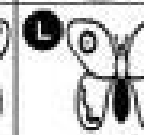
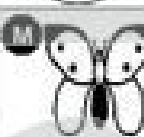

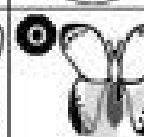









		☹️		

Hier das Blatt nach hinten knicken!



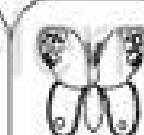





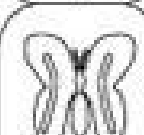

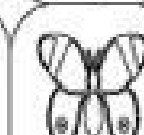









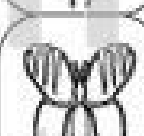

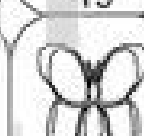

Suche den gleichen Schmetterling in Weiß!

Suche zu jeder Aufgabe die passende Lösung, schreibe die Lösungszahl in das Feld unter der Aufgabe und kreuze dann oben im Bingo-Plan die Lösungszahl an. Wenn du eine komplette Bingo-Reihe fertig hast, kannst du mit der Arbeit aufhören.

Aufgaben

 3	 21	 18	 8
 11	 24	 16	 9
 15	 10	 1	 20
 5	 19	 7	 17
 22	 6	 12	 14
 2	 23	 4	 13

Lösungen

 1	 2	 3	 4
 5	 6	 7	 8
 9	 10	 11	 12
 13	 14	 15	 16
 17	 18	 19	 20
 21	 22	 23	 24


Name: _____

Lernbingo

Genaueres Sehen 2.2

Trage die Lösungszahlen 1 bis 24 kreuz und quer in den Bingo-Plan ein!

1	2	3	4	5	6	7	8	9	10	11	12
13	14	15	16	17	18	19	20	21	22	23	24



Hier das Blatt nach hinten knicken!

Wo findest du das gleiche Quadratmuster?

Suche zu jeder Aufgabe die passende Lösung, schreibe die Lösungszahl in das Feld unter der Aufgabe und kreuze dann oben im Bingo-Plan die Lösungszahl an. Wenn du eine komplette Bingo-Reihe fertig hast, kannst du mit der Arbeit aufhören.

Aufgaben

A <input type="checkbox"/>	B <input type="checkbox"/>	C <input type="checkbox"/>	D <input type="checkbox"/>
E <input type="checkbox"/>	F <input type="checkbox"/>	G <input type="checkbox"/>	H <input type="checkbox"/>
I <input type="checkbox"/>	J <input type="checkbox"/>	K <input type="checkbox"/>	L <input type="checkbox"/>
M <input type="checkbox"/>	N <input type="checkbox"/>	O <input type="checkbox"/>	P <input type="checkbox"/>
Q <input type="checkbox"/>	R <input type="checkbox"/>	S <input type="checkbox"/>	T <input type="checkbox"/>
U <input type="checkbox"/>	V <input type="checkbox"/>	W <input type="checkbox"/>	X <input type="checkbox"/>

Lösungen

 1	 2	 3	 4
 5	 6	 7	 8
 9	 10	 11	 12
 13	 14	 15	 16
 17	 18	 19	 20
 21	 22	 23	 24