



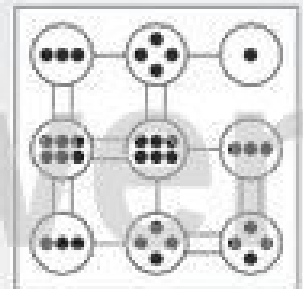
Name: _____

Klasse: _____

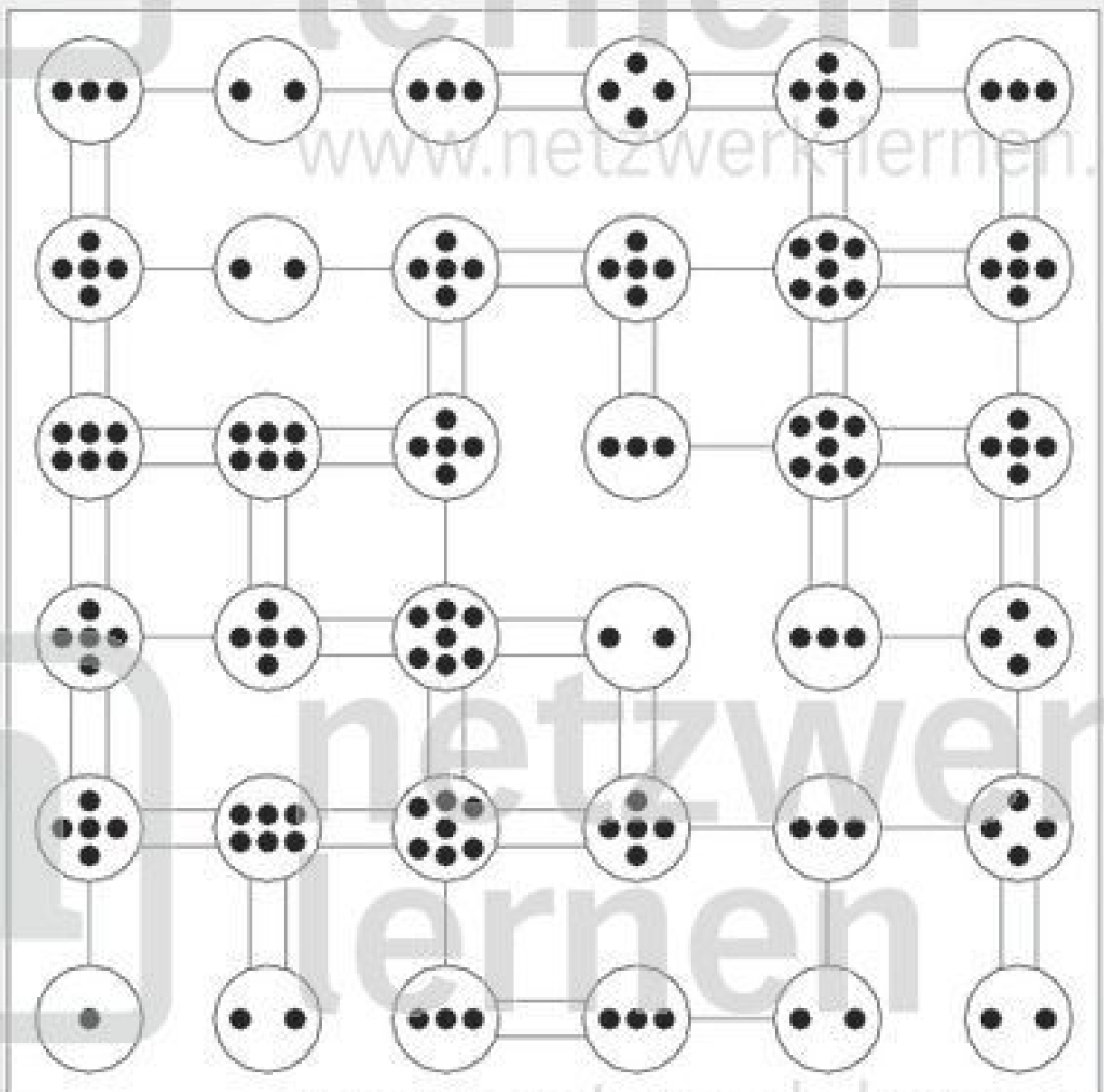
Datum: _____

Kinder-Hashi 2 (Lösungsbeispiel)

Bei einem Hashi musst du zwischen die Punktefelder einfache oder doppelte Linien zeichnen, so dass auf jedes Feld genau so viele Linien zulaufen, wie die Punktzahl im Feld angibt. Die Linien verlaufen nicht diagonal und kreuzen sich nicht. Rechts siehst du ein einfaches Hashi-Beispiel. Versuche jetzt, das Hashi-Rätsel auf dieser Seite zu knacken!



Beispiel





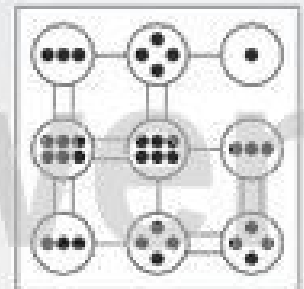
Name:

Klasse:

Datum:

Kinder-Hashi

Bei einem Hashi musst du zwischen die Punktefelder einfache oder doppelte Linien zeichnen, so dass auf jedes Feld genau so viele Linien zulaufen, wie die Punktzahl im Feld angibt. Die Linien verlaufen nicht diagonal und kreuzen sich nicht. Rechts siehst du ein einfaches Hashi-Beispiel. Versuche jetzt, das Hashi-Rätsel auf dieser Seite zu knacken!



Beispiel

