



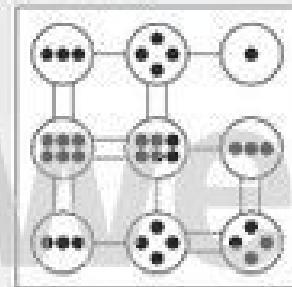
Name: _____

Klasse: _____

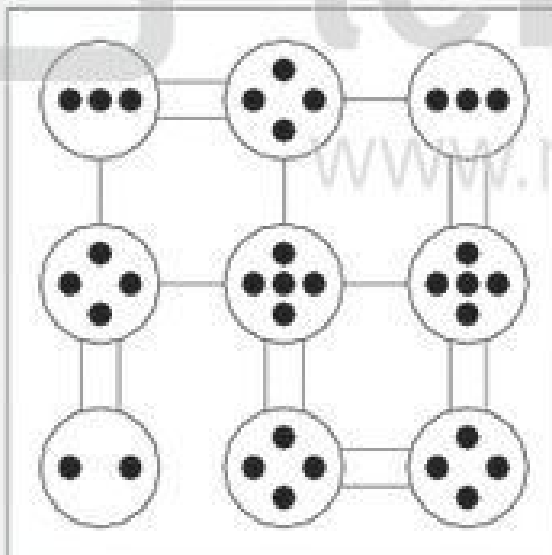
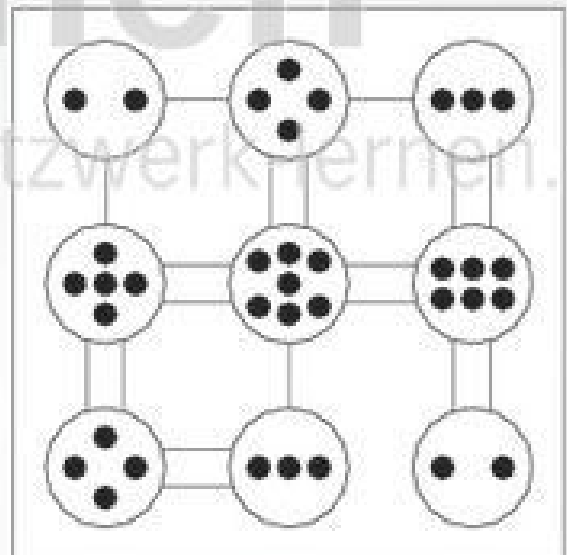
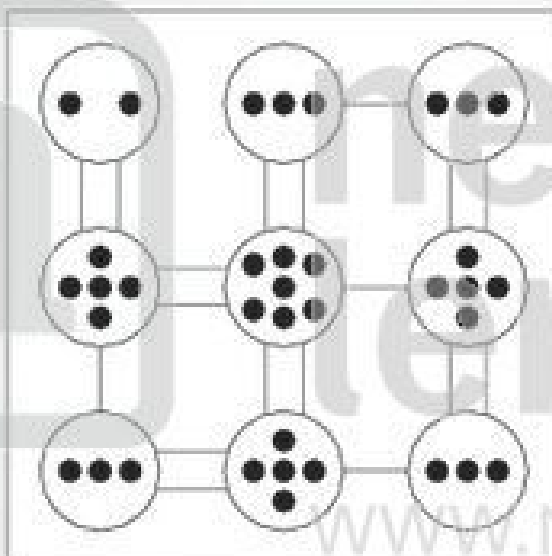
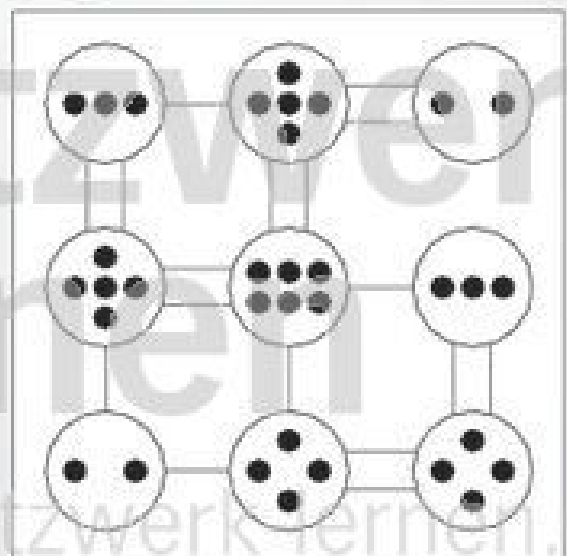
Datum: _____

Kinder-Hashi 2 (Lösungsbeispiele)

Bei einem Hashi musst du zwischen die Punktefelder einfache oder doppelte Linien zeichnen, so dass auf jedes Feld genau so viele Linien zulaufen, wie die Punkte im Feld angeben. Die Linien verlaufen nicht diagonal und kreuzen sich nicht. Rechts siehst du ein einfaches Hashi-Beispiel. Versuche jetzt, die Hashi-Rätsel auf dieser Seite zu knacken!



Beispiel

1**2****3****4**



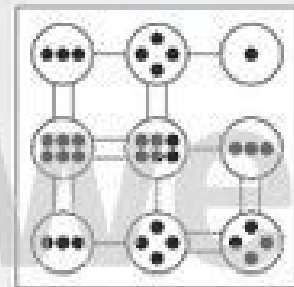
Name: _____

Klasse: _____


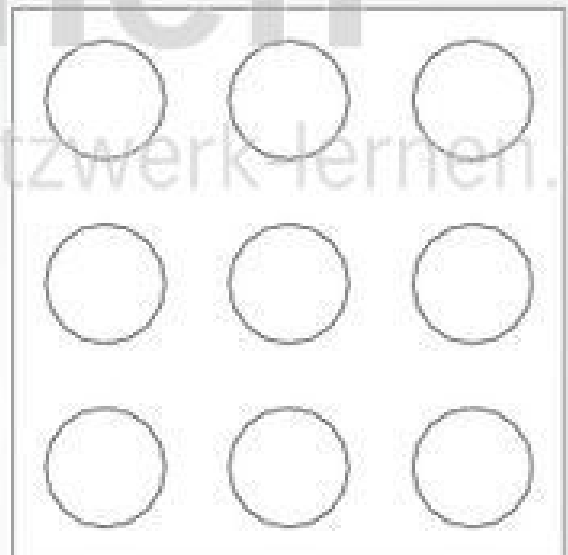
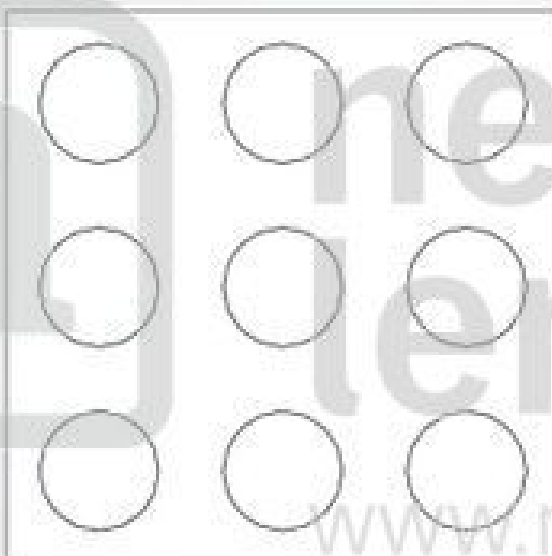
Datum: _____

Kinder-Hashi 2

Bei einem Hashi musst du zwischen die Punktefelder einfache oder doppelte Linien zeichnen, so dass auf jedes Feld genau so viele Linien zulaufen, wie die Punkte im Feld angeben. Die Linien verlaufen nicht diagonal und kreuzen sich nicht. Rechts siehst du ein einfaches Hashi-Beispiel. Versuche jetzt, die Hashi-Rätsel auf dieser Seite zu knacken!



Beispiel

1**2****3****4**