





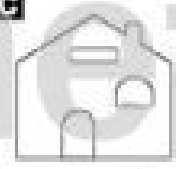




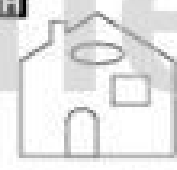




Name: \_\_\_\_\_













Klasse: \_\_\_\_\_

Datum: \_\_\_\_\_

## Wo ist das gleiche Haus? 1

Suche zu jeder Aufgabe von **A** bis **L** die passende Lösung.  
Schreibe die zugehörige Lösungszahl in das Feld unter der Aufgabe.  
Zeichne dann im Kontrollfeld eine gerade Linie von dem Aufgaben-  
Buchstaben zur Lösungszahl.

Aufgaben			
<b>A</b>  9	<b>B</b> 	<b>C</b> 	<b>D</b> 
<b>E</b> 	<b>F</b> 	<b>G</b> 	<b>H</b> 
<b>I</b> 	<b>J</b> 	<b>K</b> 	<b>L</b> 

Lösungen			
1 	2 	3 	4 
5 	6 	7 	8 
9 	10 	11 	12 

Kontrollfeld	
<b>A</b>	1
<b>B</b>	9
<b>C</b>	4
<b>D</b>	12
<b>E</b>	10
<b>F</b>	2
<b>G</b>	7
<b>H</b>	5
<b>I</b>	3
<b>J</b>	6
<b>K</b>	8
<b>L</b>	11