

Arbeitsaufgaben:



Abb. 1

1. Färbe in den Abbildungen 1a bis 1c den Fruchtknoten rot!
2. Ergänze!

Abbildung 1a zeigt einen .....ständigen

Abbildung 1b einen .....ständigen

Abbildung 1c einen .....ständigen Fruchtknoten.

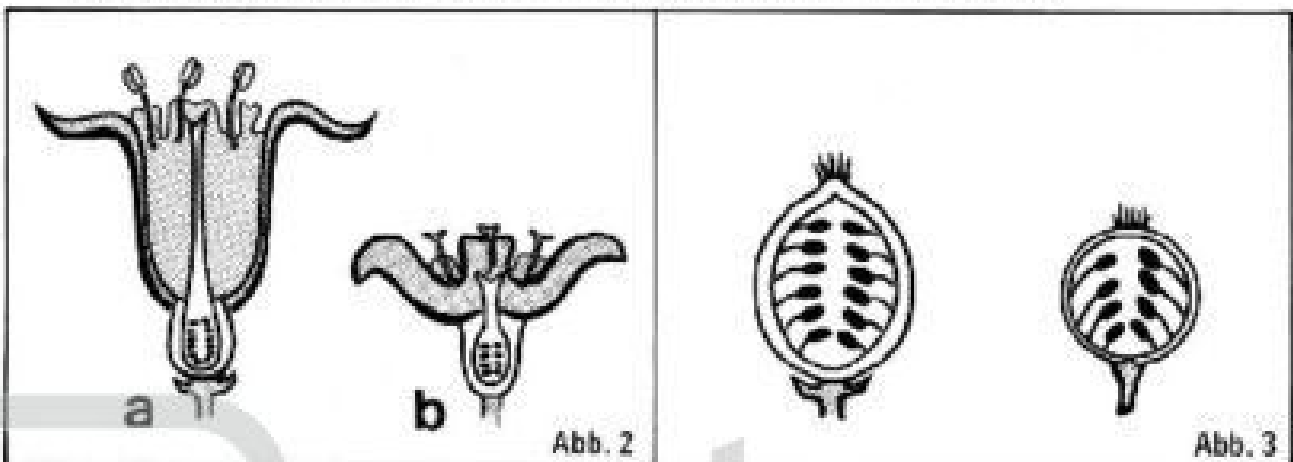


Abb. 2

Abb. 3

3. Färbe in Abbildung 2 den Blütenboden grün, den Fruchtknoten rot!
4. Färbe in Abbildung 3 die Fruchtschale grün, das Fruchtfleisch rot!
5. Abbildung 2 zeigt zwei verschiedene Blüten, Abbildung 3 zwei verschiedene Früchte. Bezeichne die Früchte in Abbildung 3 mit den gleichen Kleinbuchstaben wie die zugehörigen Blüten in Abbildung 2!
6. Zu welchen Pflanzen gehören die Blüten und Früchte in den Abbildungen 2 und 3!
  - a) .....
  - b) .....










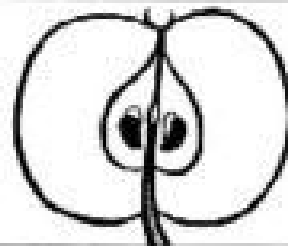
|   | BLÜTEN-<br>BODEN                  | BLÜTE   | FRUCHT   | ART               |
|---|-----------------------------------|---|--|-------------------|
| a | krug-<br>förmig                   |    |    |                   |
| b | kegel-<br>förmig                  |    |    | Sammel-<br>frucht |
| c | polster-<br>förmig                |    |    |                   |
| d | becher-<br>förmig<br>hohl         |   |   | Stein-<br>frucht  |
| e | schüssel-<br>förmig<br>ausgefüllt |  |  | Schein-<br>frucht |

Abb. 4

7. Färbe in Abbildung 3 den Fruchtknoten rot, den Kelch grün! Färbe die entsprechenden Teile der Frucht ebenso!

8. Weißt du, wie die in Abbildung 3 dargestellten Pflanzen heißen?

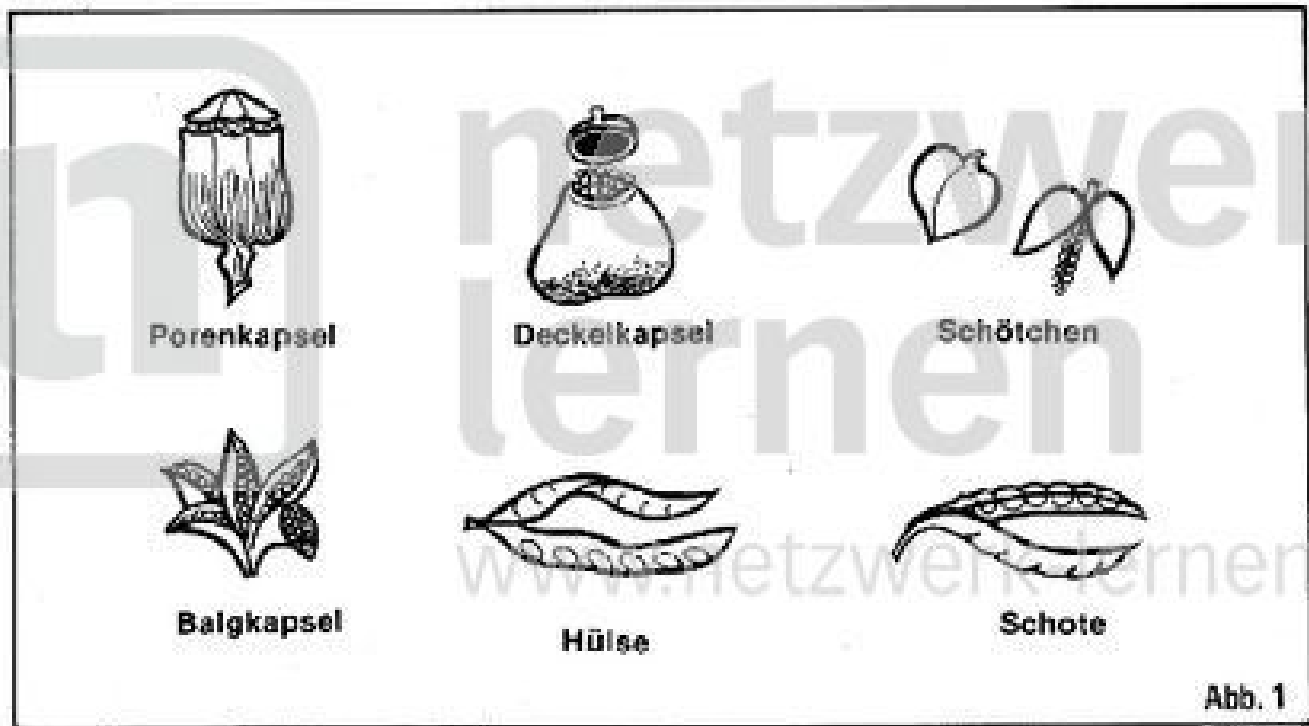
- a) .....
- b) ..... c) .....
- d) ..... e) .....

9. Zu welcher Familie gehören diese Pflanzen? .....

.....  
www.netzwerk-lernen.de

Bewertung: ..... Begründung: .....

Arbeitsaufgaben:




1. Welche Fruchtform zeigt die Abbildung 1?

.....

2. Was weißt du über solche Früchte?

.....



3. Welche Fruchtformen sind in Abbildung 2 wiedergegeben?

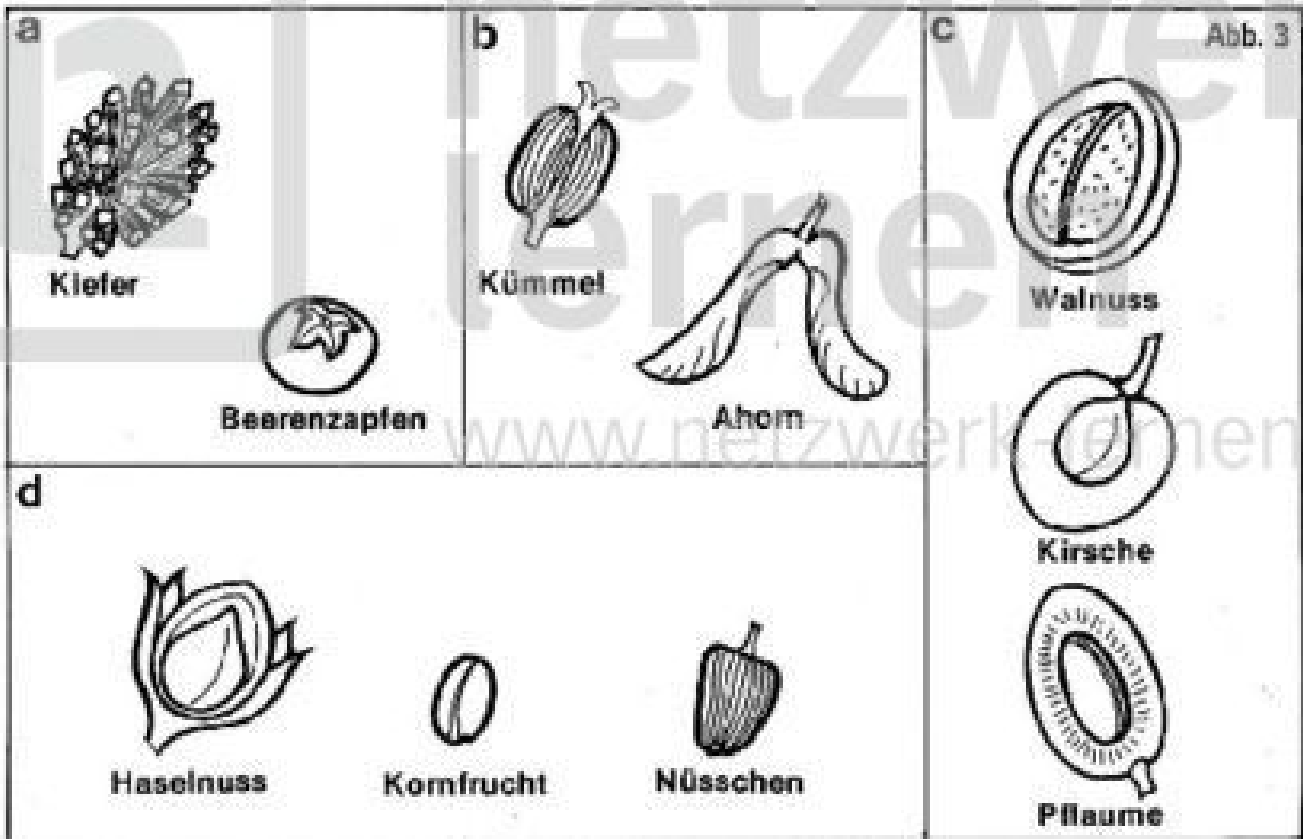
a) .....

b) .....

c) .....

4. Was weißt du über die unter 2 abgebildeten Früchte?

- a) .....
- b) .....
- c) .....



5. Welche Fruchtformen sind in Abbildung 3 wiedergegeben?

- a) .....
- b) .....
- c) .....
- d) .....

6. Was weißt du über derartige Früchte?

- a) .....
- b) .....
- c) .....
- d) .....

Bewertung: ..... Begründung: .....