

# Inhalt

	<u>Seite</u>
Vorwort	4
Wissenskarte: Straßenschilder	5
Aufgabenkarte: Straßenschilder	6-8
Wissenskarte: Zebrastreifen	9
Aufgabenkarte: Zebrastreifen	10-15
Wissenskarte: Rechts, links oder geradeaus	16
Aufgabenkarte: Rechts, links oder geradeaus	17-19
Wissenskarte: Vorsicht! Sicher im Verkehr	20
Aufgabenkarte: Vorsicht! Sicher im Verkehr	21-24
Wissenskarte: Wer darf zuerst fahren?	25-26
Aufgabenkarte: Wer darf zuerst fahren?	27-30
So ist dein Fahrrad verkehrssicher	31-32

# Vorwort

Liebe Kolleginnen und Kollegen,

das Feld „Inklusion“ rückt immer mehr in den Bereich der Regelschulen und das Material ist rar. Das hat mich ermutigt, mein über Jahre gesammeltes Material neu zu sortieren und zu veröffentlichen.

DAS Kind mit einer Lernbehinderung gibt es nicht; der Grad der Lerneinschränkung ist so unterschiedlich, wie die Kinder selbst.

Nur, welche Anforderungen müssen die Kinder an einer Regelschule leisten? Wie hoch darf ich meinen Anspruch „schrauben“? Wie weit muss ich in meinen Erwartungen runter gehen? Diese Fragen stellt man sich meist, wenn man ein Kind mit einer Lerneinschränkung nun in einem Klassenverband der Regelschule sitzen hat.

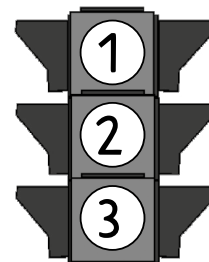
Die Antwort ist eigentlich recht einfach: Die zu bietenden Leistungen des Kindes sind der Anspruch der Lehrer•in. Viel zentraler ist, dass die Kinder dabei sind, dass das Thema das Gleiche ist.

Da Sie die Kinder mit einer Lerneinschränkung am besten beurteilen können, haben wir jedes Thema in drei Niveaustufen aufbereitet. Die Ampel signalisiert die Niveaustufen von 1 (ganz grundlegendes Niveau) bis 3 (inhaltlich selbst erfassendes Niveau).

Und nun wünschen wir Ihnen viel Erfolg beim Einsatz unserer Kopiervorlagen- und Ideensammlung.

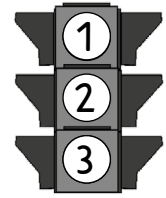
Der Kohl-Verlag und

**Anni Kolvenbach**




Name: \_\_\_\_\_

Klasse: \_\_\_\_\_




## Wissenskarte: Straßenschilder

Aufgabe: Schau dir die Verkehrszeichen an und lies laut vor.



- rundes Schild
  - roter Rand
- bedeutet, dass etwas **VERBOTEN** ist



- rundes Schild
  - innen blau
- bedeutet, dass ein Verhalten **ERLAUBT** ist



- dreieckiges Schild
  - außen rot
- bedeutet, dass eine **GEFAHR** besteht

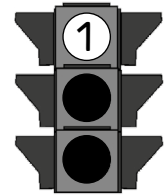


- Schild mit vier Ecken (viereckig)
  - innen blau
- ist ein **HINWEIS**



Name: \_\_\_\_\_

Klasse: \_\_\_\_\_



# Aufgabenkarte: Straßenschilder

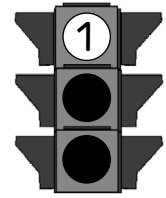
**Aufgabe:** Male die Verkehrszeichen in den richtigen Farben und an der richtigen Stelle aus.

VERBOTEN	ERLAUBT	GEFAHR	HINWEIS

ACHTUNG IM STRASSENVERKEHR  
... aus der Reihe: Inklusion KONKRET - Bestell-Nr. P13 181  
LAG


Name: \_\_\_\_\_

Klasse: \_\_\_\_\_



## Aufgabenkarte: Zebrastreifen

Aufgabe: Schau dir die Bilder an und kreuze die richtige Antwort an.



Mit dem Fahrrad darf man über den Zebrastreifen fahren.

- Ja  
 Nein

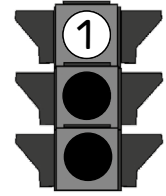


Jeder verhält sich richtig. Man darf ohne zu gucken über den Zebrastreifen gehen.

- Ja  
 Nein

Name: \_\_\_\_\_

Klasse: \_\_\_\_\_



## Aufgabenkarte: Zebrastreifen

Aufgabe: Schau dir die Bilder an und kreuze die richtige Antwort an.



Der Busfahrer hätte einfach weiterfahren dürfen. Busse dürfen das immer.

- Ja  
 Nein

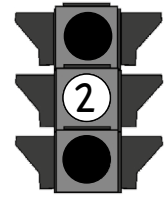


Das Auto hinter dem Bus könnte einfach den Bus überholen. Er sieht nicht, dass da der Junge geht.

- Ja  
 Nein

Name: \_\_\_\_\_

Klasse: \_\_\_\_\_



## Aufgabenkarte: Zebrastreifen

**Aufgabe:** Lies dir die Texte durch, schneide aus, ordne zu und klebe auf.



Den  darf man auch mit dem  überqueren. Man muss das Fahrrad aber schieben. Wenn man fährt, dann kann es passieren, dass man in andere Fußgänger hineinfährt.



Im  kann immer etwas passieren, womit man nicht rechnet. Hier ist der Dame der  abgehauen. Sie rennt einfach hinterher, ohne auf den Verkehr zu achten. Der Junge auf dem  hat nicht am Zebrastreifen gehalten.

Straßenverkehr

Fahrrad

Hund

Zebrastreifen



Fahrrad

Verkehrsteilnehmer

Bus

Fehlern

Auto

netzwerk  
lernen

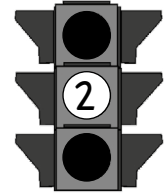
Busfahrer

Kranke

zur Vollversion

Name: \_\_\_\_\_

Klasse: \_\_\_\_\_



## Aufgabenkarte: Rechts, links oder geradeaus

Aufgabe: Schau dir die Verkehrssituation gut an. Welches Schild steht jeweils dort? Verbinde.

