

# Inhaltsverzeichnis

<b>Vorwort</b> .....	<b>4</b>
<b>1 Zahlen kennenlernen</b> .....	<b>5 - 7</b>
– Übung zur Aufmerksamkeit und Konzentration	
<b>2 Zählen</b> .....	<b>8 - 11</b>
– Übung zur Aufmerksamkeit und Konzentration	
<b>3 Zahlen darstellen</b> .....	<b>12 - 14</b>
<b>4 Vorwärts zählen, rückwärts zählen</b> .....	<b>15 - 17</b>
– Übung zur Aufmerksamkeit und Konzentration	
<b>5 Nachbarzahlen</b> .....	<b>18 - 20</b>
– Übung zur Aufmerksamkeit und Konzentration	
<b>6 Nachbarzahlen (rückwärts)</b> .....	<b>21 - 23</b>
– Übung zur Aufmerksamkeit und Konzentration	
<b>7 Anzahl bestimmen – Zehnerstruktur</b> .....	<b>24 - 27</b>
– Übung zur Aufmerksamkeit und Konzentration	
<b>8 Anzahlen zerlegen</b> .....	<b>28 - 30</b>
<b>9 Zählen bis 20</b> .....	<b>31 - 32</b>
– Übung zur Aufmerksamkeit und Konzentration	
<b>10 Nachbarzahlen, Nachbarzahlen (rückwärts)</b> .....	<b>33 - 37</b>
– Übung zur Aufmerksamkeit und Konzentration	
<b>11 Plusaufgaben im Zahlenraum bis 20</b> .....	<b>38 - 41</b>
– Übung zur Aufmerksamkeit und Konzentration	
<b>12 Plusaufgaben im Zahlenraum bis 20</b> .....	<b>42 - 46</b>
– Übung zur Aufmerksamkeit und Konzentration	
<b>13 Zahlen verdoppeln</b> .....	<b>47 - 50</b>
– Übung zur Aufmerksamkeit und Konzentration	
<b>14 Minusaufgaben im Zahlenraum bis 20</b> .....	<b>51 - 53</b>
– Übung zur Aufmerksamkeit und Konzentration	
<b>15 Minusaufgaben im Zahlenraum bis 20</b> .....	<b>54 - 60</b>
– Übung zur Aufmerksamkeit und Konzentration	
<b>16 Zahlen halbieren</b> .....	<b>61 - 64</b>
– Übung zur Aufmerksamkeit und Konzentration	
<b>17 Zahlen ergänzen</b> .....	<b>65 - 67</b>
<b>18 Übungen zur Aufmerksamkeit und Konzentration</b> .....	<b>68 - 77</b>
<b>Lösungen</b> .....	<b>78 - 108</b>



# Vorwort

Liebes Trainingskind,

in diesem Trainingsbuch findest du viele verschiedene Matheaufgaben für die Klassenstufe 1. Diese Aufgaben sind leicht verständlich und können selbstständig erarbeitet werden.

Mit Hilfe der Lösungen im Anhang kannst du deine Aufgaben selbst überprüfen.

Jetzt kann es losgehen, viel Spaß und Erfolg beim Lösen der Aufgaben.

Liebe Grüße

*Petra Hartmann*




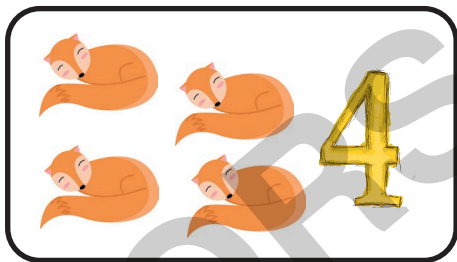

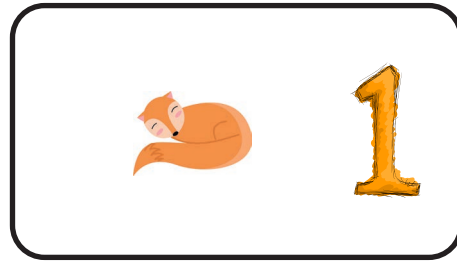

Mathetraining für die 1. Klasse

Die Aufgaben wurden erstellt von  
© 2020 Petra Hartmann  
Lernberaterin / Lerncoach  
Diplomierte Legasthenie- und Dyskalkulietrainerin®

© Bildquelle: Petra Hartmann / clipart.com



# 1 Zahlen kennenlernen


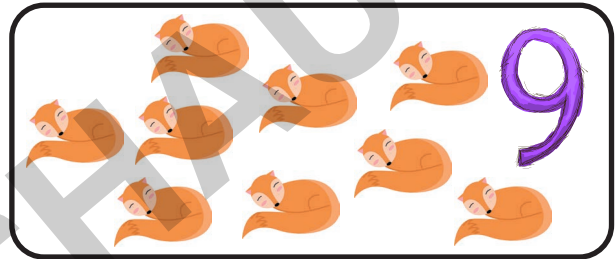
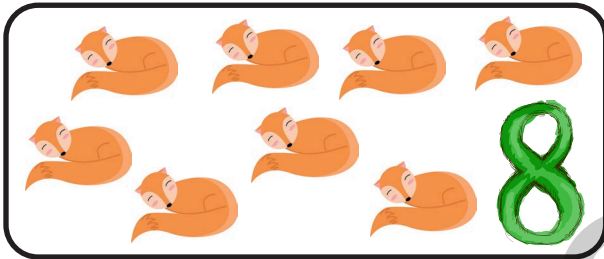
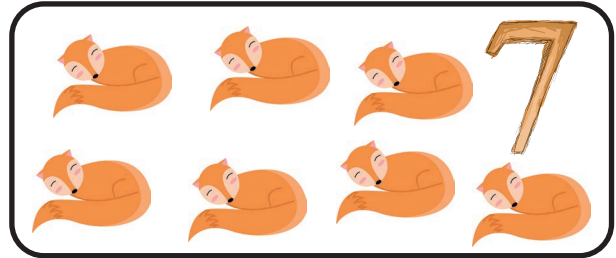
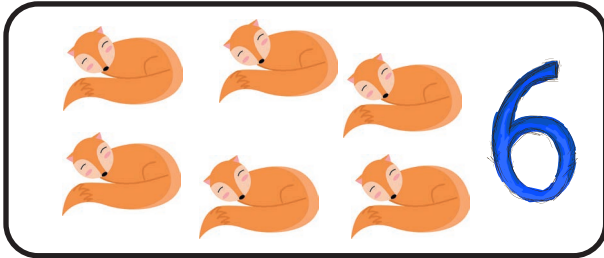


Schreibe die Zahlen auf.

0	0			
1				
2				
3				
4				



# 1 Zahlen kennenlernen



Schreibe die Zahlen auf.


6	6			
7				
8				
9				
10				



# 1 Übung zur Aufmerksamkeit und Konzentration



Ordne die Bilder nach der Größe.  
Fange mit dem kleinsten Bild an und nummeriere  
die Kreise von 1 - 5.





## 2 Zählen



Zähle die Tiere und schreibe die Anzahlen auf.



				
1				



Schreibe die Zahlen von 1 bis 5 auf.






## 18 Übung zur Aufmerksamkeit und Konzentration



Welches Bild passt nicht zu den anderen Bildern?  
Kreise es ein.



Wie viele Flugzeuge sind es? Trage  
lernen

zur Vollversion



## 18 Übung zur Aufmerksamkeit und Konzentration



Welches Bild passt nicht zu den anderen Bildern?  
Kreise es ein.



Wie viele Meerjungfrauen sind es? Trage  
netzwerk lernen

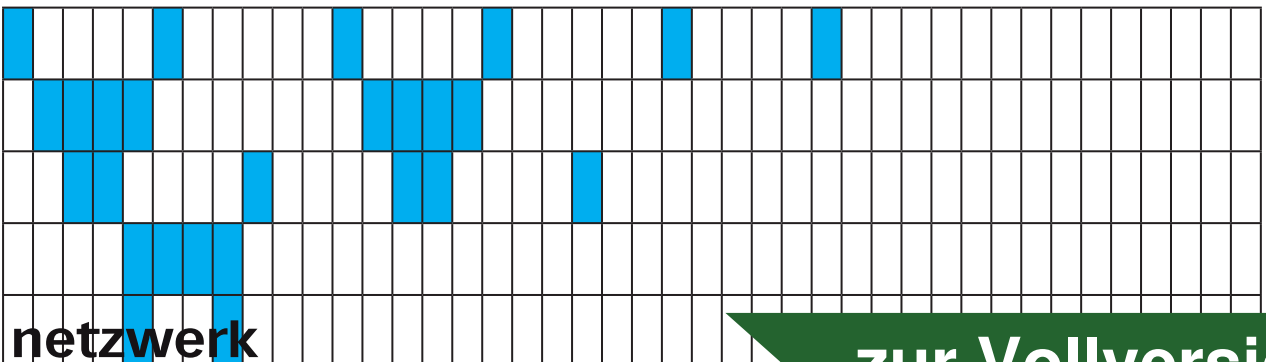
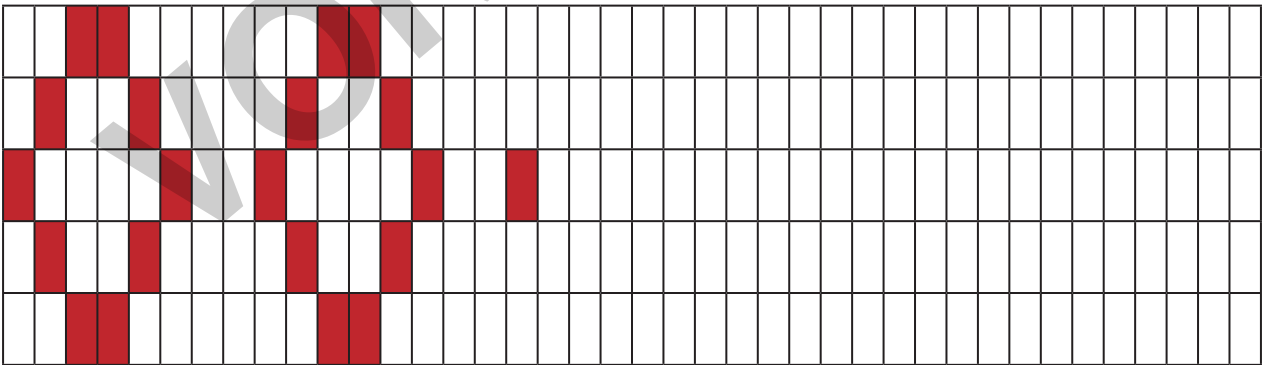
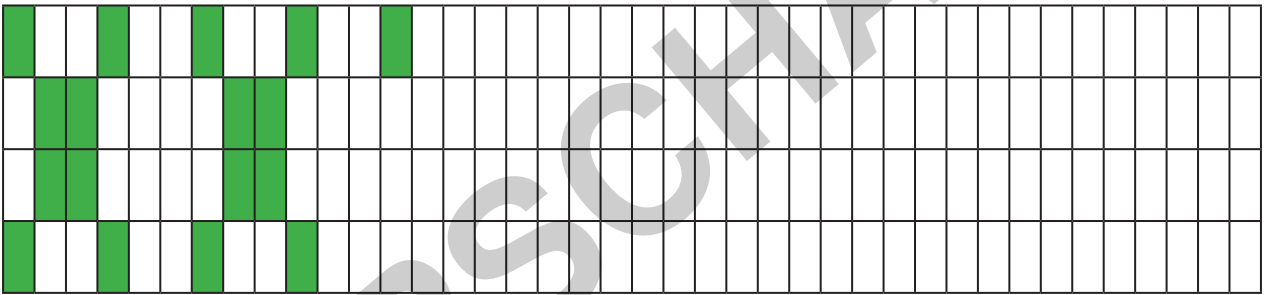
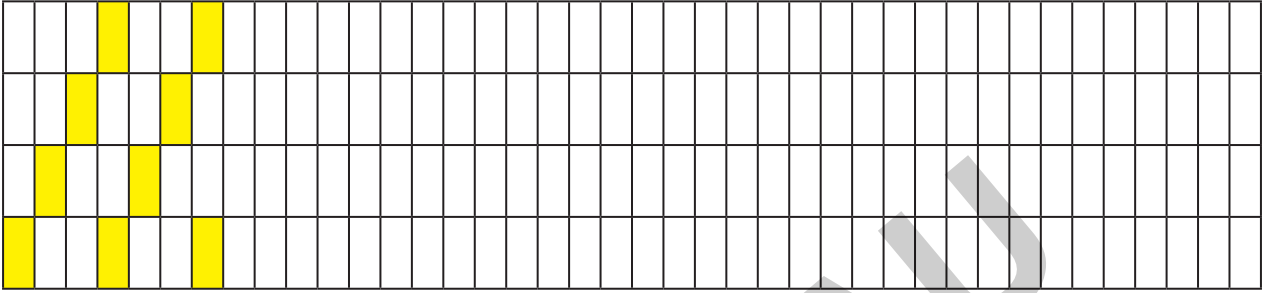




## 18 Übung zur Aufmerksamkeit und Konzentration








Setze das Muster fort.



# Lösungen

## 2 Zählen







Seite 8: Zähle die Tiere und schreibe die Anzahlen auf.

				
1	5	4	3	2

Schreibe die Zahlen von 1 bis 5 auf.

1	2	3	4	5
---	---	---	---	---

Seite 9: Zähle die Tiere und schreibe die Anzahlen auf.

					
7	9	8	10	6	0

Schreibe die Zahlen von 6 bis 10 auf.

6	7	8	9	10
---	---	---	---	----

Seite 10: Schreibe die Zahlen von 1 - 10 auf.




1	2	3	4	5
6	7	8	9	10


# Lösungen

## 4 Vorwärts zählen – Rückwärts zählen

Seite 15: Schreibe die Zahlen von 0 - 10 auf.



Seite 16: Schreibe die Zahlen von 10 - 0 auf.



## Übung zur Aufmerksamkeit und Konzentration

Seite 17: Ordne die Bilder nach der Größe.  
Fange mit dem größten Bild an und nummeriere die Kreise von 1 - 5.

3, 2, 4,  
1, 5

